

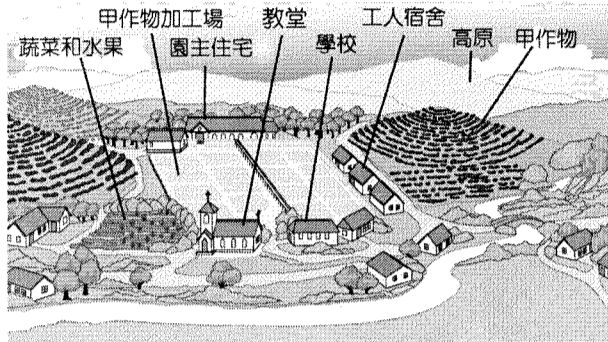
高雄市私立正義高中 104 學年度第 1 學期 第二次段考 高三地理科 試題卷

[電腦閱卷]科別代號：09 [組別代號：社會組請劃「1」，自然組請劃「2」]

一、單一選擇題 (每題2分 共100分)

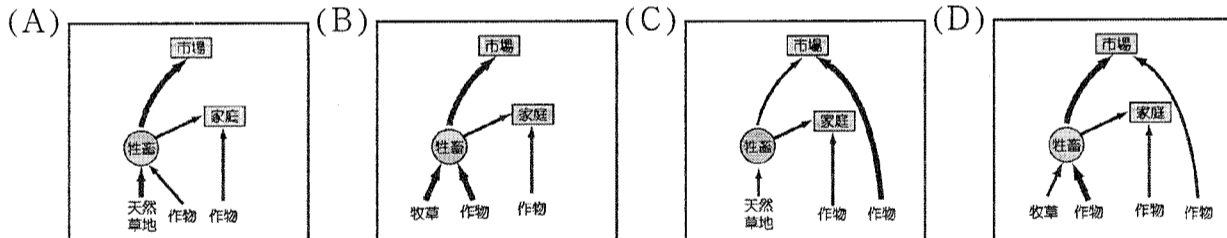
班級：_____ 座號：_____ 姓名：_____

- 右圖為主要通行於某地的食品認證標籤 **حلال**。依教法規定的宰殺程序有(1)被宰殺的動物是健康的。(2)宰殺使用的器具是鋒利的，可立即截斷頸靜脈血管等，使血液放出並立即死亡。(3)宰殺下刀時，誦讀真主之名。唯有經過以上程序處理的牛、羊、雞、鴨等 (不包括豬)，方為合法肉品，包裝上才會註記「HALAL」標籤。根據標籤特徵及意義，判斷認證主要通行於哪一個文化區？ (A)西亞北非文化區 (B)南亞文化區 (C)西方文化區 (D)漠南非洲文化區。
- 下圖為咖啡大農場景觀示意圖，內部有教堂、商店與大量供工人居住的宿舍，宛如一個自給自足的小型社會。請問以上所描述的是哪一種農業類型？ (A)酪農業 (B)混合農業 (C)商業性穀物農業 (D)熱帶栽培業。

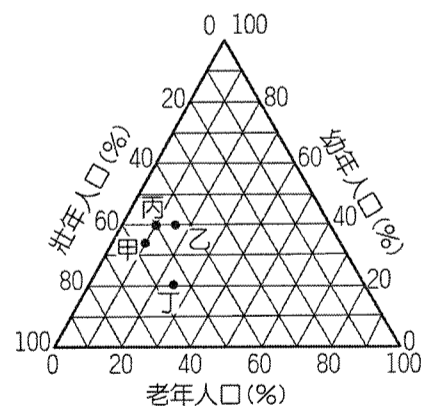


- 下圖為某種農業的農場空間配置圖。請問下列哪種農業經營模式最能說明此種農業類型的特徵？

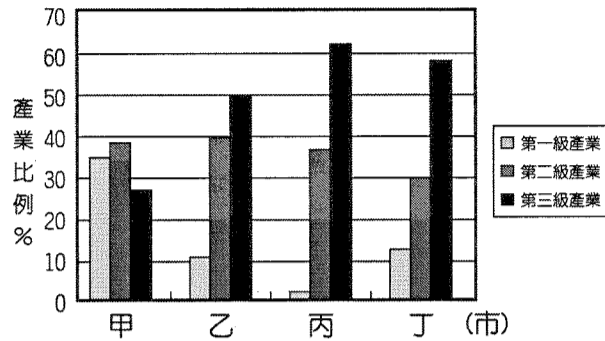
小 麥			
玉 米	燕麥	牧 場	休 耕
	休 耕	農 舍	大 麥
	苜 蓿	倉 庫	



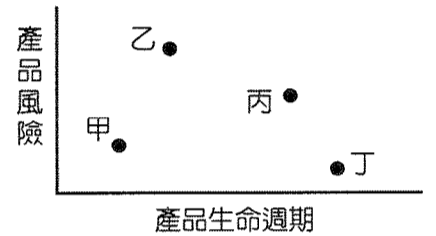
- 根據右列人口三角圖，請問目前哪一個地區較可能是高科技產品主要的消費市場所在？ (A)甲 (B)乙 (C)丙 (D)丁。
- 運輸革新不但改變了農業分布，也影響工業區位的選擇。下列各種經濟活動區位的改變，何者與運輸的革新關係較小？ (A)加拿大麥田往北擴張 (B)酪農業可以不需緊鄰市場 (C)彰化、雲林兩縣蔬菜栽培面積大增 (D)紐西蘭奇異果的運銷。
- 美國百事可樂分別於日本、韓國、印度設廠的主要原因為 (A)規避進口關稅 (B)開拓市場 (C)方便獲取原料 (D)利用廉價勞力。
- 小花暑假到鶯歌去參加陶瓷營，回學校後與同學分享時提到：「其實，現今鶯歌的陶瓷原料已經枯竭，需要從外地運來瓷土；但是因為鶯歌仍然保有製瓷傳統、技術及市場等條件，所以仍舊是陶瓷的生產中心。」請問下列哪一項最適合用來說明這種現象？ (A)企業化 (B)工業連鎖 (C)工業慣性 (D)工業轉型。
- 新加坡麥當勞為了避免冒犯特定族群，刻意把十二生肖玩具裡的豬拿掉，用愛神邱比特取代，卻讓許多消費者抱怨買不到代表自己生肖的玩具，事後麥當勞勇於認錯也公開道歉，並且讓豬歸隊；這是多種族融合的新加坡從1960年代之後首度出現的種族衝突敏感問題，文中特定族群指的是： (A)佛教徒 (B)印度教徒 (C)伊斯蘭教徒 (D)基督教徒。
- 南韓線上遊戲產業始於1996年，拉開南韓線上遊戲市場序幕的代表廠商為Nexon、NC Soft這兩家公司，受網咖興起的推波助瀾，兩家各自推出的「風之國」、「天堂」已成為南韓家喻戶曉的代表作；1999年單這兩家推出的遊戲即占整個南韓線上遊戲市場比重的八成，相形之下，其他15家公司所推出的二十多種線上遊戲票房就顯得較為冷清。由此可見南韓線上遊戲市場亦有大者恆大現象。請問Nexon、NC Soft這兩家公司的市場占有率高，顯示線上遊戲產業具有類似現代工業發展的哪一項特徵？ (A)規模經濟 (B)聚集經濟 (C)生產標準化 (D)生產規格化。
- 日常生活中，24 小時便利商店所扮演的角色可說是愈來愈重要，是人們隨時購物的重要補給站，有些人潮多的地區，在短短的幾百公尺內就會有數家便利超商，但其數量仍可能有所不足而在持續增加中，這在商品圈與商閥之間存在著何種關係？ (A)商閥 = 商品圈 (B)商品圈 < 商閥 (C)商品圈與商閥大小之間無任何關聯 (D)商閥 < 商品圈。



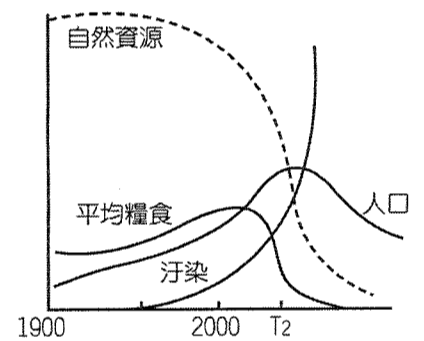
11. 西方國家長達三百餘年的殖民，影響南洋群島深遠，下列哪幾項南洋群島的地理特性和其被殖民的歷程「有關」？(甲) 依賴式的經濟結構；(乙) 社會貧富差距大；(丙) 文化發展成更趨多元；(丁) 伊斯蘭教信仰的普遍；(戊) 人口集中港埠都市；(己) 華人掌握政治勢力。(A) 甲乙丙丁 (B) 甲丙丁己 (C) 甲乙丙戊 (D) 乙丁戊己。
12. 臺灣自 1989 年起開始引進外國籍勞工，其中有絕大部分擔任非技術性的勞力工作，也因此在某些地區，常看到寫著東南亞各國文字招牌的商店或小吃店，請問下列哪些地區較可能出現上述類型商店的聚集？(甲) 臺北市總統府博愛特區附近(乙) 台塑六輕麥寮工業區附近(丙) 桃園中壢火車站附近(丁) 臺北市內湖科技園區附近(戊) 臺南白河蓮花專作園區(己) 澎湖七美鄉 (A) (甲)(丁) (B) (乙)(丙) (C) (乙)(戊) (D) (丁)(己)。
13. 下圖為某四個聚落的三級產業比例，請問何者可調查到數量最多的傳統雜貨店？ (A) 甲 (B) 乙 (C) 丙 (D) 丁。



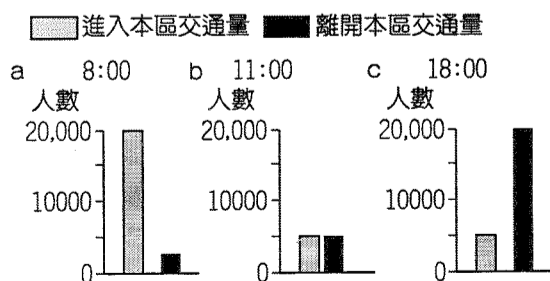
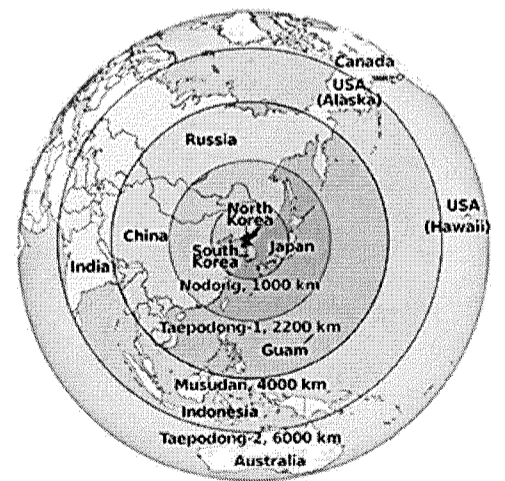
14. 紐西蘭是重要花卉與水果的出口國家，就其環境特色來說，其產品與荷蘭、美國等國競爭時，所具備的最大優勢應為下列何者？ (A) 氣候較為溫暖潮溼 (B) 生產期與上述國家錯開 (C) 人力資源充沛且素質高 (D) 牧場規模較大專業化程度高。
15. 「陳小唐是臺灣某連鎖花店老闆，在情人節前數月即向荷蘭花商訂購五萬朵鬱金香，並確認會於西洋情人節前夕開花。他擁有全省 200 家分店，每家配額為 250 朵，利益可觀，連作夢都會笑。」請問以上敘述說明了哪些概念？(甲) 生物科技進步(乙) 交通運輸系統發達(丙) 市場價格競爭(丁) 規模經濟(戊) 全球化 (A) (甲)(乙)(丙) (B) (甲)(丙)(戊) (C) (甲)(乙)(丁)(戊) (D) (甲)(丙)(丁)(戊)。
16. 下圖顯示新型態知識經濟產業的發展特徵，甲、乙、丙、丁四種產品中，何者最符合知識經濟的概念？ (A) 甲 (B) 乙 (C) 丙 (D) 丁。




17. 「宏碁電腦 (Acer) 在義大利籍總經理 Gianfranco Lanci 負責歐洲區產銷業務期間，大力發展筆記型電腦，並成為義大利 F1 (一級方程式賽車) 一法拉利的車隊贊助商，因而迅速打敗眾多國際知名品牌，躍身為今日歐洲第一大的筆記型電腦品牌。」請問上述文中提到宏碁筆記型電腦成為 F1 賽車的「車隊贊助商」，對於筆記型電腦這種生命週期極為短暫的高科技產品而言，具有何種意義？ (A) 贊助商可獲得較多的研發資源 (B) 可於義大利設廠生產，勞力成本較為低廉 (C) 方便取得義大利原料 (D) 建立品牌形象與知名度。
18. 本圖為糧食供應與人口數量關係圖，請問導致在 T₂ 時期人口曲線下降的因素為何？ (A) 人類意識到人口過剩危機採取節育制度 (B) 疾病傳染，導致大量人口死亡 (C) 工業化的結果，節制人口的觀念普遍 (D) 自然資源及糧食無法滿足人口增加所需。



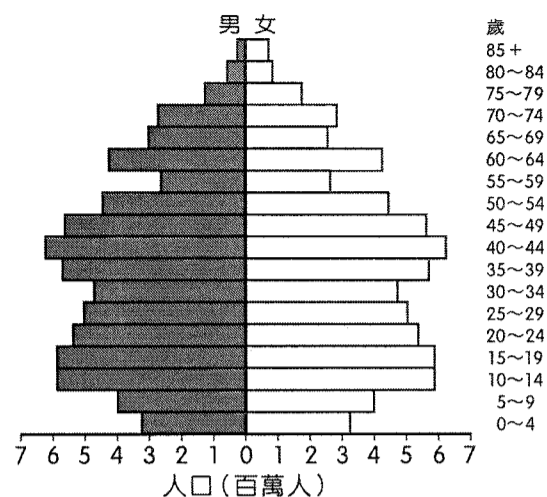
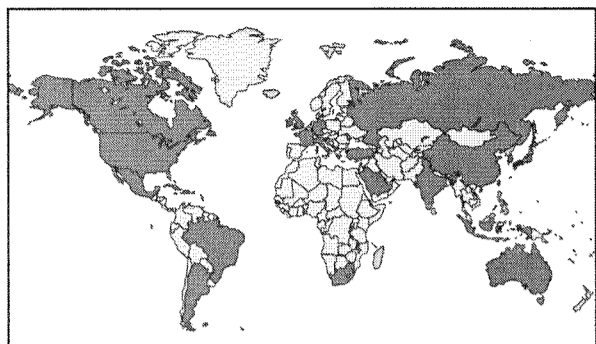
19. 《世界是平的》電影中描述，美國郵購公司將電話客服部門外包至印度，並派員前往印度訓練員工以提升效率。當一切上軌道之際，總公司卻又說要將電話客服部門轉移至中國，並關閉印度的部門。請問形成產業部門外包與下列哪一項技術最有關係？ (A) 數位電視 (B) 衛星影像 (C) 網際網路 (D) 地理資訊系統。
20. 北韓為目前世界上少數實施共產主義的國家，與鄰近國家南韓、日本等國關係緊張，屢次試射洲際彈道飛彈加以威嚇，右圖為北韓所擁有的各式飛彈射程範圍，請問此圖所採用的地圖投影應為下列何者最為適當？ (A) 等角投影 (B) 等積投影 (C) 等距投影 (D) 折衷投影
21. 下圖為都市內某一區域之交通設施使用量比較，數值與時間有關。請問該區域最可能是 (A) 高級住宅區 (B) 中心商業區 (C) 綠色地帶 (D) 低級住宅區。



22. 右圖為一個新聞卡通圖案。請問這樣的現象會導致企業什麼情形的產生？(A) 區位轉移 (B) 勞工品質提高 (C) 總營運成本增加 (D) 大量生產、囤積產品。



23. 1985年在盧森堡簽訂申根協定，1997年經過協商將其納入歐盟體系，這是歐盟一體化理想的另一進程。以下何者非申根協定實施後對歐洲可能帶來的影響？ (A)旅行者可自由進出多國，促進觀光業發展 (B)毒品、走私、罪犯猖獗，疾病、病蟲害擴散 (C)落後國家移往先進國家，陸續引發移民潮 (D)申根區國家間關稅取消，商品物美價廉。
24. 下圖應是哪一個國際組織之成員國（黑色區塊）分布圖？ (A) OPEC 石油輸出國家組織 (B) APEC 亞太經合會 (C) OECD 經濟合作與發展組織 (D) G20 二十國集團。



25. 右圖是俄羅斯人口金字塔圖，由該圖可以看出其人口特徵為 (A)成年及老年人口中的女性比例明顯較低 (B)男性平均壽命顯著較女性短 (C)男性出生率偏低 (D)成年男子人口大量外移。
- ◎小雅到一個被譽為「羊群數目比人口還多 20 倍的國家」遊玩，參觀了特殊的間歇泉、地熱等景觀，沿途也看見許多乳牛牧場，原來這個國家不僅有牧羊，還飼養許多乳牛呢！另外，當然也不能錯過當地原住民精彩的舞蹈表演。接著一行人來到基督城，這裡的街道與建築物，呈現出濃厚的歐洲風格。最後大夥裹著厚厚的大衣欣賞壯觀的峽灣地形，這一趟行程讓小雅直呼非常值得，因為可以在一個國家內欣賞到冰河和火山兩大地形景觀。請問：
26. 小雅所遊玩的這個國家是 (A) 紐西蘭 (B) 澳洲 (C) 英國 (D) 加拿大。
27. 若小雅一行人下次想到另一個也具有冰河和火山兩大地形的國家遊玩，他們可以考慮到哪個國家？ (A) 澳洲 (B) 挪威 (C) 冰島 (D) 義大利。


◎2008 年全球金融風暴時，曾盛傳南韓將再度破產，淪為「冰島第二」。但今日南韓三星打敗諾基亞，成為手機霸主，也擠下日本新力，變成全球最大的科技公司。同時在出口產業方面，相較於臺灣電子產業的一枝獨秀，南韓有造船、汽車、半導體、無線通訊、機械……等多元發展，百花齊放。同為亞洲四小龍，臺韓競爭日益白熱化，國內「南韓能、臺灣為何不能？」的反省聲浪也日益高漲。請問：

28. 宏碁集團創辦人施振榮曾說：「中國是所有人的機會，南韓是所有人的敵人，臺灣是所有人的朋友。」臺灣企業之所以會有「南韓是所有人的敵人」的感慨，其主要原因為何？ (A) 南韓透過文創產業對臺灣進行文化侵略 (B) 南韓企業的產品與臺灣出口產品重疊性高 (C) 南韓企業壟斷關鍵技術，對各國收取高額權利金 (D) 南韓企業規模大，地位難以撼動
29. 為了繼續提升競爭力，南韓積極爭取與各國自由貿易的機會，目前已與美國、歐盟簽訂自由貿易協定。與美、歐的 FTA 正式上路後，對南韓會產生哪三項影響？(甲)提高南韓商品在歐美市場的競爭力；(乙)有利減緩國內通貨膨脹的現象；(丙)利於南韓農業的發展；(丁)促進本國產業升級。 (A) 甲乙丙 (B) 甲乙丁 (C) 甲丙丁 (D) 乙丙丁。

◎東歐部分國家在加入歐盟之後，以其優勢條件，成功吸引眾多外資流入投資，同時也帶動境內經濟成長，其經濟成長率已連續多年來高於歐盟整體平均。請問：

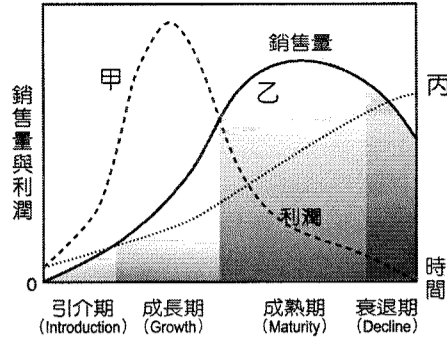
30. 請問外資投資東歐的產業，多屬於下列何種類型？ (A) 技術密集產業 (B) 資本密集產業 (C) 勞力密集產業 (D) 知識密集產業。
31. 鴻海、宏碁、戴爾等非歐盟體系的跨國企業，也在這股投資風潮中，積極在東歐適當地點布局，請問這些非歐盟體系的企業在東歐的投資，主要考量到下列何種因素？ (A) 技術先進 (B) 廣大土地 (C) 研發能力強 (D) 開拓歐洲市場

◎下圖為某地區的林相示意圖。請問：



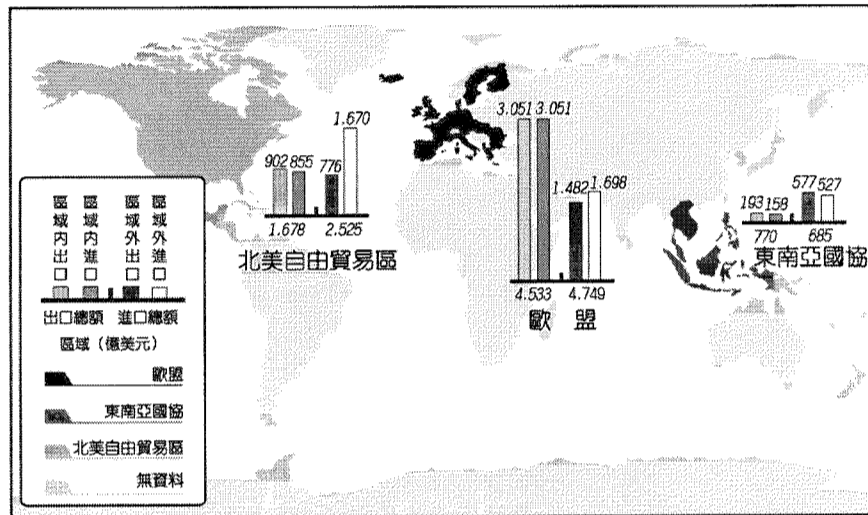
32. 根據林相判斷，此地的農業類型為何？ (A) 綠洲農業 (B) 游牧 (C) 游耕 (D) 熱帶栽培業。
33. 承上題，根據自然條件判斷，此農業生產活動，若要維持生態均衡關係，必須如何做最為恰當？ (A) 控制人口數量 (B) 選種高價值作物 (C) 深耕、施肥 (D) 減少休耕時間。

◎產品生命週期是描述一個新產品從研發、上市、熱賣到消失的歷程，如下圖所示。請問：



- 34.當產品進入哪一個階段時，由於市場差異度降低，獲利率亦不如以往，為了降低成本，工廠多會外移至海外適當之處？
 (A)引介期 (B)成長期 (C)成熟期 (D)衰退期。
- 35.在知識經濟盛行的今日，若某公司產品原有的銷售量生命週期曲線為「乙」，則過了3年之後，該公司同類型產品的曲線將如何轉變？ (A)乙→丙→甲 (B)乙→甲→丙 (C)乙→丙 (D)乙→甲。

◎「區域結盟」意指位置鄰近的國家因空間上的關聯性，而組成結盟國家，共同合作處理相關事務，以收最大利益，東南亞國協、歐盟和北美自由貿易區都是很好的例子。下圖為 2007 年北美自由貿易區、歐盟和東南亞國協三個區域結盟的對內、對外貿易之數據統計，請問：

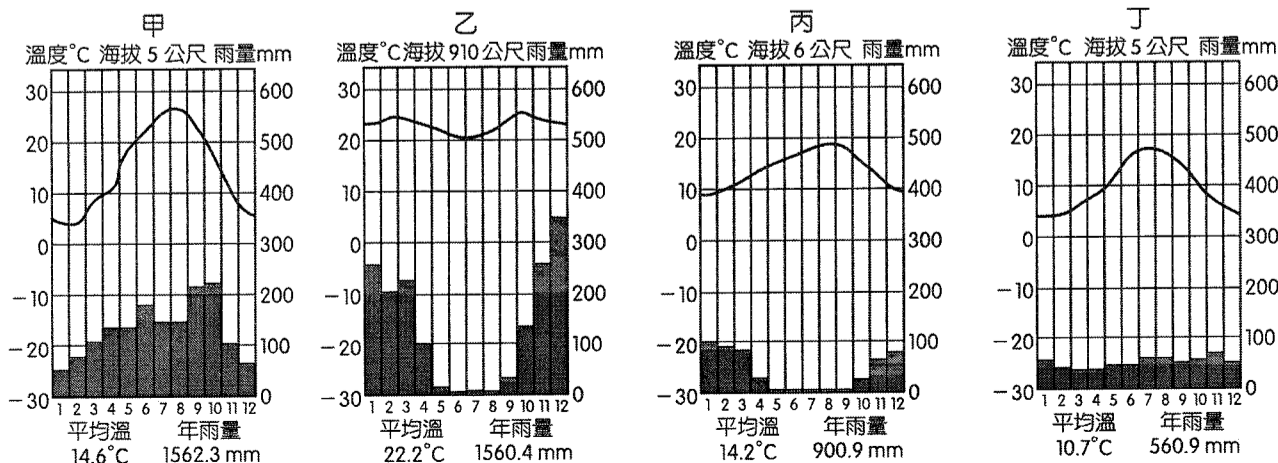


- 36.比較三個區域結盟的貿易統計資料，為何以歐盟的對內貿易額特別凸出？ (A)歐盟國家特別團結 (B) 2007 年特別風調雨順 (C)東擴效應立即浮現 (D)歐洲經濟成長冠全球。
- 37.細看這三個區域結盟的貿易統計資料，會發現東協的對內貿易額特別少，其主因為何？ (A)結盟國家較少 (B)彼此互補性高 (C)金融風暴影響 (D)產業結構雷同。
- 38.北美自由貿易區若欲迎頭趕上歐盟的對內貿易旺盛情形，下列何項措施成效最大，也最可行？ (A)與東協結盟 (B)整併中南美洲 (C)產業快速升級 (D)興築貿易壁壘。

◎美國牛肉向來是台灣進口牛肉的大宗來源，但受到瘦肉精的影響，使得消費者信心漸失。新聞指出：「瘦肉精是對數種主要用來增進家畜增長瘦肉的動物用藥俗稱，可以促進蛋白質合成，增加動物的瘦肉量、少長脂肪、減少飼料使用、使肉品提早上市、降低成本，利潤比較高」。於各國開放使用的標準不一，使得美國牛肉是否得以進口至台灣，爭議不斷。請問：

- 39.2012 年 2 月馬英九總統曾指示內閣研議美牛問題及台美貿易暨投資架構協定(TIFA)，2012 年 9 月我國代表連戰以中華台北的名義參加_____，與美方代表希拉蕊見面，_____應填入下列何者? (A)EU (B) APEC (C)WHO (D)ASEAN。
- 40.根據題幹，台灣之所以遲遲未開放美國牛肉進口，與美國農業的哪項特色關連最大? (A)規模化 (B)機械化 (C)科技化 (D)都市化。

◎下圖為四個地區不同的氣候類型。請問：



41. 惠惠在旅美日記中寫到：「來到這裡禁不住要去超級市場買一袋當地所產的新鮮香吉士。這裡可以說是柳橙的故鄉，夏季乾熱的天氣，加上整座城市亮眼的橘色，展現出居民的熱情！」請問該地的氣候最有可能為圖中的哪種類型？ (

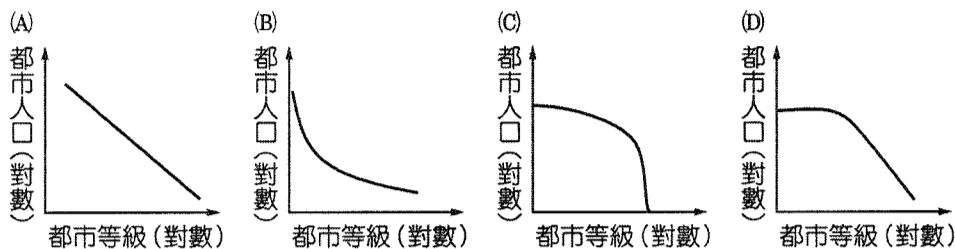
A)甲 (B)乙 (C)丙 (D)丁。

42. 承上題，該種農業類型多具有下列哪一特色？ (A)仰賴灌溉，為蔬果重要供應地 (B)單位面積投入少，單位面積產量低 (C)大規模栽培穀物，並將農產全部銷售市場 (D)在熱帶溼潤區採企業化方式大規模栽培現金作物。

◎「……在此國中為數不多的富人，每天有成群的僕役圍繞，過著有如國王般的生活。相對地，成千上萬住在貧民窟的窮人，他們以廢棄物隨意搭蓋房舍，居處沒有自來水、也沒有廁所或排水設備……兩種極端的生活方式，令人很難想像這是處在同一個國家中……。」請問：

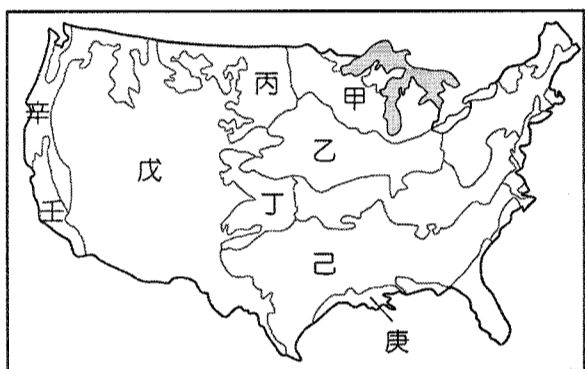
43. 這些住在貧民窟的人由鄉村來到都市的最主要原因為何？(A)政策導致 (B)都市就業機會多 (C)工業程度高 (D)農村推力過大不易謀生。

44. 類似此國型態的都市，最符合下列哪一關係圖？

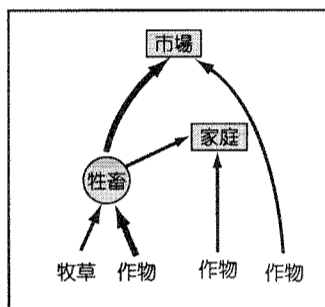


45. 造成一國之中貧富懸殊、阻礙發展的主因為何？ (A)土壤貧瘠 (B)工業發展快速 (C)土地分配不均 (D)缺少經濟作物發展。

◎下圖（一）為美國農業分布圖。請問：



圖（一）



圖（二）

46. 美國農業呈明顯帶狀分布，與下列何種因素有關？ (A)氣候 (B)地形 (C)土壤 (D)水文。

47. 請問下列 4 種農業何者最集約？ (A)甲 (B)乙 (C)丁 (D)庚

48. 小明查圖時發現丙、丁兩個農業帶原來都是種植相同作物，請問造成此種空間分布的因素為何？ (A)地形 (B)氣溫 (C)降水量 (D)市場價格。

49. 過去芝加哥以牛隻屠宰聞名，芝加哥公牛隊名稱即由此而來，請問當年牛隻是從何地送至此地加肥後再行屠宰？ (A)甲 (B)乙 (C)丁 (D)己。

50. 上圖（二）是某種農業活動形式的示意圖，該種農業活動最可能出現在哪一個農業帶？ (A)乙 (B)丁 (C)戊 (D)庚。

高雄市正義高中 104 學年度 高三 地理科

1	2	3	4	5	6	7	8	9	10
A	D	D	D	D	B	C	C	A	D
11	12	13	14	15	16	17	18	19	20
C	B	A	B	C	B	D	D	C	C
21	22	23	24	25	26	27	28	29	30
B	B	D	D	B	A	C	B	B	C
31	32	33	34	35	36	37	38	39	40
D	B	A	C	D	C	D	B	B	C
41	42	43	44	45	46	47	48	49	50
C	A	D	B	C	A	A	B	B	A

1	2	3	4	5	6	7	8	9	10
---	---	---	---	---	---	---	---	---	----

高雄市正義高中 104 學年度 高三 地理科
 卷一 第一組 第一卷 第一組 第一卷 第一組 第一卷 第一組 第一卷 第一組 第一卷 第一組