

正義中學高中部 107 學年度第二學期第一次月考地理科試題(高二自然組)

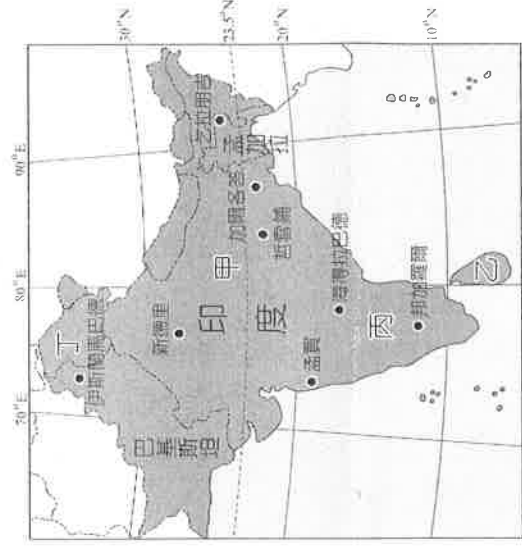
電腦畫卡：「年級」畫【2】→「班別」1 班請畫【01】，2 班「班別」請畫【02】→「座號」→「科目」請畫【09】→「組別」社會組請畫【1】，自然組請畫【2】

一、單一選擇題 (共 50 題 每題 2 分，共 100 分)

- () 1. 西方列強殖民東南亞地區，主要發展哪些產業？
(A)放牧業、漁業 (B)熱帶栽培業、採礦業 (C)水稻農業、混合農業 (D)商業性穀物農業、林業。
- () 2. 以下對於東南亞地區範圍的敘述，哪二項正確？
(甲)東南亞指亞洲的東南部地區，包括中南半島和南洋群島二部分；
(乙)東以麻六甲海峽溝通太平洋、印度兩大洋；
(丙)南以印尼諸島聯結亞、澳兩洲；
(丁)自古即為亞、歐、非等大陸往來必經之地，使本區在文化上呈現多元融合的風貌。
(A)甲乙 (B)丙丁 (C)甲丙 (D)乙丁。
- () 3. 以下哪些是東南亞地區整體而言氣候的共同點？(甲)四時皆夏；(乙)年、日溫差均小；(丙)乾濕分明；(丁)年雨量豐沛。
(A)甲乙丙 (B)乙丙丁 (C)甲乙丁 (D)甲丙丁。
- () 4. 南亞地區的語系極為複雜，圖(一)為南亞某國的紙鈔，其中最主要的文字多通行於圖(二)中的何地？
(A)甲 (B)乙 (C)丙 (D)丁。



圖(一)



圖(二)

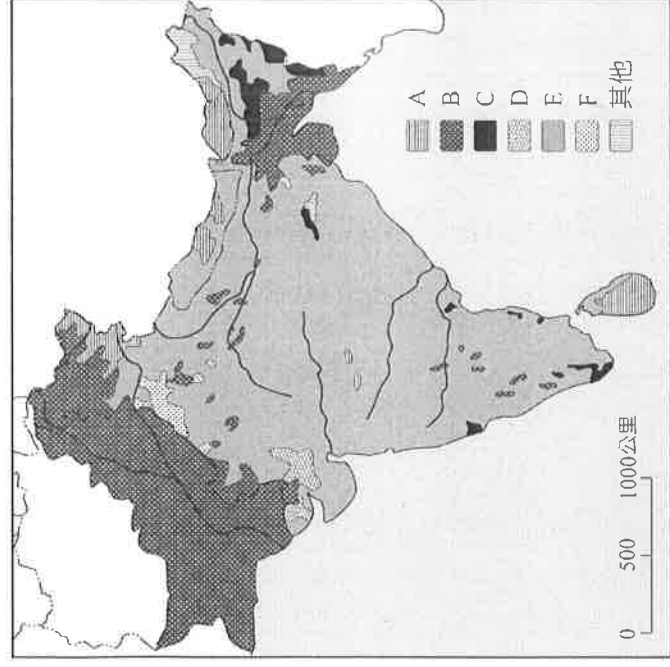
- () 5. (甲)熱帶氣旋活動頻繁；(乙)對流作用旺盛；(丙)長年吹拂西風；(丁)赤道低壓帶盤據影響；(戊)異向信風輻合上述哪些因素與南洋群島屬熱帶雨林氣候有關？ (A)甲乙丙 (B)乙丁戊 (C)甲丙丁 (D)甲乙戊。
- () 6. 「此處在《明史》中作「溜山國」，1412 年三寶太監鄭和出使溜山國，隨鄭和出使的西洋譯官馬歡在《瀛涯勝覽》以專章介紹《溜山國》，文中描述當國國王、頭目和居民皆信奉伊斯蘭教。氣候炎熱、土地貧瘠，故無麥、少米，民多以漁業為生並兼種椰樹；漁民另將撈獲的海貝堆積如山，任貝肉腐爛後收集以利販賣給鄰近國家作為貨幣之用。」請問文中描述的「溜山國」最有可能為南亞地區的哪一個國家？ (A)斯里蘭卡 (B)孟加拉 (C)不丹 (D)馬爾地夫。
- () 7. 東南亞地區目前商業性伐木業相當興盛，除因當地木材生長茂密外，尚與下列哪些因素有關？
(甲)市場需求大增；(乙)勞工技術層次高；(丙)勞工眾多，對工作機會需求大；(丁)距離主要消費市場近。
(A)甲乙 (B)丙丁 (C)甲丙 (D)乙丁。
- () 8. 「我是一個『不可接觸者』，從小媽媽告誡我不得進入寺廟，也從未穿過鞋子...」請問文中描述的是印度人民？
(A)賤民 (B)首陀羅 (C)吠舍 (D)刹帝利。
- () 9. 南亞北鄰中國的青藏高原，地勢高聳，氣候寒冷。冬季時，來自北方的冷高壓南下。但印度半島冬季時卻少有寒風入侵，因此氣候尚稱溫和，有利於人類居住。造成上述差異的主要因素為何？
(A)高山阻擋 (B)暖流調節 (C)地勢低窪 (D)四面環海。
- () 10. 印度特殊的種姓制度是世界上最少見的社會體系，其將所有的人依階級加以劃分，今生努力只能期待來世的回饋，成為印度社會穩定的力量。請問，種姓制度的建立和下列何者關係最大？
(A)英國殖民時期遺留制度 (B)受佛教提倡眾生平等影響
(C)雅利安人入侵統治手段 (D)達羅毗荼人傳統社會結構。
- () 11. 孟加拉位於印度半島的東北端，自然環境的特色對當地生活的影響甚大，因此造成獨特的區域特色。下列有關孟加拉的地形特色敘述，何者正確？

- (A)熱帶氣旋造成潮汐侵蝕作用旺盛 (B)恆河及布拉馬普得拉河沖積成三角洲
(C)地勢低窪坡度小，河川普遍短小 (D)位於河川上游，雨季時易氾濫成水災。
- () 12.印度社會貧富差距甚為懸殊，然而種姓制度的實施卻能達到社會秩序穩定。請問，下列傳統上印度種姓制度的敘述中，何者錯誤？

- (A)種姓階級世襲而來 (B)不同種姓的社會地位有高低之分
(C)高階種姓可以和其他種姓通婚 (D)婆羅門和首陀羅種姓不可共同用餐。
- () 13.欽奈為印度東南部港口，船隻出入相當頻繁。而位於該都市附近的 Kanchipuram 為著名達羅毗荼王國的遺蹟，建築特色相當華麗。請問，該王國後來被從何處人侵的雅利安人所滅亡，拱手讓出了印度半島的廣大疆土？
- (A)印度半島西北部 (B)恆河流域下游三角洲 (C)德干高原西南部海岸 (D)印度河下游平原。
- () 14.臺灣目前到東南亞投資的產業，主要是考慮下列哪一個工業區位條件？
- (A)原料 (B)動力 (C)勞工 (D)市場。
- () 15.西元前 1500 年前，雅利安人入侵印度半島，並且在當地實施種姓制度，造成社會發展的不平等，但也相對穩定了社會秩序，調和了多元民族間可能產生的衝突。請問種姓制度在今日受何種變化的影響，正逐漸瓦解中？
- (甲)經濟發展；(乙)西方殖民；(丙)教育普及；(丁)綠色革命。 (A)甲乙 (B)甲丙 (C)乙丙 (D)丙丁。
- () 16.取道馬來半島最狹處的「克拉地峽運河」，可以大幅縮短原本經過麻六甲海峽船隻的航程，預期興建之後，將吸引大量船隻改經此以節省時間。如此一來將對下列哪一個國家的經濟造成較大的衝擊？

- (A)泰國 (B)印尼 (C)新加坡 (D)馬來西亞。
- () 17.達爾的社會階級是賤民，終其一生只能從事較為低賤的工作，在社會中廣受眾人的歧視，備受鄙夷。請問這些賤民階級在下列哪一個時空背景下，較有機會脫離賤民階級，以工作能力重新獲得較高的社會地位？
- (A)1970 年、鄉村地區 (B)1980 年、都市地區 (C)1995 年、鄉村地區 (D)2017 年、都市地區。
- () 18.印度大平原西北部的塔爾沙漠，降雨量極少，形成巨大沙丘的景象。請問，該地區降雨量少的成因包括下列哪些？(甲)夏季季風末端；(乙)西南季風背風坡；(丙)沿海涼流經過；(丁)高壓沉降。 (A)甲乙 (B)丙丁 (C)甲丁 (D)乙丙。

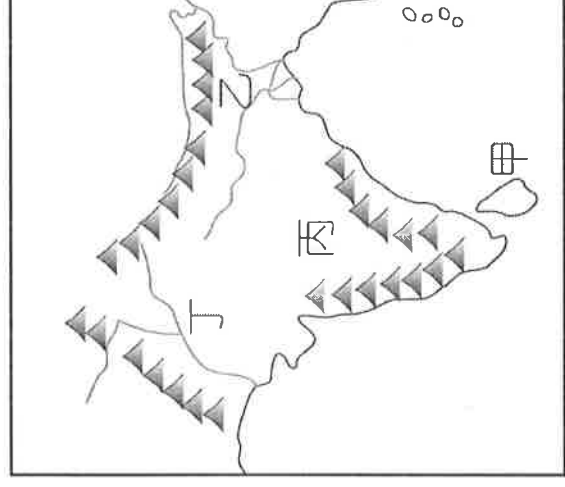
- () 19.印度半島的軍事衝突不斷，主要是由於境內印度教徒和伊斯蘭教徒之間的紛爭，導致兩者之間戰事頻傳。請問，印度半島的伊斯蘭教徒分布區域，為下圖(三)中何者？ (A)A (B)B (C)C (D)D。



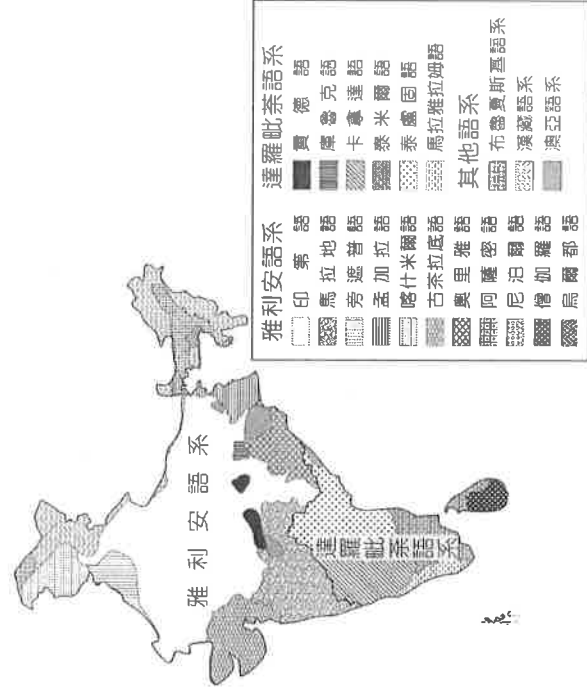
圖(三)

- () 20.印度半島最早的原住民為達羅毗荼人，後來隨著外來移民的影響而移居他地。請問，達羅毗荼人最早生活的地區主要位於上圖(四)中何處？ (A)甲 (B)乙 (C)丙 (D)丁。

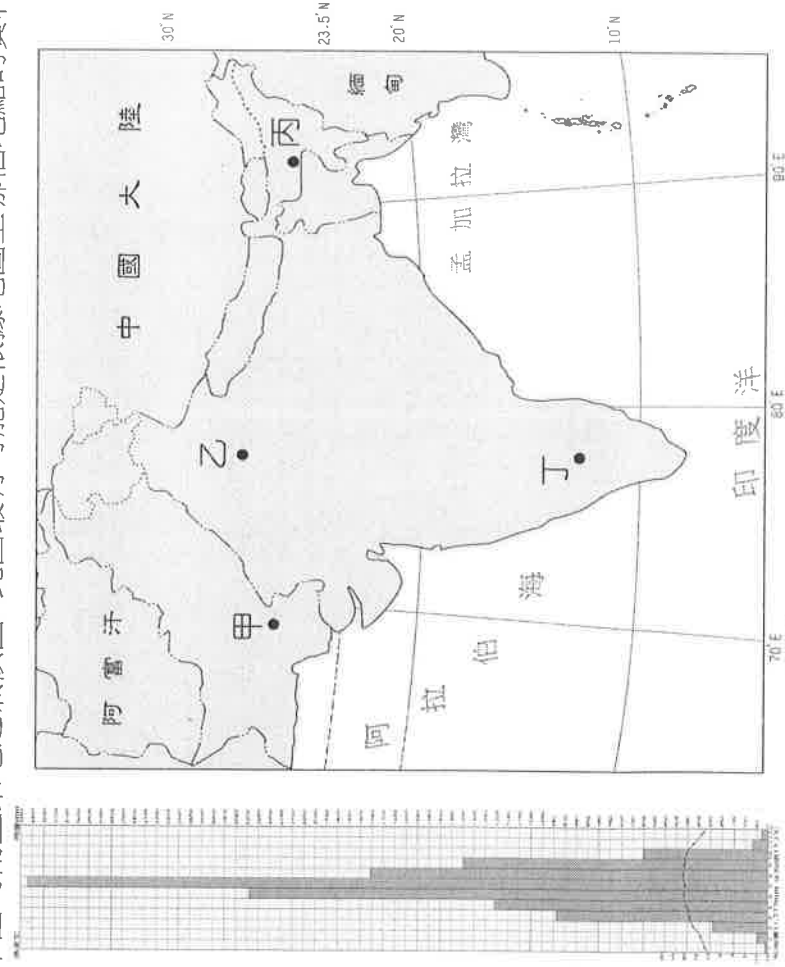
- () 21.南洋群島上的居民，以下列哪一族群人數最多？ (A)華人 (B)馬來人 (C)爪哇人 (D)他加祿人。
- () 22.印度的語言種類相當多，為當地的文化特色。下圖為該國境內的語系分布圖，請問造成南北語系差異的主要原因為何？ (A)民族 (B)宗教 (C)地形 (D)氣候。



圖(四)



() 23. 下圖為南亞某地之氣候圖，此圖最有可能是依據地圖上哪個地點的資料所繪製？ (A)甲 (B)乙 (C)丙 (D)丁。




() 24. 東南亞國協在世界經濟體系中尚未能夠完全發揮影響力，最可能原因為下列何者？

- (A)會員國數量太少 (B)彼此宗教差異大整合不易
(C)各國經濟發展程度差異較大 (D)各國經濟皆以第一級產業為主。

() 25. 印度的泰姬瑪哈陵為當地最負盛名的古蹟，為當時的印度國王為了紀念死去的皇后所興建，見證了這一段偉大的戀情。請問，就照片(圖五)中該建築特色而言，主要受到哪種宗教的影響？

- (A)印度教 (B)伊斯蘭教 (C)基督教 (D)佛教。



圖(五)

() 26. (甲)日本；(乙)印度；(丙)埃及；(丁)中國；(戊)伊斯蘭。在西方殖民勢力進入東南亞之前，上述哪些外來文化對本區影響較大？ (A)甲乙丙 (B)乙丙戊 (C)甲丙丁 (D)乙丁戊。

() 27. 上圖(六)為 2016 年東協內部與外部國際貿易比重示意圖，造成圖中東協內部貿易量比重較低的原因為何？

- (A)會員國的人口數太少 (B)各國之間缺乏產業互補性
(C)當地多發展勞力密集產業 (D)東協國家皆以第一級產業為主。



圖(六)

- () 28. 南亞的印度及巴基斯坦兩國，經常發生軍事衝突，成為當地發展的隱憂。請問，這兩國產生衝突主要為下列哪些原因？(甲)民族不同；(乙)宗教信仰；(丙)土地主權；(丁)爭奪曠藏。 (A)甲乙 (B)丙丁 (C)甲丁 (D)乙丙。
- () 29. 「這裡是印度第一大港，工商業發達，亦有『印度娛樂業之都』的美譽。1970 年代後期，人口超越加爾各答正式成為印度第一大城，自英國殖民時期起，即為進出口貨物的主要轉運站，今日海路的貨運量更獨占全國的 1/2。」請問文中所描述的城市，主要的出口農產品最可能以哪兩種作物為大宗？
- (A)黃麻、稻米 (B)甘蔗、小麥 (C)棉花、稻米 (D)黃麻、棉花。
- () 30. 十六世紀起，西方列強陸續入侵東南亞，除了哪一國以外，其餘國家皆淪為殖民地？
- (A)越南 (B)泰國 (C)新加坡 (D)馬來西亞。
- () 31. 巴基斯坦 2011 年的耕地率僅 27.6%，但總灌溉面積 182,300 平方公里，高達耕地面積的 85.68%，主因為何？
- (A)農作物市場廣大 (B)高山雪水不虞匱乏 (C)氣候過於乾燥 (D)農耕技術發達。
- () 32. 印度電影《美味情書》訴說了兩個不相識的都市人透過一個餐盒連繫的愛情故事。導演透過印度的「代送愛心便當」服務作為題材，串起男女主角之間的連結。代送便當服務在印度被稱為「達巴瓦拉」，始於英屬印度時期。許多來到殖民地的英國人不喜歡本地食物，因此請人將午餐直接送至工作地點。英國的殖民者不為印度帶來了這項特有的地方商業，還帶來了什麼影響？(甲)使印度成為全球最重要的紅茶產地；(乙)完善的基礎建設；(丙)基督教成為印度第三大宗教；(丁)英語成為印度第二大語言；(戊)設立種姓制度區分人的等級
- (A)甲乙丙 (B)乙丁戊 (C)甲丙丁 (D)甲丁戊。
- () 33. 印度 2011 年的耕地率達 52.8%，遠高於中國的 12.54%，但農產的自給率反而不如中國，與下列哪些因素相關？
- (甲)生產技術傳統；(乙)役獸利用成效較低；(丙)土壤鹽化問題較為嚴重；(丁)農業勞力投入不足。
- (A)甲乙丙 (B)甲乙丁 (C)甲丙丁 (D)乙丙丁。
- () 34. 拉吉夫為印度半島上的居民，他說道：「當地氣候特色為一年四季皆相當寒冷，尤其是東北季風來襲時，經常颳起一陣陣暴風雪，只能躲在家中，等到惡劣天氣過去，才能再趕牲畜出去吃草。因此當地人所編織的羊毛衣禦寒效果極佳，成為當地少有的出口品。」根據拉吉夫的敘述判斷，其居住的地區應為下列何者？
- (A)北部高山 (B)東部平原 (C)西部平原 (D)南部高原。
- () 35. 東南亞國家的發展深受歐洲國家殖民影響，下列殖民東南亞的國家中，何者的勢力最晚進入該區？
- (A)法國 (B)美國 (C)西班牙 (D)葡萄牙。
- () 36. 東南亞地區唯一華人執政的國家是以下何者？ (A)泰國 (B)印尼 (C)新加坡 (D)馬來西亞。
- () 37. 1950 年代美國企業進入印度投資時，所受到的限制相當多，且由於政府保護政策的實行，因此許多設廠需要的營業特許證或電力供應，都透過賄賂的方式取得。這種現象和當時實行何項政策的關係最大？
- (A)種姓制度 (B)計畫經濟 (C)綠色革命 (D)泡沫經濟。
- () 38. 「該國的人口數量相當龐大，提供了發展所需的充足人力和廣大的市場潛力，而通行的語言更便於與歐美企業往來，但也由於境內沉重的人口壓力及低效率的政商制度，因此成為海外企業投資的主要障礙，目前雖然有許多企業在境內從事資訊技術和業務流程委外產業，但是如何提升技術將是該國能否持續發展的重要關鍵。」請根據上文敘述判斷，最可能為哪個國家的狀況？ (A)臺灣 (B)中國 (C)印度 (D)泰國。
- () 39. 印度傳統紡織工業區分布的區位條件以下列何者最為明顯？
- (A)原料、勞工 (B)資金、動力 (C)勞工、市場 (D)動力、市場。
- () 40. 照片中為阿花在某都市所拍攝到的工地警示牌，請根據牌中所包含的語言判斷，某都市應為下列何者？
- (A)曼谷 (B)馬尼拉 (C)新加坡 (D)斯里百加灣市。



- () 41. 為了緩和「內島」地區因人口激增所帶來的各項問題，印尼政府在 1951~1993 年間推行大規模的哪一計畫，但卻引發更嚴重的問題？ (A)境外移民 (B)境內移民 (C)家庭計畫 (D)生育罰款。
- () 42. 南亞主要以稻作農業的型態為主，各地人口皆相當密集，成為區域發展的重要問題。表中為 2017 年南亞部分國家的人口統計，請問何者正確？
- (A)孟加拉人口數量最多 (B)印度人口外移情況嚴重 (C)巴基斯坦出生率最高 (D)孟加拉生活空間最擁擠。

	面積 (千平方公里)	密度 (人/平方公里)	自然增加率 (千分比)
印度	3,287	390	11.7
孟加拉	148	1,063	13.4
巴基斯坦	796	257	15.6

- () 43. 「印度這個國家在產業發展上呈現了二元性的矛盾現象，例如今日政府積極招商、引進外資的同時，國內的基礎建設品質卻相當惡劣，導致政府選擇以『軟實力』為主要的產業發展主軸。」請問印度國內基礎建設品質惡劣，最可能造成下列何種影響？ (A)重工業發展受限 (B)休閒農業的產值無法有效提升 (C)農產加工業不振 (D)服務業商品圈過小。
- () 44. 下列關於印尼的敘述，哪三項是正確的？(甲)為全球最大的群島國家；(乙)目前主要的宗教信仰為天主教；(丙)人口高度集中於加里曼丹島；(丁)過去長期受到荷蘭殖民；(戊)主要屬於熱帶雨林氣候。
(A)甲乙丙 (B)乙丙戊 (C)甲丁戊 (D)甲乙丁。
- () 45. 印度在降水的時間與空間分布上並不均等，導致農民自古必須利用眾多的水利技術來因應，下列哪四項是印度看得到的水利設施？(甲)水井；(乙)溝圳；(丙)坎井；(丁)水塘；(戊)水壩。 (A)甲乙丙丁 (B)甲乙丁戊 (C)甲丙丁戊 (D)乙丙丁戊。
- () 46. 印尼爪哇島人口遷移政策的實施，究其根本主要受到下列何種因素影響？
(A)殖民差異 (B)氣候條件 (C)地形起伏 (D)環境負載力。
- () 47. 「隨著印度資訊和軟體發展，創造出一批新富階級 (New Rich)，占全印度人口的 1/10；另外，為了滿足近 1/4 的窮人需求，印度企業推出低價的家電用品，如腳踏式洗衣機、不插電黏土冰箱。」以上描述反映印度現今何種社會特徵？
(A)種姓制度明顯 (B)國際分工盛行 (C)貧富差距懸殊 (D)人口壓力沉重。
- () 48. 印尼因為人口遷移造成移民與原住民之間的種族衝突，以摩鹿加群島為例，主要是哪兩個信徒之間產生紛爭？
(A)穆斯林、基督徒 (B)天主教徒、基督徒 (C)天主教徒、穆斯林 (D)基督徒、傳統信仰。
- () 49. 東南亞熱帶雨林的消失與栽培熱帶經濟作物關係密切，許多消逝的森林轉變為種植下列何種經濟作物？
(A)咖啡 (B)甘蔗 (C)油棕 (D)椰子。
- () 50. 「熱帶雨林快速消失，或許短期可帶來經濟的獲益。但長期而言，土壤的流失、物種的滅絕，甚至最後造成全球暖化加劇。」上述內容最可能是針對下列哪一個國家所提出？ (A)印尼 (B)緬甸 (C)泰國 (D)菲律賓。

高二自然組解答(高二3)

一、單一選擇題 ANS

- 1.B 2.C 3.C 4.A 5.B 6.D 7.C 8.A 9.A 10.C
11.B 12.C 13.A 14.C 15.B 16.C 17.D 18.C 19.B 20.D
21.B 22.A 23.C 24.C 25.B 26.D 27.B 28.D 29.C 30.B
31.C 32.C 33.A 34.A 35.B 36.C 37.B 38.C 39.A 40.C
41.B 42.D 43.A 44.C 45.B 46.D 47.C 48.A 49.C 50.A