

正義中學高中國中部 109 學年度第一學期第二次段考二年級公民科試題

電腦畫卡：科目代碼畫【10】，「國中部」畫【04】，「年級」畫【2】→「班別」1班請畫【04】，2班請畫【05】→3班請畫【06】

命題範圍：公民科 第三章、第四章

班級：_____

座號：_____

姓名：_____

一、單一選擇題

1. () 政治權力不能集中在同一群人手中，以免權力被濫用，而侵害人民的權利。請問：上述與下列哪一句名言的意思最符合？ (A) 覆巢之下無完卵 (B) 羊毛出在羊身上 (C) 絕對的權力，絕對的腐化 (D) 天將降大任於斯人也。
2. () 監察院對「甲」提出糾正案，因為其執行的觀光劇場計畫沒有發揮預期效益，工程規畫草率。請問：上述所提到的「甲」最可能是下列何者？ (A) 立法委員 (B) 臺北市政府 (C) 文化部部长 (D) 立法院。
3. () 附圖為行政院院長召開會議時所發表的談話。請問：行政院將採取何種處置？

這次通過法律案，將造成投機分子哄抬房價，影響民生甚鉅，實為不妥，行政院將……。



- (A) 提出覆議 (B) 提出不信任案 (C) 提出彈劾案 (D) 呈請解散。
4. () 附圖是某則新聞的內容，但螢幕的一角被飲料杯擋住了。根據圖中內容判斷，被飲料杯擋住的文字最可能為下列何者？〔100.第一次基測〕



- (A) 糾舉 (B) 糾正 (C) 彈劾 (D) 審計。
5. () 立法院為我國最高立法機關，負責制定法律與監督政府，但當行政院認為其制定的法律或政策窒礙難行時，應如何因應？ (A) 可不接受，經總統核可後，移請立法院覆議 (B) 可不接受，經總統核可後，解散立法院 (C) 必須接受，因立法院對行政院有制衡效果 (D) 必須接受，因立法委員即代表民意。
6. () 若以下新聞的公職人員彈劾案發生在我國，則依照法定程序，中央政府五院之間的互動關係為何？

外電新聞

美國總統川普遭眾議院彈劾，但於參議院表決時未獲通過。

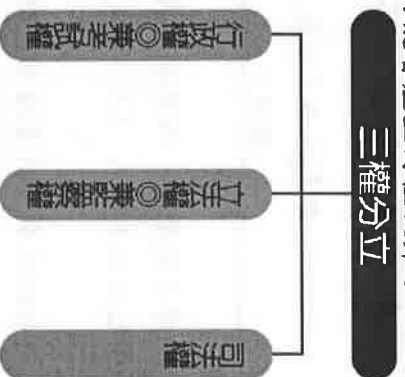
- (A) 由立法院通過，司法院負責審理 (B) 由監察院通過，司法院負責審理 (C) 由行政院提出，立法院負責表決 (D) 由監察院提出，行政院負責表決。
7. () 美國政府體制的設計具有權力分立精神，由以下新聞中可觀察到哪兩權的互動關係？

國際新聞

美國國會以全數票數通過《臺灣友邦國際保護及加強倡議法案》(簡稱為《臺北法案》)，並遞交給美國總統川普簽署。這項法案的通過不僅促進兩國之間的友善合作關係，也增加我國參與國際社會的交流機會。

- (A) 立法權、行政權 (B) 司法權、立法權 (C) 考試權、司法權 (D) 監察權、考試權。
8. () 對於英國歷史學家阿克頓爵士的政治名言：「權力使人腐化，絕對的權力，絕對的腐化。」請問：下列何人的理解最為正確？ (A) 子維：政府應發揮最大的權力，為人民服務 (B) 韻如：政府若失職，人民有權依法予以更換 (C) 文磊：政府地位凌駕法律之上，不受任何法律規範 (D) 柏宇：政治權力不能集中在同一群人手中，以免權力被濫用。
9. () 老師利用公民課的時間，帶領同學到監察院參觀，並聽取介紹監察院職權的簡報，下列何者可能會出現在簡報的說明中？ (A) 審理法律是否違反《憲法》 (B) 糾正行政機關的不當施政 (C) 代表人民監督行政權 (D) 掌理公務人員的退休事宜。


10. ()從附圖可以觀察到這樣的政府體制，可能會產生何種流弊？



- (A)司法權無法超出黨派之外，並依據法律獨立行使職權
(B)行政權兼考試權，易濫用私人；立法權兼監察權，國會易專制
(C)考選制度選出來的人，不一定能符合用人需求
(D)互相制衡的設計，可避免政黨立場或利害得失的衝突。
11. ()孫中山先生所提的「五權分立」與西方「三權分立」之間最大的差異為下列何者？ (A)行政權和立法權互相制衡 (B)考試權與監察權特別獨立出來 (C)司法權獨立於行政、立法權之外 (D)行政權與考試權彼此結合。
12. ()為避免政府獨斷，權力的分立與制衡相當重要。關於附圖中娟柔所提及的制度，其運作過程的說明，下列何者正確？



- (A)立法院得對總統提出不信任案 (B)不信任案通過後，總統應提出辭職
(C)由行政院院長解散立法院 (D)立法院被動解散後，立法委員須重新選舉。
13. ()小馬與一位網友討論國家的司法運作，如附圖所示。請問：由網友小習的回答可知他們國家的做法違反哪一項重要原則？



- (A)法治政治 (B)主權在民 (C)權力分立 (D)違憲審查制度。
14. ()小優上網瀏覽司法院的網頁時，下列哪些單位會出現在網頁中？(甲)高雄地方法院(乙)公務員懲戒委員會(丙)法務部(丁)憲法法庭 (A)甲乙丙 (B)乙丙丁 (C)甲丙丁 (D)甲乙丁。
15. ()公民課堂上，同學們針對中央政府的官員進行角色扮演活動。請問：下列哪一位同學的臺詞完全正確？ (A)阿金：我是考試院院長，具有調查、糾正、彈劾、糾舉、糾舉、審計權 (B)大中：我是監察院院長，依據《憲法》的規定負責辦理國家考試 (C)阿寶：我是司法院大法官，負責針對有疑義的法律進行審理 (D)小豐：我是行政院院長，為國家進行預算的審查與把關。
16. ()英國歷史學家艾克頓爵士曾說過：「權力使人腐化，絕對的權力，絕對的腐化。」從下列四人對其國家政府體制制的介紹中，何者最能避免艾克頓爵士所指的狀況？ (A)小東：我國政權集中在領導人一人手上 (B)小義：我國中央政府權力分為行政、立法、司法三權 (C)小瑜：我國由單一政府機構主掌政權 (D)小嫻：全國並無任何機構可制衡施政部門。

17. ()小易在撰寫主題為「我國中央政府的組織及其職權」的研究報告，附圖是她使用電腦網路蒐集資料時所進入的一個網站，根據內容判斷，此網頁最可能是下列哪一個中央政府組織的全球資訊網？〔93.第二次基測〕



- (A)總統府 (B)行政院 (C)立法院 (D)監察院。
 18. ()政府政策的制定與推動必須交付中央政府官員執行，依照我國《憲法》規定，附圖新聞中所述即將異動的官員，其產生的方式為何？



- (A)由總統提名，經立法院同意後由總統任命 (B)總統直接任命
 (C)行政院院長提請總統任命 (D)由立法委員互選產生。
 19. ()「是否開放含瘦肉精的美國牛肉進口，各界質疑聲浪不斷，更有立委揚言發動倒閣。」上述新聞報導中提及的「倒閣」，是指對「甲」提出不信任案。請問：「甲」應為下列何者？ (A)總統 (B)立法院院長 (C)行政院院長 (D)外交部部長。
 20. ()投票前夕，阿武看到一位參選人的政見，如附圖所示。請問：此次選舉選出的公職人員應為下列何者？

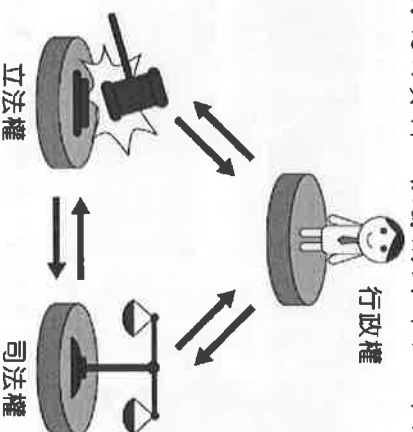


- (A)總統 (B)立法委員 (C)監察委員 (D)行政院院長。
 21. ()現今許多民主國家都設有總統 (總理)、國會和各級法院，三者的權力彼此相互制衡。這種體制源自何人的思想？〔90.第一次基測〕 (A)柏拉圖 (B)盧梭 (C)伏爾泰 (D)孟德斯鳩。
 22. ()關於中央政府官員與其產生方式的配對，下列何者正確？ (A)行政院院長：由總統提名，經立法院同意後由總統任命 (B)監察委員：人民直接選舉 (C)大法官：總統任命 (D)考試委員：由總統提名，經立法院同意後由總統任命。
 23. ()我國中央政府各機構間存在分權制衡關係。根據附圖中兩人的對話判斷，若該案通過，行政院院長該如何進行制衡？



- (A)呈請總統解散立法院 (B)提請總統否決該決議 (C)移請立法院覆議 (D)要求立法院院長辭職。
 24. ()阿威在部落格上分析孫中山先生的「五權分立」理論，下列敘述何者正確？ (A)將司法權從監察權獨立出來，可避免政黨衝突 (B)將考試權從行政權獨立出來，可避免濫用私人 (C)將立法權從監察權獨立出來，可杜絕國會專制 (D)西方民主國家多採用此種理論。

25. () 文郁在網上搜尋中央政府運作方式的說明資料，根據附圖所示，下列敘述何者正確？



(A) 政府部門間相互合作 (B) 採用孫中山先生創建的理論
(C) 司法權從行政權中獨立出來 (D) 美國採用此種分權方式。

26. () 阿光在部落格分享了他在日本觀察到的一些政治現象(如附圖)，文中畫雙線部分若發生於我國，較可能出現在何種情況下？



(A) 行政院院長提覆議 (B) 監察院提彈劾案 (C) 立法院提不信任案 (D) 立法院提彈劾案。

27. () 第 10 屆立法院新科立委上任，民眾透過新聞媒體觀看現場的狀況，關於附圖中此產生過程的說明，下列何者正確？



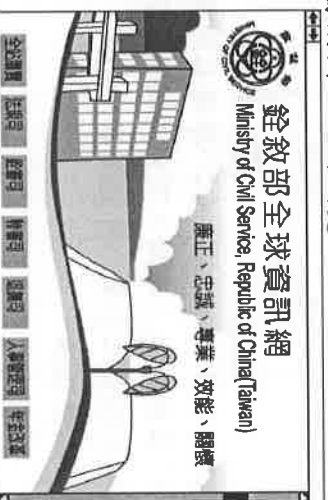
(A) 舉辦全國選舉，由人民選出 (B) 行政院院長提名，總統任命
(C) 由立法委員互選，投票決定 (D) 透過國家考試，按成績決定。

28. () 下列有關我國中央政府「行政院與立法院的關係」之敘述，何者正確？ (A) 立法院院長有向行政院提出施政方針與施政報告之責 (B) 立法院得向行政院院長提出不信任案 (C) 立法院受行政院監督，立法院官員有義務至行政院接受質詢 (D) 立法院可對行政院提出的決算案進行審查。

29. () 在現代民主政治的運作原則中，政府必須依法執行下列何者？〔100. 第二次基測〕 (A) 立委候選人的政見 (B) 行政院官員的根據上述說法，政府必須依法執行下列何者？ (C) 在野黨領袖的建議 (D) 立法院通過的議案。


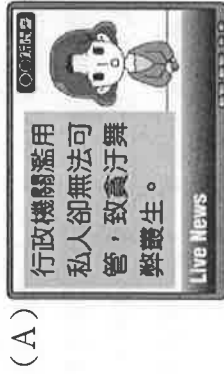
30. () 針對我國行政院與立法院間的關係，當立法院提出不信任案並順利通過時，行政院院長依法可以如何進行制衡？ (A) 經總統核可，移請立法院覆議 (B) 提出辭職，並自行宣布解散司法院 (C) 提出辭職，並呈請總統解散立法院 (D) 經司法院院長核可，移請立法院覆議。

31. () 阿哲正在為報告上網找資料，根據附圖，他所瀏覽的網站應該為下列哪一中央政府機關所屬的部門？



(A) 考試院 (B) 行政院 (C) 監察院 (D) 司法院。

32. ()以權力分立原則設置中央政府，為許多民主國家採取的分權方式，祐益欲進行一項主題分析：「當權力無法互相制衡時可能產生的亂象。」下列哪一則新聞內容較適合成為他的素材？



33. ()蘭嶼護理師蔡邑敏2018年2月協助患者後送任務，搭黑鷹救護直升機墜海身亡。官員解釋本案符合「執行職務發生意外或危險以致死亡」的因公撫卹類型，但要請領最高等級的「冒險犯難」因公撫卹，就需要更謹慎的認定，此話一出，引發社會批評。請問：被社會批評的機關為下列何者？(A)教育部 (B)考選部 (C)審計部 (D)銓敘部。

34. ()老師請同學繳交以「立法委員職權」為主題的期中報告。小艾去圖書館搜尋政治新聞相關報導做為輔助資料，他最適合將下列何者放進這份報告中？



35. ()翁先生的職位是由總統提名，經立法院同意後由總統任命。請問：翁先生的職位最可能為下列何者？(A)內政部部長 (B)行政院院長 (C)立法院院長 (D)司法院院長。

36. ()俊崙正在整理歸納中央政府組織各職權範圍，他流覽到以下新聞提要，當中提及的政府單位應與下列何者隸屬同一主管機關管轄？

新聞提要

衛生福利部疾病管制署將「嚴重特殊傳染性肺炎」列為法定傳染病。

(A)國防部 (B)審計部 (C)銓敘部 (D)考選部。

37. ()以下為一篇新聞報導，對於報導中的○○、□□，依序應為何者？

○○對□□提出不信任案，以維護自由民主的憲政秩序，此不信任案將在下次院會時表決。

(A)立法院、行政院院長 (B)行政院、立法院院長 (C)總統、行政院院長 (D)行政院院長、總統。


38. ()老師在課堂上讓同學進行角色扮演，透過相互對話的方式，了解我國中央政府的職權運作與互動關係。根據附表的内容判斷，下列關於甲、乙職權的敘述何者正確？〔105.會考〕

同學	角色	對話內容
小哲	甲	我決定提名阿誠為大法官。
大熊	乙	我認為阿誠不適任，所以我不同意這個人事任命案。

39. ()我國對於失職或違法的公務人員設有監督制度。根據附圖中兩人的對話，此彈劾案的對象應該為下列何者？

此彈劾案若成立，該交由哪一個單位做出決議？

應該是憲法法庭！



(A)立法委員 (B)監察委員 (C)地方公務人員 (D)正副總統。

40. ()我國中央政府各機關分別職掌不同職權。依照附圖中的對話推斷，做出撤銷處置的主管機關應為下列何者？

這位公務員的任用存在瑕疵，沒想到他竟然還能領退休金。

放心，銓敘部已經撤銷他的任用，應該沒有退休金了。



(A)立法院 (B)考試院 (C)監察院 (D)行政院。

二、題組

1. 考試院編制龐大，但其職掌的工作現有許多部分與其他機關重量，過多的人力配置與其業務量不成比例。因此有立法委員建議應將考試院廢除，交由行政院行使職權；但另一派的學者認為，此舉將使得孫中山先生當初將考試院從行政院獨立出來的用意不復存在，並且可能造成行政權過大。所以，立法院決定以不影響我國憲政體制平衡的原則修訂《考試院組織法》，將考試委員從19人減為7至9人，任期從6年改為4年，精簡人力，以期發揮最大效用。請問：
- () (1)由上文學者所述，孫中山先生當時如此設計的目的應為下列何者？ (A)鞏固中央集權 (B)防止濫用私人 (C)杜絕國會專制 (D)落實地方自治。
- () (2)根據上文，立法院最終的做法應是考量到下列何事？ (A)採集權統治，避免民意被忽視 (B)鞏固政府權力，進行憲政改革 (C)減少機關衝突，維持施政和諧 (D)政府機關權力分立，相互牽制。
2. 勞動部正式成立後，首任部長表示，勞動部將致力於關心勞工權益，創造公平、正義的勞動環境，並促成勞資雙方的和諧關係。請問：
- () (1)上述部會隸屬於哪一中央政府機關？ (A)內政部 (B)財政部 (C)行政院 (D)總統府。
- () (2)該部會首長的任命方式與下列何者相同？ (A)行政院副院長 (B)司法院大法官 (C)審計長 (D)考試委員。
- () (3)對於此部會的施政狀況，首長應向哪一個政府機關提出施政報告，並接受質詢？ (A)司法院 (B)行政院 (C)監察院 (D)立法院。
3. 我國一中央機關的院長表示，民國104年截至11月，該院已彈劾31人，通過糾正案82件，包括法務部20案次、國防部18案次、教育部13案次、衛生福利部11案次、內政部10案次。希望公職人員及公部門都能恪盡職守，避免違失再度發生。請問：
- () (1)文中的中央機關應為下列何者？ (A)立法院 (B)監察院 (C)行政院 (D)考試院。
- () (2)文中的中央機關院長，其任命方式為何？ (A)行政院院長提名，經總統同意 (B)立法院院長提名，經總統同意 (C)總統提名，經立法院同意後由總統任命 (D)總統提名，經行政院同意後由總統任命。
- () (3)文中提及受到糾正的公部門均隸屬於哪一政府機關？ (A)立法院 (B)司法院 (C)監察院 (D)行政院。
4. 2016年總統、副總統與立法委員選舉後，原執政黨落敗，失去立法院的多數優勢，因此提出在新總統尚未上任前的四個月，希望由勝選的多數黨推派行政院院長人選，以避免政局不安。而勝選的多數黨回應，將會尊重現任總統任命的行政院院長施政，並且在遵循《憲法增修條文》的規定下，行政院與立法院依權制衡的制度各司其職，以便在政權交接過程中能維持政局穩定。請問：
- () (1)為避免政府獨斷，我國各機構權力的行使會受到其他機構的約束，下列對於總統與上述兩院間的制衡關係，何者敘述正確？ (A)總統可直接任命立法院院長 (B)立法院可提出對總統的彈劾案 (C)當覆議案通過，總統可解散行政院 (D)總統可對行政院院長提出不信任案。
- () (2)關於上文中提及的分權制衡制度說明，下列何者屬之？ (A)立法院對行政院院長提出不信任案 (B)立法院向行政院提出覆議 (C)立法院院長接受行政部門的質詢 (D)立法委員向行政院提出施政報告。
5. 新型冠狀病毒(COVID-19)疫情嚴峻，中央流行疫情指揮中心於記者會中宣布採取多項防治措施，例如自境外回國者必須遵守居家檢疫規定，不得外出，如有需要也將限制人民居住地點，惡意違反者亦會做出公布姓名之處分等。部分媒體指出指揮中心的做法缺乏法源基礎，已違反《憲法》保障的人民權利。指揮中心謹慎以對，將各項措施依據的法源列出，並表示：政府以全體國民最大利益為依歸，若非必要絕對不會侵犯人民自由。請問：
- () (1)上述部分媒體的評論應是擔心下列何種情況發生？ (A)行政效率低落 (B)民意主導施政 (C)政府濫用權力 (D)違反國際慣例。
- () (2)由指揮中心回覆內容可知，我國民主憲政的基本精神為何？ (A)以民為主 (B)定期選舉 (C)地方自治 (D)違憲審查。
- () (3)若人民對指揮中心的作為的合法性產生疑慮，可透過何種法定方式釐清？ (A)要求總統進行裁示 (B)邀請專家學者討論 (C)透過司法機關審議 (D)舉辦公民投票決定。
6. 引發第二次世界大戰的德國獨裁者希特勒，當時當上德國總理之後，極力奪取政權，除中止總統職權、削弱國會力量外，還擅自任用私人以全面掌控政治實權，嚴重侵害人民權益。請問：
- () (1)我國為防止如同希特勒任用私人的現象發生，特地將哪一項國家權力從行政權中獨立出來？ (A)司法權 (B)監察權 (C)立法權 (D)考試權。
- () (2)上述希特勒的做法已破壞現代國家中央政府體制設計的何種原則？ (A)權力分立 (B)世襲制度 (C)君主立憲 (D)責任政治。

解答

一、單一選擇題

CBABA AADBB
BDADC BBCCB
DDABD CCBDC
AADCD AADDB

二、題組

1. 答案：(41)(B)；(42)(D)
2. 答案：(43)(C)；(44)(A)；(45)(D)
3. 答案：(46)(C)；(47)(A)；(48)(C)
4. 答案：(49)(D)；(50)(A)

