

正義中學高中國中部 109 學年度第二學期第二次段考一年級地理科試題

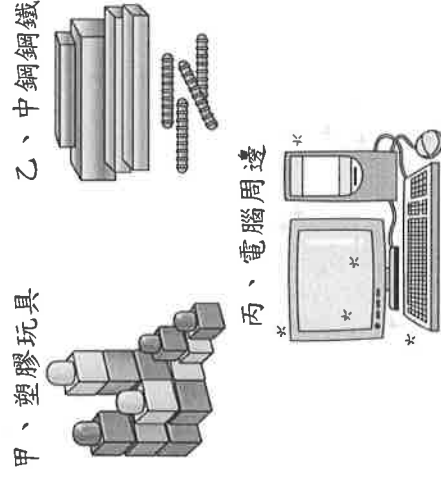
電腦畫卡：科目代碼畫【09】，「國中部」畫【04】，「年級」畫【1】→「班別」1班請畫【04】，2班請畫【05】→3班請畫【06】

命題範圍：地理科 第三章、第四章

班級：_____ 座號：_____ 姓名：_____

一、單一選擇題：每題2分

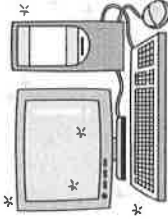
1. () 經濟部的展覽室呈現了臺灣歷年來的產業發展，見證了我國的「經濟奇蹟」。下列各工業展覽品若依據其發展先後順序加以排列，何者正確？



甲、塑膠玩具

乙、中鋼鋼鐵

丙、電腦周邊



- (A) 甲乙丙 (B) 甲丙乙 (C) 乙丙甲 (D) 乙甲丙。

2. () 臺灣未來發展的產業必須符合「三高四低」，亦即高附加價值、高資本、高技術密集，以及低勞力密集、低汙染、低土地利用、低耗能。以下哪一項產業最能符合上述特性而成為臺灣未來的明星產業？ (A) 資訊 (B) 化學 (C) 鋼鐵 (D) 玩具。
3. () 位於北歐的冰島，人口僅有數十萬人，傳統產業除了四周豐富的漁業資源外，更利用當地的火山、地熱及急流瀑布等資源發展觀光。21世紀初因全球原物料需求增加的影響，美國鋁業公司便在當地發展煉鋁工業，從國外引進鋁礦原料以從事鋁鎔煉廠的加工生產過程。由上文可知，冰島發展該產業的有利條件最可能為下列何者？ (A) 勞工眾多 (B) 市場廣大 (C) 廉價動力 (D) 原料豐富。
4. () 臺灣遠洋漁業發達，作業範圍遍布全球各地，臺灣遠洋漁船的主要作業地區不包括下列哪一個海域？ (A) 大西洋 (B) 太平洋 (C) 北極海 (D) 印度洋。
5. () 民國 50 年代，外資的投入使得臺灣許多年輕人湧向工廠，造就了臺灣「鞋子王國」、「成衣王國」、「雨傘王國」等稱號。這個現象是由於政府實施哪一政策使然？ (A) 展開十大建設 (B) 設置加工出口區 (C) 設立科學工業園區 (D) 推動產業升級。
6. () 隨著經濟的發展，消費市場也跟著轉變，因此畜牧業等相關產品市場需求量大幅上升。請問：下列四種常見的畜牧方式中，哪一項為臺灣畜牧業的主要型態？

	畜牧方式
甲	逐水草而居，須經常移動尋找天然牧草。
乙	在水草豐美、面積廣大的牧場內放養牛、馬。
丙	將牲畜養在欄舍內，並定時餵以飼料。
丁	山坡草地野放牛隻，隨季節變化而上、下山。


- (A) 甲 (B) 乙 (C) 丙 (D) 丁。
7. () 臺灣北部地區的農業活動以柑橘、梨子等水果的種植及茶葉的生產為主，稻米的生產量並不多。請問：最主要的原因為下列何者？ (A) 山丘坡陡 (B) 降水不足 (C) 勞力不足 (D) 面積狹小。
8. () 臺灣農產豐富，農業也是民國 50 年代以前經濟發展的主力。請問：臺灣最有利於農業發展的自然條件為何？ (A) 地形 (B) 面積 (C) 土壤 (D) 氣候。
9. () 臺灣的糖廠多分布在臺中以南的甘蔗產區，選擇這種工業區位的主要目的為何？ (A) 均衡工業發展 (B) 擴大消費市場 (C) 減少工業汙染 (D) 降低生產成本。
10. () 宜蘭縣的蘇澳港為臺灣著名的漁業基地，大家熟知的大海底雞罐頭即源自該處。請問：蘇澳港對外作業時直接面臨哪一個海洋？ (A) 臺灣海峽 (B) 太平洋 (C) 巴士海峽 (D) 東海。
11. () 臺灣在加入世界貿易組織 (WTO) 後，政府積極推展多項農業轉型以因應進口農產品的挑戰。其中以下列哪一種

23. ()臺灣的電子產業以代工起家，近年來逐漸邁入利潤較高的自創品牌產業。請問：下列廣為人知的電子產品品牌中，何者並非臺灣自創？ (A)宏達電 (B)宏碁 (C)蘋果 (D)華碩。
24. ()近年來，在臺灣從事製造業與營造業的外籍勞工人數很多，有些工業區附近甚至可以看到專門服務外籍勞工的餐飲店或生活用品店。臺灣引進這些勞工的原因，主要是與下列何者有關？〔97.第一次基測〕 (A)所得貧富差距擴大 (B)青壯年失業問題嚴重 (C)本地勞工薪資成本提高 (D)產業發展技術水準降低。

25. ()今日受到臺灣社會經濟發展的影響，政府正積極推廣下列哪一種牧業活動，希望增加市場競爭力及牧民收入？ (A)酪農業 (B)游牧業 (C)欄牧業 (D)放牧業。

26. ()臺灣的畜牧業過去多為農家的副業，隨著經濟發展，其重要性逐漸增加。下列有關現今臺灣畜牧業的敘述，何者正確？ (A)趨向專業化與商業化經營 (B)畜牧型態多為放任家畜在草原上活動的放牧型態 (C)臺灣主要的畜牧區分布於北部 (D)政府並不鼓勵酪農業的發展。

27. ()下列為四種不同的工作型態。請問：哪一種工作屬於第二級產業？〔93.第二次基測〕



(A)



(B)



(C)



(D)

28. ()早期嘉南平原分布許多蔗糖工廠，以臺糖公司的規模最大，這項工業設廠考慮的首要區位條件為何？ (A)市場 (B)原料 (C)交通 (D)勞工。

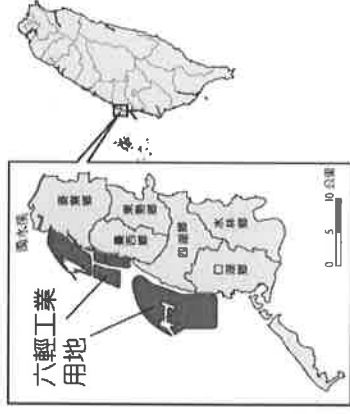
29. ()附表是某島國主要工業原料和產品的進出口狀況。表中呈現的現象，最適合用來說明該國工業區的哪一分布特徵？〔103.特招〕

工業原料	進口量占需求量的比率 (%)	工業產品	出口量占生產量的比率 (%)
石油	99.7	汽車	51
煤炭	95	電子電器	59
鐵礦	100	一般機械	54
棉花	100	化學製品	47

(A)位於海運便利的沿岸地區 (B)位於資金充沛的都會地區

(C)位於人口高度集中的地區 (D)位於地勢平坦的平原地區。

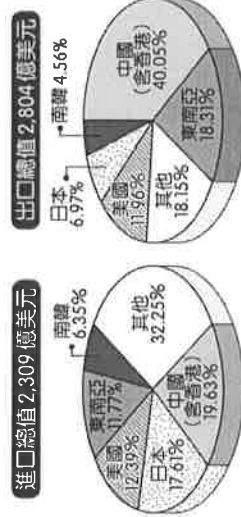
30. ()臺塑六輕為臺灣重要的石化工業區，其分布的地理位置如附圖所示。依圖中資訊判斷，該工業區的設廠位置與下列何者最有關係？



(A)廉價動力充足 (B)勞工技術進步 (C)方便原料進口 (D)海底石油開採。

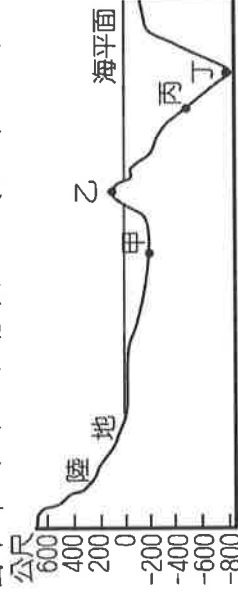
31. ()下列為臺灣某時期的要聞，請根據相關資料判斷，當時臺灣工業活動的轉型為下列何者？(甲)勞工為求加薪，醞釀大規模罷工(乙)工廠廢氣汙染，周圍居民包圍工廠要求改善(丙)大面積土地取得困難，國際企業放棄在臺設廠 (A)輕工業→重工業 (B)輕工業→資訊工業 (C)重工業→資訊工業 (D)重工業→輕工業。

32. ()附圖為民國105年臺灣主要的經貿夥伴及其進、出口貿易值比例圖。由圖中可看出臺灣對何地貿易的入超情形最嚴重？



(A)美國 (B)中國 (C)日本 (D)東南亞。

33. () 附圖為海底地形剖面示意圖，圖中哪一點位於大陸棚區？〔90.第二次基測〕



(A) 甲 (B) 乙 (C) 丙 (D) 丁。

34. () 美國著名的運動廠商耐吉公司到泰國地區設廠製造運動衣及球鞋。請問：其主要考慮的工業區位條件為下列何者？ (A) 原料 (B) 動力 (C) 市場 (D) 勞工。

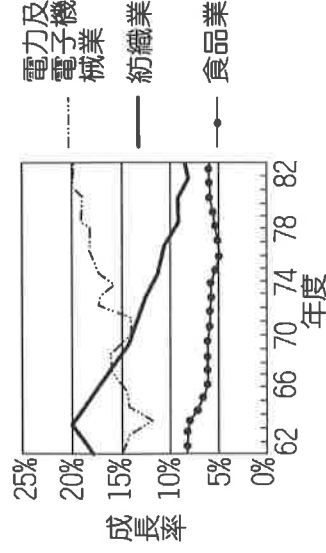
35. () 附圖中的新詩是描述臺灣農業的某種變遷情形，下列何者為該變遷所造成的影響？〔103.特招〕



(A) 人力需求減少 (B) 發展精緻農業 (C) 勞力集約度增加 (D) 加入世界貿易組織。

36. () 政府為降低國內失業率，積極鼓勵廠商「根留臺灣」，希望大企業多在臺灣設廠，提供更多的就業機會。請問：此時政府應積極輔導相關產業朝何種方向發展？ (A) 產業升級，提高產品附加價值 (B) 控制成本，提升市場競爭力 (C) 產業轉型，發展勞力密集型產業 (D) 擴展市場，積極加速都市化。

37. () 附圖是某地區三種產業歷年平均受僱員工變動圖。從圖中變化的趨勢，可看出該地區的工業發展具有下列何種特徵？〔90.第一次基測〕



(A) 海外投資逐漸興起 (B) 工廠集中在北部地區 (C) 工業是經濟發展的主力 (D) 技術與資本密集工業增加 () 經濟部的國貿局舉辦臺灣貿易特展，將各時期主要的出口產品展出，反映我國的經濟成長之路。請問：下列的展出商品中，何者的發展時間最早？ (A) 汽油桶 (B) 衣服 (C) 電鍋 (D) 洗衣機

39. () 工業發展造就了臺灣的經濟奇蹟。請問：下列哪一項為臺灣目前正積極發展的明星產業？ (A) 食品工業 (B) 成衣工業 (C) 家具工業 (D) 資訊工業。

二、題組。每題 2 分

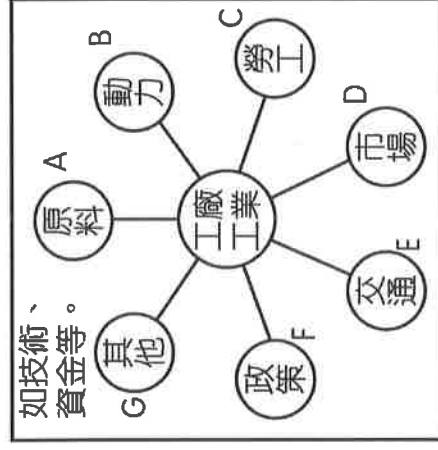
1. 某年臺灣全年進口總值為 1,035.72 億美元，出口總值為 1,116.38 億美元，而進口農工原料為 745.66 億美元，出口工業產品為 1,112.06 億美元。請問：

() (40) 該年臺灣貿易總值為多少？ (A) 2,152.1 億美元 (B) 1,112.06 億美元 (C) 745.66 億美元 (D) 80.66 億美元。

() (41) 該年臺灣的國際貿易值出超為多少？ (A) 4.32 億美元 (B) 290.66 億美元 (C) 80.66 億美元 (D) 366.4 億美元。


() (42) 由資料可知當時臺灣貿易的結構為何？(甲)當時貿易是入超(乙)進口以農工原料為主(丙)出口以工業產品為主(丁)臺灣進口業和出口業都很發達 (A) 甲乙丙 (B) 乙丙丁 (C) 甲丙丁 (D) 甲乙丁。

2. 附圖是影響工業發展的因素圖。請問：

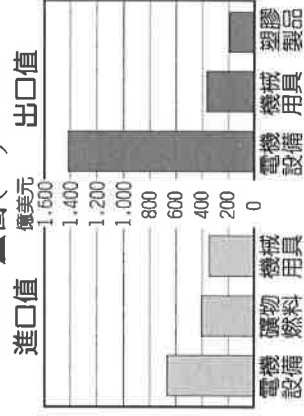


- () (43) 臺灣的一些「夕陽工業」，如製鞋、成衣等工廠移往東南亞或中國設廠，其考慮的區位條件是什麼？ (A) A (B) B (C) C (D) D。
- () (44) 將水泥工廠設在高雄、花蓮，有何區位優勢？ (A) A (B) B (C) D (D) E。
- () (45) 臺灣東部工業一直不發達，在克服何項因素後，情況將可能改善？ (A) A (B) E (C) F (D) G。
- () (46) 臺灣在 50、60 年代有荷蘭飛利浦電子公司及美國通用公司來臺設廠，主要著眼於何項區位條件？ (A) A (B) C (C) D (D) F。
- () (47) 為提升國家競爭力，目前臺灣的工業發展應以哪一種工業區位為主？ (A) A (B) B (C) D (D) G。

3. 臺灣的產業發展依時代背景環境而有不同，呈現各級產業的變遷過程，我們由國際貿易中進、出口的商品，可得知其關聯性。圖(一)為臺灣目前主要的經貿伙伴及其進、出口貿易值比例圖，圖(二)為臺灣部分進出口產品類別產值圖，請依照圖中資料判斷，回答下列問題：

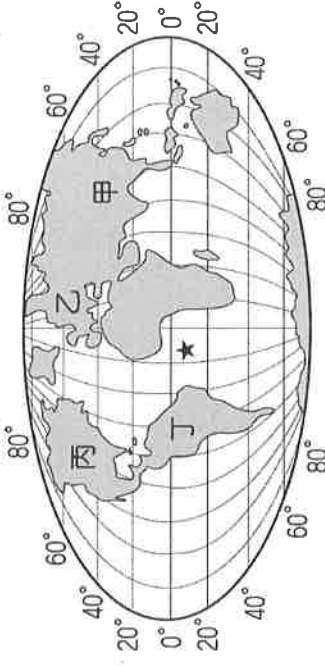


▲圖(一)



▲圖(二)

- () (48) 臺灣的出口總值排名高達世界第 13 位，甚至超過俄羅斯、印度及西班牙等大國，反映出臺灣強勁的經濟實力。依圖(一)、圖(二)中的數據判斷，我國出口產品主要與何種生產區位條件的關係最大？
- (A) 原料充足 (B) 技術進步 (C) 工資低廉 (D) 動力充沛。
- () (49) 根據圖(一)我國主要貿易伙伴來看，臺灣的貿易往來比重最高的地區多位於圖(三)中哪一洲？



▲圖(三)

- (A) 甲 (B) 乙 (C) 丙 (D) 丁。
- () (50) 我國經濟部若欲擴大臺灣的國際貿易版圖，降低過於集中的風險，應該和下列何者加強雙邊合作較為適合？
- (A) 東南亞 (B) 日韓 (C) 歐洲 (D) 美國。

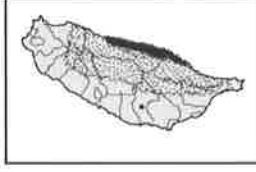
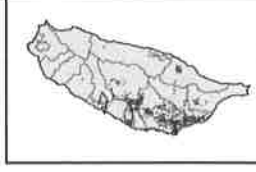
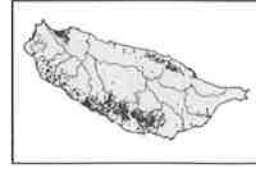
- 轉變對臺灣農業的幫助最大？ (A)提高作物生產量 (B)積極降低生產成本 (C)推動機械化耕作 (D)建立品牌及改善通路。
12. ()臺灣自民國60年代以來，累積了頗多的外匯，主要的因素為何？ (A)出超、入超達成平衡 (B)國際貿易呈現出超 (C)國際貿易呈現入超 (D)勞工薪資所得提高。
13. ()附表為2006年世界進口與出口貿易額排名前五名的國家，由表中數據可以推論，下列何者為貿易入超國？〔97.第二次基測〕

單元：億美元

排名	出口額		進口額	
	國家	金額	國家	金額
1	德國	11,123	美國	19,196
2	美國	10,373	德國	9,102
3	中國	9,691	中國	7,916
4	日本	6,471	英國	6,008
5	法國	4,901	日本	5,775

14. () (A)德國 (B)日本 (C)英國 (D)中國。
15. () (A)德國 (B)日本 (C)英國 (D)中國。
16. () (A)德國 (B)日本 (C)英國 (D)中國。
17. () (A)德國 (B)日本 (C)英國 (D)中國。
18. () (A)德國 (B)日本 (C)英國 (D)中國。
19. () (A)德國 (B)日本 (C)英國 (D)中國。
20. () (A)德國 (B)日本 (C)英國 (D)中國。
21. () (A)德國 (B)日本 (C)英國 (D)中國。
22. () (A)德國 (B)日本 (C)英國 (D)中國。

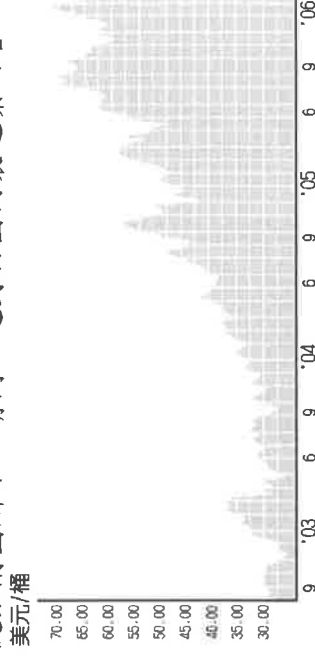
15. ()長期以來，臺灣稻作農業即相當發達，其主要耕作的分布區域應為下列何者？



16. ()下列各行業中，何者不屬於第三級產業活動？ (A)貨車司機 (B)銀行經理 (C)美髮小姐 (D)工廠工人。
17. ()陶淵明〈歸園田居〉詩中：「種豆南山下，草盛豆苗稀。晨興理荒穢，帶月荷鋤歸。」這種清晨下田鬆土除草，星月下才扛著鋤頭回家歇息的田園生活，恰可以形容臺灣農業經營的哪一種特色？ (A)耕地狹小 (B)技術先進 (C)集約度高 (D)休閒產業興起。
18. ()茶、糖、樟腦為臺灣早期重要三大出口產品，其中糖業更是從17世紀的荷蘭統治時期開始，種植甘蔗為原料來煉糖，並在日治時期達到最高峰。然而今日甘蔗種植面積大幅減少，各地糖廠也多轉型為觀光活動。請問：臺灣糖業的現況和下列哪一項生產條件的變化關係最大？ (A)生產成本過高 (B)病蟲害問題嚴重 (C)土地嚴重下陷 (D)國內市場萎縮。
19. ()隨著經濟發展，臺灣產業結構有大幅度的轉變。下列有關目前臺灣產業的敘述，哪一項是正確的？ (A)由於農村勞力充沛，農耕技術先進，農業經營集約度高 (B)每位農民耕地廣大，生產成本較低，農產品可大量出口 (C)工業已由早期勞力密集工業，逐漸升級到資本密集工業和技術密集工業 (D)國際貿易發達，自民國60年代以來，每年都是入超，累積了頗多的外匯。
20. ()南太平洋的某島國主要產業結構如附表所示，請依表中資料判斷，該國第一級產業比例應為何？

農業	漁業	珊瑚加工業	觀光業	運輸業
21%	12%	30%	20%	17%

21. () (A)21% (B)33% (C)63% (D)58%。
22. ()臺灣因為工資上漲及環保意識抬頭等因素影響，民國70年代以後，工業活動轉型以何種產業活動為主？ (A)重工業 (B)高科技工業 (C)鋼鐵工業 (D)化學工業。
23. ()國際原油市場價格的波動情況如附圖所示。請問：這對於國內製造業而言，哪一項區位條件的壓力最大？



- (A)政策 (B)動力 (C)勞工 (D)市場。

解答

一、單一選擇題

- 1.(A) 2.(A) 3.(C) 4.(C) 5.(B)
- 6.(C) 7.(A) 8.(D) 9.(D) 10.(B)
- 11.(D) 12.(B) 13.(C) 14.(C) 15.(A)
- 16.(D) 17.(C) 18.(A) 19.(C) 20.(B)
- 21.(B) 22.(B) 23.(C) 24.(C) 25.(A)
- 26.(A) 27.(D) 28.(B) 29.(A) 30.(C)
- 31.(C) 32.(C) 33.(A) 34.(D) 35.(A)
- 36.(A) 37.(D) 38.(D) 39.(D)

二、題組

- 1.(40)(A); (41)(C); (42)(B)
2. (43)(C); (44)(A); (45)(B); (46)(B); (47)(D)
3. (48)(B); (49)(A); (50)(C)