

電腦畫卡：「年級」畫【3】→「班級」1 班請畫【04】、2 班請畫【05】、3 班請畫【06】→「座號」依照自己的班級座號。  
「科目」請畫【09】→「組別」請畫【04】

命題教師：葉春志

一、單選題：每題 2 分，共計 100 分。

01.下列何者是非洲早期南北交通往來的嚴苛障礙，也是世界最大的沙漠？ (A)那米比沙漠 (B)撒哈拉沙漠 (C)喀拉哈里沙漠 (D)塔克拉瑪干沙漠。

02.非洲陸塊上分布著許多盆地，這些盆地由北而南依序排列，正確順序應為何？ (甲)撒哈拉盆地 (乙)剛果盆地 (丙)喀拉哈里盆地 (A)甲乙丙 (B)甲丙乙 (C)乙甲丙 (D)丙乙甲。

03.丁丁的地理期末報告想以「地球臉上最大的傷疤」為題，他應該蒐集附圖中哪個地區的資料？ (A)甲 (B)乙 (C)丙 (D)丁。

04.南非的那米比沙漠因擁有高達 300 公尺的沙丘，而成為地質學家經常拜訪、研究之地。請問：當地的沙漠景觀主要是下列哪個因素影響而成？ (A)高山地形 (B)鄰近撒哈拉沙漠 (C)本吉拉涼流流經 (D)距海遙遠，水氣不易到達。

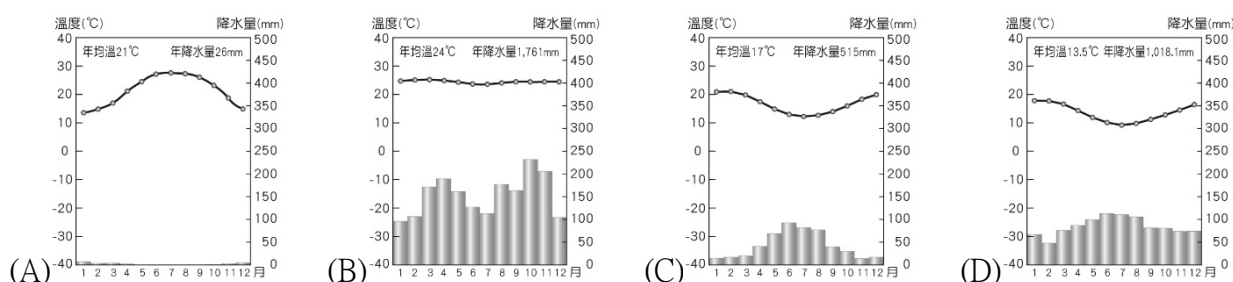
05.小文在遊記中提到：「從赤道到極地，從年均溫 30°C 的熱帶雨林到終年積雪的冰河，都可以在□□完整體驗。」下列何者較適合填入文中？ (A)吉力馬札羅山 (B)撒哈拉沙漠 (C)尼羅河 (D)大堡礁。

06.「全境以高原為主體，海岸陡直，少灣澳、島嶼，船隻不易進入；加上廣大沙漠的阻隔，造成南、北文化差異很大，曾被稱為『黑暗大陸』。」請問：以上描述的是附圖中的何洲？ (A)甲 (B)乙 (C)丙 (D)丁。

07.在電影《馬達加斯加》中，斑馬馬蹄夢想回到原本出生的大草原，因此展開返鄉大冒險，但路途中不幸發生意外，漂流到陌生島嶼——馬達加斯加。請問：附圖中為馬蹄的家鄉景觀，其最有可能是非洲哪個國家？ (A)肯亞 (B)埃及 (C)剛果 (D)摩洛哥。

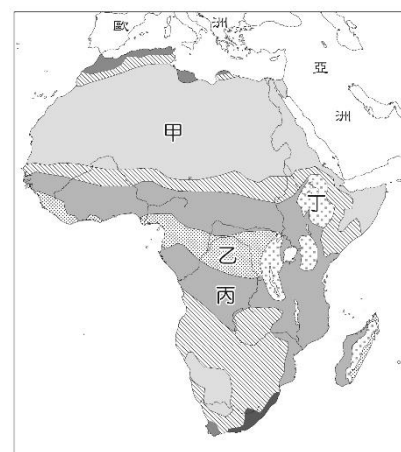
08.動畫電影「馬達加斯加」描述原本生活在紐約動物園的獅子、長頸鹿、斑馬等動物，陰錯陽差來到非洲的馬達加斯加島，展開一連串有趣的原始生活。馬達加斯加是東非外海的大島，請問該島嶼位於下列哪個海域？ (A)印度洋 (B)大西洋 (C)地中海 (D)太平洋。

09.非洲的氣候呈現南北對稱的情形。請問：非洲中央地區的氣候圖，與下列何者相符？



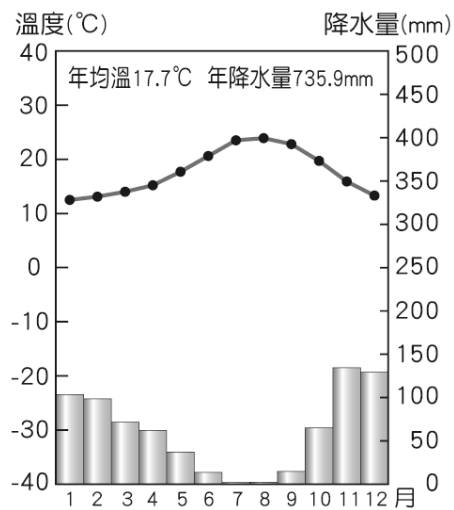
10.古希臘的歷史學家希羅多德說：「埃及是一個獲得河流賜予的國家。」古埃及文明的建立與尼羅河的定期氾濫息息相關。請問：尼羅河的定期氾濫和下列何項地理要素有關？ (A)地形 (B)氣候 (C)土壤 (D)種族。

11.「許多探險家想從沿海順著剛果河的河道，深入河流源頭，但因為環境的限制，困難重重。」請問：文中的限制最可能是指下列哪項？ (A)河流含沙量高，不利航行 (B)下游落差大，多急流瀑布 (C)中游多建水庫，導致缺水 (D)流域內種族複雜，政局不穩。

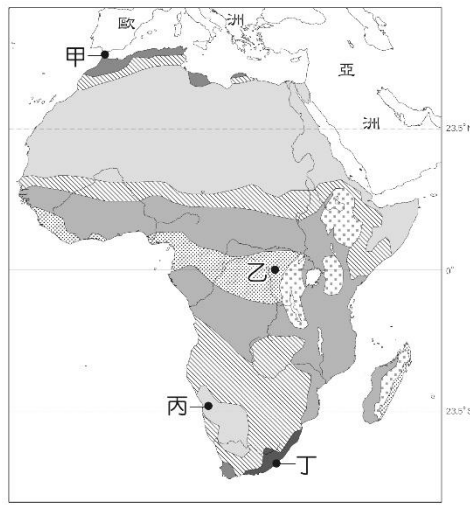


12. 非洲氣候普遍炎熱且大致呈南北對稱分布，此與下列哪個現象密切相關？ (A)赤道橫貫中部 (B)山脈南北縱走 (C)本初經線縱貫西部 (D)地勢南北高、中央低。
13. 「這個位於非洲大陸南端的岬角，在蘇伊士運河通航前的三百多年間，為歐、亞間航行的必經之地，直至今日仍是世界交通和戰略的要地。」上文所指的岬角位於哪兩大洋的交會處？ (A)太平洋與大西洋 (B)大西洋與印度洋 (C)印度洋與太平洋 (D)大西洋與地中海。

14. 圖一為某種類型的氣候圖，圖二為非洲氣候分布圖。請問：圖一的氣候類型最可能出現在圖二中哪個地區？ (A)甲 (B)乙 (C)丙 (D)丁。



▲圖一



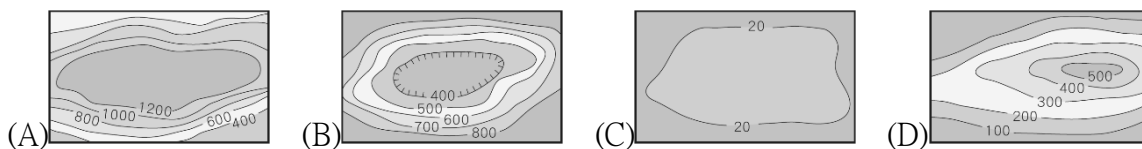
▲圖二

15. 非洲南部的喀拉哈里盆地內多為沙漠地帶，氣候乾燥。請問：影響此區氣候乾燥的主要原因為何？ (A)距海遙遠 (B)暖流經過 (C)涼流流經 (D)副熱帶高氣壓籠罩。
16. 「匹美人連成年男子的身高都低於 150 公分，根據人類學家研究，他們居住在雨林內，紫外線量極低，可能為身材較為矮小的成因，因為紫外線是人體產生維生素 D 的必要元素，而維生素 D 會影響身體對鈣質的吸收，從而影響到骨骼的生長及保養。」請問：下列何者最接近匹美人的居住環境？



17. 「非洲某地的農業經營型態是：10 月至隔年 3 月時栽種大麥、小麥，5 月至 9 月時種植葡萄、蔬菜，丘陵區則以橄欖、無花果等耐旱作物為主。」請問：此地應該是具備下列何種氣候特徵？ (A)夏熱冬寒 (B)夏涼冬暖 (C)夏乾冬雨 (D)夏雨冬乾。

18. 非洲的地形主體，與下列哪張等高線圖的地形相同？



19. 「除北非外，非洲沿海地區自古大多海運不興，故外人難窺其貌，且中部及南部因沙漠阻隔，要深入該地更加困難重重……。」請問：造成非洲海運不興盛的主要原因為下列何項？ (A)海岸陡峭平直 (B)河川稀少 (C)原住民凶殘 (D)政局不穩。

20. 非洲大部分的地區位於熱帶氣候區，其中熱帶雨林森林茂密，樹種繁多；熱帶莽原卻樹木稀疏，高草原雜生。請問：造成兩地植被景觀不同的主要因素為何？ (A)氣溫的高低 (B)地勢的高低 (C)距海的遠近 (D)雨季的長短。

21. 人口分布點圖是以點的多寡呈現一地人口分布稠密或稀疏的狀況。若要繪製非洲的人口分布點圖，則下列哪些地區需要畫上較多的點？ (甲)尼羅河三角洲 (乙)剛果盆地 (丙)喀拉哈里盆地 (丁)尼日河三角洲 (A)甲乙 (B)甲丁 (C)乙丙 (D)丙丁。



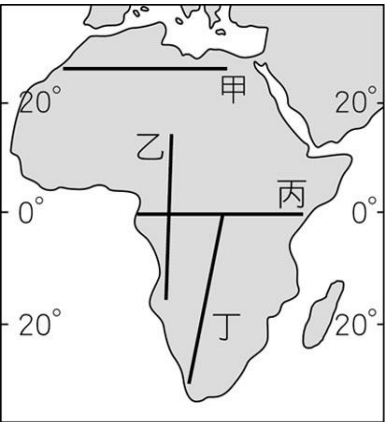
22. 附圖為南非共和國的氣候分布簡圖。圖中四區，何者為夏雨型暖溫帶氣候區？ (A)甲 (B)乙 (C)丙 (D)丁。

23.非洲的氣候帶中，面積較廣大的有雨林、莽原、沙漠三種氣候類型。請問：這三類氣候主要的劃分依據為何？ (A) 人口的疏密 (B)降水量的多寡 (C)盛行風的強弱 (D)年均溫的高低。

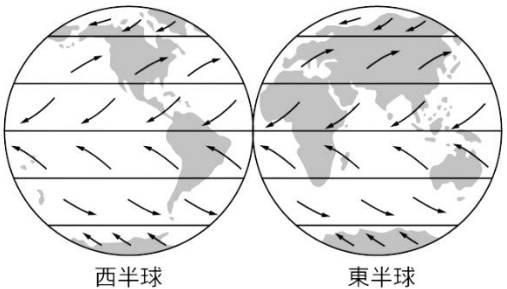
24.東非高原上有一連串的湖泊，如馬拉威湖、坦干伊喀湖等。若依湖泊的成因區分，這些湖泊屬於下列何種類型？ (A)斷層湖 (B)冰蝕湖 (C)火口湖 (D)堰塞湖。

25.東非肯亞的「馬賽馬拉國家保護區」，經世界自然基金會評定為世界十大必遊地之一，該公園雖鄰近赤道，但氣候溫和。請問：造成其氣候溫和的主要原因為何？ (A) 海洋調節 (B)地質古老 (C)季風盛行 (D)海拔較高。

26.附圖為非洲簡圖。沿著圖上哪條路線飛行，才能看見最多元的氣候景觀？ (A)甲 (B) 乙 (C)丙 (D)丁。



27.「每年大約會有 2,500 萬至 5,000 萬噸的沙子隨著盛行風，飄移到西印度群島與南美洲的北部。」根據附圖中的全球盛行風向判斷，文中所述的沙子最可能來自下列哪個地區？ (A)黃土高原 (B)中亞沙漠 (C)撒哈拉盆地 (D)北美大平原。



28.「這個國家曾實施『種族隔離政策』，限制黑人的居住與活動範圍，經過黑人的抗爭與國際的制裁，終於在一九九〇年代廢除此一不合理政策，而後更有黑人首次當選該國總統。」上述的國家為何？ (A)埃及 (B)肯亞 (C)南非共和國 (D)奈及利亞。

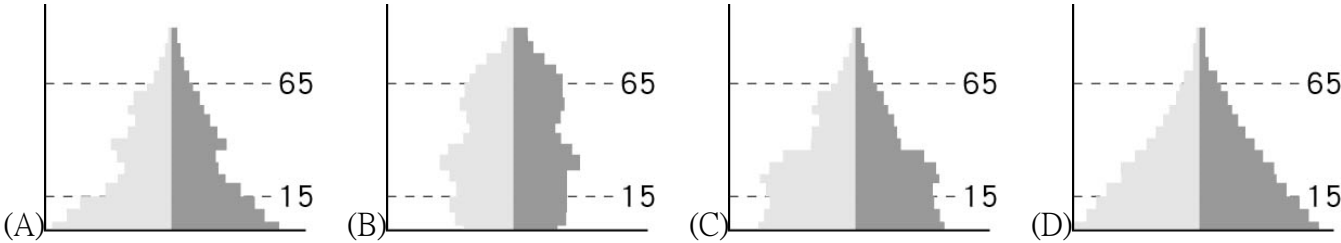
29.撒哈拉沙漠以南的非洲各國，因為醫療資源不足、缺乏衛生知識，目前哪種疾病已是該地區的一大隱憂？ (A)禽流感 (B)登革熱 (C)愛滋病 (D)SARS。

30.附表為西元 2015 年世界各大洲的出生率及死亡率之資料，請問何者最可能為非洲？ (A)甲 (B)乙 (C)丙 (D)丁。

洲別	出生率 (千分比)	死亡率 (千分比)
世界平均	20	8
亞洲	18	7
甲	36	10
乙	11	11
丙	12	8
丁	18	6
大洋洲	18	7

31.早期歐洲列強以何種方式在非洲劃分勢力範圍，造成非洲各國複雜的民族組成，也埋下日後部落衝突與政治不安的因子？ (A)山脈 (B)河川 (C)語言 (D)經緯度。

32.非洲目前人口眾多，出生率、死亡率均居全球之冠，其年齡結構應呈現下列何種人口金字塔圖？



33.在沙漠邊緣，因為降水量稀少、牧草稀疏，牧民每隔一段時間需要移動牲畜，以尋找新的牧草地。請問：此種畜牧方式稱為什麼？ (A)山牧季移 (B)欄牧 (C)游牧 (D)放牧。

34.附表為非洲某農場的主要產品統計表。這個農場最可能位於下列何處？ (A)北非 (B)南非 (C)西非 (D)中非。

種類	橡膠	咖啡	甘蔗	香蕉	椰子
比例	40%	30%	10%	10%	10%

35.附圖為非洲居民傳統的游耕生活方式，其進行的正確順序應為何？ (A)甲乙丙丁 (B)乙甲丁丙 (C)乙丙丁甲 (D) 丙丁甲乙。



36.下列哪個國家利用黃金、鑽石、鈾礦等礦業開採為基礎，得以發展工業，成為非洲經濟發展最穩定的國家？ (A)奈及利亞 (B)利比亞 (C)阿爾及利亞 (D)南非共和國。

37.目前非洲面臨的問題很多，如饑荒、失業率高、生態破壞、醫療設施不足等，這些問題皆與下列何者最為相關？

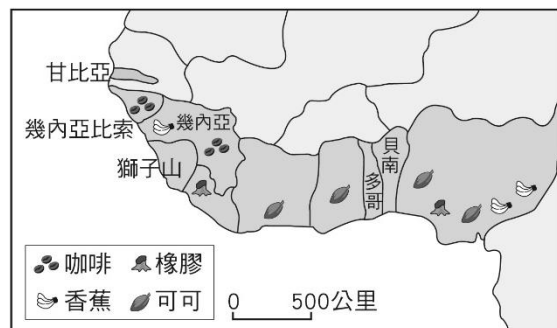
(A)都市化快速 (B)人口快速成長 (C)經濟發展過快 (D)礦產開採殆盡。

38.非洲礦產資源豐富，如南非共和國盛產黃金、鑽石、鈾礦，奈及利亞與安哥拉則為重要的產油國。請問：非洲礦藏豐富，與下列何者關係最密切？ (A)地質屬古老的陸塊 (B)地形種類複雜多樣 (C)地層褶曲作用強烈 (D)河川堆積作用旺盛。

39.「……在西非，大都市多位於沿海地區，鐵路由這些大都市向內陸延伸，但在沿海大都市間卻少有路線相互連接……。」下列何者可以用來解釋這種現象？ (A)西非的國際貿易以進口為主 (B)鐵路為國內唯一的運送工具 (C)當地農業類型需仰賴大量勞力 (D)沿海都市的物資交換需求度低。

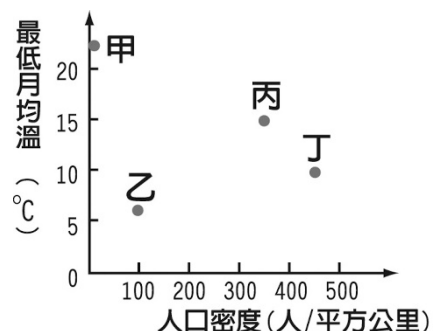
40.非洲大部分國家和中南美洲許多國家一樣，太過依賴一、兩種農、礦產的出口，以致經濟發展深受下列何項限制？ (A)破壞環境生態 (B)政府限制太多 (C)國際市場價格波動 (D)經濟作物生產不能自給。

41.非洲地區的經濟發展相對落後，主要的產業類型多以農業活動為主，其中西非地區主要的農業活動分布如附圖所示。請問：該地區的經濟發展特徵，不包括下列何者？ (A)大面積農場，投入大量勞力 (B)產品以外銷為主，海運發達 (C)種植少數或單一經濟作物，收入不穩定 (D)生長季與雨季不配合，需仰賴灌溉。



42.奈及利亞最大的都市拉哥斯，為非洲第二大都市，僅次於埃及開羅。請問：拉哥斯成為非洲第二大都市，可能與奈及利亞富有何項天然資源有關？ (A)可可 (B)鑽石 (C)咖啡 (D)石油。

43.「族人在乾季末期耕種之前，得先把森林中一小塊地面上的樹林燒掉，然後種山芋和樹薯。他們以掘棒、鋤等傳統農具耕作，並不施肥，若干年後，當土壤變得貧瘠時，農民便須移至他地，另闢田地。」請問：附圖中哪種環境條件，最常出現上述的農耕方式？ (A)甲 (B)乙 (C)丙 (D)丁。

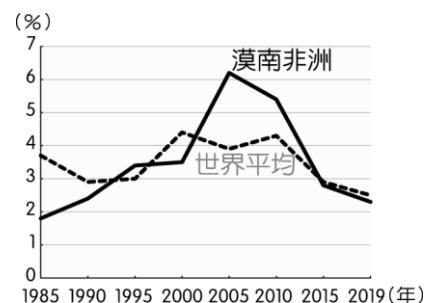


44. 附圖為漠南非洲辛巴威觀光局的宣傳圖片，請根據圖中資料判斷，該地區最適合發展的旅遊主題為何？ (A)美食之旅 (B)古蹟之旅 (C)時尚之旅 (D)生態之旅。



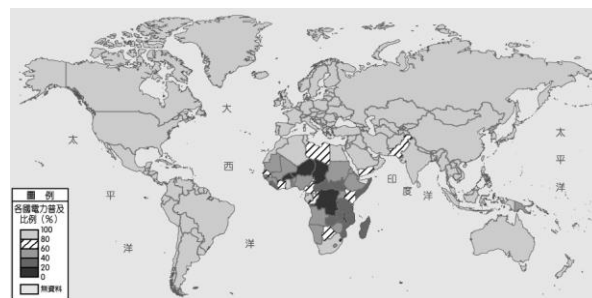
45.二十一世紀後，大量資金與技術的投入，使漠南非洲呈現跳躍式發展，當地居民常以何種方式進行語言溝通？ (A)書信 (B)電報 (C)手機 (D)市內電話。

46.附圖是漠南非洲與世界平均經濟成長率統計圖，漠南非洲經濟發展快速的主因為何？ (A)交通便利 (B)人口性別比 (C)充足低廉勞動力 (D)基礎建設普遍。



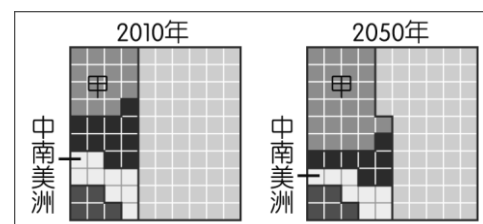
47.下列哪一種人，主要分布在肯亞和坦尚尼亞之間，以游牧維生，且以跳高的舞蹈聞名於世？ (A)馬賽人 (B)布希曼人 (C)阿拉伯人 (D)馬來一玻里尼西亞人。

48.下列哪一個宗教在地理大發現後，隨著殖民者的腳步進入了漠南非洲，成為當地部分居民的宗教信仰？ (A)伊斯蘭教 (B)猶太教 (C)印度教 (D)基督教。



49.附圖為全球電力普及比例圖，請由各大洲的狀況判斷，主要和下列何者關係最大？ (A)日照長短 (B)工商發展 (C)能源礦產 (D)緯度位置。

50.附圖為 2010 年及聯合國預測 2050 年時，亞洲、非洲、歐洲、北美洲、中南美洲各洲的人口占世界總人口的比例分布狀況。圖中五個區塊分別代表各洲，甲區塊應是指下列何者？ (A)亞洲 (B)非洲 (C)歐洲 (D)北美洲。



〈答案〉

1	2	3	4	5	6	7	8	9	10
B	A	D	C	A	C	A	A	B	B
11	12	13	14	15	16	17	18	19	20
B	A	B	A	D	D	C	A	A	D
21	22	23	24	25	26	27	28	29	30
B	A	B	A	D	D	C	C	C	A
31	32	33	34	35	36	37	38	39	40
D	D	C	C	B	D	B	A	D	C
41	42	43	44	45	46	47	48	49	50
D	D	A	D	C	C	A	D	B	B