

命題老師:王智遠

一、單一選擇題：每格2分，共40分

1. ( ) 附圖中誠睿遇到購物問題，於是在網路上發問尋求解答，其中哪一位網友的答覆符合法律規定？

**問：**我買了一支手錶送朋友，但是他不喜歡這個樣式，不知道可以退換貨嗎？

**誠睿**

---


**小敏：**網路購物不接受商品瑕疵退換貨。

**媛媛：**網路購物有10天的猶豫期。

**宏仔：**實體商店有權拒絕瑕疵商品退換貨。

**阿駿：**實體商店的商品無猶豫期的法律保障。

- (A)小敏 (B)媛媛 (C)宏仔 (D)阿駿。
2. ( ) 張銘銘加入某個臉書社團，在社團中與網友的對話如附圖。請問：他們的交易方式屬於下列何者？



- (A)以商品貨幣交易 (B)以物易物 (C)以法定貨幣交易 (D)以塑膠貨幣交易。
3. ( ) 儲值卡為預付型交易，先付錢，再分期、分次享受商品或服務。請問：附圖中有關儲值卡的規定是受到哪一部法律的保障？

◎屬於消費者與業者簽訂的一種契約


◎業者須履行契約

◎消費者應注意契約內容及可能發生的風險

- (A)《公平交易法》 (B)《消費者保護法》 (C)《社會秩序維護法》 (D)《食品安全衛生管理法》。
4. ( ) 廠商之間惡性或不公平的競爭行為可能會損害消費者的權益，故政府必須制定相關法律。請問：下列哪部法律與保障消費者的權益無關？ (A)《消費者保護法》 (B)《食品安全衛生管理法》 (C)《社會秩序維護法》 (D)《公平交易法》。
5. ( ) 所謂「失業者」的定義是下列何者？ (A)除了受僱者以外的所有人 (B)有工作能力與工作意願，且有尋找工作，卻找不到工作的人 (C)在學學生的代名詞 (D)沒有工作的所有人。
6. ( ) 陽光基金會近年積極推動臉平權，附圖為相關新聞報導。請問：此報導中雇主的行為屬於下列


9年 班 座號： 姓名：

何者？



- (A)性別歧視 (B)訂立不利的勞動契約 (C)犧牲受僱者的健康 (D)以外表評斷受僱者能力。

7. ( ) 附圖報導是某報紙刊載的部分內容，據此判斷，其最可能在探討下列何者之間的關係？〔101.基測〕



- (A)行銷策略與降低成本 (B)科技運用與創造利潤 (C)經營自由與市場價格 (D)商業利益與社會責任。

8. ( ) 明倫公司為了照顧員工，在公司內設員工餐廳、網球場，並定期舉辦員工旅遊活動，以提高員工的向心力。上述主要強調企業應具備哪一項條件？ (A)善盡社會責任 (B)了解市場需求 (C)評估創業風險 (D)進行企業合作。

9. ( ) 守志進入職場已經十年，累積了一些工作經驗後，想自己開一間公司。從經濟考量，守志開公司的目的為下列何者？ (A)服務人群 (B)慈善公益 (C)獲取利潤 (D)公平正義。

10. ( ) 小孫想購買日本網站上一組2,000日圓的模型玩具，因此很努力的存錢，然後拜託日本的親戚幫忙購買。請根據附表判斷，若小孫在今年10月時購買，會比去年10月時購買多付或少付新臺幣多少錢？

年度	新臺幣：日圓
去年 10 月	1 : 2.8
今年 10 月	1 : 3.2

- (A)多付約 80 元 (B)少付約 80 元 (C)多付約 89 元 (D)少付約 89 元。

11. ( ) 新臺幣是以紙鈔、硬幣為形式，在臺灣大家願意使用「新臺幣」交換所需物資，其主要的原因為何？ (A)政府以法令強制其具有價值 (B)新臺幣的材料本身就具有價值 (C)貨幣數量供不應求較具價值 (D)新臺幣的印製非常方便快捷。

12. ( ) 從附圖中的內容可以看出，此企業已經針對哪一項目進行改善？

**道歉啟事**

本公司因內部管理疏失造成消費者疑慮，深感抱歉，即日起願接受退貨，並請再給一次機會！

(A)分析市場趨勢 (B)善盡社會責任 (C)評估創業風險 (D)進行企業結盟。

13. ( )某公司員工發現，公司加班費未依法律規定給付，甚至規定遲到1分鐘就扣100元。儘管老闆出面澄清，加班費都有照規定給付，而會對員工遲到行為作出懲處，是因為其出勤狀況不佳。不過，勞工局表示，遲到罰錢按薪資比例計算，否則既屬違法。勞工局所說的法律是哪部法律？ (A)憲法 (B)民法 (C)勞動基準法 (D)性別工作平等法。

14. ( )公民課時分組討論貨幣價值與國際貿易的關係，附表為各組討論後的回答，請問：哪一組的內容正確？

組別	回答
黑熊組	我國貨幣貶值，有利進口。
帝雉組	我國貨幣升值，所需支付的進口成本增加。
獼猴組	新臺幣的升貶，對我國貨物進出口無影響。
石虎組	新臺幣貶值時，有利我國商品出口至國外。

(A)黑熊組 (B)帝雉組 (C)獼猴組 (D)石虎組。

15. ( )政府如果為了解決物價持續上漲的問題，而長期大量印製鈔票，其結果將會如何？ (A)貨幣持續貶值 (B)貨幣持續升值 (C)貧富差距變大 (D)民眾用相同貨幣可以買到更多商品。

16. ( )小新和媽媽逛夜市時看到動感超人模型，就吵著要買，媽媽看到價錢不貴，200元有找，於是拿出500元給老闆支付所購買的東西。請問：媽媽此一支付行為屬於貨幣的哪一項功能？ (A)價值衡量 (B)交易媒介 (C)債務清償 (D)價值儲藏。

17. ( )麥當勞是世界最大的快餐連鎖店。1997年，臺灣成立「財團法人麥當勞叔叔之家慈善基金會」，致力於改善兒童健康及福祉，提供遠地就醫兒童家庭一個「出門在外的家」，透過免費住宿與關懷服務，減緩舟車往返的身心壓力，與減少額外交通住宿的經濟負擔。上述業者善盡社會責任的做法有助於達到下列哪一目的？ (A)創造最大利潤 (B)擴大生產規模 (C)帶動環保觀念 (D)提升企業形象。

18. ( )小咪假日與父母同遊六福村，發現遊樂園賣的飲料比一般的貴，好奇的她詢問爸爸原因。請問：爸爸應如何回答才正確？ (A)園內飲料店家數量多 (B)園內遊客多 (C)品質與服務好 (D)缺乏同類型廠商競爭。

19. ( )下列四位受僱者，何人的表現具有正確的工作態度？ (A)中平經常與同事為了工作多寡而爭吵 (B)明雄利用工作之餘的時間進修，加強專業能力 (C)小胖總是好高騖遠，不滿現狀 (D)美香認為薪水太少，決定罷工向老闆爭取加薪。

20. ( )小菁到百貨公司買衣服，因正值換季拍賣，所有商品一律三折，小菁超出預期的刷卡買了三件，價格分別為250元、450元、300元，共花了1,000元。請問：下列相關敘述，何者正確？ (A)因小菁預期衣服價格下跌，所以一口氣買了三件 (B)信用卡可用來付帳，所以也算是貨幣 (C)刷卡雖然完成交易，但仍須用貨幣支付刷卡費用 (D)一件衣服價格250元，此時「元」代表貨幣價值儲藏的功能。

二、題組：每格2分，共24分

1. 電子化支付是指以非現金之支付工具，包含信用卡、電子票證（如悠遊卡等）、電子支付或第三方支付、轉帳等進行支付，具有提升經濟活動的效率、節省現金支付的處理成本及提高金融透明度等優點，但也有在風險。我國金融服務之基礎設施及服務提供已相對完備，銀行分行密布、自動提款機廣設，加上鈔票防偽技術高，民眾仍習慣以現金支付，造成我國電子化支付比率較鄰近國家為低。因此要如何改變民眾的支付習慣，這是我國推動電子化支付普及首要克服的問題。請問：

( ) (1)根據上文判斷，下列何者不屬於電子化支付方式？ (A)信用卡 (B)一卡通 (C)悠遊卡 (D)紙鈔。

( ) (2)我國推動電子化支付普及的困難點為下列何者？ (A)電子化支付基礎設施不完備 (B)民眾習慣以現金支付 (C)電子化支付風險高 (D)電子化支付成本高。

( ) (3)閱讀上文後，哪位同學對於電子化支付的理解正確？ (A)張主瑜：可提升貨幣價值 (B)陳偉於：我國使用比率為亞洲最低 (C)施木俞：使交易更加便利 (D)王雪好：以信用卡進行支付最沒有風險。

2. 日劇《月薪嬌妻》的劇情描述單身又遭解僱的美栗，被父親介紹到單身上班族平匡家裡工作，擔任居家清潔員。某日美栗突然靈機一動，提議平匡僱用她當太太，一次解決就職的煩惱！於是兩人簽下以「結婚」為名的工作契約，開始了「雇主先生」、「員工妻子」的奇妙關係。隨後兩人從契約關係發展成戀愛，當男主角平匡最終向美栗求婚，並以此為由想取消付給她的月薪時，她提出反對：「這是愛的榨取！」請問：

( ) (1)上文中畫雙底線處，美栗的身分有何變化？ (A)非勞動力→勞動力 (B)未婚→已婚 (C)無形的勞務→有形的財貨 (D)失業者→就業者。

( ) (2)上文末美栗提到：「這是愛的榨取！」是指下列何者？ (A)家務勞動無法計價，應無私奉獻 (B)以愛之名將家務勞動視為無酬勞動 (C)家務是愛的勞動，由女性負責即可 (D)家務勞動本應無償付出。

3. 請閱讀下列文章後，回答問題：

市面上有多種牛奶品牌，鮮乳市場廠商眾多的情況下，有一家小農公司秉持著無成分調整、獸醫現場把關和公平交易的初衷，致力成為消費者與酪農間的橋梁。同時藉消費者的力量，形成各種「善的循環」，除了支持一個產業的改革，該公司更進行獸醫培訓、送愛至偏鄉等計畫。下表為該公司的重要事件：

時間	事件簡介
2015 年	由創辦人暨乳牛獸醫成立。
2018 年	獲得了英國的 SROI 的認證：「每投入 1 元，能產出 4.05 元的社會影響力報酬」。
2019 年	獲選為亞洲唯一米其林指定的乳品合作夥伴。
2020 年	攜手經濟部工業局，推出「全民鮮乳銀行智慧公益服務」，讓消費者可將自己的消費轉成愛心，捐贈至偏鄉等需要關懷的單位。

自 2015 年，該公司總計捐贈了 20 多間育幼院，並長期資助鮮乳補給品給宜蘭、花蓮和臺東等地的棒球隊。在銷貨通路，不僅上架各賣場與超商等知名連鎖店，更於 2020 年推出臺灣首支更容易被人體吸收「酪蛋白鮮乳」。（資料來源：改寫自林芷媛，市面乳品種類多！農委會「2 標章」教你分辨牛奶真偽，新頭殼，2020/07/02。）

( ) (1) 有關小農公司的敘述，下列何者正確？ (A) 所屬商品市場的加入門檻較高 (B) 其市場型態與手搖飲店家相似 (C) 薄利多銷是該公司的主打策略 (D) 酪蛋白鮮乳是普遍常見的產品。

( ) (2) 上文小農公司的作法，最主要是因為鮮乳市場的情況為何？ (A) 廠商多，市場競爭程度高 (B) 對手少，市場競爭程度低 (C) 補助多，市場競爭程度高 (D) 成本低，市場競爭程度低。

( ) (3) 依上文判斷，下列何種競爭方式和小農公司所使用的方式不同？ (A) 控管質量，穩住產品商譽 (B) 研發產品，打開不同通路 (C) 降低售價，吸引顧客消費 (D) 投入公益，擔起社會責任。

4. 全家便利商店被網友票選為 2020 年臺灣前十大對節能減碳、追求永續發展及實踐社會責任有貢獻的企業之一。除了減少溫室氣體的排放，全家也相當重視能源議題，如在電量及水資源上都有監控機制；另外在減廢層面，門市有廢電池換取消費折扣、減塑行動。請問：

( ) (1) 根據上文，全家便利商店獲得網友青睞的主要原因為何？ (A) 商品折扣多 (B) 提供多元化的服務 (C) 善盡企業社會責任 (D) 重視消費者權益。

( ) (2) 上文中畫雙底線的做法有助於達到下列哪一目的？ (A) 提升企業形象 (B) 創造最大利潤 (C) 保障食品安全 (D) 改善就業環境。

( ) (3) 同學在閱讀上文內容後，下列何人的解讀正確？ (A) 佳妃：廠商從事生產只為了賺取利潤 (B) 博謙：商品折扣愈多，購買的數量就愈多 (C) 泳然：針對同一商品消費者只會以價格作為考量 (D) 大智：企業善盡社會責任有助於提升消費者的信任感。

三、填充題：每格2分，共14分

1. 【 】性是貨幣成為交易媒介的重要特性。
2. 廠商製造劣質商品販售或仿冒他人商品，皆會損害【 】的權益。
3. 勞資雙方的權益看似衝突，但卻是相互影響，可以創造【 】的局面。
4. 在我國，美金匯率從 30 上升到 32，代表新臺幣【 】。

5. 廠商之間的競爭方式除了價格競爭外，也有【 】競爭，如超商提供多元化服務吸引更多消費者。
6. 有酬勞動又稱為「【 】勞動」，是指職場上的【 】者，包括雇主與受僱者所提供的勞動。

四、配合題：每格2分，共20分

1. 請依據下列敘述，選出有關「貨幣功能」的答案代號，填入空格中。

(A) 交易媒介 (B) 價值儲藏 (C) 債務清償 (D) 價值衡量

- ( ) (1) 阿妙將壓歲錢存入郵局。
  - ( ) (2) 小美將上次借的 200 元還給大峰。
  - ( ) (3) 阿俊拿出自己的零用錢購買文具。
  - ( ) (4) 百貨公司將商品定價標示出來。
2. 下列敘述為企業對消費者、員工及社會大眾應盡的責任，請選出正確的答案代號，填入空格中。

(A) 消費者 (B) 員工 (C) 社會

- ( ) (1) 提供員工好的薪資待遇。
- ( ) (2) 重視生產過程中對環境的影響。
- ( ) (3) 關懷社會問題，回饋社會。
- ( ) (4) 對消費者的抱怨或投訴負責。
- ( ) (5) 提供完整且正確的產品資訊。
- ( ) (6) 營造健全的升遷管道。

五、簡答題：每格2分，共2分

1. 決決每年都安排至日本旅遊，去年用新臺幣 1 萬元換到 31,652 日圓，但今年用新臺幣 1 萬元只換到 29,188 日圓，這代表新臺幣升值還是貶值？

答：

一、 單一選擇題：每格2分，共40分

- 1.(D)    2.(B)    3.(B)    4.(C)    5.(B)
- 6.(D)    7.(D)    8.(A)    9.(C)    10.(D)
- 11.(A)    12.(B)    13.(C)    14.(D)    15.(A)
- 16.(B)    17.(D)    18.(D)    19.(B)    20.(C)

二、 題組：每格2分，共24分

- 1.(1)(D)；(2)(B)；(3)(C)
- 2.(1)(D)；(2)(B)
- 3.(1)(B)；(2)(A)；(3)(C)；(4)參考答案：消費者購買商品，可支持企業研發對人體有益商品並送愛至偏鄉。
- 4.(1)(C)；(2)(A)；(3)(D)

三、 填充題：每格2分，共14分

- 1.普遍接受
- 2.消費者
- 3.雙贏
- 4.貶值
- 5.非價格
- 6.市場；就業

四、 配合題：每格2分，共20分

- 1.(1)(B)；(2)(C)；(3)(A)；(4)(D)
- 2.(1)(B)；(2)(C)；(3)(C)；(4)(A)；(5)(A)；(6)(B)

五、 簡答題：每格2分，共2分

- 1.貶值。

