

# 高雄市私立正義高中 111 學年度第一學期期末考國三公民與社會科試題

年級：3 班級代碼：1 班(01) 2 班(02) 3 班(03) 科目代碼：06 命題教師：翁崇瀛

## 單選題(每題 2 分)

- 新聞報導：「適逢歲末年終消費旺季，部分銀行為固樁，陸續公布信用卡新年度優惠」，請問下列關於信用卡的敘述，何者正確？  
(A)卡片中餘額不足時將無法交易 (B)信用卡本身就是貨幣  
(C)刷卡後即完成交易，不須另支付法定貨幣 (D)只是延長支付的工具
- 某速食業者推出超值組合商品：麥脆雞腿分享餐 419 元、一打雞腿分享餐 719 元、勁辣香雞翅分享餐 299 元、澎湃美味分享餐 988 元等促銷商品。請問：上述業者的促銷活動可以說明貨幣的何項功能？ (A)交易媒介 (B)價值衡量 (C)價值儲存 (D)債務清償
- 我國中央銀行隸屬於下列何者？  
(A)行政院 (B)立法院 (C)財政部 (D)總統府
- 承上題，下列何者並非中央銀行所能發揮的功能？  
(A)發行法定貨幣 (B)穩定匯率與利率 (C)存放款業務 (D)管理國庫
- 某國家的居民所有的商品及勞務都用香蕉來交換，並用香蕉來計價。根據上述內容，班上四位同學的說法何者最合理？  
(A)錠尹：「該國法定貨幣應該是香蕉。」 (B)逸華：「該國香蕉不具流通性。」  
(C)裕鈞：「該國實施以物易物的方式進行交易。」 (D)凡棋：「該國香蕉產量不會受到管制。」
- 迎接疫情後電子支付浪潮，全家與全聯共同宣布，雙方將實施通路共享的策略結盟，以合作代替競爭，未來「全支付」用戶可拿著自家支付工具到「全盈支付」合作商店付款，反之亦同；合作方向將逐步拓展至日常生活連鎖餐飲、百貨購物、交通等，共同打造以消費者、商家為核心的支付生態圈。請問：電子支付的浪潮說明了貨幣的何項功能？  
(A)交易媒介 (B)價值衡量 (C)價值儲藏 (D)債務清償
- 報載：「南投傳出一名女性公務員請假長達四年，從未出勤卻薪水照領，直到打疫苗時才又現身。行政院人事行政總處強調，該名公務員請的是產假並申請育嬰假留職停薪，長時間未至機關工作，其實符合我國法律規定，不分公私部門均須遵守，且雇主和服務機關不能拒絕。」問：上述文中這部法律應為下列何者？  
(A)性別工作平等法 (B)性別平等教育法 (C)性騷擾防治法 (D)世界人權宣言
- 貨幣價值的高低，是由下列何者來決定？  
(A)貨幣本身的面額大小 (B)貨幣本身的製造材質  
(C)貨幣所能購買的商品數量 (D)貨幣在世界的流通量
- 請問關於「市場勞動」和「家務勞動」的比較，下列敘述何者正確？  
(A)两者的主要差異在於是否有真正付出勞動 (B)市場勞動屬無酬勞動的一種  
(C)若是為他人煮飯洗衣領取工資報酬，便屬市場勞動  
(D)過去家務勞動對社會的價值與貢獻較市場勞動更易獲得重視
- 美洲石油大國委瑞內拉，近年因錯誤經濟政策、政治局勢混亂而深陷通貨膨脹危機，前年通膨率高達 200,000%。請問：在委瑞內拉會看到下列何種情況？  
(A)貨幣升值、物價上漲 (B)國民整體儲蓄率提高  
(C)公務人員所得固定，生活水準將降低 (D)同樣的錢能購買的商品數量較以往多

11. 近年來，中國興起「第三方支付」的金融科技，即是甲向乙購買商品，甲先把錢交給丙，等到乙的東西送到且沒問題後，丙再給乙錢。第三方支付的使用，是邁入無現金交易的重要工具。根據上述內容，下列何者對「第三方支付」的敘述最為正確？

- (A) 又稱塑膠貨幣，屬於先消費後付款的支付工具
- (B) 透過無現金交易，可增加交易活動上的便利性
- (C) 在中國已成為法定貨幣，由政府控管發行
- (D) 屬於貨幣的一種，可視為新興的支付工具

12. 阿亘和小佑相約去看電影，兩人各自（甲）花費 250 元。之後他們去逛書店，小佑本來想（乙）以現金 300 元買該電影原著，阿亘則建議小佑（丙）以刷卡方式購買，既有優惠又可先享受後付款。小佑認為這樣可以（丁）省下一點錢來儲蓄，於是接受了此項建議。依據上述內容，下列關於貨幣功能的對應關係，何者最正確？

- (A) 甲具有交易媒介性質
- (B) 乙屬價值儲存的方式
- (C) 丙可以衡量商品價值
- (D) 丁展現延期償債特性

13. 下表是美金與日圓兌換新臺幣的匯率，根據表中內容，下列敘述何者正確？

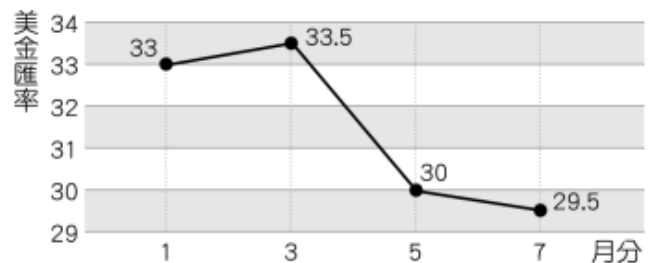
	9/1	9/2	9/3	9/4
美金	30	29.5	28.6	27.8
日圓	0.241	0.243	0.248	0.25

- (A) 美金持續升值，臺灣進口商成本降低
- (B) 日圓持續貶值，赴日旅遊旅費增加
- (C) 相同的新臺幣在 9/4 可以兌換最多日圓
- (D) 在 9/1 拋售美金，可以兌換最多新臺幣

14. 被視為電子貨幣的比特幣(Bitcoin)目前尚因哪些貨幣功能不足而未廣泛使用？

- (A) 交易媒介
- (B) 價值儲藏
- (C) 交易媒介和債務清償
- (D) 價值衡量和價值儲藏

15. 新冠病毒在美國持續蔓延，在美國工作的阿學打算辭掉工作暫時回臺灣定居，他打算將身上持有的美金換回新臺幣。根據右圖中美金匯率的走勢判斷(例：美金匯率 34 代表 34 新臺幣可以換 1 美金)，阿學應該選擇幾月回臺灣最划算？



- (A) 1 月
- (B) 3 月
- (C) 5 月
- (D) 7 月

16. 某社會運動者回顧近 20 年該國勞工運動發展時說：「... 早年很多公司薪水超低、工時超長，所以大家當時努力推立法保障基本勞動條件。後來覺得，每個工作環境要爭取的保障其實不全然一樣，重點應該是讓勞工表達需求，所以我們就推勞工自行組織、討論，向資方爭取權益」。若僅依據此口述史推論，下列何者最可能是該國晚近勞運訴求？

- (A) 推動勞權教育鼓勵勞工加入工會
- (B) 透過修法提高勞工基本工資保障
- (C) 爭取媒體報導支持讓工人文化發聲
- (D) 倡議立法增加國會的勞工代表比例

17. 俄烏戰爭發生後，俄羅斯面對西方國家經濟制裁，盧布一度大幅貶值。俄國央行在今年 2 月底調升利率，由原本 9.5% 一口氣調升至 20%。下列何者最能解釋俄國央行所採取之政策原理及目的？

- (A) 利率上升減少貨幣供給，以求維持穩定的物價
- (B) 利率上升增加可貸資金，以刺激廠商投資意願
- (C) 實施寬鬆的貨幣政策，以滿足民眾的現金需求
- (D) 設定利率的價格下限，解決市場現金短缺問題

- 18.在只有甲、乙兩國的世界中，已知甲國是手機的出口國，乙國是手機的進口國。當甲國國內對手機的需求提高時，在不影響原有進出口的型態下，下列何者正確？
- (A)甲國手機的出口供給減少 (B)乙國手機的進口需求上升  
(C)國際間手機的交易數量上升 (D)國際間手機的交易價格下降

19.痛苦指數(Misery index)是指？

- (A)實質利率加通膨率 (B)失業率加通膨率 (C)匯率加通膨率 (D)稅率加失業率

20.阿竣是個熱愛自助旅行的背包客，某日他和其他三位旅伴討論用新臺幣訂機票與換美金旅費的心得如右表，他說：「還好我是在這個月訂的機票，當時匯率還不錯，我也換了 1,000 美金作為旅費，所以我的花費是四人當中最底的。」假設這四人的花費皆只有機票錢以及旅費；在其他條件不變的情況下，阿竣訂機票與換旅費應是在哪一月份？

	機票費用/一人(新臺幣)	匯率
		美：臺
9月	13,000元	1：29.5
10月	12,800元	1：29.6
11月	12,500元	1：30.8
12月	12,300元	1：31.2

- (A) 9月 (B) 10月 (C) 11月 (D) 12月

21.第一次世界大戰結束，戰勝國要求德國負擔價值 10 萬噸黃金的鉅額賠款，德國政府遂大量印製紙鈔支付。下列何種場景「最不可能」在當時的德國境內出現？

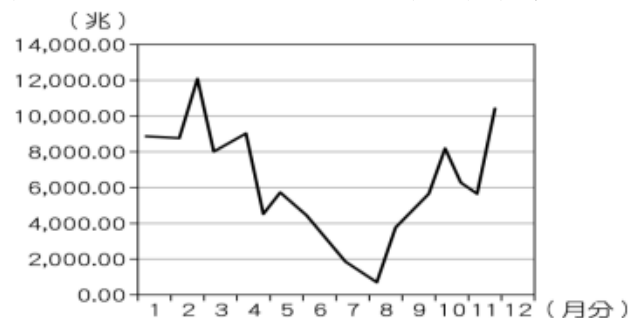
- (A)珠寶、房地產的銷售數量大幅上升 (B)街頭散落大疊紙鈔，路人卻視而不見  
(C)到餐廳消費的人會在點餐後馬上結帳 (D)大批民眾突然湧向銀行想要存入現金

22.下列關於童工之敘述，何者正確？

- (A)十五歲以上未滿十八歲之受僱從事工作者，為童工  
(B)童工及十六歲以上未滿十八歲之人，不得從事危險性或有害性之工作，  
(C)童工每日之工作時間不得超過八小時，例假日不得工作，但得其法定代理人之同意並經主管機關核可者，不在此限  
(D)童工不得於午後八時至翌晨六時之時間內工作，但得其法定代理人之同意並經主管機關核可者，不在此限

23.右圖為正義國今年各個月分法定貨幣發行數量的統計圖。請問：正義國可能發生下列何種狀況？

- (A)人民所得增加  
(B)國內物價不穩定  
(C)貨幣購買力增加  
(D)經濟成長先下滑之後再上升



24.小琦假日參加勞動局舉辦的工作坊，邀請講師與民眾互動，右圖為演講者的簡報之一。請問：此頁簡報內容的標題應為下列何者？

- (A)市場勞動的重要性 (B)無酬勞動的價值  
(C)勞動市場的變化 (D)勞動成果的展現



25.右表是甲、乙兩國匯率變動的情形，以進口乙國可可原料為主的甲國巧克力業者，看到此變化後感到很憂心。根據表中內容判斷，若甲國物價水準維持不變，下列何者最可能是上述業者的憂慮？

- (A)甲國巧克力業者經營成本提高
- (B)乙國採收可可的工人平均薪資所得減少
- (C)甲國巧克力產量大幅增加
- (D)乙國出口可可到甲國的數量上升

時間	1甲幣可兌換的乙幣
去年	20
今年	10

26.身為在校園服務之諮商師，某科系行政助教甲在晤談中向你(妳)抱怨被人性騷擾的不滿。在法令適用的判斷上，下列敘述何者錯誤？

- (A)當甲是被本系辦公室另一名助教騷擾時，適用性別工作平等法
- (B)當甲是被本校他系的學生騷擾時，適用性別平等教育法
- (C)當甲是在前往他校找朋友而被他校職員騷擾時，適用性騷擾防治法
- (D)當甲是被來本校洽詢事務之他校學生騷擾時，適用性騷擾防治法

27.隨著金融發展與科技進步，大眾逐步從實體貨幣、信用卡等，改以如臺灣 Pay 之行動支付來完成交易。這不但讓交易的方便性大為提高，也讓大眾持有實體貨幣的需要下滑。以下有關上述各交易工具對總體經濟影響的敘述何者正確？

- (A)行動支付列入貨幣發行數量計算範圍，故後者會因前者的廣泛使用而提高
- (B)通貨膨脹會隨信用卡、行動支付等非實體貨幣交易媒介之使用盛行而上升
- (C)利率為資金之機會成本，其水準會隨這些交易工具使用方便性提高而下降
- (D)讓交易便利之工具愈普及，可促進消費、經濟發展，亦有助政府稅收課徵

28.阿晴在一家貿易公司工作了五年，她在結婚生小孩後，考慮托嬰費用太高，決定辭職在家帶小孩，當全職家庭主婦。請從「勞動的意義與參與」的觀點分析下列敘述何者正確？

- (A)依據失業率的定義，婚後辭職專心育兒的阿芳將被視為失業人口
- (B)在家帶小孩此種家務勞動性別化的現象，是社會分工的自然趨勢
- (C)阿芳在家帶小孩並未賺取實質報酬，因此無助於社會的生產活動
- (D)政府若能提供完善的托育政策，則有助於國內勞動參與率的提升

29.每到年底，許多企業要發年終獎金，所以從銀行提領大量現金發放給員工；而到過完年後，許多員工也會將尚未花完的獎金，再度存回銀行。請問：依據上文，從年底到過完年後可貸資金市場上的利率，會出現何種變化？

- (A)先上升後下降
- (B)先下降後上升
- (C)持續維持上升
- (D)持續維持下降

30.附表是某國近 5 年來的消費者物價指數統計表，該指數反映該時期商品價格水準的變動情況。依據表中數據判斷，下列何者最能反映該國最近一年的經濟狀況？

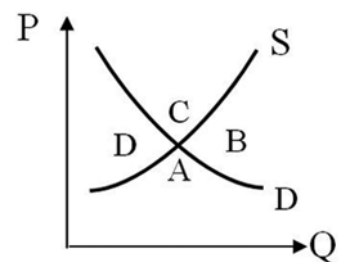
- (A)人民實質所得提高
- (B)人民儲蓄意願降低
- (C)經濟活動趨於停滯
- (D)對領固定薪水的公務員有利

年度	消費者物價指數
2015	100
2016	500
2017	2000
2018	5000
2019	9000

31.《消費者保護法》第 19 條保障消費者在特定類型的買賣下，有七天的猶豫期，可無條件退貨。請問下列何種商品的消費者，受到《消費者保護法》猶豫期間的保障？

- (A)商圈服飾店購買的衣服
- (B)付費下載使用的手機 APP
- (C)透過蝦皮購物所買的拉拉山水蜜桃
- (D)電視購物頻道訂購的 iphone 14

- 32.阿穎在精品店買了一組咖啡杯，按標價結帳後，繼續在店中觀賞商品時，發現另一位顧客購買同組咖啡杯，店員給予 8 折優惠。阿穎即向店員表達不滿，認為自己未受到公平待遇，並表示：如果沒有合理交待，他要向消保官申訴。關於阿穎與精品店的這筆交易的法律評論，下列敘述何者正確？
- (A)按照消費者保護法，阿穎可以主張店家資訊不透明，要求解約  
 (B)按照契約自由原則，店家有權選擇要跟哪些顧客達成優惠交易  
 (C)同一商家就同一商品以不同價格販售，違反公平交易法的規定  
 (D)消保官若接獲申訴，應調查店家是否違反平等原則以決定處分
- 33.全臺便利商店數量接近 1 萬 2 千家，密度更是世界排名第二，僅次於南韓。請問就市場競爭的型態判斷，便利商店是屬於？
- (A)完全競爭市場 (B)獨佔市場 (C)獨占性競爭市場 (D)寡占市場
- 34.阿芳原本有一份月薪 35000 元的工作，請保母帶孩子每月花 20000 元，往返公司的交通費每月要 5000 元。現在她決定辭去工作在家自己照顧小孩，並且當保母再帶一個鄰居的小孩，月拿 18000 元。下列對阿芳原本工作機會成本的敘述，何者正確？
- (A)外顯成本是 20000 元 (B)隱藏成本是 23000 元  
 (C)外顯成本是 25000 元 (D)機會成本是 38000 元
- 35.某學者提出解決少子化的看法，他認為想提高生育率不能單靠政府一直加碼的補助津貼，應先提供便利的居住環境，如充足的托育機構，讓父母上班時不用擔心小孩的去處，如此較會吸引想生孩子的年輕人在此「落地」，這樣自然就願意在此「生根」，孕育出下一代。針對上述誘因的分析，何者符合學者提出的看法？
- (A)政府推動金錢誘因將能大幅提升生育率 (B)年輕人生育考量的因素以金錢誘因為主  
 (C)社會充斥著過多的負向誘因導致少子化 (D)非金錢的誘因對提高生育率有重要影響
- 36.16 世紀時，荷蘭的園藝學家培育出橘色的胡蘿蔔，以向荷蘭皇室奧蘭治家族致敬。該品種後來所向披靡，並成為胡蘿蔔的主流品種，原始的紫色品種反而較難被消費者接受。下列敘述何者可以說明前述現象？
- (A)橘色胡蘿蔔的市場供需失衡 (B)政府干預導致紫色胡蘿蔔價格下跌  
 (C)生產者對於紫色胡蘿蔔的供給減少 (D)消費者對於紫色胡蘿蔔的需求減少
- 37.早期人們所需蔗糖只能從甘蔗中獲得，因甘蔗屬熱帶作物，19 世紀初整個歐洲的蔗糖幾乎都由英屬西印度群島供應；但自從 1747 年普魯士化學家馬格拉夫在甜菜中成功提煉出蔗糖後，加上英國因拿破崙進而決定對歐洲實施海禁政策等影響，使甜菜成為蔗糖的替代作物，自此高緯度地區也能生產蔗糖。假設甘蔗及甜菜製作的蔗糖沒有差異，當歐洲各國紛紛設廠生產蔗糖，則對蔗糖的國際市場及勞動市場的影響為何？
- (A)國際蔗糖市場的供給曲線逐漸向右移動 (B)英屬西印度群島的甘蔗田就業機會增加  
 (C)隨著蔗糖大量生產，價格亦逐漸上漲 (D)英國製糖工廠的勞動需求減少
- 38.日月潭在 228 連假假期中被遊客塞爆，著名的日月潭南邊玄光寺旁的阿婆茶葉蛋的鄒阿婆說：「即使供應的數量比平常多 1 倍，仍全部銷售一空」，晚來者只能投以「望穿秋水，不見茶葉蛋，潸潸淚似麻」的心情。請問：這種茶葉蛋缺貨的現象，會出現在附圖中的哪段區域內？
- (A) A 區域 (B) B 區域 (C) C 區域 (D) D 區域



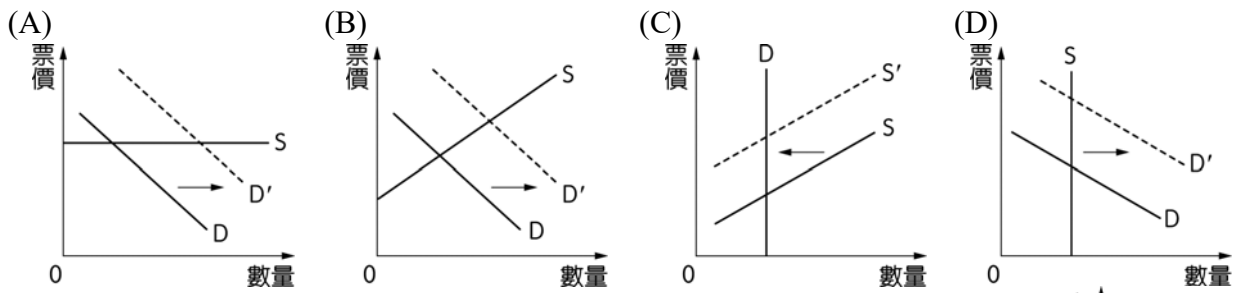
39.阿雅在夜市租了一個店面開設小吃店，她由家裡搬來 1 套桌椅，並添購 5 套桌椅。每個週末，她在大學讀企業管理的姐姐也會到店裡幫忙。請問：下列有關阿雅開店過程中相關生產要素的敘述，哪項是正確的？

- (A)所承租的店面屬於土地 (B)由家裡搬來的桌椅屬於資本  
(C)阿雅對小吃口味的更新屬於勞動 (D)阿雅的姐姐週末付出的時間屬於企業能力

40.某連鎖蔬食餐廳即將在一個人口不多的小鎮開幕，試營運期間，每天下午 2、3 點餐廳門口的人潮依舊絡繹不絕，小鎮難得的景象引起當地媒體關注。下列取自記者採訪內容的敘述，何者最符合「需求法則」？

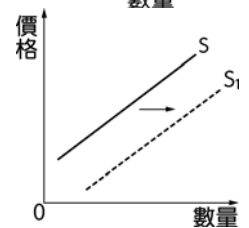
- (A)店長表示，餐館進駐小鎮，希望能帶起小鎮居民食用蔬食的風潮  
(B)記者發現，店家試營運期間全部降價 50 元，可見店家的降價優惠吸引許多人光臨  
(C)民眾黃先生說，在這裡難得有連鎖餐廳，想來嚐鮮  
(D)民眾陳小姐提到，最近領到獎金，所以帶著家人到連鎖餐廳用餐

41.2016 年球季開打前，職棒好手陳金鋒宣布，該年球季打完就退休，在 Lamigo 球團宣傳下，所有球迷都知道 9 月 18 日為陳金鋒最後一場球賽。但桃園球場座位有限的情況下，觀眾擠爆球場。依經濟學原理解釋，請選出符合題意的供需示意圖



42.假設右圖為 2020 年初，國際石油的供給變化，則其可能原因為以下何者？

- (A)美國石油開採成本過高  
(B) OPEC 和俄羅斯減產談判破裂，沙烏地阿拉伯發起油價戰  
(C)特斯拉引領風潮，電動車崛起 (D)疫情爆發，各國工廠陸續停工

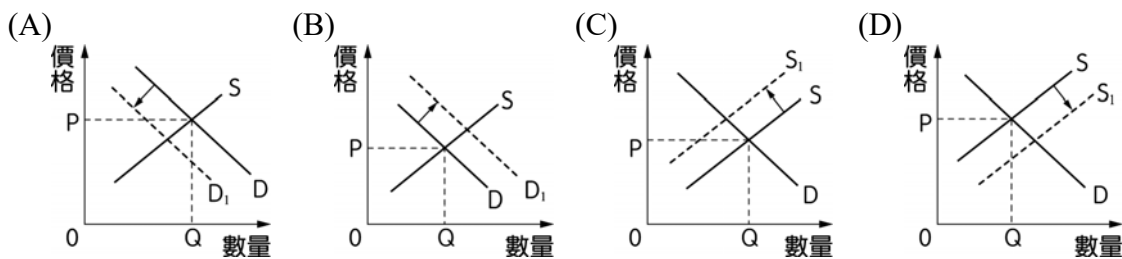


43.某機關希望縮短使用者的停車時間，提高停車場車位的流動率，使車位能讓更多洽公民眾使用，因此設計新的停車費率，如右表所示。該機關設定表中停車費率所運用的經濟學概念，與下列何者最不符合？

停車時間	收費金額
30 分鐘內離場	0 元
第一個小時	40 元
第二個小時起	每小時 100 元

- (A)慶祝擴大營業，全店半價促銷 (B)高麗菜價格下跌，種植的農民變少  
(C)周年慶大出清，加一元多一件 (D)因應枯水期間，調高泳池水費

44.某電子公司違法將強酸排入溝渠並對河川造成嚴重汙染，政府給予開單重罰，並要求該公司必須處理汙染問題，則該電子公司的供給需求曲線圖，將會產生下列何種變化？



45.某知名網路百貨把原價 2,580 元的長褲，錯標成 1 元，致使一名消費者誤認為促銷活動，立即購買 2 件長褲，並線上刷卡付費。事後，業者坦承標價錯誤，片面解除該訂單並拒絕出貨，讓消費者直呼不合理。消保官表示，此案消費者非惡意大量訂購，業者應依約出貨。關於消費者透過網路購買商品的行為，下列敘述何者正確？

- (A)屬於新型態的買賣行為，受《公平交易法》的保障
- (B)屬於消費者未能檢視商品而與商家所為之訪問交易
- (C)消費者不滿意該商品，可於收受商品後 7 日內退還
- (D)若消費者不滿意商品欲退貨，須說明理由並付郵資

46.某新款智慧型手機上市引起排隊購買潮。若此手機售價為 10,000 元，甲心中最高願意支付 3,000 元託人排隊代買，經與有意代買之乙、丙商討，最後由乙收取甲代買費用 1,000 元，為甲購得此手機。請問以下有關機會成本的設算，何者正確？

- (A)甲購買此智慧型手機的機會成本為 13,000 元
- (B)乙為人排隊代買手機之機會成本為 2,000 元
- (C)丙為人排隊代買手機之機會成本大於 4,000 元
- (D)甲自己排隊買手機之機會成本至少高於 3,000 元

47.為追求人生的第一個一百萬儲蓄，時薪 300 元的小軒每餐固定支出 80 元，某日因看病請小桓代班 3 小時，看病診費用為 200 元，其中 100 元由保險給付。事後小軒請小桓 250 元商業午餐作為答謝，自己同時也吃了一客。請問小軒此次看病的機會成本為多少？

- (A) 1350 元
- (B) 1420 元
- (C) 1500 元
- (D) 1600 元

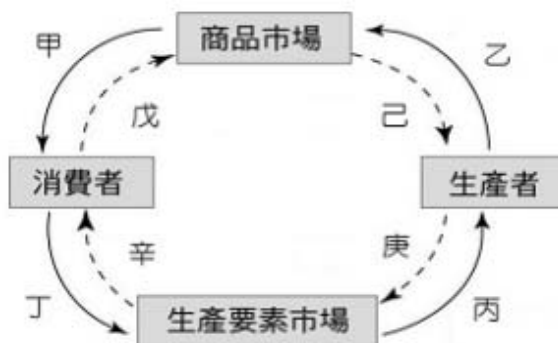
48.某連鎖飲料店取得日本知名漫畫授權，推出多款經典人物主題杯款，吸引許多民眾消費。請問依經濟學觀點，消費者的消費行為與下列何者相同？

- (A)GOGO 百貨周年慶，全館 5 折起，民眾擠爆現場
- (B)咖啡第 2 杯半價，銷售爆量
- (C)百貨專櫃邀藝人擔任一日店長，使買氣大幅成長
- (D)汽車的價格上漲，使汽油的需求減少

請根據右圖，回答 49~50 題：

49.韓國科技媒體報導，因為疫情關係，工廠復工進度比預料中緩慢，以前通常三星每個月會生產約 2500 萬支手機，現在生產量下調到 1000 萬支。多數市場調查公司認為，今年全球手機出貨量將下降 10%，請判斷上列敘述是屬於右圖中的哪一部分出現了狀況？

- (A)甲
- (B)乙
- (C)丙
- (D)丁



50.104 人力銀行發現，這次在新冠肺炎疫情的影響下，新鮮人的就業情勢並沒有比 2008 年金融海嘯的衝擊大，很快的市場上工作數在觸底後又快速回彈，顯示就業市場仍有榮景。請判斷勞動就業市場是屬於上圖中的哪一環節？ (A)商品市場 (B)消費者 (C)生產要素市場 (D)生產者

111 上國三期末考 公民第 1~6 單元									
1.	D	2.	B	3.	A	4.	C	5.	C
6.	A	7.	A	8.	C	9.	C	10.	C
11.	B	12.	A	13.	D	14.	D	15.	B
16.	A	17.	A	18.	A	19.	B	20.	B
21.	D	22.	B	23.	B	24.	A	25.	A
26.	D	27.	D	28.	D	29.	A	30.	B
31.	D	32.	B	33.	D	34.	C	35.	D
36.	D	37.	D	38.	A	39.	A	40.	B
41.	D	42.	B	43.	B	44.	C	45.	C
46.	D	47.	B	48.	C	49.	B	50.	C