

劃卡說明：年級【2】·班級 1 班請填【4】 2 班請填【5】 3 班請填【6】
科目【09】·組別國中部【04】·座號即個人座號

一、單題(每題兩分，共 80 分)



1. ()商朝為中國歷史上第二個朝代，歷史相當悠久，成立在西元前 1700 年。附圖為該朝代的主要都市分布圖。請問：當時從事農業耕作時，主要依賴哪一個風向所帶來的水氣？(A)東北風 (B)西南風 (C)西北風 (D)東南風。

2. ()中國境內四個不同地區的地形、氣候及國際貿易額等相關資料如附表所示，請根據表中數據加以判斷，何處最可能移入大量人口？
(A)甲地 (B)乙地 (C)丙地 (D)丁地。

	地形	氣候	國際貿易額 (億美元)
甲地	平原	溫帶季風	3,774
乙地	高原	熱帶季風	2,458
丙地	盆地	溫帶草原	985
丁地	平原	副熱帶季風	6,821

3. ()新聞報導：「2015 年，中國約有 1,300 萬人口沒有戶口，成為俗稱的『黑戶』。根據調查顯示，這些黑戶中 60% 以上是超生人口，在當時國家的人口政策下，父母怕被罰而未申報戶口，結果導致日後這些人無法就學及外出工作等社會問題。」請問：新聞中造成「黑戶」的人口政策最可能為下列何者？
(A)普及教育 (B)一胎化政策 (C)經濟改革開放 (D)設置少數民族自治區。

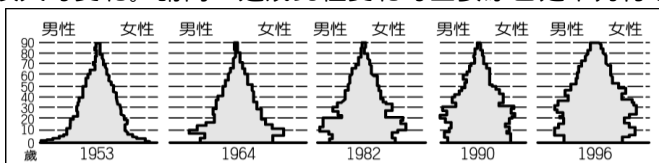
4. ()中國的季風氣候受到海洋與陸地高低氣壓變化的影響，形成不同的氣候特色。就中國所在的亞洲大陸而言，有關各季節氣壓分布的狀況，下列何者正確？ (A)夏季時高氣壓中心位於蒙古一帶 (B)冬季時高氣壓中心位於太平洋 (C)降水季時高氣壓中心位於印度洋 (D)乾季時高氣壓中心位於太平洋。

5. ()中國的降水特性受到地理位置及地形的影響，在時間和空間分布上有所差異。請問以下四位同學整理有關中國降水時空分布的特性，誰的正確？(A)真希 (B)真依 (C)直哉 (D)甚爾。

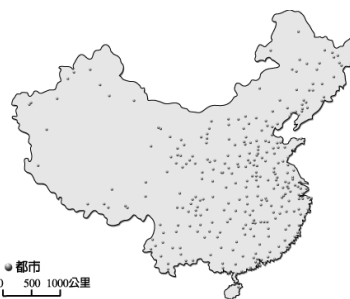
同學	真希	真依	直哉	甚爾
降水 時間	四季 有雨	夏雨 冬乾	夏乾 冬雨	夏雨 冬乾
降水 空間	西南多 東北少	西南多 東北少	東南多 西北少	東南多 西北少

6. ()夏教主參加「中國神州八日遊」的旅行團，一行人由珠江三角洲往北出發，經過了華北平原後，抵達東北地區。請問他沿途經歷的氣候類型依序為何？ (A)熱帶氣候、溫帶氣候、寒帶氣候 (B)熱帶氣候、副熱帶氣候、溫帶氣候 (C)副熱帶氣候、溫帶氣候、寒帶氣候 (D)溫帶氣候、副熱帶氣候、熱帶氣候。
7. ()艾主席從地圖中發現中國南北距離大，約由北緯 18 度至北緯 53 度，亦造成中國自然環境的差異。請問中國南北距離大對下列哪兩種氣候類型的分布影響最明顯？ (A)高地氣候、乾燥氣候 (B)高地氣候、季風氣候 (C)乾燥氣候、季風氣候 (D)熱帶氣候、溫帶氣候。

8. () 中國西半部人口主要集中在綠洲與河谷地帶，形成這種現象是因為上述地帶具有何項特徵？(A)水源豐富 (B)平原廣闊 (C)風力強盛 (D)礦產豐富。
9. () 中國的地勢依其起伏可分為三級階梯，其中最西側的地勢階梯多為哪些地形的分布？(A)高原、山地 (B)高原、平原 (C)山地、丘陵 (D)平原、丘陵。
10. () 附圖為顯示中國人口年齡結構變化的人口金字塔圖。從圖中可以看出自 1950 年來，該地人口金字塔出現很大的變化。請問：造成此種變化的主要原因是下列何者？

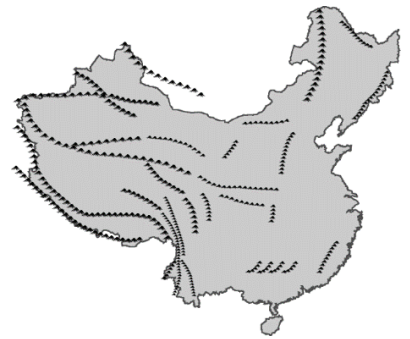


- (A)人口密度增加 (B)推行一胎化政策 (C)人口大量移入都市 (D)人口總數急遽增長。
11. () 中國政府在 2004 年逐漸開放計畫生育政策的限制，甚至在都市地區還鼓勵生育。中國政府政策大轉變的主要原因為何？(A)死亡率漸高 (B)教育程度不佳 (C)勞動力漸少 (D)消費市場萎縮。
12. () 中國的少數民族藏族，主要分布於青藏高原上，有關於青藏高原的描述，下列何者有誤？(A)地勢高聳 (B)夏季溫度較同緯度其他地區低 (C)氣溫與植被隨高度呈垂直變化 (D)位在中國三大氣候區的乾燥氣候區中。
13. () 托克遜縣當地年降水量僅 5.9mm，為中國降水量最少的地區。由右圖托克遜縣的所在位置推估，當地乾燥少雨的原因最主要為下列何者？(A)地處高緯 (B)距海遙遠 (C)地勢高峻 (D)河川流向。
14. () 中國在 1950-1980 年間，對一月月均溫低於零度的區域施行免費供沒取暖政策，卻造成嚴重空氣汙染，影響當地居民健康。該政策實際供煤的區域，大致以下列哪條河流危及南界？(A)淮河 (B)黃河 (C)長江 (D)珠江。
15. () 中國主要的都市分布如右圖所示，若依其位置加以判斷，多分布於下列哪一種地形區？(A)高原 (B)山地 (C)盆地 (D)平原。
16. () 下圖為中國某地區的傳統居住形式，其形成原因主要與當地氣候條件有關。請問：下列何者可能為影響當地居住形式的氣候因素？



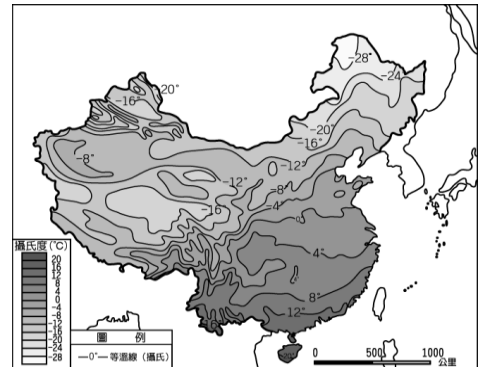
- 條件有關。請問：下列何者可能為影響當地居住形式的氣候因素？
- (A)氣溫高低
- (B)降水量多寡
- (C)風力強弱
- (D)日照時間。

17. () 中國山脈的走向，受到板塊擠壓方向不同而呈現空間差異，山脈走向會對當地的氣候與交通運輸產生影響。請問：附圖為中國山脈走向圖，影響圖中西部山脈形成的主因為下列何者？(A)歐亞板塊擠壓太平洋板塊 (B)印澳板塊擠壓歐亞板塊 (C)印澳板塊擠壓太平洋板塊 (D)歐亞板塊擠壓菲律賓海板塊



18. () 全球受太陽輻射角度的影響，各地氣候出現差異。請問：當夏季太陽直射北半球時，對中國何種氣候現象的影響最大？(A)各地普遍高溫 (B)各地降水量減少 (C)各地氣溫涼爽 (D)各地轉吹陸風。

19. () 中國疆域遼闊，各地氣溫皆不同，右圖為中國的一月月均溫等溫線圖，由圖可知影響中國東半部冬季氣溫的主要因素為何？(A)地勢高低 (B)緯度高低 (C)距海遠近 (D)季風風向。



20. () 這個位於長江上游的盆地因為土壤肥沃，能種植出多樣作物被稱為「天府之國」，走一趟該地會看見許多炎山關建的梯田，請問上述盆地應為下列何者？(A)四川盆地 (B)柴達木盆地 (C)塔里木盆地 (D)準噶爾盆地。

21. () 中國南部地區常見到騎樓或高腳屋，這種建築分布和該地區何種氣候特徵關係最大？(A)年溫差大 (B)風向多變 (C)多雨潮濕 (D)冬季溫暖。

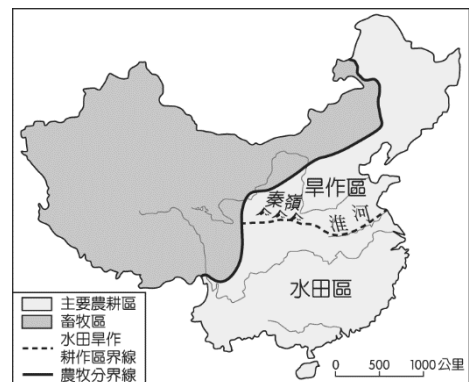
22. () 中國的面積相當廣大，約和歐洲的面積相似，因此氣候類型隨各地地理條件而異，呈現多樣化的特色。下列哪一個地理區因受位置影響，夏季季風無法到達，而形成乾燥氣候的分布特色？(A)東北平原 (B)橫斷山脈 (C)塔里木盆地 (D)珠江三角洲。

23. () 每年冬季時，中國東北地區的吉林出現霧凇，優美的景象為當地帶來不少的觀光客。請問：當地冬季嚴寒的主要影響因素為下列何者？(A)緯度高 (B)地勢高 (C)風力強 (D)降水量多。

24. () 早期中國人口主要集中在北方，後來部分人民逐漸向南遷移。造成當時南方人口逐漸增多的因素，不包括下列何者？(A)文化、政治重心所在 (B)農田開墾面積日增 (C)氣候較適宜農耕 (D)移民帶來農耕技術。

25. () 中國以農立國，然而受到自然環境的影響，形成附圖中的作物分布狀況。請問：其中造成水田、旱田等分布差異的主要影響因素為何？(A)地勢高低 (B)降水量多寡 (C)港口位置 (D)盛行風向。

26. () 中國興建長江三峽大壩後，四川盆地的河運交通可直通上海，重要性倍增。請問：該盆地位於哪一階地形中？(A)高階梯地形 (B)中階梯地形 (C)低階梯地形 (D)沿海離島區。



27. () 根據附圖中兩篇新聞快訊，中國接連兩天發生強大地震。請問：地震與下列哪一組板塊的關係最密切？

(A) 歐亞板塊、太平洋板塊

(B) 歐亞板塊、印澳板塊

(C) 印澳板塊、太平洋板塊 (D) 歐亞板塊、菲律賓海板塊。

新聞快報

2017年8月8日
四川九寨溝晚間9點19分發生芮氏規模7.0強震，目前已造成19人死亡、247人受傷。

新聞快報

2017年8月9日
早上7點27分，在新疆精河縣附近發生6.6級左右地震，震源深度僅11公里。烏魯木齊感覺震動劇烈。

28. () 中國陸地面積廣大，又面臨浩瀚的太平洋，因此形成廣大的季風氣候區。請問：季風氣候因具有下列哪一種特色而得名？ (A) 季節交換風向變化 (B) 季節交換風力變化 (C) 季節交換風速變化 (D) 季節交換降水量變化。

29. () 人口分布受到環境負載力高低的影響，附中何種條件下環境負載力較高，因此人口眾多？(A) 甲 (B) 乙 (C) 丙 (D) 丁。

	甲	乙	丙	丁
地形	高原	山地	平原	盆地
氣候	晴朗 高溫	垂直 變化	溫暖 溼潤	炎熱 乾燥

30. () 季風氣候區以秦嶺、淮河為界，受降水量差異影響，南北出現不同的生活方式，下列哪位同學的筆記最為正確？

同學	(A) 碳志郎	(B) 善意	(C) 豬之助	(D) 米豆子
標題	一月月均溫	農業景觀	飲食習慣	交通方式
以北	$>0^{\circ}\text{C}$	多旱田	多食稻米	善於駕船
以南	$<0^{\circ}\text{C}$	多水田	多食小麥	善於騎馬

31. () 中國自實施一胎化政策後，對於人口數量的影響相當明顯。附圖為中國自1980年以來的出生率、死亡率、自然增加率統計圖，請問：圖中甲、乙、丙線段依序代表哪一種人口變化曲線？

(A) 甲—出生率、乙—死亡率、丙—自然增加率

(B) 甲—出生率、乙—自然增加率、丙—死亡率

(C) 甲—死亡率、乙—出生率、丙—自然增加率

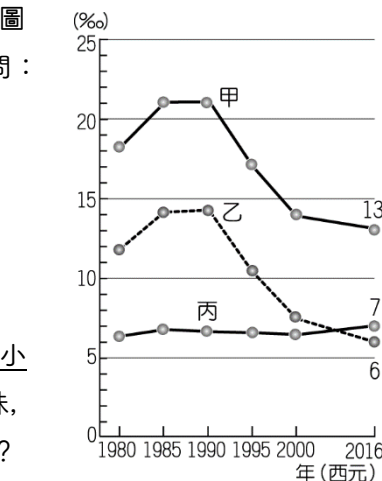
(D) 甲—自然增加率、乙—出生率、丙—死亡率。

32. () 王家為世居江蘇的大家族，為四代同堂的大家庭。輩分最小的小澐發現她的曾祖父母共有10個兄妹，父母那一代也有4個兄弟姊妹，而小澐卻是這一代唯一的小孩。上述現象將形成下列何種人口問題？

(A) 扶養比提高、負擔漸重 (B) 幼年人口增加、勞力不足 (C)


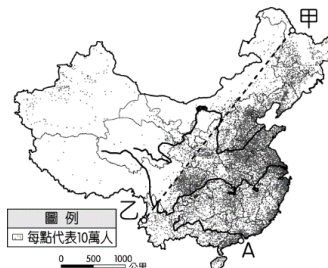
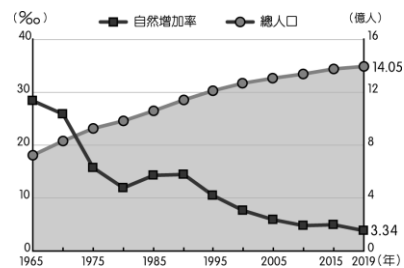
人口素質降低、結構不佳 (D) 性別比不均、重男輕女。

33. () 附圖為世界最高峰——喜馬拉雅山的成因示意圖，請問：甲板塊應該為下列何者？(A) 歐亞板塊 (B) 太平洋板塊 (C) 印澳板塊 (D) 菲律賓海板塊。



34. () 中國的西半部，擁有57%國土面積，卻只有6%的人口。這呈現出當地的哪一種人口特色？(A) 人口總數少 (B) 人口密度小 (C) 人口素質低 (D) 自然增加少。

35. () 中國人口在清代中後期快速增加，右圖為中國人口數統計圖，圖中自然增加率的曲線變化與何種因素相關？(A) 一胎化政策 (B) 醫療進步 (C) 戰爭頻繁 (D) 鼓勵生育。
36. () 中國人口達 14 億，為目前世界人口最多的國家。然而受到自然環境條件及經濟發展的差異，形成人口分布不均的特色。附圖為中國人口分布圖，圖中甲、乙兩地連線剛好成為人口疏密的分界線。請問：造成這種現象的主要原因，不包括下列何者？(A) 地勢高低 (B) 降水量多寡 (C) 面積大小 (D) 交通發展
37. () 中國各地因自然環境的不同，衍生出各類的特色建築以適應當地氣候，下列哪種建築最不適合建在潮溼多雨的環境？



38. () 約兒觀察中國的地形分布，發現某地區的地形是以圖(一)中這種等高線圖地形為主。請問：她最可能正在觀察圖(二)中的哪一個地區？



(A) 甲 (B) 乙 (C) 丙 (D) 丁。

39. () 中國拍攝戰爭史詩電影《長平大戰之麥田》，背景設定為戰國時期趙國與秦國的戰役，劇中出現最多的場景便是麥田，劇組若想找到大規模的麥田來作為取景地點，最可能前往圖(二)中何處尋找？(A) 甲 (B) 乙 (C) 丙 (D) 丁。
40. () 關於以下四個政策宣導標語，它們出現的時間順序應該為何？(A) 甲乙丙 (B) 甲丙乙 (C) 乙丙甲 (D) 乙甲丙。

甲、



乙、

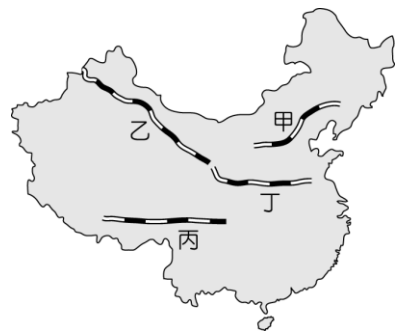


丙、

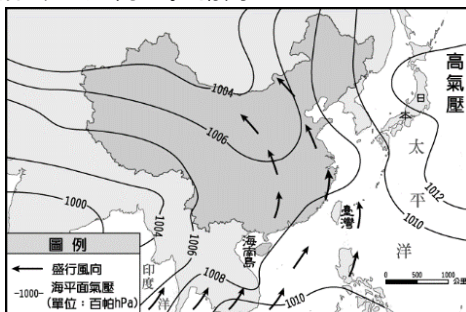


二、題組(每題兩分，共 20 分)

1. 交通為經濟發展的重要命脈，藉由各項交通建設的發展將有利於人力及貨物的互通有無，促進經濟發展。然而由於中國境內的面積廣大，地形多元複雜，因此各項交通工具必須適應當地環境來發展。除了傳統的水運外，鐵路一直以來是中國交通和基礎建設的重點項目。目前中國正全力建設川藏鐵路（四川盆地—青藏高原），確保在 2026 年建成通車，屆時將可以連結邊境鄰國和境內最重要的經濟地帶，由上海帶動貿易活動，其經濟效應將大大超過興建難度最高的青藏鐵路。請問：

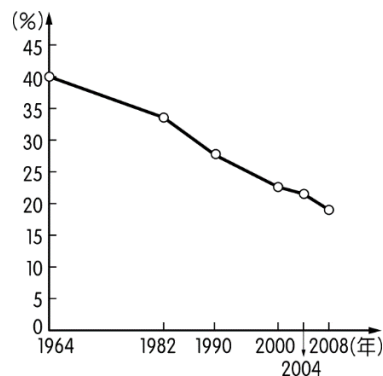


- () (1) 上文中提及的「川藏鐵路」，其路線可能為圖中何者？(A)甲 (B)乙 (C)丙 (D)丁。
- () (2) 上文中的川藏鐵路若通車後，可以連結下列哪一地形區，增加經濟發展？(A)東北平原 (B)珠江三角洲 (C)長江中下游平原 (D)華北平原。
2. 附圖為中國某個季節的氣壓分布與風向圖。請問：



- () (1) 由附圖中資料判斷，這是中國哪一季節的氣壓與風向？
(A)春季 (B)夏季 (C)秋季 (D)冬季。
- () (2) 依附圖中資料判斷，在中國的東半部地區，此時所吹的風具有下列何種特性？(A)暖而溼潤 (B)暖而乾燥 (C)冷而乾燥 (D)冷而溼潤。
- () (3) 金魚腦目前是留學北京大學的學生，依附圖判斷，在這個季節裡，他所在的地區經常吹哪一個方向的風？
(A)西南風 (B)東北風 (C)東南風 (D)南風。

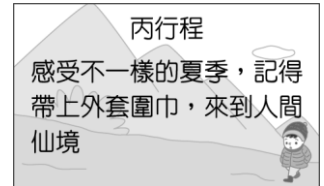
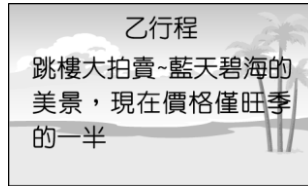
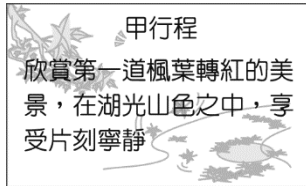
3. 中國自改革開放後，社會愈趨開放，然而各種「小皇帝」現象也令人瞠目結舌，如父母幫小孩追星、徹夜排隊只為了排一個品牌限量新品，讓社會觀察家對中國的下一代充滿了不確定感。附圖為中國幼年人口比例的變化圖，請問：



- () (1) 由附圖中的中國幼年人口比例變化狀況判斷，若成長的趨勢不變，則該國在 2020 年可能出現下列何種社會狀況？
(A)勞力逐漸缺乏，產業面臨升級壓力 (B)性別比例漸平衡，外籍配偶需求降低 (C)鄉村缺乏幼年人口，人口分布不均 (D)幼年扶養人口少，老年化逐年下降。

() (2) 中國在 2015 年結束了一胎化的政策，並加以鼓勵生育，其目的最主要為解決哪些問題？(甲)高齡化(乙)城鄉人口流動(丙)勞力短缺(丁)提高教育水準 (A)甲乙 (B)丙丁 (C)甲丙 (D)乙丁。

4. 中國近年來由於經濟快速發展，國民所得大幅提高，因此帶動當地的第三級產業，各地紛紛發展觀光業，成為各省分的發展重點。下列圖為中國某旅行社甲、乙、丙行程的宣傳海報。請問：



() (1) 小林夫婦想參加甲行程，下列四個地點中，何處天氣變涼的最快，最符合甲行程所述？ (A)東北哈爾濱賞楓團 (B)北京古城賞楓團 (C)上海杭州賞楓團 (D)雲南貴州賞楓團。

() (2) 乙行程的價格在淡旺季時差價特別大，由於當地在歲末寒假時氣溫仍高，因此成為避寒勝地，相關旅遊價格高漲。反之夏季時因為氣候酷熱、多暴雨，故為旅遊淡季。乙行程的目的地最可能為圖(二)中的何者？



▲圖(二)

(A)ㄅ (B)ㄆ (C)ㄇ (D)ㄊ。

() (3) 丙行程的旅遊地點主要以夏季為主，冬季時當地的氣候惡劣，不宜觀光。上述地點最可能在下列哪一地形區中？ (A)山東丘陵 (B)長江三角洲 (C)東南丘陵 (D)青藏高原。

\\恭喜作答完畢！把握時間再檢查一下吧！//

