

正義中學國中部 111 學年度第一學期第二次月考歷史科試題 (國二)

電腦畫卡：「年級」畫【1】→「班別」1班畫【04】，2班「班別」畫【05】

3班「班別」畫【06】→「座號」→「科目」畫【18】→「組別」畫【4】

年 班 號 姓名

一、單選題：(共 50 題，一題 2 分)

- ( ) 1. 明朝末年女真崛起，使得明朝腹背受敵，如果「背」指的是女真，那「腹」指的是下列何者？ (A)倭寇 (B)黃巾賊 (C)蒙古 (D)流寇。

《答案》D

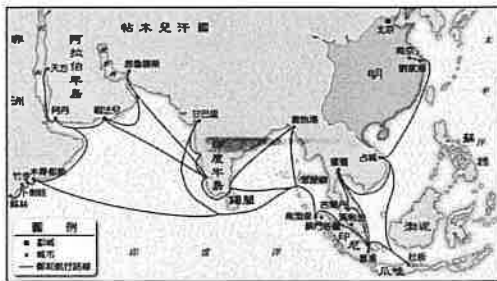
- ( ) 2. 東漢、唐代及明代政治逐漸腐敗，究其原因，有何共同之處？ (A)外戚干政 (B)宦官亂政 (C)藩鎮割據 (D)女后臨朝。

《答案》B

- ( ) 3. 明清時期政府准許的對外貿易活動，僅限於各國使節的來華朝貢。請問：下列敘述何者錯誤？ (A)各國須接受中國的冊封，才能與中國通商 (B)「朝貢」是將進行貿易者視為平等往來的兩國 (C)西班牙、荷蘭、英國人與中國通商，政府亦將他們的目的視為朝貢 (D)「朝貢貿易」是將外國對中國的朝貢和互市貿易合而為一。

《答案》B

- ( ) 4. 下圖是鄭和下西洋的地圖。這張地圖說明了整個明朝的對外發展的興盛。下列有關鄭和下西洋的敘述何者正確？ (A)鄭和下西洋主要的目的是武裝殖民 (B)鄭和下西洋最遠到達義大利的威尼斯 (C)鄭和下西洋使中國更加了解東南亞地區，促進對於該地區的移民 (D)鄭和下西洋使得明朝解除海禁，大力向海洋發展。



《答案》C

詳解：(A)宣揚國威。(B)非洲東岸。(D)一樣實施海禁。

- ( ) 5. 明清時期中國棉紡織業的重心，位於下列何處？ (A)黃淮平原 (B)長江下游三角洲 (C)長江中游 (D)四川盆地。

《答案》B

- ( ) 6. 小明遊北京故宮—紫禁城，欣賞古代宮廷之美。領隊先生介紹北京是三代古都。請問：歷史上哪些朝代曾定都北京？ (A)宋、元、明 (B)元、明、清 (C)漢、唐、明 (D)漢、唐、清。

答案：(B)

- ( ) 7. 明朝建立之後，國家所面臨的重要外患有哪些族群？ (甲)蒙古 (乙)契丹 (丙)女真 (丁)倭寇 (戊)党項 (A)甲乙丙 (B)甲丙丁 (C)乙丙丁 (D)乙丁戊。

《答案》B

- ( ) 8. 雍正皇帝禁教，一方面是因為耶穌會教士介入宮廷政爭，而一方面也是來自於羅馬教皇的壓力。請問：這股壓力為何？ (A)教皇禁止中國信徒祭祖祀孔 (B)禁止將歐洲科技傳入中國 (C)羅馬教皇想聯合葡萄牙消滅中國 (D)羅馬教皇希望天主教成為中國的國教。

《答案》A

- ( ) 9. 下圖是明末耶穌會來華傳教，中國天主教信徒增加的情形，如何解釋傳教成功，信徒增加的主要原因？ (A)明代政策獎勵、支持 (B)知識分子、士紳階級一致支持 (C)策略成功：允許中國教徒祭祖祀孔 (D)與民間信仰混合，易於流傳。

年代	人數
1596	百餘人
1605	千餘人
1610	約 2500 人
1615	約 5000 人
1617	約 13000 人
1642	約 38000 人

答案：(C)

- ( ) 10. 明神宗年間，某位傳教士來到中國，他學習中國語言、讀儒家的經典、穿戴儒服儒冠，明神宗准許他在北京設立教堂傳教。請問：此位傳教士是誰，屬於哪一個教派？ (A)湯若望；道教 (B)南懷仁；耶穌會 (C)利瑪竇；耶穌會 (D)徐光啟；佛教。

《答案》C

- ( ) 11. 英王亨利八世原本反對新教，後來為了何事與教宗決裂，自創英國國教派？ (A)教宗拒絕向亨利八世稱臣 (B)教宗在英國徵收重稅 (C)教宗不准亨利八世離婚 (D)教宗支持亨利八世的政敵。

答案：(C)

- ( ) 12. 清康熙二十二年 (西元 1683 年)，施琅在臺灣棄留爭議中，主張：「臺灣具有極高度的戰略價值，應多保留，以免日後被荷蘭等國控制，威脅中國。」他的論點，與當時哪一世界局勢的轉變關係密切？ (A)火藥發明，歐洲各國使用火槍、火炮擴張勢力 (B)地理大發現後，歐洲各國紛紛東來占領殖民地 (C)科學革命後，歐洲國家來亞洲實驗新科學技術 (D)工業革命發生，歐洲國家競相進行軍備競賽。

答案：(B)

- ( ) 13. 附圖是宗教改革中，哪一教派反對天主教會而另立門戶的原因？ (A)喀爾文教派 (B)路德教派 (C)英國國教派 (D)耶穌會。



答案：(B)

【解析】：馬丁路德譴責天主教會出售贖罪券，則另成立路德教派。

( ) 14. 小雲把基督教發展做成下列簡表，其中何者錯誤？

(A)(甲)(B)(乙)(C)(丙)(D)(丁)。

比較項目	基督教的發展
(甲)創立時地	1世紀——羅馬帝國範圍
(乙)正式合法傳教	5世紀——查理曼帝國國教
(丙)第一次分裂	11世紀——天主教與希臘正教
(丁)第二次分裂	16世紀——舊教與新教

答案：(B)

【解析】：西元4世紀(313 A.D.)羅馬帝國君士坦丁大帝訂為合法宗教。

( ) 15. 在歐洲各地興起的宗教改革聲中，舊教也積極改革，結果維繫了天主教的聲望，並且擴大了天主教在世界各地的影響力。請問：舊教改革後出現的教派為何人所創立？ (A)耶穌會→羅耀拉 (B)長老教會→馬偕 (C)基督會→羅馬教宗 (D)羅馬公教→喀爾文

答案：A

( ) 16. 小馬、小丁、小路、小德四人在上完歷史課後，對於宗教改革最重要的發起人之一馬丁路德做出評論。請問：何人的評論是違反歷史事實的？ (A)小馬：「我認為他很了不起，敢冒生命危險反對大學賣贖罪券，酷！」 (B)小丁：「我認為他反對教皇濫權，是宗教改革的先鋒。」 (C)小路：「他對日耳曼民族意志的凝結有很大助益，畢竟他鼓吹日耳曼地區起而反抗教皇，並一手造成了宗教戰爭。」 (D)小德：「總而言之，他雖然並未完全廢止基督宗教所有弊端，但仍然使大家更重視基督教教義的探討與其精神，故在歷史上有相當地位。」

答案：A

( ) 17. 下圖是哪兩國對殖民勢力的畫分圖？ (A)英、法 (B)西、葡 (C)法、荷 (D)英、荷。



《答案》B

( ) 18. 某正史刑法志有言：「公卿之辱，前所未有，……四十餘年杖殺朝士，倍蓰前代。」請問：這是何朝的政治怪現象？ (A)唐代(B)宋代(C)元代(D)明代。

答案：(D)

( ) 19. (甲)發動靖難之變(乙)修築長城(丙)行一條鞭法(丁)廢除丞相(戊)遷都北京。以上哪些是明成祖的重要事蹟與措施？

(A)(甲)(乙)(丙)(B)(甲)(乙)(戊)(C)(乙)(丙)(丁)(D)(乙)(丁)(戊)。

答案：(B)

【解析】：(丙)明神宗初年(丁)明太祖。

( ) 20. 下列有關明代史事的敘述，何者與史實不符？ (A)明太祖大封諸子為王，導致「靖康之禍」(B)明成祖派遣鄭和下西洋，使明帝國的聲威遠播(C)神宗時，張居正改革使朝政略有起色(D)明太祖廢除丞相制度，君權大為提高。

答案：(A)

【解析】：(A)靖難之役。

( ) 21. 小美某日逛書店，看見一書名為：「1644年，這一年中國有三個皇帝」。小美即刻想起這應是指明末清初的政治亂局。請問：這三個皇帝不包括下列何者？

(A)明思宗崇禎(B)李自成(C)清聖祖康熙(D)清世祖順治。

答案：(C)

( ) 22. 下列關於滿清的歷史發展，哪一項敘述不正確？ (A)滿清是女真族所建的朝代(B)努爾哈赤統一諸部，建國號金(C)皇太極改國號為清(D)清世宗平三藩之亂、攻克臺灣，終於統一全中國。

答案：(D)

【解析】：(D)清聖祖。

( ) 23. (甲)蒙古(乙)契丹(丙)匈奴(丁)女真。中國邊族中曾入主中原且統一中國的有 (A)(甲)(乙)(B)(乙)(丙)(C)(丙)(丁)(D)(甲)(丁)。

答案：(D)

( ) 24. (一)運河為交通運輸的大動脈(二)政府以科舉考試選拔人才(三)民變、

宦官之禍影響政權衰亡。上述現象為哪些朝代所共有？(A)隋、唐(B)唐、明(C)漢、明(D)明、清。

答案：(B)

( )25. 明代新航路發現後，西方人來到東方對中國的影響「不包括」？(A)引入更多的人口，使中國糧食作物不足(B)促成糧食作物與經濟作物分工(C)促成原料與產品的分工(D)社會盛行拜金逐利的風氣。

答案：(A)

( )26. 十六世紀中南美洲是西班牙人的殖民地。由於西班牙人禁止當地原住民赤身裸體，所以他們都穿著中國絲綢。中南美洲原住民買得起中國絲綢的原因，「不包括」下列那個因素？(A)中國絲綢的生產量豐富，但銀礦有限(B)因鄭和下西洋的影響，中國商人向海外擴展，直接將絲綢運到南美洲去賣(C)西班牙以菲律賓為中繼站，在中國與南美洲之間往來貿易(D)美洲盛產白銀，但中國缺乏，因此美洲原住民的白銀可以換取高價的中國絲綢。

答案：(B)

( )27. 明中葉以後，西方來的傳教士多屬於(A)天主教耶穌會(B)英國國教派(C)喀爾文教派(D)路德教派。

答案：(A)

( )28. (甲)明朝中葉時當西元15世紀末(乙)歐洲國家首先航抵中國者是西班牙(丙)明末清初是中西文化交流昌盛的時期(丁)將近代科技傳入中國。以上有關歐人來華的史事，何者有誤？(A)(甲)(B)(乙)(C)(丙)(D)(丁)。

答案：(B)

解析：(乙)葡萄牙。

( )29. 下列關於東西交通之歷史事件：(甲)馬可波羅抵達中國(乙)鄭和下西洋(丙)哥倫布發現新大陸(丁)葡萄牙人到達廣州(戊)利瑪竇到中國傳教。以上事件依照時間先後次序排列，何者為正確？(A)甲乙丙丁戊(B)丙甲乙丁戊(C)丙乙甲丁戊(D)甲丙乙丁戊。

答案：(A)

( )30. 明朝中葉以後，歐洲人因發現新航路而開始航抵中國，中西交通因而邁入另一個新里程。請問：16世紀，最早航抵中國的葡萄牙人，據有何處做為發展東方貿易的據點？(A)臺灣(B)香港(C)澳門(D)菲律賓。

答案：(C)

( )31. 明末清初，耶穌會教士來華傳入西學，把中國文物傳回歐洲，這段文化交流對中西雙方歷史皆有深遠影響，下列哪一項敘述與史實不符？(A)歐洲的天文曆法、數學、地理學和火炮傳入中國(B)中國典籍、繪畫、園林建築、瓷器傳入歐洲(C)傳教士協助中國繪製第一部畫有經緯線的地圖(D)清高宗禁教，使中西文化交流因此中斷。

答案：(D)

解析：清世宗以傳教士介入宮廷政爭為由，而下令禁教。

( )32. 滿清入關後，統治中國二百六十八年之久，統治成功的關鍵在於(A)採黃老思想，無為而治，與民休養生息(B)高壓政策的成功使漢人不敢反抗(C)能放棄高壓採取懷柔政策，對滿漢採平等待遇(D)善於運用懷柔與高壓並濟的治術。

答案：(D)

解析：清初實施「恩威並重」的政策，漢人士大夫多為其所用。

( )33. 我們從「山西票號」這個名稱可以知道，何時的何種事業發達，分支機構遍及了全國各地？(A)宋一販鹽(B)元一販茶(C)明一金融(D)清一印刷。

答案：(C)

( )34. 附圖(一)及附圖(二)是清末兩個時期的對外通商港埠圖。由附圖(一)演變至附圖(二)的關鍵是哪一場戰役？(A)鴉片戰爭(B)英法聯軍(C)甲午戰爭(D)八國聯軍



圖(一)




圖(二)

答案：A

解析：鴉片戰爭清廷戰敗，簽訂《南京條約》，開放廣州、廈門、福州、寧波、上海五口為通商口岸

( )35. 附圖是清朝中葉之後，英國輸入中國的某一項產品的統計圖，根據你的判斷，應該是何種商品？(A)茶葉(B)瓷器(C)呢絨(D)鴉片




答案：D

- ( )36. 有一個人說：「中國並不稀罕西人的奇巧之器，英國在廣州的生意，每年有幾千萬銀兩的利益，這些都是中國對外國人的恩賜，其中英國是最大的受益者。」另一人則反駁說：「兩個國家的貿易，怎麼會是一方的恩賜？」然而他所得到的答覆卻是：「堂堂天朝，何時曾把與夷國的一點生意當作利藪放在心上？」由以上對話可知下列哪個答案是「正確」的？ (A)有可能是洪秀全與馬嘎爾尼的對話 (B)中國當時對待外國已有平等的國與國觀念 (C)中國以退為進，其實是希望與英人貿易 (D)英國認為雙方是平等的主權國

答案：D

- ( )37. 如圖為臺灣郵政總局早年發行的紀念郵票。輪船招商局的成立，代表當時滿清政府除注意改進國防外，已漸及民生經濟的改革，有意從外人手中爭回航運權。請問：該局成立於何時？ (A)自強運動時期(B)戊戌變法時期(C)立憲運動時期(D)新文化運動時期。



答案：(A)

- ( )38. 清朝在面臨對外戰爭一連串的失敗後，對西學的反應逐漸加深，為求富強，清廷所進行的變法與革新，大致可分成三個階段，下列關於這三階段變革的敘述哪個是「不正確」的？ (A)清廷自鴉片戰爭失敗後，馬上體認到外國船堅砲利的厲害，展開器物的學習 (B)第一階段的學習以器物為主，表現在自強運動上 (C)第一階段的成果在甲午戰爭中完全失敗 (D)第二階段的學習以政治制度為主，

展現在戊戌變法上

答案：A

- ( )39. 有位史學家說：「全國讀書人都覺得前功盡棄。他們費了多少心血，想從之乎也者裡面，升官發財，一旦廢八股，他們絕望，難怪他們罵康有為是洋奴漢奸。至於被裁的官員，更不要說，無不切齒痛恨。」請問：這位史學家所敘述的是清末哪一改革運動？ (A)自強運動 (B)新文化運動 (C)立憲運動 (D)維新運動

答案：D

- ( )40. 歷史有其因果關係，甚至會因為某事件而引發一連串影響。請問：就以下歷史事件來看，其因果關係的順序應為何者？(甲)戊戌變法(乙)戊戌政變(丙)自強運動(丁)甲午戰爭 (A)甲→乙→丙→丁 (B)乙→丙→丁→甲 (C)丙→丁→甲→乙 (D)丙→丁→乙→甲

答案：C

- ( )41. 清末所推動的立憲運動，並不符合知識分子與社會的期待，尤其是新內閣組織中皇族閣員占了多數，使當時支持改革的人士大為失望，因而做出什麼樣的決定？ (A)轉而支持革命運動 (B)策動另一波的改革浪潮 (C)提出重新改選的提議 (D)對政府施壓，要求撤廢皇族成員。

答案：A

### 題組

西元 19 世紀中期前，中、日兩國同是閉關自守的局面，經外力的衝擊，各自展開救亡圖存的運動，結果兩國命運有天壤之別。請問：

- ( )42. 中國的門戶洞開，是始於何國經由何戰役造成的？ (A)英—鴉片戰爭(B)日—甲午戰爭(C)法—中法戰爭(D)英、法—英法聯軍之役。
- ( )43. 日本經西化後成為侵略性的強國，其向外擴展路線是 (A)併琉球→犯臺灣→取朝鮮(B)併琉球→取朝鮮→犯臺灣(C)取朝鮮→併琉球→犯臺灣(D)犯臺灣→併琉球→取朝鮮。
- ( )44. 中、日兩國二、三十年的銳意西化，在何次戰役中，印證效果—前者有限，後者成功？ (A)鴉片戰爭(B)英法聯軍之役(C)甲午戰爭(D)八國聯軍之役。

答案：(1)(A)；(3)(D)；(4)(C)

### 題組

史密斯先生是十九世紀初來華貿易的英國商人。請問：

- ( )45. 他會在什麼地方做生意？ (A)北京 (B)大連 (C)天津 (D)廣州
- ( )46. 當他在中國時，只能夠享受什麼待遇？ (A)住在夷館 (B)帶太太上街買菜 (C)勤學華語交朋友 (D)到處遊覽

答案：(1)D；(2)A。

### 題組

1840年英國國會，針對某一問題而引發「出兵戰爭」的爭辯。英國保守黨議員格萊斯頓(W. E. Gladstone)在國會發言：「我從來沒有聽過，也從未讀過，有比這場戰爭更師出無名，更令這個國家蒙羞的。剛才那位先生提出相反的看法，說到英國國旗光榮的飄揚在廣州；這面國旗的升起，是要捍衛不名譽的違禁品貿易。」請問：

- ( ) 47.文中所言的「出兵戰爭」，指的是哪一場戰爭？ (A)鴉片戰爭 (B)第一次英法聯軍  
(C)第二次英法聯軍 (D)八國聯軍
- ( ) 48.文中所言「捍衛不名譽的違禁品貿易」指的是？ (A)絲織品 (B)瓷器 (C)  
茶 (D)鴉片
- ( ) 49.這個戰爭對中國造成什麼損失？ (A)損失內河航行權 (B)賠款與割讓香港(C)可派  
遣公使駐京 (D)鴉片可公開進口。
- ( ) 50.英國是以何種理由作為出兵之藉口？ (A)抗議修約要求被我國所拒 (B)保護英商  
來華貿易的利益 (C)爭取開放中國沿海的商埠 (D)報復談判代表遭拘捕凌虐。

答案：(1)A；(2)D；(3)B；(4)B。