

高雄市正義中學國中部 111 學年度第一學期期末考歷史科試題 (國二)

電腦畫卡：國 201 填 2 年級 1 班，國 202 填 2 年級 2 班，

國 203 填 2 年級 3 班，「科目」請畫【04】

____年 ____班 ____號 姓名_____

一、單選題：(共 50 題，一題 2 分)

1. () 青島是一個極具歐洲建築色彩的城市，清末它曾經被德國占為貿易據點，因此出現不少歐式建築，但是民國初年一度又成為日本的據點。請問：上述主權的轉換是下列哪場會議的決議？ (A) 東京會議 (B) 京都會議 (C) 巴黎和會 (D) 開羅會議。

答案：(C)

解析：巴黎和會允許日本繼承德國在山東的特權。

2. () 附圖為 1919 年的一場國際會議，中國代表團以戰勝國身分參加並且提案。由這個會議經過可推測，此引發了中國國內的哪一事件？



- (A) 五四運動 (B) 辛亥革命 (C) 義和團事件 (D) 二次革命。

答案：(A)

解析：巴黎和會上決議將山東權利讓予日本，引起中國代表不滿，消息傳回中國，引發五四運動。

3. () 民國 4 年，一位知識分子在報紙發表文章，反對當時的總統變更國家體制，並勸他不要做奸雄。究竟是下列哪一件事情促使他發表這一篇文章？ (A) 武昌起事爆發，各省相繼響應，紛紛宣布獨立 (B) 孫中山將臨時大總統職位讓給袁世凱 (C) 袁世凱將臨時政府遷往北京 (D) 袁世凱積極展開帝制活動，圖謀稱帝。

答案：(D)

解析：民國 4 年 12 月袁世凱接受推戴為皇帝。

4. () 在第一次世界大戰爆發之際，日本藉口對德國宣戰，而利用歐洲列強無暇東顧之際，出兵占領中國原屬於德國勢力範圍的哪一地區？ (A) 臺灣 (B) 山東半島 (C) 遼東半島 (D) 朝鮮半島。

答案：(B)

解析：派兵奪取山東膠州灣。

5. () 孫中山自美國致同盟會同志云：「近日祖國風雲日急，四川已動，若能得手，則兩廣、雲、貴、三江、閩、浙不得不急起為之援應，到時……。」請問：孫中山在告知同志何事？ (A) 利用甲午戰爭後的局勢鼓吹革命運動 (B) 中華民國成立後民主共和未能落實 (C) 結合其他革命勢力成立同盟會 (D) 保路風潮對革命造成有利情勢。

答案：(D)

解析：依信函內容，可知是針對四川保路風潮擴大，對革命黨造成有利條件，各地黨人應積極相應。

6. () 如圖的漫畫為民國 7 年沈伯慶所繪，標題為「南北之爭」，用來描繪當時軍人掌政的情形。請問：依漫畫描繪內容及史實判斷，這時軍人的特色為何？ (A) 重視國家利益，團結打倒帝國主義 (B) 反對重整軍備，彼此合作以對抗政府 (C) 各自擁兵割據，志在控制中央政府 (D) 注重民生經濟，從事建設以保障民權。



答案：(C)

7. () 孫中山先生領導國民革命，在武昌起義一舉成功。民國初建，民初共和政體連遭兩次劫難。請問：民國建立後，共和政體所遭遇的兩次劫難是指什麼？(甲) 二次革命 (乙) 護法運動 (丙) 洪憲帝制 (丁) 溥儀復辟 (A) (甲)(乙)(B) (丙)(丁)(C) (甲)(丙)(D) (乙)(丁)。

答案：(B)

8. () 心怡為清楚了解民國初期的政局，整理了一份民國重要史事資料如附表。請問：在

表內的四組綱要中哪一組錯誤？(A)甲(B)乙(C)丙(D)丁。

編號	史實名稱	發生時間	發生原因	結果
甲	二次革命	民國2年	討伐袁世凱違法亂紀的行為	國民黨失敗
乙	雲南起義	民國4年	聲討袁世凱稱帝	袁世凱撤銷帝制
丙	護法運動	民國7年	張勳毀棄臨時約法，孫中山先廣州軍政府本身缺少實力，終於失敗	生討伐之
丁	五四運動	民國8年	巴黎和會決議允許日本繼承德國在山東的權利，國人反對此	中國拒簽對德和約

答案：(C)

9. () 下列有關中國近代史上的重要事件，按發生先後的順序排列，何者正確？(甲)五四運動(乙)自強運動(丙)武昌起義(丁)戊戌變法

(A)(丁)(乙)(丙)(甲)(B)(乙)(丁)(丙)(甲)(C)(甲)(丙)(丁)(乙)(D)(丁)(丙)

答案：(B)

解析：(甲)民國8年(乙)咸豐11年(丙)宣統3年(丁)光緒24年。

10. () 日本鄰近中國，又因侵略成性，而發生下列哪些史實？(甲)甲午戰爭的爆發(乙)日俄戰爭後，勢力正式進入東北(丙)雲南起義推翻帝制(丁)引發五四運動的發動

(A)(甲)(乙)(丙)(B)(甲)(乙)(丁)(C)(甲)(丙)(丁)(D)(乙)(丙)(丁)。

答案：(B)

11. () 下列民初人物的生平貢獻，何者「正確」？(A)胡適倡導文學革命，提倡白話文

(B)陳獨秀領導五四運動，外爭主權(C)魯迅組織興中會，推翻滿清(D)蔡元培擔任北大校長，反對新文化運動。

答案：(A)

解析：(B)新文化運動(C)發表第一篇白話小說(D)贊成。

12. () 如圖為民初「新申報」刊登的號外，可知學生於街頭演講時，手上應持什麼標語？

(A)「驅除韃虜，恢復中華」(B)「還我青島」(C)「收回山東主權」(D)「中國人不打中國人」、「打回東北去」(D)「一寸山河一寸血，十萬青年十萬軍」。

答案：(B)

13. () 關於中共早期的發展情形，下列哪些敘述「正確」？(甲)在俄共支持下尋求發展(乙)

主張以暴力奪取政權，消滅階級(丙)利用自強運動所形成的社會網路，運動中產階級加入(丁)以個人身分加入國民黨，發展勢力

答案：(B)

14. () 「五三慘案」和「五四運動」兩件史事有何「共同點」？(A)都是學生的愛國行

動(B)都與日本有關(C)都發生在北京(D)都發生在同一年。

答案：(B)

解析：民國8年，巴黎和會承認日本繼承德國在山東的特權而引發五四運動。民國17年，日本在濟南發動

五三慘案。

15. () 國民政府北伐期間，日本曾發動哪兩次侵犯行動阻撓中國統一？(甲)出兵進占膠州

灣(乙)提出「二十一條要求」(丙)發動「五三慘案」(丁)炸死張作霖

答案：(C)

解析：(甲)(乙)一次大戰期間。

16. () 民國15年國民革命軍誓師北伐，至民國17年完成全國統一，這期間發生下列哪些

事件？(甲)五四運動(乙)清黨(丙)五三慘案(丁)西安事變

答案：(B)

解析：(甲)民國8年(乙)民國16年(丙)民國17年(丁)民國25年。

17. () 下列關於國民黨的聯俄容共政策的敘述，哪一項「正確」？(A)國共雙方在反帝國

主義、反軍閥的口號下，找到共同合作的基礎(B)此時期國民黨積極準備統一中國

答案：(D)

的事業(C)中共從事工人和農民運動(D)因發生五三慘案，國共合作結束。

18. () 小琪在圖書館看到一張舊傳單，上面寫著：「推倒陳腐的、鋪張的古典文學；建設新鮮的、立誠的寫

實文學。推倒迂晦的、艱澀的山林文學；建設明瞭的、通俗的社會文學。」請問：

這種文學改革的訴求，反映出近代哪一次革新運動的精神？(A)自強運動(B)戊

戌變法(C)新文化運動(D)文化大革命。



答案：(C)

解析：新文化運動公開抨擊傳統，公然主張以新替舊，並主張用白話文。

19. () 民國 13 年 10 月國父曾三度發通告給國民黨員，說明他對某事的態度，「來者不拒，所以昭吾黨之量能容物」、「團體內無新舊分子之別，唯有視能否為本黨之主義負責，奮鬥而定其優劣。」以上兩段文字是指何事？ (A) 清黨 (B) 聯俄 (C) 容共 (D) 北伐。

答案：(C)

解析：所謂容共是指允許中國共產黨員以個人名義加入中國國民黨。

20. () 近代史上，中共在群眾武裝暴動失敗後，由公開轉入地下，由城市退到鄉村，是在哪一史事之後？ (A) 二次革命 (B) 護法運動 (C) 反共清黨 (D) 北伐成功。

答案：(C)

21. () 胡適說：「沒有××事變，共黨很快就可消滅了。××事變後，國民黨才有第二次容共政策，共產黨就在八年抗戰中擴充培養起來……。」文中的事變是指 (A) 九一八事變 (B) 一二八事變 (C) 盧溝橋事變 (D) 西安事變。

答案：(D)

22. () 民國 17 年，日軍出兵山東，5 月 3 日當天，日軍突然射擊濟南軍民，更衝入外交特派員公署，慘殺交涉員蔡公時，此次事件，中國軍民死傷者達數千人，財產損失甚鉅。此事件是 (A) 濟南事件 (B) 九一八事變 (C) 滿洲國成立 (D) 盧溝橋事變。

答案：(A)

23. () 劉伯到四川九寨溝旅遊，途中看到一個石碑豎立於山坡上，上面記載所謂國民政府剿共時期，中共進行「兩萬五千里長征」的歷史事件。請問：此石碑所記載的事件，其歷史背景為何？ (A) 民國 15 ~ 17 年革命軍北伐 (B) 民國 19 ~ 24 年國民政府圍剿共黨 (C) 民國 26 ~ 34 年對日抗戰 (D) 民國 55 ~ 65 年文化大革命。

答案：(B)

24. () 「黃金十年」是指國民政府在哪兩次事件的 10 年之間，努力從事建國事業，確有成效？ (A) 討平復辟、五四運動 (B) 北伐完成、八年抗戰 (C) 護法運動、五四運動 (D) 護法運動、八年抗戰。

答案：(B)

25. () 「新文化運動」與「新生活運動」兩相比較，正確的敘述是 (A) 發生年代：前者是民國 10 年；後者是民國 20 年 (B) 發起人：前者是陳獨秀；後者是蔣中正 (C) 主要內容：前者要把禮、義、廉、恥的道德觀念，融入日常生活中；後者向西方請來德先生和賽先生 (D) 運動性質：前者是社會建設；後者是思想的變革。

答案：(B)

26. () 陳奶奶回憶說：「在那個時代，市面流通著各種貨幣，後來政府廢除銀兩，規定一律改用銀元；再過一陣子，政府規定只能用指定銀行發行的紙幣，終於解除了幣制

混亂的局面。」陳奶奶描述的應是下列哪一時期？ (A) 民國 17 ~ 26 年黃金十年 (B) 民國 26 ~ 34 年八年抗戰 (C) 民國 35 ~ 38 年國共內戰 (D) 民國 62 ~ 68 年十項建設。

答案：(A)

解析：黃金十年時期，政府在財金方面的改革，即廢兩改元，發行法幣。

27. () 收藏家朝偉收藏了各國的紙鈔，某日他向朋友展示十年建設時期的法幣，卻被朋友說有一張是錯誤的。請問：應是哪一張？ (A) 甲 (B) 乙 (C) 丙 (D) 丁



(甲)



(乙)



(丙)



(丁)

答案：C

28. () 真真看到一張民國初年的宣傳單，如下圖所示。請問：這張宣傳單內容的提出者應該是誰？ (A) 胡適 (B) 陳獨秀 (C) 魯迅 (D) 蔡元培。

1. 不做言之無物的文字
2. 不摹仿古人
3. 不做不合文法的文字
4. 不做無病之呻吟
5. 不用濫調套語
6. 不用典
7. 不講對仗
8. 不避俗字俗語

《答案》A

29. () 國民黨與中國共產黨之間，曾歷經數次分合。下列關於國共關係的敘述，何者正確？ (A) 民國十六年，聯俄容共 (B) 七七事變後，蔣中正停止剿共 (C) 盧溝橋事變後，國共合作共同抗日 (D) 民國十三年，清共

答案：C

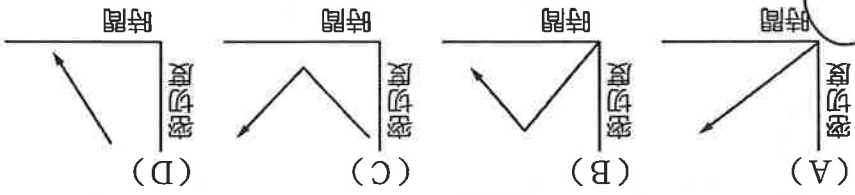
30. () 下圖是一張民國初年間的街頭照片，由照片的內容來看，這應該最早出現在哪個時

期？(A)皇民化時期 (B)新文化運動時期 (C)立憲運動時期 (D)自強運動時期



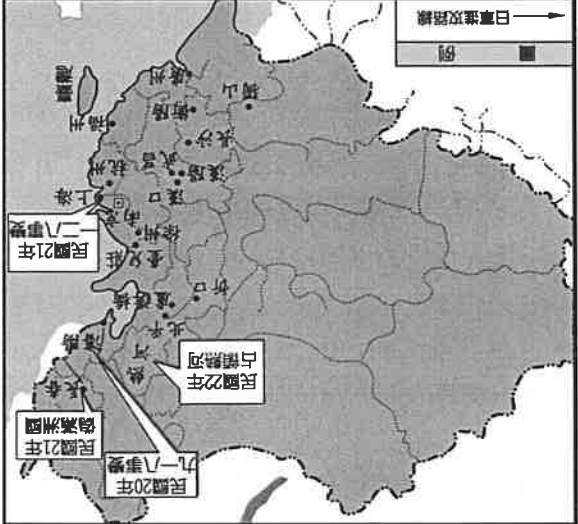
《答案》B

31. () 民國 10 年至 17 年，國共關係的演進關係圖，何者正確？



《答案》(B)

32. () 英英在圖書館看到一本史書上有如圖所示，請問：英英所閱讀的史書應是下列哪一部？(A)《蘇俄在中國》(B)《日本侵華史》(C)《八年抗戰血淚》(D)《兩萬五千里長征》。



《答案》(B)

33. () 新聞報導非洲辛巴威的通貨膨脹嚴重，一顆漢堡要價辛巴威幣上千萬。在中國近代史上也有一個時期通貨膨脹嚴重，一斤白米得花四百元金圓券。請問：這是以以下哪一時期？(A)軍閥割據時期 (B)護法運動時期 (C)第二次世界大戰前 (D)國共內戰末期

34. () 有一個調查團曾發表如下的報告：「我們不認為日本所採取的行動，是一種合法的自衛手段。……當地統治者名義上是滿洲人，實權卻操之於日本官吏及顧問手中，在當地華人心目中，統治者純粹是日人的工具而已……。」這個調查團應隸屬於下列哪一組織？
(A)聯合國 (B)國際聯盟 (C)亞太經濟合作會議 (D)北大西洋公約組織


《答案》B

35. () 自從中共成立以後，便不斷的吸納黨員，並且在地方上累積政治實力，逐漸成為一股不可小覷的勢力，而下圖是中共某次竄逃的路線圖。請問：中共當時逃竄的原因為何？(A)國民政府剿共 (B)中日戰爭爆發 (C)國共內戰爆發 (D)國民政府清黨。



《答案》A

36. () 在王爺爺收藏的舊紙幣中，恰好有同一年的國民政府在中國大陸先後發行的三種紙幣，如圖所示。請問：從紙幣發行面額的變化，可推知當時的國家經濟情形為 (A) 國家強盛，紙幣的價值升高 (B) 通貨膨脹，貨幣購買力變低 (C) 經濟發達，貨幣需求量大增 (D) 物資缺乏，製幣的成本增加。



答案 (B)

題組

民國十七年到二十六年，國民政府在內憂外患的侵擾下，推動各項國家建設，在財政、交通等方面都有所進展。請問：

37. () 若根據孫中山的《建國大綱》，題幹所述的時期屬於國家建設的哪一階段？ (A) 軍政時期 (B) 訓政時期 (C) 憲政時期 (D) 法政時期
38. () 此時，國民政府從外國手中收回下列何項權利？ (A) 領事裁判權 (B) 片面最惠國待遇 (C) 香港、九龍司等地 (D) 關稅自主權
39. () 民國二十四年，汪達帶著銀元到街上購物，卻被老板告知必須要拿去銀行兌換成四家銀行發行的鈔票才能購物。這是因為政府實施何種政策？ (A) 發行法幣 (B) 廢元改兩 (C) 新生活運動 (D) 統一度量衡
40. () 此時，某人提倡一項以「清潔」、「規矩」為推行重點的運動，希望把「禮義廉恥」的精神融入日常生活，強化民眾的動員工作。上述運動應為何人所提倡？ (A) 蔣經國 (B) 宋美齡 (C) 蔣中正 (D) 張學良

答案：(1)B；(2)D；(3)A；(4)C

題組

如圖是北伐前各方勢力的概況圖，請回答下列問題：



41. () 北伐軍的根據地是在 (A) 甲 (B) 乙 (C) 丙 (D) 丁。
 42. () 丁區的軍閥首領是誰？ (A) 段祺瑞 (B) 吳佩孚 (C) 張作霖 (D) 孫傳芳。
- 答案：(1)(A)；(2)(C)

題組

有一幅形容張學良與蔣中正兩人關係的對聯：「關懷之殷情同骨肉；政見之爭宛若仇讎。」請問：

43. () 下列哪一項可以顯示兩人合作的關係「情同骨肉」？ (A) 東征陳炯明 (B) 追求國家統一 (C) 新生活運動 (D) 改組國民黨。
44. () 哪一項「政見之爭」造成兩人敵對的關係「宛若仇讎」？ (A) 聯俄容共 (B) 編遣軍隊 (C) 清黨分共 (D) 剿共安內。
45. () 兩人關係從「情同骨肉」到「宛若仇讎」的演變，對中國的政局造成什麼影響？ (A) 中共絕處逢生 (B) 日本出兵東北 (C) 國共鬥爭加劇 (D) 軍閥勢力坐大。

答案：(1)(B)；(2)(D)；(3)(A)

題組

民國 8 年時，漫畫家馬星馳繪製一張諷刺時事的漫畫，這幅漫畫的意思是表示□□把中國視為小孩一般，玩弄於股掌之間，口稱「公道待遇」，可是卻一腳踏在中國山東領土，意圖將其納入□□的勢力範圍。請問：



46. () 由於哪一個國際會議中錯誤的決議，使中國喪失山東的權利，而引發愛國運動？ (A) 巴黎和會 (B) 開羅會議 (C) 雅爾達會議 (D) 波茨坦會議。
47. () 日本的侵略加上國人對於國際會主持正義的希望落空，終於引爆人民的哪一項愛

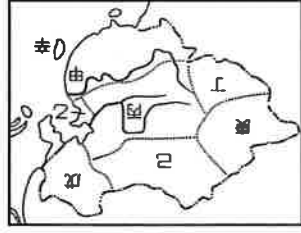
國運動？ (A)維新運動(B)五四運動(C)立憲運動(D)新文化運動。

48. () 上文中的□是指何國？ (A)俄國(B)日本(C)英國(D)法國。

答案：(1)(A)；(2)(B)；(3)(B)

題組

民國建立後，內憂外患仍不斷發生，請參考附圖回答問題：



49. () 以內亂和外患的性質來區分，下列何者與其他三者不同？ (A)五三慘案(B)盧溝橋事變(C)西安事變(D)九一八事變。

50. () 西安事變發生在圖中哪一區？ (A)甲(B)乙(C)丙(D)戊。

答案：(1)(C)；(2)(C)