

高雄市正義中學國中部111學年度第一學期第二次期中考 國三地理科試題卷

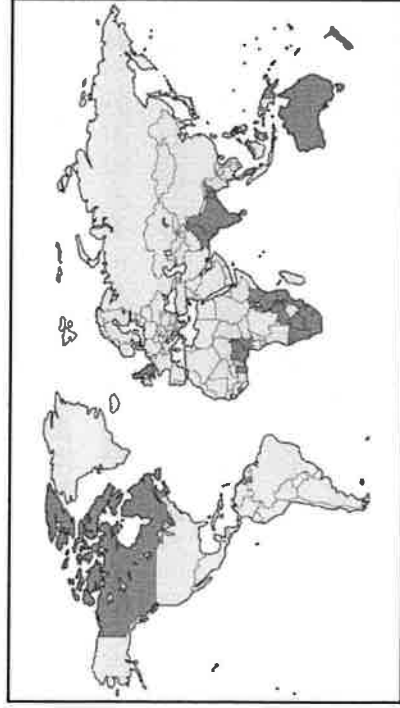
劃卡說明：請確實寫上班級、姓名與座號，造成讀卡作業判讀有誤者-5分。

年級：【3】班級：1班填【4】2班填【5】3班填【6】科目：【09】組別：國中部【04】

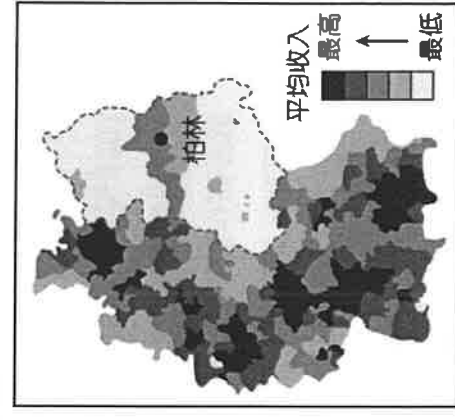
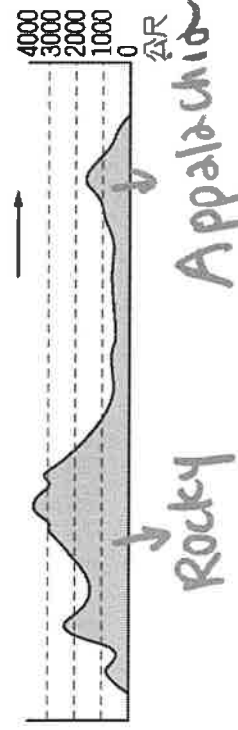
一、單題

- 1 (C) 2016年英國脫歐公投結果出爐後，有經濟學家建議英國可仿效其他未加入歐盟的歐洲國家，繼續和歐盟保持密切合作關係。請問：上文中，英國可仿效的國家為何？ (A)法國 (B)瑞典 (C)挪威 (D)德國。
- 2 (B) 波多斯基為波蘭人，在歐盟成立後每天通車到德國上班。請問：這種現象和該組織何項措施關係最大？ (A)通行歐元 (B)開放國界 (C)會員國間免除關稅 (D)工業產品規格統一。
- 3 (B) 西方文化的發源地主要在地中海的希臘、羅馬地區。下列有關該地區的敘述，何者正確？ (A)隔波羅的海與尼羅河古文明相望 (B)位於西半球，為現代西方文化的發源地 (C)針葉林為地中海沿岸最易辨認的農田景觀 (D)希臘夏季受高氣壓影響，高溫少雨。
- 4 (C) 附圖為某組織的會員國分布圖，其中深色區域為該組織的核心國家。若依圖中資料加以判斷，該組織最可能為下列何者？

北非埃及



- (A) 歐洲聯盟 (B) 世界貿易組織 (C) 大英國協 (D) 亞太經濟合作會議。
- 5 (A) 多瑙河為世界上流經最多國家的河川，且在1992年興建了連通萊茵河的運河後，由黑海航入的船隻可藉由河運直達下列哪一個重要的港口入海，航運價值大為提升？ (A)荷蘭鹿特丹 (B)英國倫敦 (C)德國漢堡 (D)荷蘭阿姆斯特丹。
- 6 (A) 美國境內面積廣大，各地區的地形特色皆不相同。附圖為美國某地區的地形概況，依圖中地勢起伏情形判斷，圖中箭頭所指的方向應為何？ (A)東方 (B)西方 (C)南方 (D)北方。



- 7 (C) 附圖為2003年德國納稅者平均收入高低的分布，其中，低收入者明顯集中在虛線範圍內，這種現象主要是因為該區受下列何者的影響？ (A)地形崎嶇而交通不便 (B)終年低溫且潮溼多雨 (C)曾長期實施計畫經濟 (D)殖民地式的經濟型態。
- 8 (C) 美國的黃石國家公園有特殊的地熱噴泉景觀，成為世界著名的旅遊勝地。請根據其地形作用判斷，該國家公園最可能位於哪一個地形區？ (A)五大湖區 (B)拉布拉多高原 (C)洛磯山脈 (D)密西西比河沖積平原
- 9 (B) 東歐的捷克為工業大國，由於共產時期累積下來的工業基礎雄厚，今日吸引許多企業到該國投資生產，以便產品能就近行銷歐洲市場。請問：若根據上文敘述判斷，這些工業產品的運輸路線多朝哪一方向運至市場銷售？ (A)東方 (B)西方 (C)南方 (D)北方。
- 10 (B) 英國的汽車相關產業勞工高達82萬人，對英國經濟貢獻良多。目前有跨國企業揚言將取消英國的汽車生產基地，是因英國退出歐盟後將會失去下列何項優勢？ (A)不再使用歐元為英國貨幣 (B)與歐盟成員國貿易不再免關稅 (C)歐盟總部將由英國倫敦移往他處 (D)英國工業產品規格會與歐陸不同。
- 11 (B) 美國傳統的工業如鋼鐵、汽車等，多發源自五大湖區。請問：該地區有利於工業發展的條件為何？ (A)市場廣大 (B)原料豐富 (C)勞工眾多 (D)地形平坦
- 12 (D) 義大利知名超跑法拉利舉辦買車送駕駛班的體驗活動，讓準車主可以到生產地參觀愛車的製造過程，並在當地體驗其性能。請問：為了避免因氣候不佳使地面打滑而造成失控危險，該活動應避免於哪一季節舉辦？ (A)春季 (B)夏季 (C)秋季 (D)冬季。
- 13 (B) 美國境內所排放的二氧化碳高居世界第二，成為溫室效應的推手。請問：該國二氧化碳排放量大和下列何者有關？ (A)人口總數最多 (B)大量使用化石燃料 (C)境內砍伐雨林 (D)西風吹拂影響。
- 14 (A) 人類至少在2千年前已知道利用一種盛產於西

夏乾季

班牙、葡萄牙、義大利和北非的作物，榨取其果核中的油脂成為食用油，這種油近年來因富含單元不飽和脂肪酸而成為世人新寵。依氣候條件判斷，上述作物應為何 (A)橄欖 (B)花生 (C)玉米 (D)大豆。

15(A)美國墨西哥灣沿岸及密西西比河下游三角洲地區，氣候暖溼，表土之下多屬黏土層，有利於涵養水分，適合稻作栽培。上述的稻米生產區在生產的過程中最容易遇到下列何種氣候災害，造成農作物的損失？ (A)颶風 (B)龍捲風 (C)暴風雪 (D)乾旱。

16(B)俄羅斯首都莫斯科為境內最大的城市，人口分布密集。請問：該都市人口聚集的主要因素除了政治經濟重心外，尚包括下列何者？ (A)礦產豐富 (B)降水量較多 (C)冬暖夏溫 (D)四季如春。

17(B)西伯利亞地廣人稀，人口主要集中在較溫暖的南部及何種交通工具分布沿線？ (A)公路 (B)鐵路 (C)高鐵 (D)空運。

18(D)中國、印度、巴西及俄羅斯被譽為「金磚四國」，這些國家皆有下列何項優勢而被看好經濟發展？ (A)氣候溫和 (B)科技進步 (C)農業發達 (D)資源豐富

19(D)北歐的芬蘭利用天然的冰蝕湖和當地盛產的針葉林發展出著名的芬蘭浴，是旅遊當地的觀光客必定體驗的活動。請問：芬蘭位於附圖中何處？



(A)甲 (B)乙 (C)丙 (D)丁。

20(C)北美洲的寒帶氣候，在東部分布於北緯 50 餘度地區，在西部則分布於極圈附近地區，最主要的影響因素為何？ (A)地勢高低 (B)盛行風向 (C)洋流性質 (D)天然植物。

21(C)北美洲國家的經濟力不僅影響到國內經濟，更藉由下列何種方式，將勢力擴及至世界各地？ (A)生產規模廣大 (B)勞工薪資低廉 (C)海外分公司多 (D)自然資源豐富。

22(A)加拿大的溫哥華為溫帶海洋性氣候，較同緯度的東岸溫暖溼潤，因此成為人口聚集的都市。請問：影響該地區氣候的條件有哪些？ (A)西風、暖流 (B)信風、暖流 (C)西風、涼流 (D)季風、涼流。

23(D)華裔籃球好手林書豪於 2012 年在 NBA 紐約尼

克隊因表現優異，捲起了一陣「林來瘋」後，於 2013 球季轉至休士頓火箭隊，後又被交易至洛杉磯湖人隊等。請問：上述林書豪所效力球隊的所在地，未包括附圖中何者？

(A)甲 (B)乙 (C)丙 (D)丁。

24(C)地質學家提出警告，附圖環太平洋火山地震帶上的沿線地區容易因為出現大地震，須特別加以注意。從此圖來看，若發生地震，將對美國哪一個產業重鎮造成衝擊最嚴重？



(A)酪農業 (B)商業性農業 (C)高科技工業 (D)石化工業

25(A)美國面積最大的州為阿拉斯加，幅員寬廣且海岸線長，具備交通地位上的重要性。請問：若以戰略角度判斷，該州和下列何者的距離最近，因此交通地位相當重要？ (A)亞洲 (B)歐洲 (C)南極洲 (D)非洲。

26(C)西雅圖的航太工業發達，這與當地的氣候條件關係甚大，因為當地除了氣溫變化和緩外，其東側的哪一座山脈可以阻擋中部的暴風雪，所以少有災害發生？

(A)阿帕拉契山脈 (B)安地斯山脈 (C)洛磯山脈 (D)斯堪地那維亞山脈。

27(B)北歐企業及高收入者近年來外移至其他國家的情況日漸增加，這和下列何項因素的關係最大？ (A)加入歐盟 (B)稅率提高 (C)政策鼓勵 (D)氣候嚴寒。

28(D)Wenson 今年暑假到美國中部農場打工遊學，他在當地所體會到的農場特色為何？ (A)面積狹小 (B)勞工眾多 (C)作物多樣 (D)市場導向。

29(A)美國農業多以大規模且專業化單一作物的生產方式進行，這對於該地區的生產者具有何種風險？ (A)生產過剩 (B)品質不佳 (C)運費過高 (D)勞力不足

30(D)美國機械化農業發達，當地從事機械化農作的主要原因為何？ (A)面積廣大、勞工眾多 (B)土壤貧瘠、交通不便 (C)工業進步、農作多樣 (D)農地廣大、工資較高。

31(D)加拿大的工商業重鎮多分布於東南部地區，當地因為何種交通運輸便利，有利於聚落發展與產業活動？

(A)鐵路 (B)公路 (C)水運 (D)航空。

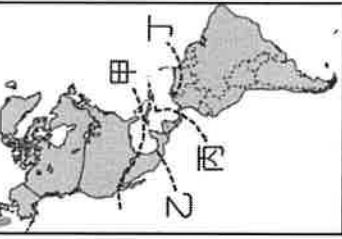
32()美國近兩年來因為頻傳狂牛症的疫情，使該國的牛肉出口受到影響，包括臺灣皆曾禁止美國牛肉的進口。請問：美國的牛肉生產主要位於附圖中哪一個地區？



(A)甲 (B)乙 (C)丙 (D)丁。

33()美國社會為民族的熔爐，各種文化形成其多元特色。請問這種多元文化的起源和下列何項關係最為密切？(A)出生率高(B)死亡率低(C)移出率高(D)移入率高

34()美國電影工業的聖殿——好萊塢，招牌也屢在災難電影中被摧毀。在現實生活中，好萊塢當地最常見的天然災為下列何者？(A)地震頻傳 (B)狂風暴雪 (C)黃沙漫天 (D)海上強風。



35()美洲的疆域主要分界線如附圖所示，畫分盎格魯美洲和拉丁美洲的分界線主要為下列何者？

(A)甲 (B)乙 (C)丙 (D)丁。

36()美國的明尼蘇達州位在蘇必略湖及威斯康辛州西側，其地理位置如附圖深色部分所示。該州的特色為湖泊密布，俗稱為「萬湖之州」。請問：若依地理位置判斷，明尼蘇達州湖泊的形成，最主要是何種地形作用的结果？



(A)火山作用 (B)風蝕作用 (C)河蝕作用 (D)冰蝕作用。

二、題組

(一)CNN報導：「俄羅斯境內在2011年12月發生芮氏規模6.8的地震，相關單位立即檢查境內主要的經濟設施，幸好沒有大礙，否則將對俄羅斯的經濟造成衝擊

。J 請問：

37()若俄羅斯的自然環境特色判斷，這場地震的震央最可能位於哪一個地理區？(A)歐俄平原 (B)西伯利亞平原 (C)西伯利亞高原 (D)西伯利亞山地。

38()這場地震若對當地的下列何項產業設備造成損壞，將會大大影響俄羅斯的經濟發展？

(A)鐵礦區開採設備 (B)針葉林砍伐設備 (C)石油輸出管線 (D)電子工業生產儀器。

39()地震發生後，CNN的美國記者欲前往當地採訪災情時，事先須了解哪一個民族的語言及生活特性，才不會因文化上的隔閡而產生誤解？(A)拉丁人 (B)印第安人 (C)因紐特人 (D)斯拉夫人。

(二)旅遊節目《食尚玩家》前進俄羅斯拍攝，除了參觀紅場附近色彩繽紛的建築外，還搭乘西伯利亞鐵路前往俄羅斯東方的夫拉迪沃斯托克（海參崴）。請問：

40()食尚玩家團隊由臺灣千里迢迢來到俄羅斯，首先拍攝紅場附近的聖巴希爾教堂（如附圖）。根據教堂建築的型態判斷，當地居民的宗教應該為何？



(A)基督教
(B)天主教
(C)伊斯蘭教
(D)東正教。

41()食尚玩家團隊規畫由當地的政經中心搭火車前往西伯利亞，主持群應該前往下列何處搭火車？(A)聖彼得堡 (B)莫斯科 (C)海參崴 (D)維科揚斯克。

42()團隊搭火車前往夫拉迪沃斯托克（海參崴），經過西伯利亞地區，所見到的地形景觀依序為何？(A)高原、山地、平原 (B)山地、高原、平原 (C)平原、高原、山地 (D)平原、山地、高原。

43()團隊曾中途在西伯利亞鐵路沿線下車，看見廣闊的大地上有著無數的管線，這些管線是當地的經濟命脈。請問：該管線主要輸送的物資為何？(A)石油 (B)淡水 (C)煤炭 (D)通訊線路。


44()為俄戰爭開始後，歐洲國家對於俄羅斯之制裁無法迅速且果斷地實行，其原因為何？

(A)畏懼克林姆宮的政治報復 (B)歐盟有意拉攏俄羅

新加入 (C)歐洲國家高度倚賴俄產天然氣 (D)擔心商品出口至俄羅斯遭阻。

(三)美國電影工業相當發達，近年來許多描述因氣候異常而導致災難的電影都大受好評，這些電影常以美國境內氣候災害經常發生的地點作為背景。圖(一)是相關題材的電影海報，請問：

甲



乙 火山爆發



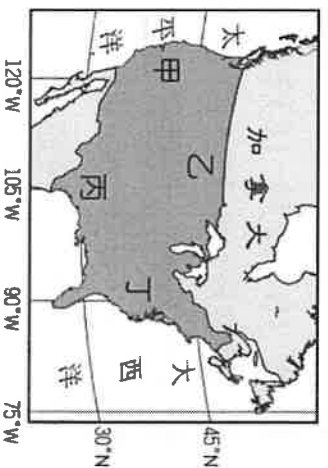
丙 龍捲風



45 (D) 甲圖《超級颶風》電影是以2005年美國卡維娜颶風侵襲為背景，當時濱臨哪一個海域的城鎮遭到了全面性的摧毀？(A)太平洋 (B)北極海 (C)哈得孫灣 (D)墨西哥灣。

46 (A) 乙圖《火山爆發》電影是描述某地區地震頻繁，地質學家前往調查卻經歷災難的驚險過程。電影中地質學家前往調查的地點應位於圖中何處？

- (A)甲 (B)乙
(C)丙 (D)丁。



47 (B) 丙圖《龍捲風》電影是描述一群氣象學家決定近距離研究北美大平原上的龍捲風，卻身陷險境的過程。這些氣象學家在下列哪一個月分出動追風的頻率會較高？(A)2月 (B)5月 (C)8月 (D)11月。

45月春末夏初

(四)美洲的國家眾多，呈現多元化的特色。有西方文化延伸的新大陸色彩，也有結合當地環境特色的古老文明，讓當地的環境特色更加鮮明。有關美洲的特色，請回答下列問題：

48 (C) 馬奎斯來自巴拿馬，為一個浪跡天涯的地理雜誌攝影師。他到美洲各國拍攝旅遊特輯照片的過程中，下列哪一個國家所呈現的文化特色、宗教活動、通行語言文字等，和其他三國完全不同？(A)烏拉圭 (B)阿根廷 (C)加拿大 (D)巴拿馬。

49 (A) 美洲在文化變遷的過程當中，其文化特色、語言及產業活動上受到歐洲殖民者的影響相當明顯。其中美、加所在的北美洲最受下列哪個國家的影響？(A)英國 (B)荷蘭 (C)葡萄牙 (D)西班牙。

50 (C) 北美洲在工業化後經濟發展相當快速，其重要的因素為當地優越的交通位置。北美洲的地理位置位於哪兩個海洋之間，有利於貨物往來交通？(A)印度洋、大西洋 (B)印度洋、太平洋 (C)太平洋、大西洋 (D)大西洋、北海。



試題結束，把握時間檢查作答與劃卡吧！

