

班級 _____ 姓名 _____ 座號 _____ 說明：請正確畫卡，造成讀卡作業判讀有誤者-5分。

年級：【3】班級：1班填【1】2班填【2】3班填【3】科目代碼：【43】

一、單題：每題2分，共分

1(✓)亞馬孫河及剛果河為世界流域面積最大的兩條河川，其共同的特色為下列何者？ (A)皆位於非洲境內 (B)皆為高原地形 (C)皆屬於熱帶雨林氣候 (D)皆位於北回歸線上。

2(✓)巴拿馬運河為美洲相當重要的航行要道。請問：下列哪個地區之間的船運不須經過該處？ (A)美國紐約至日本東京 (B)加拿大多倫多至韓國釜山 (C)美國紐約至英國倫敦 (D)美國洛杉磯至荷蘭鹿特丹。

3(✗)澳洲為降低農業經營風險，所以發展混合農業，目前該區主要種植的穀類作物為何？ (A)玉米 (B)小麥 (C)小米 (D)稻米

4(✗)植物學家 Kyle 到中南美洲進行考察，若他從 GPS 上判斷目前的位置為西經 60 度、南緯 2 度。請問他所見到的植物景觀為何？(A)寸草不生的漠地(B)樹叢茂密的雨林(C)疏林高草的莽原(D)高聳整齊的針葉林。

5(✗)簡寓為經驗豐富的登山家，但他攀爬安地斯山脈時仍存著戒心。由山下氣溫近 30℃，一路向上氣溫漸低，最後低至 0℃ 以下，若遇到水氣旺盛的時候，還會見到滿天降雪的景象，更提高對自然環境的挑戰性。請問：根據上述，當時簡寓所攀爬山段的緯度位置最可能為下列何處？ (A)北緯 40~50 度 (B)南緯 0~10 度 (C)南緯 30 至 40 度 (D)南緯 40 至 50 度。

6(A)巴西為中南美洲相當重要的國家。請問：下列有關該國的敘述，何者錯誤？ (A)溫帶疆域面積廣大 (B)為中南美洲人口最多的國家 (C)鐵礦豐富工業發達 (D)咖啡、甘蔗產量第一。



7(✗)照片所示為紐西蘭某處奇異果園，果園旁邊矗立一面高大樹牆，以阻擋盛行風的吹襲。此樹牆主要是阻擋下列哪一風向的風？

(A)東風 (B)西風 (C)東南風 (D)東北風

8(✗)隨著交通運輸的發展，國際間區域分工愈趨精細，可利用不同國家的地理條件發展不同產業，建立起相互合作的關係。如某咖啡工廠的原豆多來自於馬來西亞等地，但由於農產品生產具季節性，因此為穩定原料能

全年供應，該國最適合於何處投資咖啡農場？

(A)墨西哥 (B)巴西 (C)阿根廷 (D)印度。
9(✗)臺灣地處北半球及東半球。請問：世界哪一個地區正好位於西半球、南半球，且有回歸線經過，因此和臺灣分別位於地球的兩端？(A)北美洲 (B)澳洲 (C)中美洲 (D)南美洲。

10(✗)采訢從美國邊境進入墨西哥旅行，一路往南遊玩，請問她在移動的過程中，會發現下列何種變遷？ (A)地勢逐漸變高 (B)陸地所橫跨之經度縮減 (C)英語日漸通行 (D)氣溫逐漸寒冷。

11(✗)西北航道是指從大西洋經北極海，再進入太平洋的航道，以往受冰封影響，航運有限；但 2007 年海冰融化程度加大，航運之利已有改善。若該航道將來進入大規模商業運輸的階段，最不利下列哪個國家的經濟發展？ (A)埃及 (B)日本 (C)加拿大 (D)巴拿馬。

12(✗)某國被稱作「騎在羊背上的、坐在礦車上的、手持麥穗的國家」，此國的觀光業也相當發達。請問此國所訴求的旅遊特色應為下列何者？ (A)雪國風光 (B)歷史古國 (C)高山體趣 (D)生物特有種之旅

13(✗)西元 1492 年，哥倫布在西班牙王室的贊助下發現新大陸後，中南美洲的原住民便因此受到重大的衝擊。請問：下列相關敘述中何者最為正確？ (A)西班牙人和原住民和平共處，引進歐洲的新技術和基督教，造福原住民 (B)西班牙人和當地原住民通婚，各族群彼此融合，造成族群混血比例高 (C)西班牙人尊重當地傳統文化，採取保護政策，印加及馬雅文化得以保存 (D)西班牙在當地與英國人貿易，故廣泛推廣英語，成為目前的主要語言。

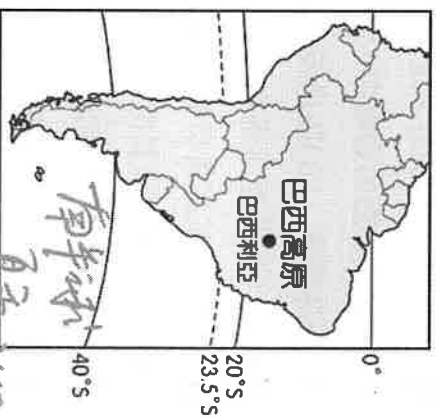
14(✗)塔斯馬尼亞島位於澳洲東南外海，與澳洲隔海相望，是降水相當豐沛的地區，境內 98% 的電力依賴水力發電。該島降水豐沛的主因為？ (A)多帶留鋒面 (B)面迎西風 (C)受 I.T.C.Z. 影響 (D)受東南信風吹拂

15(✗)歐洲殖民國家在中南美洲從事熱帶栽培業及礦業開採，最主要的區位因素為下列哪些？ (A)溫暖乾旱氣候、勞工工資較低 (B)炎熱溼潤氣候、勞工技術進步 (C)乾溼分明氣候、勞工素質較高 (D)終年氣候暖溼、勞工工資便宜。

- 16(A) 每年 2 月巴西會舉行為期數天的「狂歡節」，眾人隨著節奏強烈的森巴舞，民眾也開心的手舞足蹈，慶典華麗、熱鬧，常吸引各地的觀光客。在這場熱鬧的嘉年華會中最不可能融合哪一民族的特色？ (A) 因紐特人 (B) 印第安人 (C) 非洲黑人 (D) 葡萄牙人。
- 17(B) 「由於地緣關係，甲國為日本國內汽車與鋼鐵工業的最大原料供應國，此外亦是中國、韓國等亞洲主要工業國鐵砂原料的來源地。」文中的甲國應為何者？

(A) 緬甸 (B) 澳洲 (C) 巴西 (D) 古巴

- 18(A) 巴西政府為了平衡區域發展，促進經濟成長，將首都從沿海的里約遷至高原上的巴西利亞，以加速內陸地區的開發。由附圖中的地理位置判斷，在下列哪個時節前往巴西的首都參訪時，碰到降水的機率最高？



(A) 元宵節 (B) 清明節 (C) 中元節 (D) 中秋節。

- 19(B) 附圖是某地的板塊分布圖，圖中的板塊撞擊形成哪一座高山？

(A) 洛磯山脈
(B) 安地斯山脈
(C) 阿爾卑斯山
(D) 南阿爾卑斯山。



- 20(D) 健豪的旅遊日記寫著：「這裡號稱是最大的生物資源寶庫，植物和鳥類的種類占世界品種一半以上，但是天氣很悶，讓我覺得不是很舒適。」由以上敘述可推知，該旅遊地區的植被種類為下列哪一項？ (A) 苔原 (B) 針葉林 (C) 溼草原 (D) 熱帶雨林。

- 21(B) 2019 年是澳洲有史以來最熱、最乾燥的一年，比起往年的均溫高出了 2°C。數月來，澳洲人在各地發起遊行，要求政府必須採取積極的行動來遏止氣候變遷。澳洲的哪些產業活動與全球暖化的環境問題最相關？ (A) 礦業；(B) 農業；(C) 畜牧業；(D) 觀光業。

(A) 甲乙 (B) 甲丙 (C) 乙丁 (D) 丙丁

- 22(D) 企業為了降低生產成本，追求最高利潤，在選擇設廠地點時，通常會考量原料、動力、勞工、市場等區位條件。下列選項中，企業設廠主要考量的區位條件，

何者與其他三者差異最大？ (A) 臺灣在民國 50 年代設立加工出口區，發展紡織、電子組裝等加工業 (B) 中國於沿海地區設立經濟特區，吸引外商前往投資玩具、製鞋等工業 (C) 日本於 1980 年代，產業開始外移，家電公司紛紛至東南亞設立工廠 (D) 委內瑞拉為石油輸出國家組織會員國，有不少外商前往投資石化工業。

- 23(C) 根據報導，臺灣立委因為協助臺灣拓展與某國的醫療外交，藉由其原住民身分與該國之原住民同血緣背景的關係，推動臺灣衛生福利部協助該國編撰草藥藥典，而獲得該國國王頒發皇室勳章，請問該國最可能是哪一國？ (A) 日本 (B) 澳洲 (C) 紐西蘭 (D) 巴基斯坦
- 24(D) 阿瓜到秘魯參觀古印加文化遺址，導遊說原住民曾在此地建立輝煌的文化與帝國，但如今已不復存在。下列哪一項是導致當地古文化消失的直接原因？ (A) 熱帶雨林消失 (B) 非洲黑奴輸入 (C) 火山活動頻繁 (D) 西班牙的侵略。

- 25(C) 國際組織內的會員國常會利用各自的優勢，以分工的方式進行生產活動，例如加入歐盟後的東歐各國，透過低廉的勞力等優勢，成為歐盟的「組裝基地」。相較於歐盟，北美自由貿易協定中的哪一個國家，所扮演的角色與東歐各國類似？ (A) 美國 (B) 巴拿馬 (C) 墨西哥 (D) 加拿大。

26(B) 表為澳、紐兩國之比較，下列哪兩項比較最正確

	(甲) 主要地質	(乙) 人口分布	(丙) 主要盛行風帶	(丁) 原住民語系
澳洲	古陸塊	集中於東南沿海	東南信風	南島語系的 Aborigines
紐西蘭	新褶曲山地	南島多於北島	西風	南島語系的 Māori

(A) 甲乙 (B) 甲丙 (C) 乙丁 (D) 丙丁。

- 27(D) 西印度群島位於中美洲，自然景觀相當優美，因此成為美國人的度假勝地。請問：該群島主要分布於哪一個海域？

(A) 波羅的海 (B) 地中海 (C) 北海 (D) 加勒比海。

- 28(B) 近年來紐、澳積極脫歐入亞，其主要原因為何？ (A) 歐洲爆發金融海嘯 (B) 歐盟漸趨成熟，區域經貿整合 (C) 推動亞太經濟合作會議 (D) 歐盟在世界經濟板塊的勢力已經沒落

- 29(A) 2016 年的奧運在巴西舉辦，除了奧運賽事之外

，當地還擁有許多迷人的沙灘風情，吸引許多觀光客前往。請問：巴西迷人的沙灘是瀕臨哪一海洋？ (A)大西洋 (B)印度洋 (C)地中海 (D)太平洋。

30(B)大洋洲第二大淡水湖為火山爆發後形成的巨大火山口，積水形成的一座湖泊，外形像是顆心臟，其壯闊程度不可言喻，即使是現在仍可見到滾燙、冒著熱氣的噴口，還能在湖邊的沙灘上撿到「浮石」。以上敘述的湖泊最可能位於下列何處？ (A)紐西蘭南島 (B)紐西蘭北島 (C)塔斯馬尼亞島 (D)澳洲艾爾斯岩

31(A)智利北部的阿塔卡馬沙漠，曾創下連續 173 個月未降水紀錄。但在 2016 年卻因受到全球氣候異常影響，鄰近的海域水氣大增，而在當地降下大雨，雨後竟然出現一片粉紅花海。上文中的海域應該為下列何者？

(A)太平洋 (B)大西洋 (C)加勒比海 (D)墨西哥灣

32(D)紐西蘭是個經貿高度自由化的國家，下列有關該國的介紹何者正確？ (A)太平洋島國論壇主導國家之一 (B)東南亞國協成員國之一 (C)種族單一文化同質性高 (D)以工礦產業為發展主軸的國家

33(C)美洲大陸所跨越的緯度範圍極大，因此各地的活動皆不相同。請問下列哪一個地區疆域範圍跨越南北半球？ (A)北美洲 (B)巴哈馬群島 (C)南美洲 (D)中美地峽

34(C)阿根廷南端的巴塔哥尼亞高原為溫帶沙漠氣候，因此影響該地區的產業活動。請問當地形成沙漠氣候的主要原因為下列何者？ (A)高氣壓籠罩 (B)風向變化 (C)背西風坡 (D)暖流經過。

35(D)許多語言學者和考古學家都曾研究指出，臺灣是南島語系的發祥地，太平洋的玻里尼西亞島群皆為南島

民族，圖為南島民族自臺灣擴散至太平洋島嶼的路線圖，圖中南島民族遷移或擴散的過程中，哪個島嶼不屬於「玻里尼西亞」？



(A)東加 (B)夏威夷 (C)皮特肯群島 (D)俾斯麥群島

36(D)下列何種天然植被具有調節地球大氣的功能，有利提供充足的氧氣，因此被稱為「地球之肺」？

(A)針葉林 (B)莽原 (C)苔原 (D)雨林。

37(D)澳洲有「島洲」之稱，離各大洲均超過 10,000

公里，形勢孤立。下列當地的哪一現象與這種孤立位置關係最密切？ (A)鄰近的海洋對澳洲發展影響甚小 (B)原住人口占總數 80% (C)氣候上乾燥性質顯著 (D)許多動植物堪稱活化石

38(C)美國日前對於墨西哥祭出許多新措施，如在兩國邊境上築高牆以防止偷渡，並要求設置於墨西哥的公司回美國生產，造成兩國間的緊張關係。下列哪一個國家和這兩國同為 USMCA 的國家成員，最有機會成為和事佬？ (A)巴西 (B)阿根廷 (C)加拿大 (D)智利。

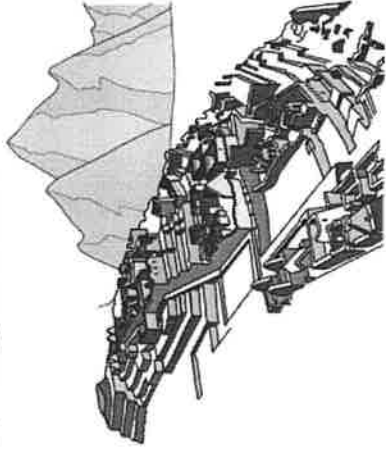
39(A)澳洲前總理陸克文 (Kevin Michael Rudd) 於 2008 年 2 月 13 日代表澳洲政府，針對 1970 年代原住民同化政策，向「被偷走的一代」 (Stolen Generations) 正式道歉。當日在雪梨市中心廣場聆聽

的原住民激動落淚的表示「今天是第一步，我們希望將是真正的和解」。政策中為使原住民孩童接受正統的語言教育，將其寄養於白人家庭中，但也因此剝奪了孩童學習母語的機會，造成原住民文化傳承上的斷層。所謂「正統的語言」是指何種語言？ (A)英語 (B)法語 (C)西班牙語 (D)葡萄牙語。

40(D)受到中南美洲的氣候特色及廉價勞工的影響，該地區主要從事的農業類型為下列何者？ (A)商業性穀物 (B)集約水稻種植 (C)地中海型農業 (D)熱帶栽培業。

41(C)臺灣的電子產品主要出口至美國，但為避免造成過度的貿易出超及付出高額的關稅，在生產成本的考慮下，前往下列何處設廠較為適合？ (A)美國 (B)加拿大 (C)墨西哥 (D)巴西。

42(D)附圖為南美洲印加古文明的農業景觀，其聚落分布亦依其特色而興建，形成獨特的區域特色。下列何者為形成這種農業景觀的主要原因？



(A)終年高溫 (B)土壤肥沃 (C)乾溼分明 (D)地形崎嶇。

二、題組：每題 2 分

1. 澳洲袋熊排泄形狀方正的大便，一直令人大惑不解，2018 年 11 月出版的國家地理雜誌提供了答案。雖然看起來像毛絨玩具，但在野外的袋熊其實深具領地意識

，受到威脅時會發動攻擊。不過大部分的時候，牠們不愛打架，只想離群索居。方形便便這時便派上用場。根據國家地理雜誌說明，袋熊每晚可排泄出高達 100 塊方形便便，將自己的居住地圍起來，警告其他袋熊別靠近。嚇阻陌生袋熊靠近，能避免衝突和受傷，也就增加了繁殖成功的機會。如果排泄出易於滾動的圓形大便，則不利於圍地。請問：

43 () 能有袋熊這種絕無僅有的生物，和當地的哪些地理特色最有關係？(甲)古老陸塊；() 孤立位置；() 四面環海；(丁)廣大沙漠。(A)甲丙 (B)甲丁 (C)乙丙 (D)乙丁

44 () 文中提到袋熊之所以產生方形便便的原因，以下哪個選項正確？(甲)嚇阻陌生的人類；(乙)不喜群體生活；(丙)圈出居住地；(丁)增加繁殖的機會。

(A)甲乙丙 (B)甲乙丁 (C)甲丙丁 (D)乙丙丁

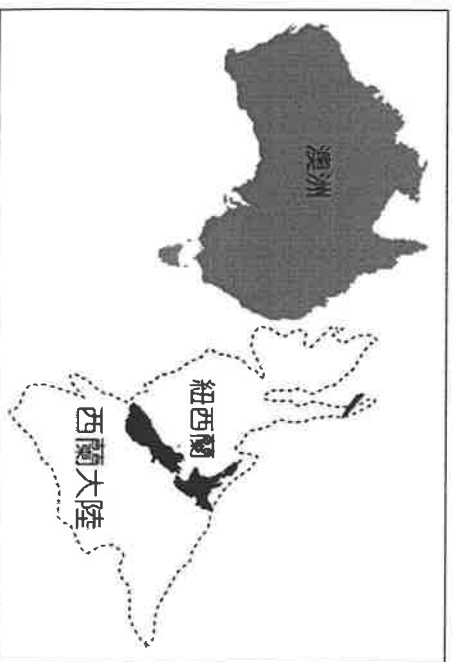
2.小說《白鯨記》是描述 1820 年「艾塞克斯號」捕鯨船在南太平洋遭到抹香鯨攻擊的始末。該船的航程大致如下：「從美國東北角的家鄉出發後，直接航行在(甲)大西洋中，後又順風南下，越過赤道，沿著巴西暖流南下，經過南美洲最南端受到強勁(乙)風的阻力，費力地穿越南美洲後，才順著(丙)國家沿岸，到達太平洋東南漁場找尋更多的鯨魚，不幸卻遭到鯨魚衝撞，最後僅 2 人獲救。」請依上文，回答下列問題：

45 () 上文中提到的(甲)海洋最可能是指下列何者？(A)北極海(B)墨西哥灣(C)加勒比海(D)大西洋。

46 () 上文中提到在穿越南美洲最南端時，所遇到的強烈(乙)風，最可能為下列何者？(A)颶風 (B)季風 (C)西風 (D)颱風。

47 () 上文中提到該捕鯨船穿越美洲南端後，一路沿著(丙)國家北上，繼續航程。請問：丙國應該為下列何者？(A)巴西 (B)智利 (C)阿根廷 (D)墨西哥。

3.圖為沉沒的西蘭大陸與澳洲的對比。請問：




48 () 西蘭大陸大部分地區在 8500~6000 萬年前沉沒於海底，現今僅有少部分陸地因板塊運動露出海面，而露出的部分最有名的便是紐西蘭的南北島。下列現象的呈現何者與紐西蘭浮出海面的原因「無關」？

(A)多火山地震 (B)以峽灣地形聞名於世 (C)大量利用地熱資源作為能源使用 (D)南島西部有高大的南阿爾卑斯山脈，最高峰庫克山達 3724 公尺

49 () 紐西蘭近年推出無貓、無鼠計畫，希望解決過多外來種造成原生物種減少的问题。學者指出如果不是蝙蝠及海洋哺乳類的話，幾百年前的紐西蘭幾乎是沒有哺乳動物的，反而是充滿奇異鳥、南秧雞、鴉鸚鵡、紐西蘭壁虎和鱷蜥的國度。造成紐西蘭的物種如此特殊的主要原因為何？(A)形成時間晚，遠離主要大陸 (B)南北半球氣候差異 (C)殖民者大量撲殺原生物種 (D)大型肉食動物種類多，造成弱勢物種無法生存

50 () 紐西蘭於 2016 年曾對國旗進行公投，可看出其積極擺脫殖民地的歷史色彩，公投結果多數民眾仍傾向圖右的原國旗。從國旗可知紐西蘭受哪國殖民影響較大？



(A)法國 (B)西班牙 (C)葡萄牙 (D)英國

試題結束，請把握時間檢查作答！

