

劃卡說明：請確實寫上班級、姓名與座號，造成讀卡作業判讀有誤者-5分。

年級：【2】班級：1 班填【4】2 班填【5】3 班填【6】科目：【09】組別：國中部【04】

一、單題

1. (C) 附圖為中國內陸地區和沿海地區資源與人口間供

需關係的示意圖，下列關於該

圖的描述何者正確？(A)沿海

地區人口壓力較小 (B)內陸

地區資源總消耗量較大 (C)

沿海地區資源需求壓力較大

(D)資源供應量沿海少於內陸地區

2. (C) 「深圳因民工多，有業者看準這股商機，推出一

種用貨櫃做成的廉價旅館，住宿一個晚上的費用不到新

臺幣 30 元，儘管如此，仍有許多在內陸地區找不到工

作而流浪至此打工的人，負擔不起這筆費用。」上述情

況可能與下列哪一中國社會現象的關係最密切？(A)人

口數量過多 (B) 勞工成本上漲 (C) 區域發展不均 (

D) 外資製造業比例下降。

3. (B) 附圖為報紙的一部分

，由報導的內容可以看出當

時中國具有下列哪一項優越

的區位條件？(A)原料豐富

(B)市場廣大 (C)科技發達

(D)勞工充足。

4. (A) 「每年農曆春節前後，中國有數億離鄉工作的人

口，藉由鐵、公路往返於家鄉與工作地點間，龐大人潮

常造成運輸系統的壅塞，也使得政府運輸部門如臨大敵

，此即為「春運現象」。」根據上文所述，返鄉人潮最

多的移動方向應為下列何者？(A)西部→中部 (B)中

部→西部 (C)東部→中部 (D)中部→東部。

5. (D) 近年來，中國許多內陸的民工不願再到沿海地區

工作，反而留在家鄉就業，使沿海地區爆發嚴重的「缺

工潮」，沿海工廠只好不斷放寬條件限制，或以其他誘

因來吸引員工。下列何者最可能是造成上述缺工潮的原

因？(A)沿海地區的工廠外移 (B)內陸地區的物價高漲

(C)沿海地區薪資所得降低 (D)內陸地區就業機會增加

6. (C) 工業發展的過程中，隨著交通革命的進步，紛

紛視各地生產條件的差異而將工廠設於不同國家。由於

許多商品在中國製造的產量高居世界第一，因此中國有

了「世界工廠」的稱號。請問：當時中國生產的產品因

為具備下列何項特質，故有利於行銷世界各地？ (A)


技術進步 (B)知名品牌 (C)價格低廉 (D)設計精美

7. (A) 中國的消費人口眾多，因此農業生產為該國重要

的基礎產業。附圖為該國的農作栽種面積變化圖，其主

要影響因素為下列何者？(A)市場需求改變(B)農地生態

保育(C)農村人口外移(D)氣候變遷影響。



農作物總面積 14.6 千萬公頃 農作物總面積 16.6 千萬公頃

8. (A) 隨著經濟的發展，中國的飲食習慣出現改變，畜

牧業的需求量與日俱增。然而中國卻在近年出現大規模

的禽流感和非洲豬瘟等問題，重創相關產業的發展。上

述相關疫情和下列何種養殖方式的的關係最大？ (A)

集約化 (B)多樣化 (C)環保化 (D)都市化。

9. (B) 阿元欲前往中國投資，下列有關各項產業區位的

評估中，何者正確？(A)南部礦產豐富，利於興建大鋼

鐵廠(B)沿海地區交通便捷，適合開設商業銀行(C)西部

內陸工資低廉，有利加工生產出口(D)北部僑資眾多，

資金募集較為有利。

10. (C) 農業活動中受到自然

環境的影響相當大，其中灌

溉水源為農業發展必要的條

件。中國的水資源由於人口

增加及工商業的使用，漸趨

不足，其分布狀況如附圖所

示。請問圖中水資源嚴重短缺的地區大多位在何處？

(A)珠江三角洲(B)東北平原(C)華北平原(D)青藏高原

11. (A) 1960 年代前，中國著重發展重工業，主要集中

在中國的北部與東北部，例如：中國第一輛國產汽車就

在吉林省長春市製造。請問：影響早期中國重工業分布

的區位因素為何？ (A)原料區位 (B)交通區位 (C)

勞力區位 (D)市場區位。

12. (C) 改革開放後經濟快速成長，但是卻加深區域發



發展失衡現象。下列關於中國的新聞報導，何者最能反映中國區域發展不均的現象？(A)今年出現的多起沙塵暴，已直接威脅北京、上海及南京等大都市 (B)推動海上絲路計畫，發展從中國沿海港口經印度洋至歐洲的航線 (C)農曆春節將湧現數億人次返鄉人潮，堪稱地表最大規模的人口移動 (D)南方近年降雨減少，旱象環生，南水北調將威脅南方用水的供應量。

13. (D) 中國東北平原平坦遼闊，從事農業人口少，故採取何種措施解決人力缺乏問題？(A)招募移工(B)生態農業(C)自然農法(D)機械化耕作。

14. (B) 中國最大乳製品企業「伊利酸奶」由於贊助許多歌唱節目，因此逐漸在中國國內闖出名號，成為眾所皆知的乳品。請問：伊利酸奶為了確保大量乳製品原料的來源，最可能和圖中哪一個地區的畜牧業者合作？



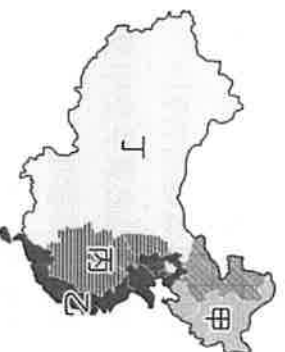
(A) 甲 (B) 乙 (C) 丙 (D) 丁。

15. (D) 承上題，有關該區之畜牧環境，以下哪位同學的敘述最為正確？

- (A) 培培：「小規模飼養，採人工餵養。」
- (B) 阿琪：「該區連日降水，須注意防潮。」
- (C) 小瑋：「採放牧，牧人們逐水草而居。」
- (D) 丰哥：「科技化的方式管理，提高經營效率」

16. (B) 中國經濟改革開放後，最早設立的五個經濟特區在下列哪一個經濟帶？

- (A) 甲(B)乙(C)丙(D)丁。



17. (B) 下列哪一個都市位於中國海岸線及長江交會點，交通便利且腹地廣大，是中國工商業與金融中心？

- (A) 北京 (B) 上海 (C) 深圳 (D) 廣州。

18. (C) 中國南部沿海地區，由早期的人口移出轉變為人口移入，該地區目前主要以哪一個發展條件吸引人口移入？(A)自然環境優良 (B)土地面積廣大 (C)就業機會較多 (D)出海較為便利。

19. (C) 根據國際貨幣基金提供的資料顯示，2015 年中國 GDP 高居世界第二，然而人均 GDP 卻僅約 8000 美元，這和中國的哪一項特色有關？(A)工業技術層次低落(B)產品附加價值偏低(C)人口數量世界第一(D)大量

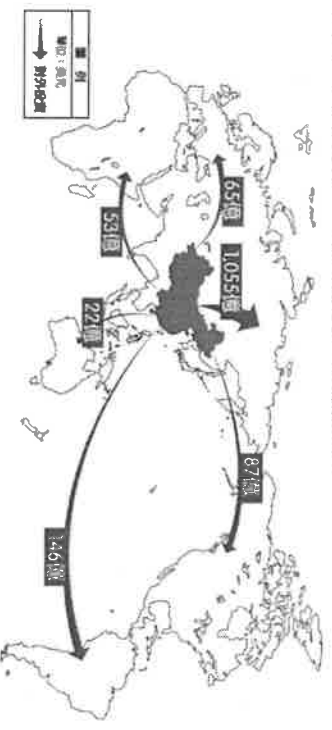
產品出口海外。

20. () 《穹頂之下》是 2015 年中國媒體人——柴靜女士，指出關於中國嚴重空氣污染的調查片。請問：中國東北、華北平原地區的空气污染，可能和當地發展下列何種產業有關？(A)農業(B)鋼鐵工業(C)紡織工業(D)食品加工業。

21. () 中國自實施新的勞工法規後，企業的勞力成本大幅增加。此時中國境內哪一個經濟區因為工資相對低廉，又處於東西交通的中樞位置，且資源豐富，成為今日外資積極投資的新興地區？(A)東北地區(B)東部地區(C)中部地區(D)西部地區。

22. (D) 截至 2021 年，臺灣有 2 家蘋果直營店，中國則有 43 家，為美國之外店面最多的國家，此與中國哪一稱號有關？(A)世界中心 (B)世界工廠 (C)世界農場 (D)世界市場。

23. (B) 附圖是 2018 年中國對各洲投資金額示意圖，圖中中國對哪一洲投資金額最高？



- (A) 非洲 (B) 亞洲 (C) 大洋洲 (D) 南美洲。

24. (A) 附圖為 RCEP 簽署國分布圖，這些會員國不包括哪一國家？

- (A) 印度(B)中國(C)日本(D)澳洲

25. (D) 中國龐大的消費能力，使阿里巴巴、淘寶天貓等網路購物平臺在中國蓬勃發展，這是何種交易活動的興起？

- (A) 批發(B)直銷(C)量販(D)電商



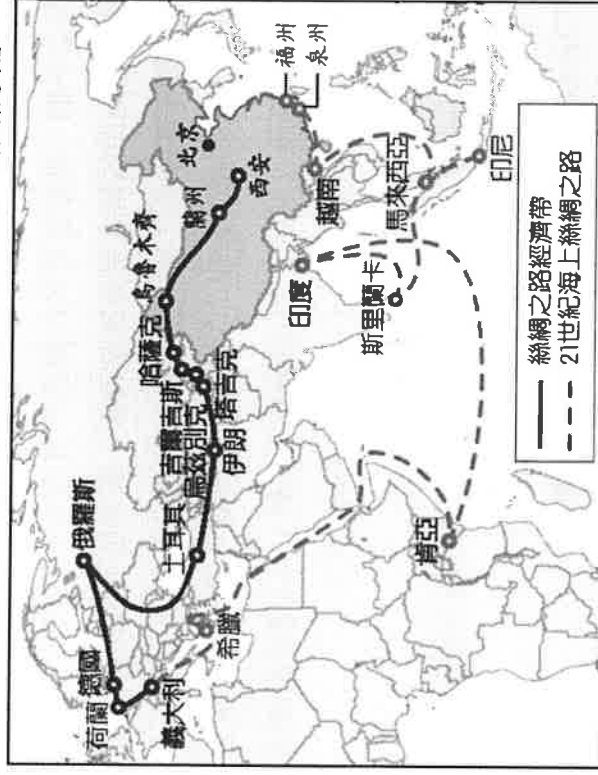
26. (B) 蘋果公司總裁庫克連續三年前往中國，並接受中國官媒新華社專訪，庫克表示中國將超越美國，成為蘋果公司全球最大市場。請問中國成為蘋果公司的主力市場，與下列哪一條件相關？(A)國民所得最高 (B)消費人口眾多 (C)工業生產重鎮 (D)交通運輸方便。

27. (C) 臺灣在民國 80 年代時有許多工廠遷往中國設廠，這些工廠多是因為臺灣哪一項工業生產條件的變化而遷移？(A)礦藏挖掘殆盡 (B)海運交通受阻 (C)勞工工資上漲 (D)生產技術落後。

28. (A) 中國河北省自然環境資源廳紀錄：「塔吉克斯坦(塔吉克)是中亞地區國土面積最小的國家，人口約932萬人。境內多山，約佔國土面積93%，其東部、東南部與我國新疆維吾爾自治區接壤。成礦條件好，資源潛力大，目前已探明且待開發的金屬礦床和非金屬礦床有600多個，主要礦產有煤、鈾、金、銀、鉛、鋅、銻、汞、鎢、錫等，次要礦產有石油、天然氣、銅、鉬、鐵、螢石、磷塊岩等。」中國於中亞的塔吉克所進行的投資，其主要目的最可能為下列何者？(A)獲取資源(B)延攬技術勞工(C)擴展本國領土(D)擴大銷售版圖。
29. (D) 承上題，塔吉克為中國一帶一路的參與國，中國與其之貨物往來性質與下列何國較為相像？(A)日本(B)荷蘭(C)越南(D)哈薩克
30. (A) 中國企業近年來由於經濟發展快速，快速累積大量資金，因此紛紛併購國外企業，希望加速國內產業升級。在此目的下，下列哪一個企業較不會被納入併購的名單中？(A)愛德華成衣工廠(B)湯姆生電動汽車(C)捷速個人電腦公司(D)湛藍高精密光學鏡頭。

二、題組

(一) 中國在改革開放後，經濟發展上見到成效，和美國並列為世界兩大經濟強國，其國內生產毛額及對外投資金額高居世界第二、消費量亦有顯著成長。近年來中國為擴展自身經濟版圖與國際影響力，在2013年推出「一帶一路」的經濟政策，附圖為中國一帶一路路線圖。

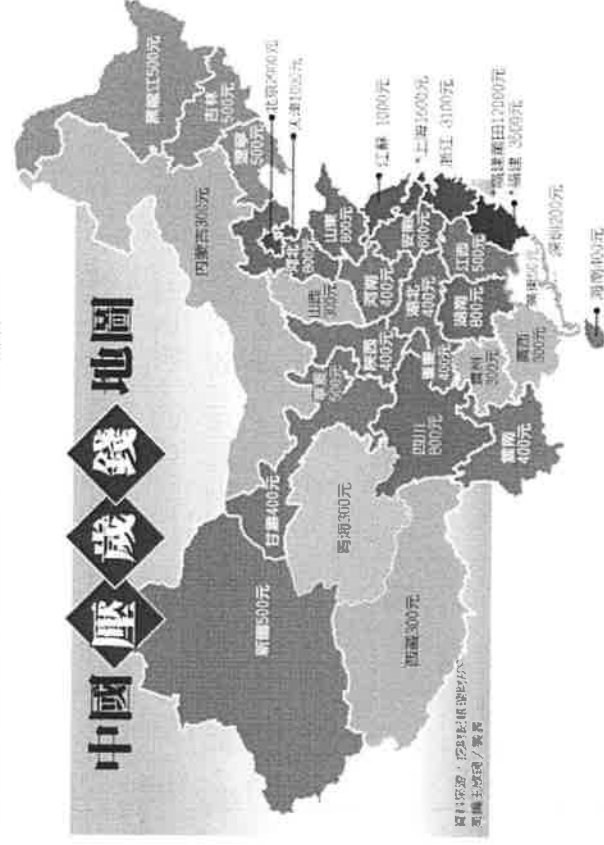


31. (B) 請問絲綢之路經濟帶最遠到達哪一個國家？(A)肯亞(B)荷蘭(C)哈薩克(D)土耳其。
32. (C) 請問海上絲綢路主要走的路線，經過哪一個大洋？(A)太平洋(B)大西洋(C)印度洋(D)北極海。
33. (A) 一帶一路計畫包含了兩個交通路線，其中「絲綢之路經濟帶」主要申聯哪兩洲的商業運輸？

- (A)亞洲、歐洲(B)亞洲、非洲(C)非洲、歐洲(D)東北亞、東南亞。

34. (C) 中國希望藉由交通發展申聯周圍國家，讓中國成為該地區的經濟火車頭，其沿線國家多數具有下列何項特質？(A)農耕技術進步(B)水患洪災頻仍(C)工礦資源豐富(D)種族宗教相同。
35. (D) 一帶一路的參與國家普遍經濟發展不高，這些國家希望藉由引入中國資金促進國內經濟發展，但卻也面臨到許多變數與問題，其中不包括以下哪一項？(A)參與國面臨龐大債務負擔(B)中國左右參與國政治與經濟發展(C)參與國與中國發生利益糾紛(D)參與國引進大量國際移民。

(二) 在華人社會中，每逢農曆過年，小孩子們最期待的就是領壓歲錢的時刻了。臺灣小孩平均收到壓歲錢約為3000臺幣(約為700人民幣)與中國的四川、湖南、安徽相近。金額最高的前三名為北京、浙江、福建，分別為2900、3100、3500人民幣。(1人民幣約4.4臺幣)反觀GDP名列前茅的廣東省，壓歲錢卻意外地少，係因在珠三角地區過年的紅包不僅是發給自家孩子，見面認識的都會給，例如出門見到鄰居小孩要給個紅包，去到社區門口，每個保安也要給個紅包，見到親戚朋友也都會給，意在圖個吉利，金額無須多。



36. (D) 根據中國各省區壓歲錢地圖，中國哪個經濟分區的平均壓歲錢較多？(A)西部(B)東北(C)中部(D)東部
37. (A) 承上題，平均壓歲錢較少之經濟分區，其經濟發展限制與何種因素較為相關？(A)位處內陸，地勢崎嶇交通網絡疏散(B)缺乏天然資源，無開發價值(C)與邊境國家衝突不斷(D)發展早，機具老舊，產業亟欲轉型。

(三)資料一 《報導者》指出：「……**少數民族**從再教育營離開之後，進入工廠，無止盡地被監視，同時被迫成為一帶一路的製造生力軍。中國出產的棉 8 成來自○○，若紡織業為主的教培中心生產線繼續建，全球都可能穿上黑工廠產品……。」

資料二 《BBC 中文》報導：「部分西方公司因對○○侵犯人權的指控表示關注而遭到中國消費者抵制，中國外交部發言人更表示：『任何冒犯中國人民的人都應該準備付出代價。』瑞典時尚零售商 H&M 是此次抵制的主要目標，但 NIKE、Adidas 和 PUMA 也受到了影響，它們都是良好棉花發展協會 (BCI) 的成員，這是促進可持續棉花生產的非盈利組織。H&M 在中國主要電商平台上遭到屏蔽，其實體店也從一些電子地圖上消失了，20 家 H&M 門店至今仍然關閉。目前 H&M 94.8% 的服裝銷往其他國家，但中國日益增長的財富可能會影響到該公司未來幾年的業績增長。」

38. (C) 請問文中○○地區應為下列何者？

(A) 西藏 (B) 雲貴 (C) 新疆 (D) 廣西

39. (D) 該地區遭受非人道對待之少數民族最可能為下列何者？(A) 壯族 (B) 傣族 (C) 鄂溫克族 (D) 維吾爾族

40. (D) 中國倚賴勞力密集型產業累積資金，一面取得他國技術經驗，現今成衣與製鞋產業已不再是中國發展重心，上述產業最可能轉移至下列何國？(A) 俄羅斯 (B) 比利時 (C) 加拿大 (D) 衣索比亞

(四) 中國各大都市各有不同的發展歷程與特色，以下是北京、上海、喀什、深圳的描述，請配合下方地圖，填入對應城市。

41. (D) 位於珠江三角洲，鄰近香港、澳門。設立經濟特區後，吸引大量新創企業與人才

(A) A (B) B (C) C (D) D

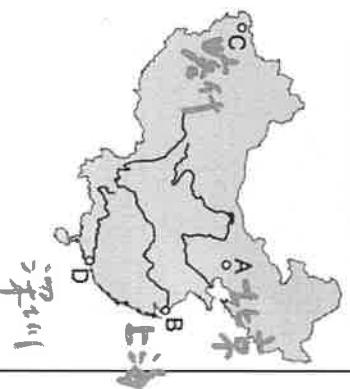
42. (B) 地處中國海岸線中點

和長江的出海口，因交通位置優越且腹地廣大，快速發展成中國重要的金融中心。(A) A (B) B (C) C (D) D

43. (C) 位於中國西部大開發區域，因與鄰國接壤，邊境貿易興盛，是經濟特區之一。(A) A (B) B (C) C (D) D

44. (A) 國家政治中心，也以豐富悠久的歷史文化聞名。

(A) A (B) B (C) C (D) D



(五) 中國以農立國，自 1980 年代進行○○○○後，產業結構轉變，2016 年二、三級產業總值超過全國 GDP 的 90%。21 世紀的中國，讓世界看到古老帝國的再出發，更享有世界工廠、世界市場之稱，除了持續吸引外國企業投資之外，中國對外投資也逐年攀升，以新興資本市場之姿進入全球經濟體系，並對世界造成巨大影響，近年更企圖透過一帶一路倡議，展現其在世界體系中的影響力。請問：

45. (D) 文中○○○○最可能是下列何者？

(A) 海外殖民 (B) 計畫經濟 (C) 宗教革命 (D) 改革開放

46. (C) 有關中國成為世界工廠和世界市場的說明，正確的是？(A) 中國因海外殖民地最多，奠定其世界工廠的地位 (B) 世界工廠主要得力於中國有大量技術性勞工 (C) 中國因所得提升且人口眾多，而享有世界市場美名 (D) 計畫經濟推動促使民間消費力道強勁，成為世界市場

47. () 下列哪些因素是目前中國仍持續吸引外資的主因？(甲) 內需市場潛力大；(乙) 資源豐富無需仰賴進口；(丙) 有大量廉價勞力；(丁) 交通運輸便利價廉。

(A) 甲丙 (B) 乙丁 (C) 丙丁 (D) 甲乙

(六) 2019 年中美貿易戰如火如荼的展開，但有學者仍認為中國「世界工廠」的地位難以撼動。以越南為例，雖然越南擁有 1 億的人口，但仍與中國的 14 億人口相距甚大，且中國人口成長幅度依舊快速；另外越南的智慧型手機、吸塵器等供應鏈完整度遠遠不及中國，而且道路和港口的堵塞更是家常便飯，業者也不易找到符合美國安全要求的工廠。請問：

48. (C) 根據題幹敘述，下列哪些優勢使中國的「世界工廠」地位難以撼動？(甲) 研發技術高超；(乙) 基礎設施完善；(丙) 環保法規鬆散；(丁) 人口規模龐大。

(A) 甲乙 (B) 甲丙 (C) 乙丁 (D) 丙丁

49. (A) 中國人口成長幅度仍快的可能原因為下列何者

(A) 人口基數龐大 (B) 農業人口大幅降低

(C) 節育政策失敗 (D) 社會移入人數龐大

50. (A) 無論成就世界工廠或市場，中國龐大的人口數都是必備條件，然而人口分布不均卻導致資源分配上的難題，請問中國未進行下列何者資源調度？

(A) 東水西送 (B) 西氣東輸 (C) 南水北調 (D) 西電東送

試題結束，記得檢查作答與劃卡！

* g a w k *

