

高雄市正義中學國中部 111 學年度第二學期第一次月考歷史科試題 (國一)

電腦畫卡：國 101 填 1 年級 1 班，國 102 填 1 年級 2 班，「科目」請畫【04】

_____年 _____班 _____號 姓名_____

一、單選題：(共 50 題，一題 2 分)

1. () 西元 1920 年起，臺灣啟蒙運動群英如林獻堂、蔣渭水、蔡培火、賴和等，從事政治、社會、文化的運動，喚起了臺灣人的自覺。請問：臺灣的思想啟蒙運動，在哪一個歷史事件之後展開？ (A) 甲午戰爭 (B) 日俄戰爭 (C) 第一次世界大戰 (D) 第二次世界大戰。

答案：(C)

2. () 日治時期，臺灣知識分子積極展開的社會運動，其性質應屬於下列哪些類別？(甲) 啟迪民智的文化運動 (乙) 武裝的抗日運動 (丙) 合法的請願運動 (丁) 法律的廢止運動 (A) (甲)(乙)(丙)(B) (甲)(乙)(丁)(C) (甲)(丙)(丁)(D) (乙)(丙)(丁)。

答案：(C)

3. () 圖是一本臺灣史中的附圖，請問哪項解讀是「錯誤的」？ (A) 此圖是日治時代臺灣人民的集會活動 (B) 此圖是光復後 (1945 年) 臺灣人民的演講活動 (C) 圖中「臺灣文化協會」係由林獻堂、蔣渭水等人所成立 (D) 臺灣文化協會雖以推動文化啟蒙為工作，但也激起聽眾的民族意識。



答案：(B)

4. () 下列關於臺北帝國大學的敘述，何者有誤？ (A) 是日治時期臺灣唯一的大學 (B) 是南洋研究世界著名的研究中心 (C) 臺日人學生比例平均 (D) 為今日的國立臺灣大學

答案：(C)

解析：臺灣學生比例很低

5. () 第一次世界大戰後，總督府開始強調普及教育，宣布撤銷差別待遇，實施哪一項教育政策？ (A) 日臺學生分科制度 (B) 日臺學生分級制度 (C) 日臺學生共學制度 (D) 日臺學生考試制度。

《答案》(C)

6. () 下列哪一個社會狀況，是日治時期可能見到的社會情形？ (甲) 家庭主婦使用自來水洗衣洗碗 (乙) 反對鐵路的興建，認為會破壞祖墳風水 (丙) 看時鐘以確定火車是否搭得上 (丁) 定期從事家庭掃除工作 (A) 甲乙 (B) 甲丙丁 (C) 乙丙丁 (D) 甲乙丙丁。

《答案》(B)

7. () 招弟是出生於 1920 年的台北商人女兒，她長大之後可能有的生活「不包括」？ (A) 雖然機會很小，但是她還是有可能到小學校唸書 (B) 在他念小學的時候，因為台灣民眾黨的抗議，總督府已未再台灣販賣鴉片 (C) 雖然她很懂綁纏小腳，但當時法令已不允許 (D) 長大後因為成績優異，所以考上當地的大學

答案：(B)

8. () 臺灣文化協會主要的工作為啟迪民智，主要的活動有哪些？ (甲) 設讀報社 (乙) 辦各種講習會 (丙) 辦春季學校 (丁) 舉行巡迴文化演講會 (A) 甲乙丙 (B) 甲乙丁 (C) 甲丙丁 (D) 乙丙丁。

《答案》(B)

詳解：臺灣文化協會所開辦的是夏季學校。

9. () 附表顯示日治時期某一年臺灣的教育狀況，從表中可看出當時的教育情形為何？ (A) 臺人基礎教育較日人更為普及 (B) 升學管道暢通，臺人紛紛入學 (C) 臺人與日人都有平等的受教權 (D) 臺人基礎教育不足且升學不易

項目	基礎教育		中等學校學生數(人)	專門學校學生數(人)	高等教育學生數(人)
	學生數(人)	學齡兒童就學率(%)			
日本人	23,711	98.2	477	6,856	220
臺灣人	210,727	28.4	251	4,642	28

答案：(D)

10. () 下列有關日本殖民統治時期史事的配對，何者「正確」？ (A) 「內地延長」政策——由武官出任總督 (B) 皇民化運動——鼓勵改用日本習俗 (C) 臺灣文化協會——主張地方自治與公民普選 (D) 國語學校——提高臺灣文化水準。

《答案》(B)

11. () 蔣渭水在日治時期曾參與許多政治社會運動，下列那一選項「錯誤」？ (A) 參與臺灣議會設置請願運動 (B) 參與臺灣文化協會期間主張社會主義路線，使新文協成為臺共的外圍組織 (C) 與另一位政治運動健將蔡培火並稱「南蔡北蔣」 (D) 1927 年組織了臺灣第一個合法的政黨「臺灣民眾黨」

答案：(B)

解析：(B)主張社會主義的左派掌權，主張合法政治抗爭的林獻堂、蔣渭水等人離開。

12. () 蕃童教育所的課程以日語、禮儀、醫療知識為主，逐漸成為山地原住民的初等教育機構。請問：此學校是由誰負責授課？ (A)警察 (B)郵差 (C)保正 (D)軍人

《答案》A

13. () 西元1937年由於什麼事情的爆發，因而造成所有社會運動全遭取締或鎮壓？ (A)鴉片戰爭 (B)中日戰爭 (C)甲午戰爭 (D)日俄戰爭。

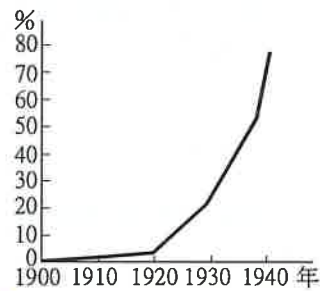
《答案》B

14. () 下列哪一種教育可以彌補日治時期臺灣高等教育的不足？ (A)職業教育 (B)補習教育 (C)社會教育 (D)留學教育。

《答案》D

詳解：由於升學不易，不少臺灣人選擇前往日本留學。

15. () 附圖是西元1900~1940年間，臺灣總督府推動某項教育政策的普及率曲線圖。請問：該項政策為下列何者？ (A)實施義務教育 (B)推廣日語 (C)普遍設立大學 (D)鼓勵留學教育



答案：B

16. () 日治時期，下列哪一件史事不是以流血武裝的方式來抗日？ (A)臺灣議會設置請願運動 (B)西來庵事件 (C)苗栗事件 (D)霧社事件。

答案：(A)

17. () (甲)義學(乙)全臺首學(丙)國民學校(丁)公學校。上述四種學校的出現先後順序，正確的排列為何？ (A)甲乙丙丁 (B)乙甲丁丙 (C)丙丁乙甲 (D)丁丙甲乙

答案：B

18. () 西元1920年的臺灣社會運動，對民智的啟迪、民族意識的激發，有莫大的貢獻。請問：哪些日治時期的團體，其目的是要改善人的政治地位？(甲)臺灣地方自治聯盟(乙)臺灣民眾黨(丙)臺灣興中會(丁)臺灣民進黨
(A)(甲)(乙)(B)(甲)(丙)(C)(甲)(丁)(D)(乙)(丙)。

答案：(A)

19. () 附表為「日治時期臺灣社會、政治運動發展表」，但其中只有哪一個選項的「時間排列」符合歷史順序？ (A)甲乙丙丁 (B)乙甲丁丙 (C)甲丙乙丁 (D)丁甲乙丙

甲	臺灣文化協會成立
乙	臺灣地方自治聯盟成立
丙	總督府開放半數地方代表民選
丁	皇民化時期政治、社會運動終止

答案：A

20. () 日治時期有一首《臺灣自治歌》：「……阮是開拓者，不是憨奴才。臺灣全島快自治，公事阮掌才應該。」請問：歌詞中所表達臺灣自治的夢想，直到何時才得以落實？ (A)霧社事件時 (B)西來庵事件時 (C)內地延長主義時期 (D)皇民化運動期間

答案：C

21. () 附表為日治前後，臺灣地區的人口數變遷圖。請問日本統治後半期，人口增加的因素為何？ (A)打仗需要人力，政府鼓勵臺灣人多生育，以增產報國 (B)衛生習慣提升，糧食充裕，使得死亡率降低 (C)社會趨向安定，臺灣人不想再用武力抗爭，所以死傷人數減少 (D)臺灣實施「內地延長主義」後，有許多日本人移民到臺灣

年代	歷史背景	人口數	增減率
1895	臺灣割日前夕	300萬	
1896	日本接收臺灣	260萬	減13%
1905	臺灣第一次戶口調查	303萬	
1945	日本統治末期	660萬	增154%

答案：B

22. () 經歷日本統治四十幾年後，臺灣逐漸形成現代化社會，這時一名來自中國的觀光客周強，對臺灣留下的印象不會包括下列何者？ (A)臺灣牆上有一玩意兒，轉一下開關，水就自己來了，太神奇了 (B)在臺灣車站等車，一旦火車遲到人人都說慢分，和我們動不動就誤點不同 (C)這裡的人生病都不看西醫，還是習慣由漢醫把脈抓藥 (D)在醒目的建築物上，都能夠看得到大時鐘

答案：C

23. () 日治時期治臺政策曾有不同。請問：「同化政策」與「皇民化政策最大的不同為下列何者？ (A)前者學日語，後者學英語 (B)前者重視職業，後者重高等教育 (C)前者是發展工業，後者是發展農業 (D)前者是推行「國語」，後者是全部生活日本化

答案：D

24. () 日治「臺中中學校」的設立，其所代表的意義，下列哪一項「正確」？ (A)中部

臺灣人民知識水平較高 (B)臺灣人有爭取自身權益的企圖心 (C)表示當時日臺教育機會已達均等的 (D)師資的缺乏

答案：B

25. () 健民想要編纂一部《日治時期臺灣人物事典》的書籍，請問：如果他要介紹蔣渭水的生平時，應該如何形容？ (A)從事衛生教育，改變臺灣社會(B)從事水利建設，有助經濟發展(C)領導政治運動，追求地方自治(D)領導武裝抗日，爭取臺灣自治。

答案：(C)

解析：蔣渭水熱心爭取臺灣地方自治與創立臺灣文化協會。

26. () 政黨政治為民主制度推行的常軌。請問：臺灣史上第一個政黨成立於何時？ (A)清領時期 (B)日治時期 (C)國民政府遷臺初期 (D)解嚴之後

答案：B

解析：日治時期，1927年所成立的臺灣民眾黨，為臺灣第一個政黨

27. () 日治末年，楊肇嘉等人組成哪一個組織，要求日本政府實施議員選舉，落實臺灣的地方自治？ (A)臺灣文化協會 (B)臺灣民眾黨 (C)臺灣民眾聯盟 (D)臺灣地方自治聯盟

答案：D

28. () (甲)宣布戒嚴(乙)明令動員戡亂(丙)廢除動員戡亂時期臨時條款(丁)解除戒嚴。上述各項法令與政策的頒布與實施，依其先後順序排列，應是下列何者？ (A)(甲)(乙)(丙)(丁)(B)(乙)(丙)(甲)(丁)(C)(乙)(甲)(丁)(丙)(D)(甲)(丁)(乙)(丙)。

答案：(C)

29. () 有一份報告：「政府廣播要民眾復學、復市，有些好學生紛紛去上學，反而被士兵誤殺；還有很多送牛奶、送報、電信、賣菜及拉車的臺人，因不懂戒嚴令而被誤殺。……主要因為臺人無戒嚴經驗，不識其為何物；加上絕大多數人仍不懂國語，無法與士兵溝通……。」請問：這應該是描述臺灣史上哪一事件的情形？ (A)苗栗事件(B)自由中國事件(C)二二八事件(D)美麗島事件。

答案：(C)

30. () 恩奇是西元1950年初的臺灣知識分子，下列何者最有可能是他當時的境遇？ (A)言論自由受到限制，想要出版報章也會受到控制(B)他可以發表自由言論，批判時政(C)言論自由受到保障，但是要出版任何報章，必須經過行政長官公署的監控(D)不可以隨便發表任何言論，不過出版則不在限制當中。

答案：(A) 解析：受戒嚴令限制。

31. () 下列何人在民國49年試圖籌組「中國民主黨」，卻遭到政府的壓制，而以「通匪」等罪入獄？ (A)陳水扁(B)彭明敏(C)孫立人(D)雷震。

答案：(D)

32. () 下列關於「美麗島事件」的敘述，何者錯誤？ (A)爆發於臺北(B)為爭取民主而爆發的事件(C)事件後許多黨外菁英被捕(D)該事件促進民主進步黨的產生。

答案：(A)

33. () 從民國70年代後期以來，臺灣的民主政治有著長足的進步。請問：下列相關敘述何者正確？ (A)民國76年，李登輝取消戒嚴(B)民國76年，蔣經國宣布廢止《動員戡亂時期臨時條款》(C)民國80年，李登輝宣布終止動員戡亂時期(D)民國81年，開始總統由人民直選。

答案：(C)

解析：(A)蔣經國(B)民國80年，李登輝宣布廢止《動員戡亂時期臨時條款》(D)民國85年。


34. () 民國36年實行的《中華民國憲法》中規定：國民大會代表的任期原為6年。但是第一屆國大代表任期卻由民國37年開始，一直任職到民國80年底。請問：造成上述現象的原因為何？ (A)對日抗戰爆發(B)中國大陸淪陷(C)八二三炮戰爆發(D)我國退出聯合國。

答案：(B)

35. () 臺灣歷史上，曾有一段很長的時間施行戒嚴。請問：這段時間是由何時開始？何時結束？ (A)民國36年至37年(B)民國38年至76年(C)民國39年至75年(D)民國36年至77年。

答案：(B)

36. () 亭亭在《漫畫臺灣史》中看到如附圖這幅漫畫，在民國31~49年間，情治人員常以各種罪名逮捕批評時政的人，形成臺灣史上的什麼時期？ (A)赤化時期 (B)白色恐怖時期 (C)冷戰對峙時期 (D)解嚴以後



答案：B

37. () 二二八事件使臺灣的族群裂痕加深，造成許多無可挽回的傷害，使大家體會到各族群和樂相處的重要性。請問：下列何者是二二八事件發生的背景？ (A)「行政長官公署」的官員與首長大多由臺灣本地人士擔任(B)行政長官權力太小，無法維護臺灣治安(C)政府實施市場經濟政策，造成貧富差距加大(D)臺灣通貨膨脹，物價飛漲。

答案：(D)

38. () 附圖是某份報紙報導臺灣官商勾結、貪汙腐敗，造成物價飛漲的情形。請問：此圖的內容是反映出哪一時期的情況？ (A)日治後期(B)光復初期(C)威權時期(D)政府遷臺後。

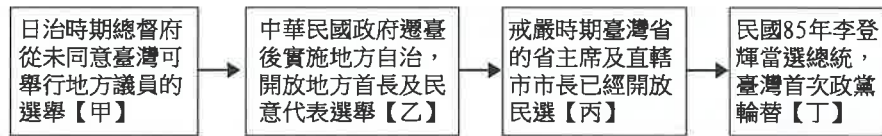


答案：(B)

39. () 民國 36 年，二二八事件爆發的導火線為何？ (A)臺灣共產黨攻擊政府(B)知識分子上街遊行，要求省長民選(C)政府查緝私菸手段不當(D)少數日軍不願向國民政府投降。

答案：(C)

40. () 臺灣在追求民主政治的過程中，不同時期有不同的措施。附圖是臺灣追求民主的一輛列車。請問：哪一節車廂敘述是正確的？ (A)甲 (B)乙 (C)丙 (D)丁



答案：B

41. () 附圖的四面旗均曾出現在臺灣，請問：其在臺灣飄揚的先後順序為何？ (A)甲丁乙丙 (B)乙丙丁甲 (C)甲乙丁丙 (D)乙甲丙丁

甲	古荷蘭王室國旗
乙	日本太陽旗
丙	青天白日滿地紅國旗
丁	藍地黃虎旗

答案：A

題組

根據某報的記載，「當次的選舉投票率高達 95.9%，而且當時投票不是用圈選的方式，而是在選票上直接書寫被選舉人姓名，一些識字不多的選民，在選舉公告後，即努力練習書寫心目中人選的姓名，以免書寫錯誤，被誤判廢票。足見當時人民珍視他們神聖的一票，不把選舉當兒戲。」

42. () 請問上述選舉發生的時間與地點為？ (A) 1840 年的上海 (B) 1895 年的山東 (C) 1935 年的台北 (D) 1684 年的台南
43. () 有關這次總督府所辦理地方民代選舉之實際情形，哪一描述與史實「不符」？ (A)

議員半數官派，半數民選 (B)選民資格受限，採圈選方式選舉候選人 (C)是臺灣人參與的第一次選舉 (D)此政治作為只能視為半自治

答案：(1)(C); (2)(B)

題組

「柏環是生活在 19 世紀末至 20 世紀初的臺灣人。在幼時記憶裡，父母以前的作息規律全是按旬、朔望、月、季來訂計畫。」後來，臺灣換了新主人後，一切作息依據全改變，爸爸買了一個時鐘回來，每天對著收音機廣播對時，爸爸上班，柏環上學都要聽從它的指示……。」請問：

44. () 「臺灣換了新主人」是指何事？ (A)清朝接收了臺灣(B)臺灣人選了新總統(C)日本開始統治臺灣(D)臺灣獨立了。
45. () 「爸爸上班、柏環上學都要聽從它的指示」是表示何事？ (A)時鐘方可提供人上班上學(B)上班、上學要隨身攜帶時鐘(C)上班、上學必須根據政府所規定的時間(D)時鐘很貴，要小心使用。

答案：(1)(C); (2)(C)

解析：日治時期，日本政府引進標準時間制。

題組

柯南於臺灣光復後出生於臺中市，目前在一家工廠工作。請問：

46. () 在他求學時期，長輩常告誡他不要介入「政治」以免惹禍上身，這是因為那一事件的後遺症？ (A)中國大陸淪陷(B)二二八事件(C)臺灣議會請願失敗(D)動員戡亂阻止人民參政。
47. () 承上題，此一事件發生的原因為何？ (A)總督府要使臺灣人去日本化(B)為了去除日本殖民統治的陰影(C)政府欲積極強化民主政治的發展(D)行政長官公署處事措施不當，引發全島性反政府活動。

答案：(1)(B); (2)(D)

題組

民國 60 年代，臺灣的經濟教育已迅速發展，人民對於政府的要求標準提高，「黨外」的反對勢力也因此崛起。請問：

48. () 所謂的「黨外」是指 (A)非加入國民黨的人(B)在臺灣的共產黨分子(C)國民黨位階較低的官員(D)國民黨內的左派分子。
49. () 「黨外」人士對政府的訴求為何？ (A)要求經濟自由(B)要求保障弱勢團體(C)追求受教育的權利(D)要求民主。
50. () 民國 68 年，國民黨在高雄對黨外進行大鎮壓，當時的八位主要領導者都被以叛亂罪起訴而交付軍事法庭審判，這個事件稱為什麼？ (A)二二八事件(B)寧靜革命(C)美麗島事件(D)動員戡亂。

答案：(1)(A); (2)(D); (3)(C)