

私立正義國中 111 學年度下學期第一次段考 高二 地理科試題

考試範圍:第三冊第東南亞+南亞

【科目代號:43】

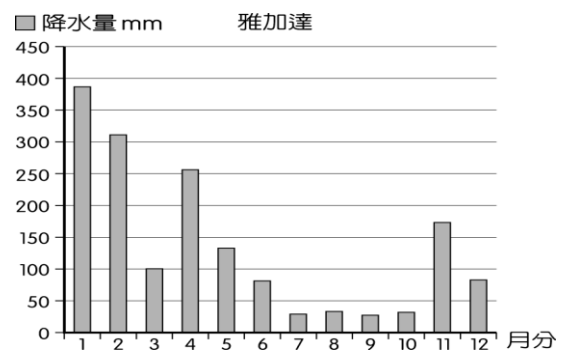

班級: _____

座號: _____

姓名: _____

第一部分:單一選擇題(每題 2 分)

- 「該國勞動人口年輕且能以英語溝通,在該國生產半導體或電子產品,出口到歐盟享零關稅待遇,為東協唯一有此優惠的國家。」請問該國應該是下列何者? (A)菲律賓 (B)泰國 (C)東帝汶 (D)汶萊。
- 1860 年法國在熱帶叢林發現吳哥廢墟,1992 年聯合國教科文組織將其劃入世界重要文化遺產保護名單中,請問吳哥窟位在哪一個國家? (A)緬甸 (B)寮國 (C)柬埔寨 (D)馬來西亞。
- 承上題,著名吳哥窟做為該國家的代表性標誌,該國更在國旗上亦使用了吳哥窟的影像,為全球各國之首例。請問這座名列世界文化遺產的全球最大廟宇,主要受到了哪一種宗教文化的影響?(A)印度教 (B)天主教 (C)上座部佛教 (D)伊斯蘭教。
- 下列有關南洋群島的敘述,何者最能說明其「地形破碎」的地理現象? (A)天然資源豐盛而多樣,當地居民容易獲得溫飽 (B)位於太平洋與印度洋的交會處,為中、印往來的必經之地 (C)為世界最大島群,各島山嶺眾多,河川大多短小流急 (D)輻合於赤道地區的信風,和冬夏交替吹拂的季風,帶來豐富的降水。
- 資料一:2007 年起,新加坡樟宜國際機場(Singapore Changi Airport)除了被評為服務最佳的機場之外,其旅客往來人數名列世界前茅,貨物轉運量 189 萬噸,更高居全球之冠。
資料二:2008 年,新加坡港的貨櫃吞吐量高達 2,992 萬個,為全球最繁忙的轉口港之一。
根據以上兩則資料,請問運輸倉儲服務產業讓新加坡成為東南亞經濟發展最優的國家,其主因應為下列何者的優勢?(A)原料 (B)位置 (C)市場 (D)勞力。
- 泰國菜的口味偏重酸、甜、辣,善於搭配各種自然食材和用多種香料調味。最常用的幾種調料有:泰國朝天椒、泰國檸檬、咖哩醬等。泰國菜的特色與哪一環境因素最相關?(A)氣候濕熱 (B)殖民文化 (C)宗教信仰 (D)主要族群來自中國。
- 長期以來,印尼即以「關係印尼民族生死存亡的問題」為由,推動「國內移民」計畫。從 1960 年代到 1980 年代,共有 100 萬左右的家庭遷移他處。下列哪兩個因素是印尼推行國內移民計畫的主因?(甲)促進區域開發(乙)爪哇島居民過多(丙)土地分配不均(丁)民族混居動亂頻繁 (A)甲乙 (B)甲丁 (C)乙丙 (D)丙丁。
- 穆斯林人口占全球人口四分之一,有調查預測,35 年之後穆斯林甚至可能成為全球最多信仰人口的宗教。為了因應伊斯蘭時代的發展與顧及穆斯林的權益,衍生出了一種食品商機:「清真認證」。若想與穆斯林國家建立貿易往來關係,「清真認證」是不可或缺的要件。「清真認證」的商品在東南亞哪些國家最有商機?(甲)印尼;(乙)泰國;(丙)東帝汶;(丁)新加坡;(戊)馬來西亞。(A)甲乙 (B)甲戊 (C)乙丁 (D)丙丁。
- 2001 年亞太經合會(APEC)在上海舉行,召開非正式領袖高峰會議,討論議題之一為反恐怖活動,主辦者曾擔心有些與會國可能會因宗教信仰,而無法達成共識。請問前述所指的與會國是指 (A)澳洲、日本 (B)新加坡、越南 (C)馬來西亞、印尼 (D)泰國、緬甸。
- 印尼首都雅加達位於爪哇島北部沿海地區,下圖為雅加達的多年平均降水量各月分布圖。雅加達 7~10 月分降水偏少的特性,主要的影響原因為何?(甲)位於東南信風帶的背風面(乙)副熱帶高壓帶南移,氣流下沉(丙)位於西北季風的背風面(丁)赤道低壓帶北移,氣流輻合活動減弱(A)甲乙 (B)丙丁 (C)乙丙 (D)甲丁。
- 某一個國際組織會議上,與會的會員國提出:要整合所有會員國的時區,把原來的東六、七、八、九等四個時區,都統一為「東八區」,以方便會員國的貿易往來和觀光旅遊。此一國際組織應為: (A)EU (B)WTO (C)ASEAN (D)USMCA
- 以下對新加坡經濟發展的敘述,哪三項正確?(甲)因掌控麻六甲海峽的地理位置優勢,殖民時期新加坡為荷蘭於東南亞最主要的海軍基地;(乙)隨著 1869 年蘇伊士運河開通,帶動全球貿易迅速成長,新加坡成為世界主要貿易據點;(丙)1965 年獨立後,其後成立加工出口區,由原料出口轉為產品外銷;(丁)1970 年代中期即與臺灣、香港、韓國

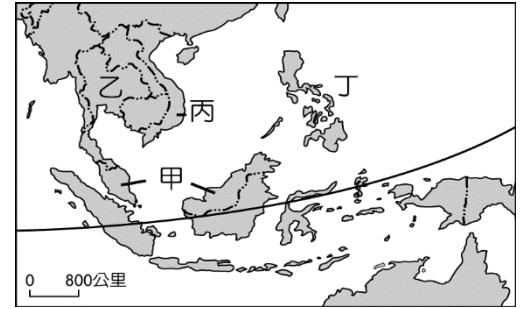


共享「亞洲四小虎」之美譽，也是東南亞最早的新興工業化國家；(戊)目前為東南亞地區的金融中心。(A)甲乙丙 (B)甲丙戊 (C)乙丙丁 (D)丙丁戊。

13. 「這個國家有趣之處，就在於每個典型的南亞臉孔，卻都誠摯的望著與泰國一樣風格的佛像、一樣普遍的佛寺，拿著香、持著蠟燭，用著當地語言、搗著頭，唸著依稀聽起來如同『南無阿彌陀佛』的經文。瞬間，場景如同回到了泰國或柬埔寨，只是所有人都是南亞面孔。這樣的反差，令人玩味」這個國家應為 (A)

印度 (B)尼泊爾 (C)孟加拉 (D)斯里蘭卡。

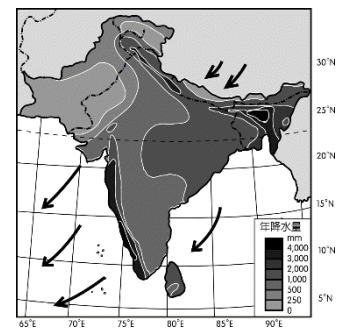
14. 「在印尼蘇門答臘島的東部平原，遍布著沼澤和湖泊，雖然島上的可耕地面積比例不及爪哇島，對農業不利，卻是印尼在近代的經濟發展上極為重要的地區，因為『地上出油，地下也出油』。」文中所述的「兩種油」，今日圖中哪一個國家的產量亦皆相當豐沛？(A)甲 (B)乙 (C)丙 (D)丁。



15. 近年印度資訊科技產業興起，為印度帶來發展契機。請問下列何者為印度發展資訊科技產業的條件？(甲)完整的基礎設施；(乙)充足的資金和技術；(丙)較低廉的勞工工資；(丁)具數理能力的優秀人才；(戊)與美國矽谷時差半天。(A)甲乙丙 (B)甲丙戊 (C)乙丙丁 (D)丙丁戊。

16. 「在新德里的停車場，搖下車窗停放的車輛比比皆是，並非車主粗心大意，而是怕車輛在陽光的曝曬下，車內溫度高得過火。而在印度許多道路旁都有寬闊的泥土路，陽光的照射下，柏油路面有時會超過 60°C，滾燙的路面使得那些習慣於赤腳行走的人根本無從下腳，而此時泥土路的溫度相對低很多，這就方便了步行者。印度一些古老寺廟，迄今仍保持著泥土地面，不用磚瓦鑲嵌。」上述情景可能出現在何時？(A)2月 (B)4月 (C)6月 (D)10月。

17. 下圖為南亞某季節的氣候簡圖。請由圖中資料加以判斷，當時臺灣最可能正處在何種時節？(A)農曆過年，家家戶戶賀新年 (B)中秋佳節，花好月滿人團圓 (C)七夕情長，牛郎織女會鵲橋 (D)清明時節，細雨紛紛欲斷魂



18. 有關印度種姓制度描述，下列何者正確？(甲)為雅利安人所創造社會制度；(乙)各個種姓有不同的社會地位和職業；(丙)種姓制度減少印度龐大人口可能激發的衝突；(丁)賤民的工作為協助理葬往生者的屍首；(戊)目前傳統的種姓制度被視為不合時宜，無法發揮影響。(A)甲乙丙丁 (B)甲乙丁戊 (C)甲丙丁戊 (D)乙丙丁戊。

19. 斯里蘭卡及馬爾地夫皆為南亞的島國，附表為兩者的比較，正確的是？(A)甲乙丙 (B)甲丙丁 (C)乙丙戊 (D)丙丁戊。

	(甲)位置	(乙)氣候	(丙)地質	(丁)產業	(戊)主要宗教
斯里蘭卡	印度半島東側	熱帶季風氣候	古老陸塊	農業為主	伊斯蘭教
馬爾地夫	印度半島西側	副熱帶季風氣候	珊瑚環礁	漁業和觀光業	佛教

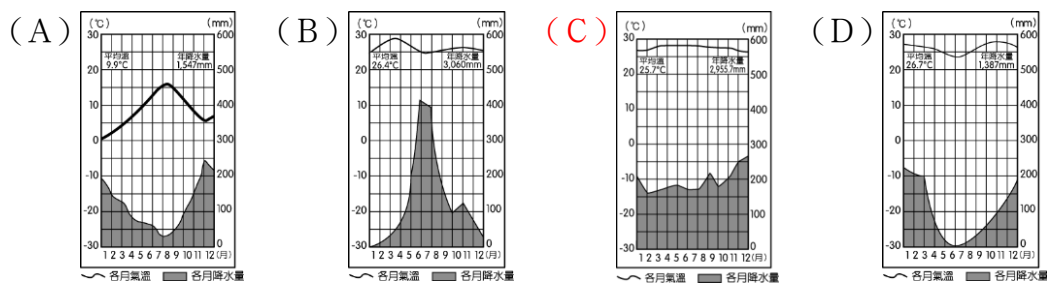
20. 十七世紀，一位荷蘭船醫在航海日記上如此描述：「麻六甲，位居麻六甲海峽最窄的戰略位置，能夠注視與控制海上交通。巨大的蘇門答臘島阻隔著風，麻六甲為受到風向擺布的船隻提供一個安全的港。來自西方的我們受□風之助，穿越印度洋，船抵麻六甲，並在此處停留數個月，直到風向改變，我們才順利啟航返家。」文中所提及的□風為何？(A)西南季風 (B)東北季風 (C)東南信風 (D)盛行西風。

第二部分：題組題(每題 2 分)

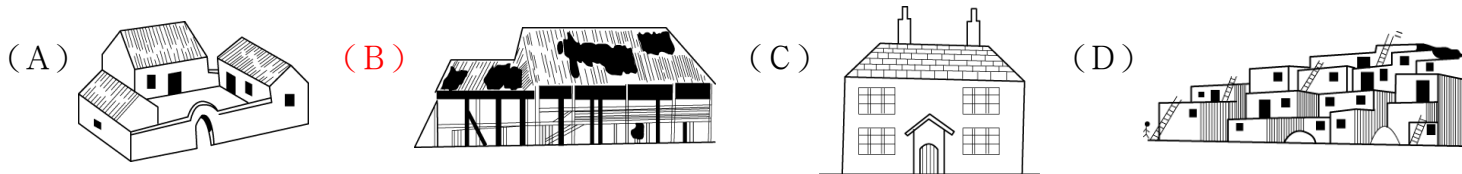
◆ 家住新竹的阿修寒假時來到亞洲某地旅行，沿途寫下他的所見所聞：「穿梭在森林的底層，四周都是一棵棵筆直高聳的大樹，其濃密的樹冠與枝葉全年遮住了日光，使整片森林在大白天仍然覺得昏昏暗暗。森林裡物種間的生存競爭十分激烈……有一種蝗蟲十分奇特，黑色的身子鑲上金黃色的線條，如此大膽的配色，就連米蘭的時尚服裝設計師都可能還意想不到……。」請回答下列問題：

21. 根據阿修的描述，推測他最有可能在下列哪一地區？(A)菲律賓呂宋島北部 (B)印尼婆羅洲島 (C)泰國北部 (D)越南北部。

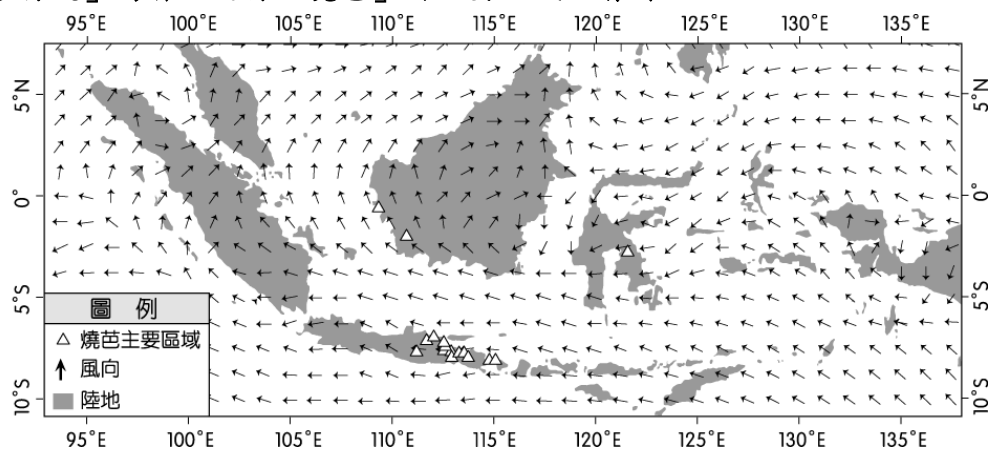
22. 下列哪一張氣候圖最符合阿修描述地區的氣候類型？



23. 阿修在該地區旅行時，特別選了具有當地特色的傳統住屋投宿，根據屋主表示，這種住屋形式是為了因應當地氣候而發展出來的。請問下列哪一張示意圖可代表當地的傳統住屋？



◆ 「燒芭」原指焚燒芭蕉樹的農耕方式，現今指山民焚燒森林，以利清出空地用於耕作，並改良土壤。下圖為 2017 年某日的區域風場圖，「三角形符號」為當日進行「燒芭」的主要區域。請問：



24. 這張風場圖發生的月分最可能是下列何者？ (A) 1 月 (B) 3 月 (C) 6 月 (D) 11 月。

25. 文中所敘述的燒芭農耕地區，是以燒芭的森林灰燼來增加土壤肥力，其最可能出現在下列哪種土壤化育環境？ (A) 灰化 (B) 鈣化 (C) 鹽鹼化 (D) 聚鐵鋁化。

26. 近年來燒芭常引發霾害，若依據圖中加里曼丹的位置與風向，下列哪個國家最可能遭受霾害的威脅？ (A) 寮國 (B) 越南 (C) 馬來西亞 (D) 緬甸。

27. 請問該地進行「燒芭」主要是為了種植哪種熱帶作物？(A) 可可 (B) 荳蔻 (C) 椰子 (D) 油棕。

◆ 右圖為 1940 年日惹地區 ($7^{\circ}48''S$, $110^{\circ}21''E$) 華人移民合資雕刻的紀念碑，其目的在慶祝日惹王國統治者即位，藉以維持雙方的友好關係。請回答下列問題：

28. 該石碑豎立地點的所在國家，目前其國民最主要的宗教信仰為何？ (A) 道教 (B) 天主教 (C) 印度教 (D) 伊斯蘭教。

29. 若從交通及地理位置來思考該區華人移民的原鄉，可知華人原鄉最可能受到下列哪種災害的影響，導致短期的糧食歉收，人口壓力變大？ (A) 颱風頻繁，農田作物流失 (B) 龍捲風過境，襲捲屋舍人畜 (C) 西風帶來豪雨，河水暴漲成災 (D) 地震頻仍，毀壞橋梁水利設施。



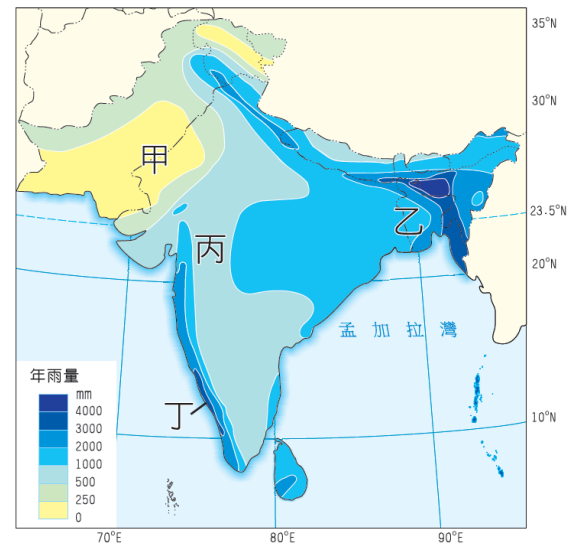
◆ 東協與鄰近國家建立的「區域全面經濟夥伴協定」(RCEP) 於 2020 年簽署協議，再加上美中貿易戰已造成東南亞國家的地位大幅上升。RCEP 生效後，預估經濟規模將占全球 GDP 約 30%，並與歐盟、北美自由貿易協定鼎足而立，請問：

30. 東協的難題之一是組織內各國的優勢產品大致雷同，主要與下列哪項因素有最密切的關聯？ (A) 海運交通發達 (B) 民族組成複雜 (C) 殖民歷史類似 (D) 移民政策寬鬆。

31. RCEP 生效後，除了新加坡和汶萊，其餘東協國家憑藉著下列哪些優勢，努力吸引全球外資青睞？(甲) 金融體制健全；(乙) 工資低廉；(丙) 加工技術較高；(丁) 人力資源豐沛；(戊) 內需市場 (A) 甲乙丙 (B) 甲丙丁 (C) 乙丁戊 (D) 丙丁戊。

32. 「RCEP」這種擴大結盟國以強化競爭力的理論基礎，與下列哪項概念最密切？ (A)聚集經濟 (B)知識經濟 (C)規模經濟 (D)產業群聚。

◆ 南亞面積遼闊，受地形及季風的影響，降水分布相當不均，附圖為印度半島的雨量分布圖，請問：



33. 印度半島的降雨大致上由東向西遞減，影響降雨量多寡的最主要因素為下列何者？ (A)西南季風持續時間的長短 (B)東北季風力道的強弱 (C)熱帶氣旋發生的頻率 (D)地形高低起伏的程度。

34. 農業發展與氣候息息相關，下列各地的農業活動何者正確？ (A)甲—茶葉 (B)乙—黃麻 (C)丙—水稻 (D)丁—棉花。

35. 印度人口眾多，語言複雜，宗教類別與內涵相當豐富多樣，引人入勝。下列有關印度的敘述，正確的為？ (甲)世界古文明的發源地之一；(乙)為佛教和伊斯蘭教的發源地；(丙)曾受英國殖民統治；(丁)貧窮人口雖多，但種姓制度成功縮小貧富差距；(戊)人口紅利的優勢成為印度發展的契機之一。 (A)甲乙丙 (B)甲丙戊 (C)乙丙戊 (D)丙丁戊。

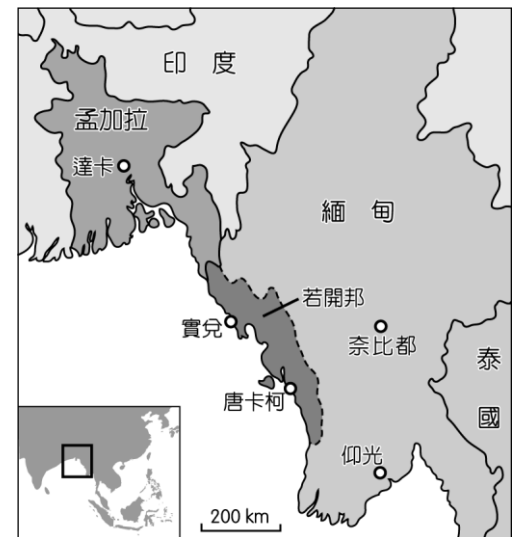
◆ 《世界是平的》(The world is flat)一書指出：「只要有寬頻，只要有雄心，不管你在哪裡，都不會被邊緣化，競爭的立足點變平等了。」；「小時候我常聽爸媽說：『兒子啊，乖乖把飯吃完，因為中國跟印度的小孩沒飯吃。』現在我則說：『女兒啊，乖乖把書唸完，因為中國跟印度的小孩正等著搶你的飯碗。』」請問：

36. 上述書籍所提到的南亞國家，因具有下列哪兩項優越區位條件，使得近來成為許多科技產業的外包工作地點？ (甲)豐富農礦資源；(乙)鄰近先進國家；(丙)消費人口眾多；(丁)英語為官方語言；(戊)高素質人力資源。 (A)甲乙 (B)甲戊 (C)丙丁 (D)丁戊。

37. 上述書籍所陳述的兩段內容，最能夠反映出下列哪種全球現象？ (A)在全球經濟架構下，中國因寬頻使用有限，使經濟發展趨向邊緣化 (B)在全球環境尺度下，陸地起伏相對不明顯，所以可被視為是平坦的 (C)在全球國際分工下，各地經貿關係的密切，使個人或企業競爭激烈 (D)在全球暖化影響下，海水上升將淹沒耕地，導致各國面臨糧食危機。

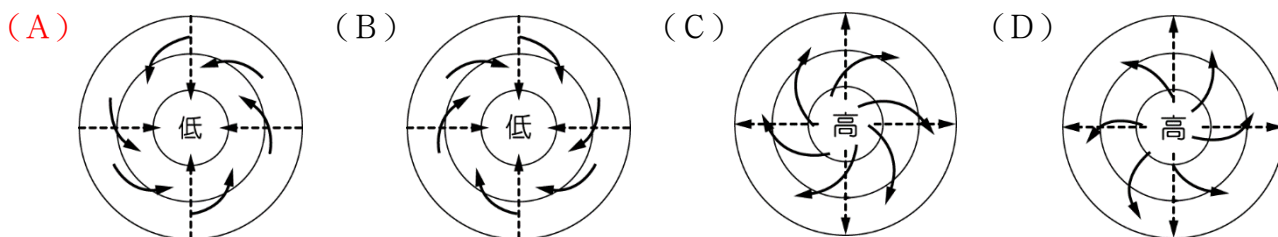
◆ 2017年，羅興雅人和緬甸教徒再度發生嚴重流血暴力衝突，這個世界上最大的無國籍族群被迫害的消息逐漸浮上檯面…。請回答下列問題：

38. 羅興雅人其語言類似孟加拉東南部的方言，族人因信仰歧異，在緬甸備受歧視，許多緬甸人認為他們是非法移民，說他們是『孟加拉人』，但其實羅興雅族已在緬甸生活了幾個世代。人口一百萬的羅興雅族不被緬甸政府承認為該國族群之一，多數族人住在窮困的西部若開邦，不具公民身分，遷徙和工作都受限。」文中羅興雅人與緬甸的宗教信仰應分別為 (A)大乘佛教、印度教 (B)大乘佛教、上座部佛教 (C)大乘佛教、伊斯蘭教 (D)伊斯蘭教、上座部佛教。



39. 根據「人權觀察」(Human Rights Watch, HRW)調查，羅興亞人會被認為非法，是因緬甸獨立前的殖民母國在統治此區逾100年期間(1824~1948)，有大量移工從今日的印度和孟加拉到緬甸，認定緬甸為印度的一省來治理，這被視為內部的遷徙。這一點不被緬甸政府承認，此殖民母國應為 (A)德國 (B)荷蘭 (C)英國 (D)法國。

40. 此地多為簡陋居所，夏季天災一來常使羅興雅人流離失所，此地區常見的夏季天災應為下列何者？



◆ 日經新聞報導，因為新冠病毒凸顯供應鏈過度依賴中國大陸的風險，日本將推動全新的『跨太平洋夥伴全面進步協定(CPTPP)』計畫，把包括臺灣在內的更多亞洲經濟體納入這個貿易協定組織之中。若屬實，這對一直致力爭取加入此多邊協定的臺灣而言，是項好消息。日經指出，日本將嘗試把臺灣、泰國、印尼、菲律賓等亞洲經濟體納入CPTPP，首先著眼泰國，泰國很快就會宣布他們準備加入CPTPP。請問：

41. CPTPP 目前的會員國包括：澳洲、汶萊、加拿大、智利、日本、馬來西亞、墨西哥、紐西蘭、秘魯、新加坡和越南等 11 國。其中有幾個國家是 ASEAN 的成員國？ (A)6 國 (B)5 國 (C)4 國 (D)3 國。
42. 日本積極將泰國納入 CPTPP 是著眼於泰國的哪一產業發展優勢？ (A)汽車工業 (B)軟體產業 (C)紡織工業 (D)熱帶栽培業。
43. 臺灣積極推動參與 CPTPP，若臺灣能順利加入，下列何者是臺灣的主要出口優勢產品？ (A)稻米 (B)螺帽 (C)汽車 (D)藥品。

◆ 阿穆是一位來自東南亞某國的移工，目前在台灣的工廠工作，在這個行政區中也有很多跟他一樣來自東南亞的朋友們，甚至可以說是台灣國際移工的主要去處。在他工作的地點中，雇主非常能體諒阿穆與他的朋友們的信仰，因此在員工餐的部分會注意選用的食材，以及準備了特殊朝向的禮拜房，讓他們可以定時做禮拜，也可以安心地遵守信仰的傳統規定。請問：

44. 請根據上文描述，阿穆最不可能來自哪個國家？(A)東帝汶(B)印尼(C)汶萊(D)馬來西亞
45. 請問在文中「特殊朝向的禮拜房」最有可能朝向什麼方向？(A)東方 (B)南方 (C)西方 (D)北方

第三大題：混合題(共 8 分)

1. 下圖為東南亞政區圖，請回答下列問題，作答請寫出代號與所代表的國家：



- (1) 「某國境內多山，可耕地仍占全國土地之半，河岸和山坡梯田主要是種植稻米。這些梯田全是勤勞的農民，千百年來靠著雙手，一代一代辛勤築造而成。除了稻田之外，供應全國 1/10 人口的生計是由大地主或美國跨國企業所建立的大型蔗田和新式糖廠，農場內的工人收入菲薄。境內的鄉村聚落多為沿河分布的高架屋，政府機關和宗教建築多西班牙式。各地方言複雜，以英語為通用語言。」請問該國最可能是下列哪一國家？(2 分)

- (2) 搭著中國一帶一路政策，在油比礦泉水便宜的東南亞某國誕生了世界級的石化園區，未來將成為世界紡織原料的供應重鎮，實現政府的產業轉型升級願望。但此國近年積極發展多元化經濟，卻成效有限，還要面對區域競爭，例如「伊斯蘭金融」的發展面臨同為伊斯蘭教國家的強勢競爭；而即使此國與新加坡長期友好，但新加坡的國際金融中心以及吸引外來白領人才的開放政策，此國一時都難以趕上。請問上文中描述的是哪一國家？(2 分)

- (3) 承上題，「伊斯蘭金融」的發展面臨同為伊斯蘭教國家的強勢競爭，請問此競爭是來自新加坡與哪兩個國家？(2 分；2 分)

- (4) 魚尾獅 (Merlion) 是一種虛構的魚身獅頭動物，其設計靈感來自關於該地歷史的一個傳說，該傳說記載，公元十一世紀時一位王子在前往麻六甲的途中來到此地，一登陸就看到一隻神奇的野獸，隨從告訴他那是一隻獅子，於是他為此地取名「獅子城」，而魚尾則是因為該地是一個海島，它的一切都跟海密切相關，現在這個城市已經發展為東南亞經濟發展最好的地區，就如同獅子般的令人不可忽視。請問文中所指的城市應為下列何者？(2 分)

=====恭喜你完成這份考卷！再回頭檢查一次吧！=====

1.	(1) 壬，菲律賓
	(2) 辛，汶萊
	(3) 己，馬來西亞；庚，印尼
	(4) 癸，新加坡