

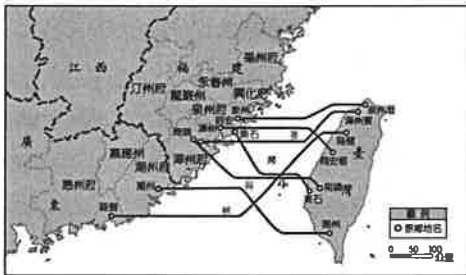
高雄市正義中學111學年度第二學期期中考 國三地理科試題卷

說明：班級 _____ 姓名 _____ 座號 _____，請正確畫卡，造成讀卡作業判讀有誤者-5分。

年級：【3】 班級：1班填【1】 2班填【2】 3班填【3】 科目代碼：【05】

一、單題（每題2分，共70分）

1. (D) 1535年，據傳歐洲的航海家航行至巴西的東北角，看到椰林覆蓋、風景宜人，便發出「歐琳達」(Ó, linda!, 美麗之意)的讚嘆，後來此處便被稱為「歐琳達」(Olinda)。請問：此地之得名，與臺灣何種地名的命名方式類似？(A)東番 (B)大員 (C)小琉球 (D)福爾摩沙
2. (U) 臺灣有許多地名有「崙」字，例如：崙仔、崙背等，這些地名和沙丘地形的關係密切。由此判斷，此類地名應該是分布在一個地區較普遍？(A)北海岸 (B)恆春半島 (C)西南沿海 (D)東部海岸。
3. (D) 阿欽到故宮博物院參觀歷史文書，看到「東番、小琉球、大員」等地名，這些是指何國？(A)日本 (B)韓國 (C)中國 (D)臺灣。
4. (U) 下列哪一地名與原住民語相關？(A)彰化鹿港 (B)高雄楠梓 (C)新北烏來 (D)新竹關西。
5. (B) 附圖是清代漢人移民帶入的原鄉地名分布圖，原鄉主要是哪兩個省分？(A)江西、福建 (B)福建、廣東 (C)廣東、廣西 (D)江西、廣東。



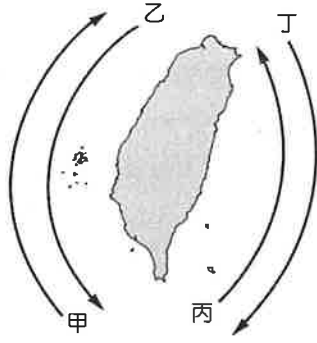
6. (D) 下列哪一個臺灣的地名，早期為平埔族的居住地，今日以盛產文旦著名？(A)暖暖 (B)關廟 (C)北投 (D)麻豆。
7. (B) Ryan上地名資訊服務網查詢「厝和屋」的地名，「屋」的地名主要分布在何種族群居住的地方？(A)閩南人 (B)客家人 (C)平埔族 (D)高山族。
8. (A) 嘉義有一地舊稱打貓，其地名因受何時期



- 之政治力影響改為現稱「民雄」？(A)日治時期 (B)中華民國時期 (C)荷治時期 (D)清領初期。
9. (U) 小可和朋友到鄉下旅行，當地的地名是陳厝、張厝，可見此地早期是何種族群聚集居住？(A)平埔族 (B)客家人 (C)閩南人 (D)高山族。
10. (U) 下列哪一種地名，在閩南語中指物體突出部分，即岬角之意？(A)壠 (B)岫 (C)鼻 (D)滴。
11. (D) 臺灣早期哪一種行政區，經濟最不發達、人口少？(A)市 (B)省 (C)區 (D)鄉。
12. (U) 臺灣有許多地名與甘蔗製糖的舊式製糖廠「糖廍」有關，如「廍子」、「廍後仔」……等。由臺灣甘蔗分布的地理環境來推論，下列哪一地區會出現最多這類的地名？(A)埔里盆地 (B)林口臺地 (C)嘉南平原 (D)蘭陽平原。
13. (A) 小偉在地圖上見到許多地方行政區，如鹿港鎮、苑裡鎮、竹山鎮及信義鄉、金山鄉、吉安鄉等，對於其畫分相當好奇。這些地方層級的鄉鎮在早期畫分時，最主要是依據下列何項要素？(A)產業活動 (B)土地面積 (C)社會福利 (D)地勢起伏。
14. (U) 下列哪一個臺灣的地名，反映先民開發臺灣、辛勤拓墾土地的過程？(A)三民 (B)四維 (C)五結 (D)六合。
15. (D) 為了提升臺灣農業的競爭力，農民可以運用科學技術改良，培植何種農產品，提高農產品附加價值？(A)稻米 (B)芒果 (C)火龍果 (D)蝴蝶蘭。
16. (A) 臺灣北部地區的農業活動以柑橘、梨子等水果的種植及茶葉的生產為主，稻米的生產量並不多。請問：最主要的原因為下列何者？(A)山丘坡陡 (B)降水不足 (C)勞力不足 (D)面積狹小。
17. (D) 下列何種自然環境能夠產出最多樣化的水果，具有成為「水果王國」的條件？(A)溫帶區的平原 (B)溫帶區的高山 (C)熱帶區的平原 (D)熱帶區的高山
18. (D) 附圖是新竹部分「窩」的地形分布圖，由圖判斷，窩的地形特色，何者正確？(A)山頂 (B)山坡 (C)沙丘 (D)小河谷。

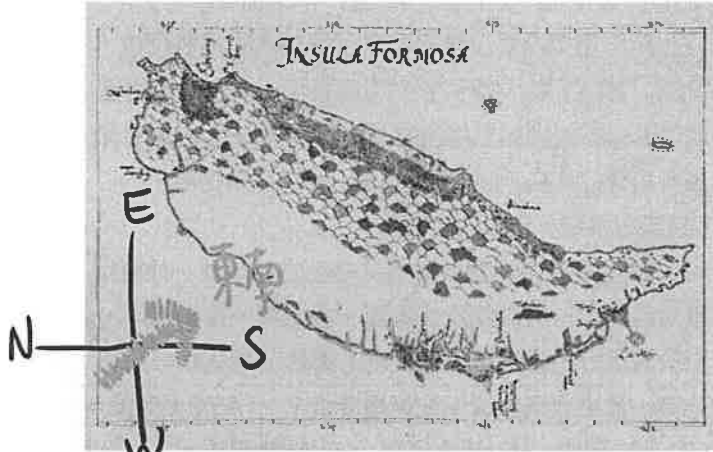


19. (C) 傳說在 1542 年，西方水手前往日本的航行途中經過臺灣東岸，映入眼簾的蔥鬱美景，讓他們驚訝、讚歎「Ilha Formosa！」（美麗之島），因而得名。若依上述說法判斷，當時這些水手的航行路線為何



(A) 甲 (B) 乙 (C) 丙 (D) 丁。

20. (C) 小霓在逛展覽時看到以下這張古地圖，發現跟他一般看到臺灣地圖方位不大一致，請問下圖東南方應如何標示？(A) \ (B) / (C) / (D) /



21. (D) 屏東的潮州位於該縣的中央位置，為當地重要的交通中樞，也是東西鐵路的轉運站。該地名和當地早期的居民由附圖中何處移入關係最大，因此有三山國王廟的祭祀習俗？(A) 甲 (B) 乙 (C) 丙 (D) 丁。

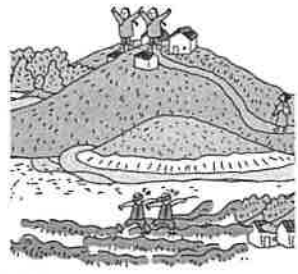


22. (D) 和美早期叫「卡里善」，係為平埔族原住民巴布薩族語，意指熱與冷交界地。明代以來大量先民移臺，主要來自漳、泉二地，以詔安圳為界，以東大多為漳州移民，以西則多為泉州移民。有鑑於漳泉械鬥迭起，為勸誡械鬥，和睦美鄰，共同創建美好地方，所以稱之為「和美」。至民國九年十月一日成立「和美庄」其行政區包含：山犁里、四張里、竹園里、和西里、犁盛里、嘉犁里、中寮里、好修里(原「火燒」雅化而來)、竹營里、和東里、南佃里、詔安里、新庄里等。請問以上各里之命名方式不包含哪種？(A) 原鄉地名 (B) 土地開拓 (C) 軍屯制度 (D) 原住民語

23. (B) 2022 年的縣、市長選舉活動即將開跑，各黨派的候選人之爭已如火如荼的展開，根據政府行政

組織層級的畫分，下列哪一地區不屬於縣、市長選舉的範圍？(A) 高雄市 (B) 宜蘭市 (C) 苗栗縣 (D) 基隆市。

24. (C) 地名的命名與當地地勢有關，由附圖判斷，住在附圖下方的居民經常遇到淹水，此地容易形成何種地名？(A) 崎腳 (B) 崎頂 (C) 溝仔 (D) 崙仔。



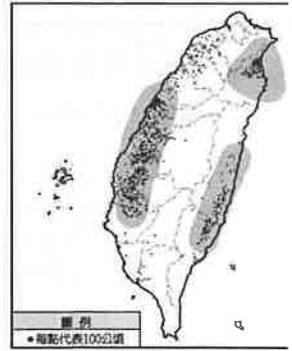
25. (A) 下列哪一個臺灣的地名，為平埔族道卡斯族的居住地，以草蓆聞名？(A) 大甲 (B) 松山 (C) 北投 (D) 唭哩岸。

26. (A) 臺灣的地形受到板塊擠壓影響，形成高低起伏變化多端的情況，也因此成為早期地名的命名素材。嘉義縣內地名中有「崎」字的地區，其分布位置應該較偏於該縣的哪一個方向？(A) 東方 (B) 西方 (C) 南方 (D) 北方。 往阿里山方向

27. (D) 附圖是臺灣有關崙的地名分布圖，哪一種地形出現崙的頻率較低？(A) 平原 (B) 丘陵 (C) 盆地 (D) 山地。

28. (B) 族群分布的差異影響該地區的命名，客家地區較常看到的地名種類不包括下列何者？(A) 屋 (B) 鼻 (C) 壩 (D) 嶼。

29. (A) 臺灣的某種農作物分布區如附圖所示。請問：該農作物最可能為下列何者？(A) 水稻 (B) 檳榔 (C) 茶葉 (D) 甘蔗 平原



30. (C) 崙背、沙崙、崙頂等地名都來自於當地的自然環境，所以成為影響聚落生活的主要因素。這些地區的共通點為下列何者？(A) 高聳崎嶇 (B) 炎熱乾燥 (C) 強風多沙 (D) 潮溼多雨。

31. (A) 聚落地名的來源往往和當地的區域特色息息相關，如附圖為全臺「鹿」地名的分布圖，其命名與下列何者關聯性最大？(A) 生態景觀 (B) 平埔族社 (C) 宗教信仰 (D) 地形起伏。



32. (B) 臺灣蘭花生產產值一年 77 億臺幣，外銷 62.1 億，80% 賣到全世界。

第十九年舉辦的臺灣國際蘭展吸引許多國外買家，高雄區農業改良場育成許多新奇蘭花，其中 4 株因花姿優美，受到大會評審青睞。請問臺灣的蘭花產業具有何種特色？(A) 大面積種植 (B) 技術與工藝成熟 (C) 獨佔地利之便 (D) 屬於薄利多銷的作物。

33. (A) 臺灣夏秋時常有颱風災害，伴隨產生的土石流災害，時常對哪個地形區的居民生命財產產生威脅？(A)壠(B)鼻(C)崙(D)墘。

34. (C) 健豪趁著觀光淡季去了趟小琉球，浮潛玩上岸他隨手拍了一張照片，洗出照片後發現有部分受到汙損，請問照片汙損處應為下列何種組合？
(A)縣-區(B)市-區
(C)縣-鄉(D)市-鎮。



35. (D) 上將梨在民國七十二年推廣栽培，雪白果肉細緻多汁，夏日產季供不應求，吃過的人都說：「比日本梨、韓國梨還好吃！只有 OO 才有。」早晚分別吹著反向東、西風，日夜溫差大，加上豐沛雨水滋潤，上將梨顆顆長得金黃飽滿，「OO 的雨水多，過年前開花就要趕快幫它撐傘。」上將梨達人說，有雨水授粉才完整，撐起小傘，保護花粉不被雨水打落。滿坑谷的傘海景象難見，唯獨 OO 才有。請問文中的 OO 應指何地？(A)屏東枋寮(B)臺南將軍(C)澎湖七美(D)宜蘭三星。

冬季(四季)降雨多

二、題組 (每題 3 分，共 21 分)



(一) 臺灣的地名與歷史產業有密切的關聯。例如：「鎮」與「營」的相關地名，是因為當地曾實施寓兵於農的「軍屯」；而「大稻埕」則是晒穀場的意思；「張犁」、「甲」代表土地的計算單位；「股」是墾戶募集資金，墾成後分配土地股份；「結」是漢人墾地「結首」制的代稱，這些地名都反映當時農業開墾的狀況。除此之外，地名含有「樟」或「腦」者多半與

製造樟腦有關，而含有「茶」字者大多為產茶區域，地名若有「蔗」、「廓」，則大多是製糖的聚落。

36. (D) 代表軍屯的「鎮」或「營」等地名，最可能分布於哪個地區？(A)臺北、基隆(B)新竹、苗栗(C)臺中、南投(D)臺南、高雄。

37. (A) 含有「茶」字的地名，最可能分布哪個地區？(A)新竹丘陵(B)嘉南平原(C)海岸山脈(D)花東縱谷
(二)

(1) 花蓮在文獻中的地名有哆羅滿、崇爻、奇萊、洄瀾等。西班牙文獻曾提及臺灣東海岸 Turumoang 盛產沙金。同一時代來臺的郁永河亦在〈番境補遺〉中提到：「哆羅滿產金，淘沙出之，與雲南瓜子金相似……近歲始有攜至雞籠、淡水易布者。」西人與郁永河所指應為同一處，為今天花蓮立霧溪出海口新城一帶。
(2) 崇爻(tsongau)一詞是阿美族對太魯閣族之稱呼，原意為猿猴，因為太魯閣族身手矯健如猿猴，所以阿美族以崇爻稱呼太魯閣族。後來演變為奇萊一代地名，最後轉變為對整個花蓮地區的稱呼。

(3) 清初藍鼎元《東征記》敘述崇爻八社中的竹腳宣，歷史上曾出現多種寫法，如直腳宣、竹仔宣、七腳川³⁸，今音譯為知卡宣。知卡宣為南勢阿美族的一支，曾為日治時期鎮壓之對象。

(4) 「七腳川事件」後日本人沒收知卡宣社的土地，開始引進日本農業移民，經營官辦移民村，因移民中以四國德島縣人最多，便以德島縣境內的吉野川為名，命名為「吉野村」。

(5) 花蓮原住民佔全縣人口比例，在臺灣算是較高的縣份，如太魯閣、泰雅、阿美、布農、葛瑪蘭甚至西拉雅，從山區到海岸皆有分布，但令人驚訝的是與原住民直接相關的地名卻寥寥無幾。地名經常與政權轉換有關，前總統陳水扁上任後，臺灣陸續出現如凱達格蘭大道、馬亨亨大道、馬卡道大道、新港社大道等原住民族相關主題為命名的大馬路

38. (D) 由以上段落可得知，以下哪個地名最晚出現於文字記載上？(A)淡水 (B)雞籠 (C)花蓮 (D)知卡宣

39. (A) 崇爻一詞源自阿美族語，請問下列何者也是源自原住民族語？(A)暖暖(B)佳冬(C)雞籠(D)佳里。

40. (C) 知卡宣社於歷史上有多種寫法，請問是何種原因最有可能造成此現象？(A)當地位處板塊交界，地形破碎(B)文獻傳承不易，時有破損缺漏(C)地名之形成，通常是先有音再有字(D)不同作者為彰顯獨特性經常自創。

41. (D) 花東地區保留相對多日式地名，請問以下地名和者與日人開發最無相關？(A) 鶴岡 (B) 瑞穗 (C) 春日 (D) 三民
42. (A) 新港社為西拉雅族四大社之一，其他三個分別為蕭壠社、目加溜灣社與蔴荳社；馬亨亨是19-20世紀阿美族馬蘭部落的頭目，先後與許多部族與政權間周旋調和，其中包括卑南族、太魯閣族等；馬卡道族分佈在嘉南平原、高雄與屏東平原一帶，往昔聚落為鳳山八社，包含大傑顛社等社，馬卡道族為目前全臺最大之未識別民族，僅屏東縣等地方政府承認。請將段落五中(甲)凱達格蘭大道(乙)馬亨亨大道(丙)馬卡道大道(丁)新港社大道由北至南排列，選出適合的選項。
- (A) 甲丁丙 (B) 丁丙甲 (C) 甲乙丁 (D) 丙甲丁

甲→丁→丙→乙

三、非選題 (每題 3 分，共 9 分)

- * 請以原子筆回答於作答紙上。
- * 未填答於作答紙或使用鉛筆作答者不予計分。

1. 課堂中討論了許多臺灣地名，請寫出一個以地形或自然景觀命名之地名。例如：竹崎、崙背、田中、雙溪、澳底、內湖或五峰等。(請勿與範例重複)

2. 地名時常為政治權力的展現舞臺，請判別行政區地名隱含之政權，將其主宰臺灣之先後順序作排列(請填寫代號)。

C → B → D → A
 A 中正區 B 左鎮區 C 北投區 D 岡山區
 R.O.C. 蔣 原住 日

3. 芒果原產於印度東北與緬甸交界，目前臺灣栽培面積 16314 公頃，年產量約 17 萬公噸，主要產地為臺南市、高雄市及屏東縣等縣市。請問右此圖顯示出臺灣何種農業特色？(請以 20 字內簡答。)



* 試題結束，
 請把握時間檢查作答！

