

私立正義國中 111 學年度下學期第一次段考 國一 地理科試題

考試範圍：第二冊 1、2 章

【科目代號：05】

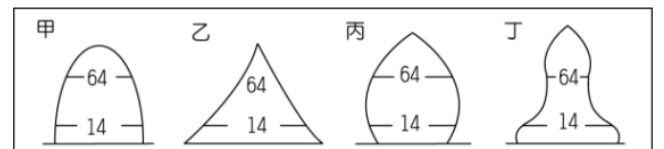
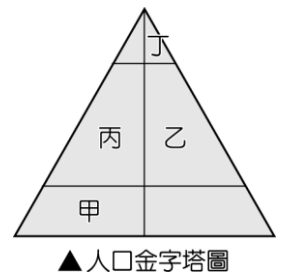
班級：\_\_\_\_\_

座號：\_\_\_\_\_

姓名：\_\_\_\_\_

第一部分：單一選擇題（每題 2 分）

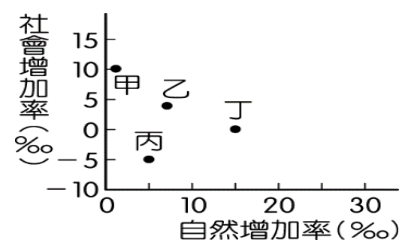
1. 臺北市在 109 年社會增加率為 -17.1‰，此數據呈現臺北有哪一現象？(A)該地缺乏就業機會 (B)移出人口較多 (C)死亡率遠大於出生率 (D)老年人口比例高
2. 影響人口數量變化的因素有出生、死亡、移入、移出，其中哪兩項因素會造成一地人口數量的減少？(A)出生、移出 (B)死亡、移入 (C)出生、移入 (D)死亡、移出。
3. 為 20220 年台南市政府舉辦「伯公生慶典」活動海報。市府希望透過各項特色活動，推廣 □□ 信仰文化，為伯公祝壽，感謝伯公長年的照顧，盼望在來年事事能順心。請問：□□ 應該填入下列哪個族群？(A)客家 (B)閩南 (C)外省 (D)越南。
4. 呈上題。為了宣揚上述族群的傳統文化，下列何者最有可能是在慶典裡舉辦的體驗活動？(A)烤燒餅 (B)滾椰絲球 (C)釀小米酒 (D)搓棗粿(麻糬)。
5. 目前高雄市男性人口數約 134 萬人、女性約 138 萬人，關於高雄市的性別比敘述何者正確？(A)性別比大於 100 (B)性別小於 100 (C)新生兒性別比大於 100 (D)新生兒性別比小於 100
6. 人口金字塔的型態不僅能顯示該國人口結構與人口轉型階段，同時也能反映該國社會經濟發展程度。請問：人口金字塔圖主要依據哪二項人口資料繪製而成？(甲)職業；(乙)年齡；(丙)語言；(丁)性別；(戊)宗教。(A)甲乙 (B)甲丙 (C)乙丁 (D)丙戊。
7. 下列情況哪一項會影響臺灣的自然增加率變化？(A)中原由臺北市遷移到鳳山區工作 (B)珠姐與日本籍丈夫結婚後定居於大寮區 (C)陳胤由菲律賓來臺灣從事看護工作 (D)新移民小恩在林園區產下健康的小女嬰
8. 根據移民署於 2019 年的統計報告顯示，目前全臺新住民人口有 55 萬人，其中以中國來臺的配偶最多，其次為東南亞國家。早年多以「中國新娘」、「越南新娘」來稱呼，後來改以「新住民」統稱這些遠渡重洋來臺結婚的女性外籍人士。請問：若根據上文敘述判斷，這些新住民將直接影響右圖中的哪一個部分？(A)甲 (B)乙 (C)丙 (D)丁。
9. 小睿踏查臺北迪化街時，看到許多不同的建築形式，哪一種建築是因應夏季多雨特性而形成？(A)石板屋 (B)騎樓 (C)洋樓 (D)三合院。
10. 人口金字塔為重要的人口結構指標，然而從圖中無法得知哪一項人口特徵？(A)人口總數 (B)年齡階層 (C)性別結構 (D)扶養比。
11. 某個語系包含有 1200 種以上的語言，人口多數居住在東南亞地區，分布區域東達復活節島，西至馬達加斯加島，南到紐西蘭，最北端則達臺灣。請問：上述的語系應為下列何者？(A)印歐語系 (B)南島語系 (C)拉丁語系 (D)阿拉伯語系。
12. 每天早上王先生(45 歲)出外上班，王太太(43 歲)便在家中整理家務。兒子大寶已經 23 歲，而女兒小孟才 11 歲，因此對於子女的教養兩夫妻相當重視。家中尚有王老先生(70 歲)同住，是典型三代同堂的家庭。請問：就人口結構而言，上文中的勞動人口共有幾位？(A)一位 (B)二位 (C)三位 (D)四位。
13. 臺灣人口分布不均勻，與哪一因素無關？(A)開發早晚 (B)地形特徵 (C)經濟發展 (D)降水多寡
14. 臺灣飲食具多樣性，成為吸引外國觀光客的亮點。請問：燒餅油條、饅頭、牛肉麵是下列哪一個族群的美食？(A)客家人 (B)原住民族 (C)閩南人 (D)戰後移民。
15. 臺灣政府與民間近幾年開辦「識字班」、「生活適應班」等，協助參加的新住民能夠適應臺灣的生活。請問：這樣的情況和臺灣人口結構的何種現象關係最大？(A)性別比提高 (B)社會增加率提高 (C)扶養比下降 (D)自然增加率提高。
16. 臺灣已步入高齡社會，而根據內政部的資料統計，目前全臺老年人口比例最高的縣市為嘉義縣，比例高達 18.61%。請問：造成嘉義老年人口比例高的主要原因可能為何？(A)醫療設備健全 (B)壯年人口外移 (C)自然環境純淨 (D)就業機會多。
17. 人口金字塔可以看出一個地區的人口結構特色。請問：下列四個地方的人口結構中，哪一個地方的人口結構可能顯示出人口大量外流到國外工作的情況？(A)甲 (B)乙 (C)丙 (D)丁。



18. 為闡揚臺灣多元文化特色，中華郵政公司發行「臺灣教堂郵票」，其中座落於臺東太麻里的「金崙聖若瑟堂」，是間融合當地文化特色的天主教堂，不僅教堂大門上掛著代表頭目的頭飾，四周的彩色玻璃也有該族群的風格畫作。請問：該座教堂主要融入了下列哪一個族群的文化特色？ (A)新住民 (B)原住民族 (C)閩南人 (D)客家人。
19. 下列關於台灣未來的分析，何者正確？ (A)未來臺灣會面臨勞力過剩問題，政府宜擴大內需來提供就業機會 (B)為減輕學童課業壓力，宜再廣設高中、大學 (C)奶粉廠商宜拓展中老年人市場，以因應不斷萎縮的嬰幼兒市場 (D)為減少人口壓力，宜鼓勵婦女節育
20. 截至 2021 年在臺灣每三十個人中就有一位國際移工，移工已成為台灣不可忽視的勞動力。以下哪一國家不是臺灣移工的主要來源地？(A)菲律賓 (B)印尼 (C)日本 (D)越南

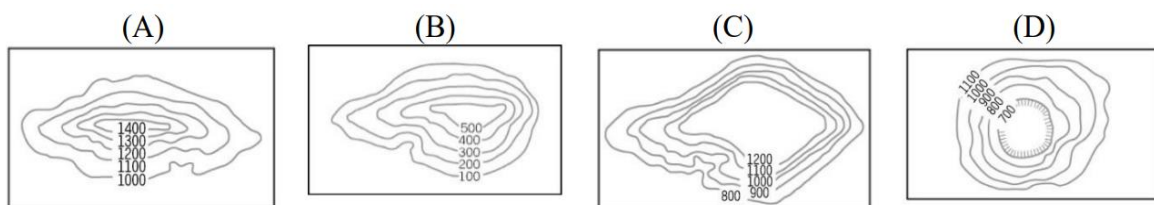
第二部分：進階題（每題 3 分）

21. 王老師將四個國家的出生率與死亡率相關數據繪製成表格，如附圖所示。根據圖中資料判斷哪一個國家的人口增加率最高？(A)甲 (B)乙 (C)丙 (D)丁。



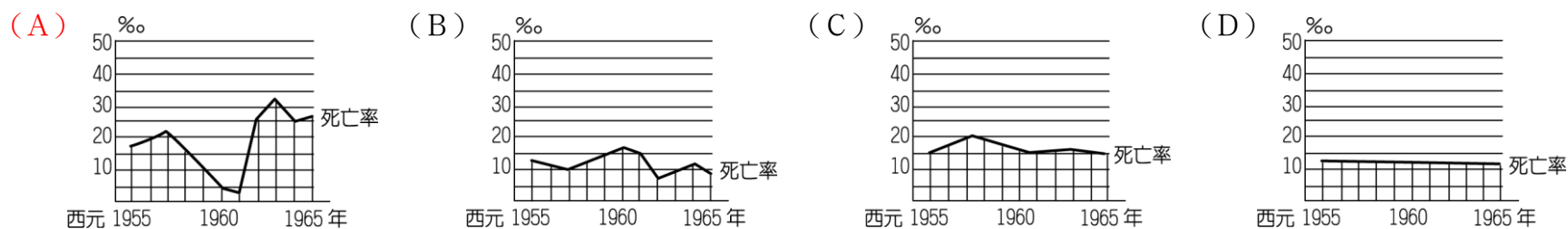
22. 世界各地早期的華人移民以閩南人居多，查閱歷史資料可發現，在北宋時期，中國華南地區已被描述成「水無涓滴不為用，山到崔搜猶力耕」，形容因人多、田地少，土地被利用到極致卻仍極度缺乏的狀態。後因航運技術發達，於是當地人口逐漸遷移到各地，以致今日有「僑鄉」之稱。根據上述資料判斷，下列何者敘述正確？ (A)閩南地區自然資源不足、推力強 (B)閩南地區自然資源不足、拉力強 (C)閩南地區人口多、推力弱 (D)閩南地區人口多、拉力弱。
23. 俄羅斯於台灣時間 2 月 24 日上午對烏克蘭出兵，此舉引發國際震驚與撻伐，致使約 50 萬烏克蘭居民扶老攜幼被迫跨越國界湧入鄰近的波蘭，成為難民。在此同時也有許多烏克蘭年輕人從歐洲各地返國，準備加入保衛家園的行列，抵抗入侵的俄羅斯軍隊。請問：根據上文描述的人口遷移情形將會使得戰爭初期烏克蘭的人口產生何種變化？(A)性別比提高 (B)扶養比提高 (C)社會增加率上升 (D)自然增加率上升。

24. 臺灣人口分布深受自然環境的影響，下列四種等高線地形圖中，人口密度較高的是哪一種？



25. 行政院曾針對臺灣幾項人口問題，提出一份《人口政策白皮書》，內容包含健全生育保健體系、營造友善家庭之職場環境、落實產假及育嬰留職停薪措施，以及推動高齡者社會參與、完善高齡教育等。請問：依據上述內容，這份白皮書應是針對臺灣哪兩項人口議題而擬定？(A)少子化、性別比例失衡 (B)扶養比上升、多元族群 (C)少子化、高齡社會來臨 (D)性別比例失衡、扶養比上升。

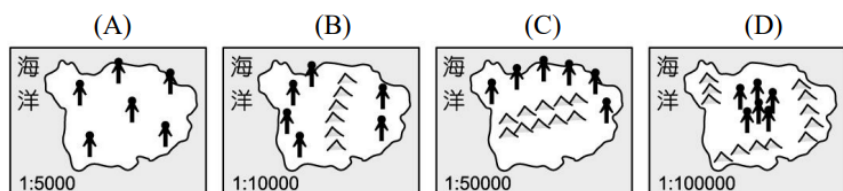
26. 某四個不同國家的死亡率變化如下列所示。請問：其中哪一個國家的天災及戰亂發生機率最為頻繁？



27. 在雙北地區有龐大的國際移工群體，主要提供雙北地區在老年照護上面的需求，請問在雙北地區的國際移工中，其性別比最有可能為下列哪個數字？(A)100(B)90(C)200(D)102

28. 近年來，政府在各地設立教學醫院分院與巡迴醫療車，並於鄉鎮村里廣設圖書館，這些措施將有利於改善下列何種人口現象所造成的資源分配失衡問題？ (A)出生率下降 (B)人口大量移出 (C)人口分布不均 (D)人口大量移入。


29. 下列為「四個島國人口分布示意圖」，每張圖的圖紙大小相同，但比例尺都不同。依此判斷，哪一個島國的人口密度最小？（每個小人代表一百人）



30. 下列為清代漢人移民來臺的一段描述：「早期漢人移民多在清 康熙到嘉慶年間來臺，這使得當時臺灣的人口數量大幅增加。漢人移民來臺預渡過九死一生的黑水溝，且有嚴格的渡臺禁令，規定來臺的男子預領有渡臺證照，還不准攜帶家眷同行。即便如此，因來臺開墾能獲得許多經濟利益，還是吸引許多人甘願冒險渡臺。」根據上述，下列說明何者正確？  
 (A)對於台灣來說推力大於拉力 (B)當時漢人來臺橫渡的黑水溝指的是太平洋 (C)當時禁令會影響島內的性別比降低  
 (D)影響當時人口變動的應為社會增加率。

第三部分：題組（每題 2 分）

- ◇ 下圖為臺灣 1980 年、2010 年及推估 2040 年的扶養比示意圖，請問：



31. 年代先後順序排列應為下列何者？ (A)甲乙丙 (B)甲丙乙 (C)乙丙甲 (D)乙甲丙。  
 32. 圖中甲~丙三個年分，哪一年的人口結構對臺灣的經濟發展最為有利？ (A)甲 (B)乙 (C)丙 (D)無法判斷。  
 33. 乙年代最不可能發生下列哪一個現象？ (A)整合政府與民間資源，設立之長期照顧 2.0 體系需求日益增加 (B)取消育兒津貼與育嬰假制度 (C)銀髮人才資源中心與安養院需求上升 (D)手機以「大按鍵、大音量、功能簡單」作為訴求的市場明顯成長

- ◇ 波蘭新聞快報：「2022 年 3 月，波蘭湧入大量的烏克蘭難民，烏俄戰事發生後，波蘭開放邊界提供 8 個據點，讓烏克蘭人可逃到波蘭避難無需簽證，並對烏克蘭難民放寬 COVID-19 限制，現在波蘭收容的烏克蘭難民數量已逾 11 萬人。請問：

34. 上述的難民現象將反映出烏克蘭何種人口成長的變化？ (A)自然增加率增加 (B)人口移出率增加 (C)社會增加率增加 (D)人口出生率增加。  
 35. 請問逃離到波蘭的烏克蘭難民，屬於下列哪些遷移的類型？ (A)國內遷移、強迫性遷移 (B)國內遷移、志願遷移 (C)國際遷移、強迫性遷移 (D)國際遷移、志願遷移

- ◇ 人口結構為政府擬定發展政策的重要參考指標，影響著國家未來的走向。請問：

36. 勞動部已正式通過「有薪照護假」，希望在颱風天放假時，家中停課的小孩得以有人照護。近年來相關政策不斷推出，如幼教免費、安親輔育等，這些都和下列何種人口問題有關？ (A)新住民眾多，協助融入社會 (B)人口總數降低，增加人口拉力 (C)出生率創新低，鼓勵婦女育兒 (D)人口集中都市，擴大城鄉差距。  
 37. 根據政府的統計資料，臺灣將在 2033 年超越日本，老化指數將居全球之首，成為全世界最老的國家。請問：臺灣老年人口比例快速攀升，和下列何者關係最大？ (A)總人口數大量增加 (B)壯年人口大量移居海外 (C)死亡率急劇降低 (D)新生兒出生率下降。

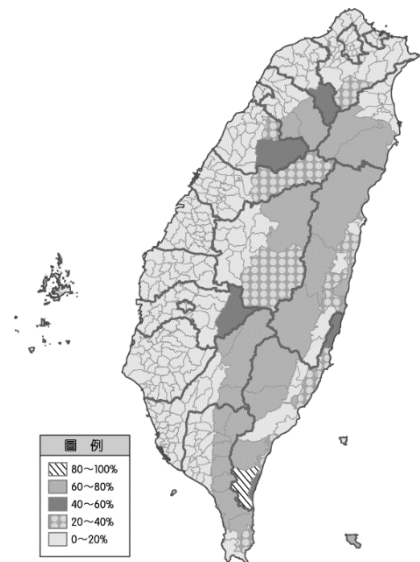
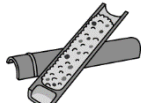

- ◇ 隨著臺灣社會發展，對於長照勞力需求也愈來愈高，大部分信奉伊斯蘭教的印尼移工，就是長照工作最主要的勞力來源國家，在性別比例上女性遠多於男性，而在縣市分布上，通常人口愈多的縣市也會有較大的照護需求。另外，印尼移工人數曾在西元 2002~2004 年明顯驟降，當時的行政院勞委會(今勞動部)有鑑於印尼移工逃跑事件頻傳，遂於 2002 年 8 月 1 日全面凍結印尼移工的引進，直至 2004 年 12 月，臺印簽署勞工備忘錄，才重新恢復引進印尼移工。請問：

38. 下列哪一宗教場所可能與上文所提的移工最密切相關？(A)教堂 (B)福德祠 (C)清真寺 (D)三山國王廟。  
 39. 根據上文，西元 2004 年後，印尼移工比例快速增加，主要是為了解決下列何項人口問題？(A)少子化 (B)人口老化 (C)新住民減少 (D)扶養比增加。  
 40. 印尼移工的性別比最有可能為下列何者？ (A)80 (B)100 (C)110 (D)120。

◆ 附圖為臺灣各鄉鎮【甲族群】比例圖。請觀察圖片中各族群的佔比，並回答下列問題：

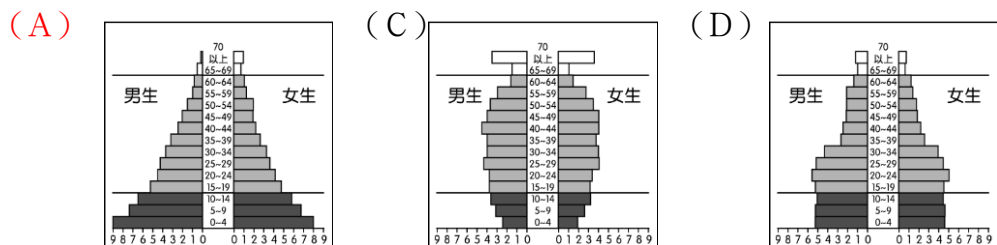
41. 【甲族群】最有可能是下列哪一個原住民族？ (A)新住民 (B)閩南人 (C)原住民 (D)客家人。
42. 請問【甲族群】在哪個縣市的分佈比例較高？ (A)桃園市 (B)臺南市 (C)臺北市 (D)基隆市。
43. 請問【甲族群】的特色食物為下列何者？

- (A) 披薩 (B) 板條 (C) 竹筒飯 (D) 牛肉麵



◆ 臺灣人口問題已成為新的國安問題？一個國家人口老化速度的判斷標準，是以 65 歲的人口比率從 7% 增加到 14% 的「年數」：瑞典花了 85 年，美國 73 年。臺灣在 1993 年 2 月正式進入「高齡化社會」；經建會（今已改為國家發展委員會）推估，臺灣已在 2017 年達到 14%，成為「高齡社會」，老化速度年數約為 24 年，遠比歐美國家快得多。另一對比數字是：臺灣人口成長率（出生率－死亡率）從 3% 降到 1%，只花了 30 年。下表為臺灣曾經實施過的家庭計畫宣導口號。請回答下列問題：

44. 請問民國 56 年的人口金字塔最有可能屬於下列何者？



45. 哪一年的宣導主要針對解決人口的老化問題？ (A) 95 年 (B) 94 年 (C) 84 年 (D) 60 年。

### 臺灣推行家庭計畫 不同年代的宣導口號

- 53年** 「實施家庭計畫，促進家庭幸福」、「實施家庭計畫，保持青春健康」。
- 56年** 五三口號：「婚後三年才生育、間隔三年再生育、最多不超過 3 個小孩、33 歲以前全部生完」。
- 58年** 「小家庭、幸福多」、「子女少、幸福多」。
- 60年** 「兩個孩子恰恰好，男孩女孩一樣好」。
- 79年** 適齡結婚、適量生育
- 84年** 適當婚育年齡為 22 歲至 30 歲
- 94年** 臺灣心、新文化、融合你我他
- 95年** 「孕育下一代，生命更精彩」、「結婚生育，讓生命永續」

資料來源／內政部 製表／李順德 ■ 聯合報

=====恭喜你完成這份考卷！再回頭檢查一次吧！=====