

高雄市正義中學111學年度第二學期期中考 國一地理科試卷

班級 _____ 姓名 _____ 座號 _____ ，請正確畫卡。

年級：【1】 班級：1班填【1】 2班填【2】 3班填【3】 科目代碼：【05】

一、單選題(每題2.5分，共70分)

1. (B) 產業活動的發展經常反映出該國的經濟程度。附表分別為四個國家的產業就業人口比例，其中哪一個國家的經濟發展程度可能相對較好？

產業 國家	第一級 產業	第二級 產業	第三級 產業
日向國	31%	38%	31%
愛米國	15%	37%	48%
豬豬國	42%	30%	28%
木葉國	31%	20%	49%

(A)日向國 (B)愛米國 (C)豬豬國 (D)木葉國。

2. (D) The DoDo Men(嘟嘟人)是個雙人組合的youtube頻道，Ian原為蘋果包裝工程師，Eric則為矽谷精算師，兩位離開原本的工作投入至頻道創作，透過企劃與影片宣揚「跳脫舒適圈」的精神理念，至今累積眾多粉絲。請問關於嘟嘟人轉行成為youtuber的歷程以下何者正確？

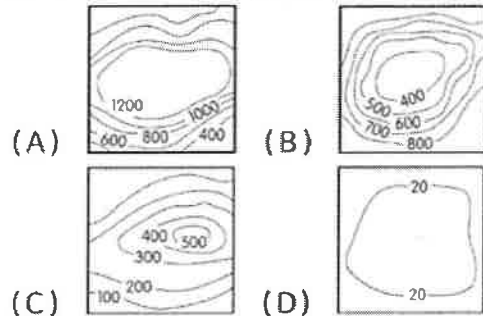
(A)第一級產業→第二級產業 (B)第二級產業→第三級產業 (C)皆為第二級產業 (D)皆為第三級產業

3. (C) 2011年歐洲國家出現金融危機，尤其是希臘情況相當緊迫。專家表示若情況持續下去，哪一級產業的相關行業可能因為無法收回放款資金，將首當其衝受到衝擊？(A)第一級產業 (B)第二級產業 (C)第三級產業 (D)第四級產業。

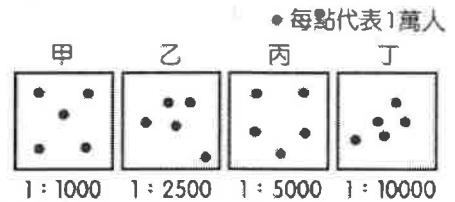
4. (B) 行政院農委會為推廣臺灣的優質作物，舉辦「臺灣稻米達人冠軍賽」，來自全臺各地的農夫紛紛使出渾身解數，希望能為家鄉博得好彩頭。請問：若依其生長條件而言，較適合該作物種植的地形區為下列何者？(A)新竹丘陵 (B)花東縱谷 (C)中央山脈 (D)澎湖群島。

5. (B) 臺灣日前於宜蘭南方澳漁港發生橋梁倒塌事件，除了造成三艘漁船上的人員罹難外，還影響港口漁船開出領海，前往經濟海域作業。請問：若依其作業位置判斷，該漁業類型應該為下列何者？(A)養殖漁業 (B)近海漁業 (C)沿岸漁業 (D)遠洋漁業。

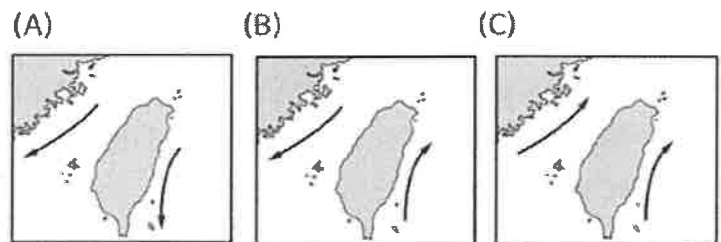
6. (C) 臺灣開放中國遊客來臺觀光後，茶葉為中國遊客喜愛的伴手禮，是為我國重要的經濟作物。若要前往產地的茶園參觀生產過程，應該到下列哪一地形區最為適合？



7. (A) 畜牧業的發展受到自然及人文因素的影響，附圖中哪一個地區的畜牧業活動類型最可能為欄牧？(A)甲 (B)乙 (C)丙 (D)丁。



8. (B) 臺灣鄰近海域有洋流經過，利於漁業發展。下列有關流經臺灣海域的洋流示意圖，何者正確？



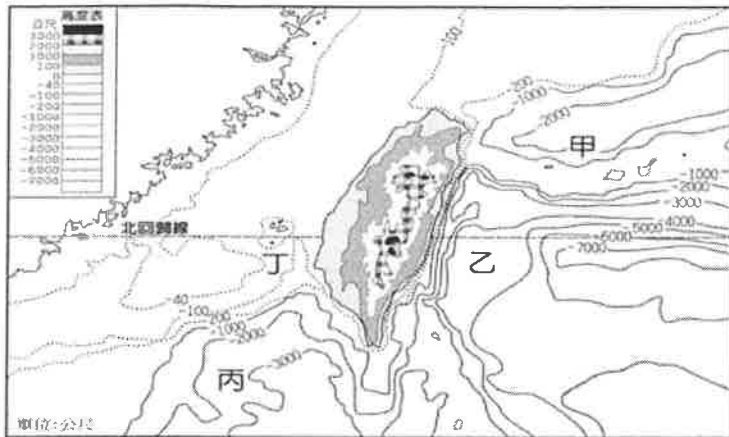
9. (B) 臺灣北部區域都市化程度高，為酪農業的主要市場，然而目前臺灣重要的畜牧區多位於西南部地區。請問：有利於西南部牧場將相關商品運往北部都市的因素為下列何者？(A)產品品質優良 (B)交通運輸改進 (C)地狹人口稠密 (D)開闢海運運輸。

10. (B) 新竹的玻璃工藝相當著名，然而其易碎的產品特色，使得大部分玻璃工廠多分布於何種區位鄰近地區？(A)原料產地 (B)接近市場 (C)交

通便利(D)技術進步。

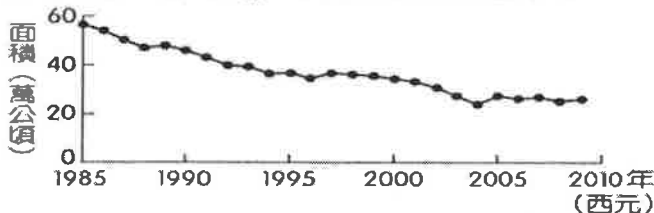
11. (D) 看似廣闊的大海中，其實有大量魚可捕的地區並不多，目前全球漁獲量80%以上是來自於大陸棚，而大陸棚僅占海洋面積的8%。請問：臺灣的大陸棚位於附圖中何處？

(A)甲 (B)乙 (C)丙 (D)丁。



12. (A) 茶、糖、樟腦為臺灣早期重要三大出口產品，其中糖業更是從17世紀的荷蘭統治時期開始，種植甘蔗為原料來煉糖，然而今日甘蔗種植面積大幅減少，各地糖廠也多轉型為觀光活動。請問：臺灣糖業的現況和下列哪一項生產條件的變化關係最大？(A)生產成本過高 (B)病蟲害問題嚴重 (C)土地嚴重下陷 (D)外國市場膨脹。

13. (B) 附圖為1985-2009年臺灣稻作面積的變化。此變化趨勢，除了受國人飲食習慣改變的影響之外，和下列哪一項因素的關係最密切？



(A)國際糧食價格升高 (B)政策輔導農業轉型 (C)大規模機械化耕作 (D)單位面積產量下降。

14. (A) 交通革新後各地之間的來往便捷許多，各國間的貿易往來越發頻繁，臺灣藉由優秀的工業發展在國際貿易上扮演重要角色，請問我國主要的貿易對象不包括以下何國？(A)印度 (B)美國 (C)中國 (D)日本。

15. (A) 臺灣國際貿易的發展，具有下列哪項特色？(A)出口產品變遷可反映臺灣產業發展歷程 (B)高度依賴國際貿易，且一直維持貿易順差

(C)隨著生產技術的提升，已完全不須仰賴進口機器設備(D)依賴少數的貿易夥伴，且主要進出口國區均位於亞洲

16. (A) 臺灣的工業發展由日治時期後期開始發展，隨著工業技術及發展條件的成熟，逐漸轉為各種不同類型的工業發展，進而帶動整體的經濟活動，當時為國際間稱之為「經濟奇蹟」。請問：下列有關產業類型的敘述中，何者最為正確？

	(A)區位條件	(B)工廠規模	(C)產品特性	(D)發展時間
輕工業	勞力密集	大型廠房	工業原料	民國70年代
重工業	資金密集	小型廠房	民生消費	民國60年代

17. (C) 各種工業類型的發展條件皆不相同，其中何種工業活動最符合下列特性？1.技術密集度高 2.附加價值高 3.資本密集度高。(A)輕工業 (B)重工業 (C)高科技工業 (D)加工出口業。

18. (A) 工廠為了獲利及發展，常常會選擇最優良的「工業區位」。當甘蔗製成糖後，體積縮小、重量減輕。請問：製糖廠應設在圖中哪一個地方，最能節省生產成本？



(A)甲 (B)乙 (C)丙 (D)丁

19. (C) 我國的國際貿易相當發達，其中進口產品總值即高達2500億美金，相當可觀。請問這和下列何者的關係最為密切？(A)人口眾多 (B)土地狹小 (C)缺乏礦產 (D)市場不大。

20. (A) 夏油傑是個認真的學生，筆記做得非常詳實，有天阿悟不小心翻倒墨水在筆記上，請幫他回憶被污染的甲、乙格子應該依序寫什麼？

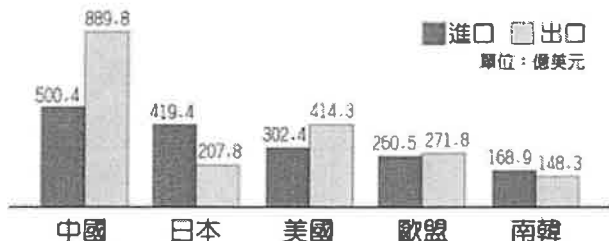
(A)集約、粗放 (B)粗放、精緻 (C)精緻、集約 (D)粗放、集約。

	投入時間	土地面積	單位面積產量	代表國家
甲 農業	較多	較小	較高	臺灣
乙 農業	較少	較大	較少	美國

21. (B) 國際貿易分為出超及入超，我國歷年來由於大量出超以賺取外匯，因此累積豐富的外匯存底，高達世界第三位。下列為我國主要的貿易國家往來資料，其中和何國的國際貿易往來密切，為我國最大的入超國家？

- (A) 中國 (B) 日本 (C) 美國 (D) 南韓。

臺灣主要貿易國家及地區



22. (U) 「農無閒年，地無閒田」是臺灣農業的最佳寫照，這句話最能顯示下列哪一項農業特色？

- (A) 農業技術先進 (B) 農產品商品化 (C) 農業集約度高 (D) 農村人口老化。

23. (A) 近年來，臺灣對外出口的農產品在海外市場上遇到了來自中國的農產品競爭，我們盛產的水果雖然品質較佳，卻因為價格較高，所以不敵中國生產的水果。請問：臺灣農業生產成本較高的原因和下列哪一項的關係最為密切？

- (A) 耕地面積狹小 (B) 氣候過於溼熱 (C) 土壤較為貧瘠 (D) 對外交通不便。

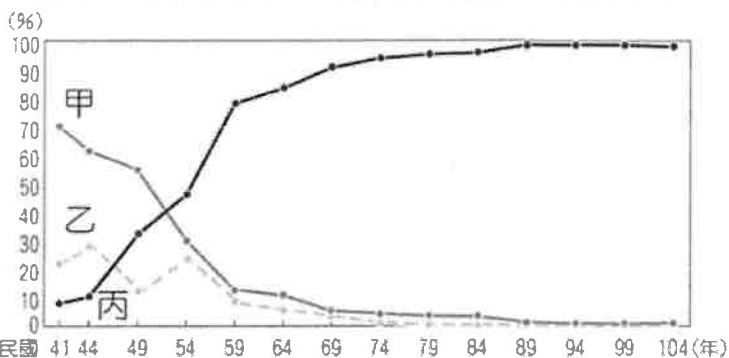
24. (U) 近年來臺灣部分稻田轉作花卉、蔬果，且大多銷往都市或海外。請問：下列哪一個縣市是花卉、蔬果專業化生產的重鎮？(A) 金門縣 (B) 臺北市 (C) 彰化縣 (D) 新竹市。

25. (D) 「自1980年代中期起，隨著經濟快速成長，國內土地、OO等生產要素成本大幅上升，再加上中國、東南亞與東歐國家挾其豐沛OO紛紛投入全球生產體系，使得臺灣傳統OO密集產業逐漸喪失競爭優勢。」請問OO內最適合填入以下何字詞？(A) 資金 (B) 技術 (C) 動力 (D) 勞力。

26. (A) 為促進高雄地區軟體科技產業之發展，經濟部特於民國89年購置7.9公頃土地設置「高雄軟體園區」，期待連結臺中軟體園區及臺北南港園區，形塑一條串聯西部產業的「創新走廊」，成為臺灣軟體產業創意金三角，平衡南、中、北部之經濟發展。請問哪項服務在高雄軟體園區

內進駐廠商最少？(A) 石油提煉 (B) 生物科技 (C) 智慧應用 (D) 資訊軟體。

27. (B) 圖為臺灣出口商品種類比重變遷。農產品、農產加工、工業產品依序為圖中曲線甲、乙、丙何者？(A) 甲乙丙 (B) 乙甲丙 (C) 乙丙甲 (D) 丙甲乙

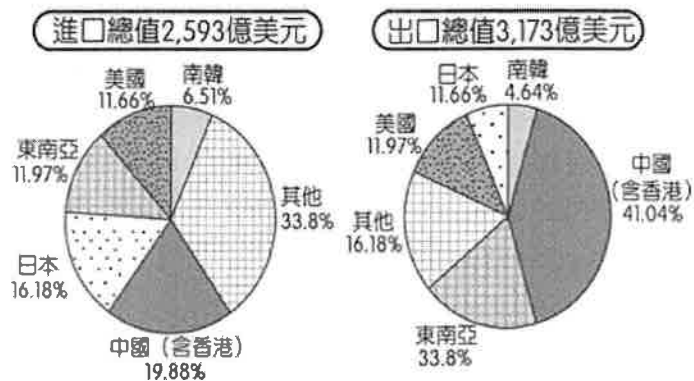


28. (U) 幾位認真的同學們在地理課後一起討論作物相關問題，請問以下誰的論點最為正確？

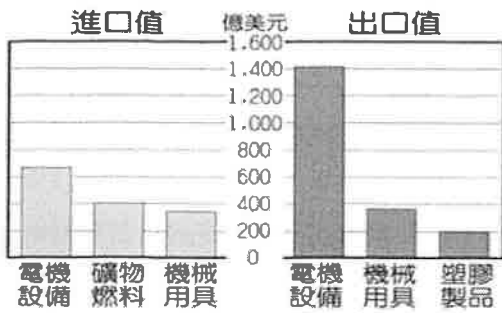
- (A) 宜農：我阿公常常吃餅乾吃到打嗝，所以餅乾算是一種作物 (B) 俞涵：我家餐桌上三餐一定都有魚，所以魚算是一種糧食作物 (C) 貞菱：我媽一天不買咖啡來喝就渾身不對勁，咖啡屬於經濟作物 (D) 予晞：我妹拿自己種的地瓜去賣，所以地瓜屬於經濟作物

二、題組 (每題3分，共30分)

(一) 臺灣的產業發展依時代背景環境而有不同，呈現各級產業的變遷過程，我們由國際貿易中進、出口的品項，可得知其關聯性。圖(一)為臺灣目前主要的經貿伙伴及其進、出口貿易值比例圖，圖(二)為臺灣部分進出口產品類別產值圖，請依照圖中資料判斷，回答下列問題：



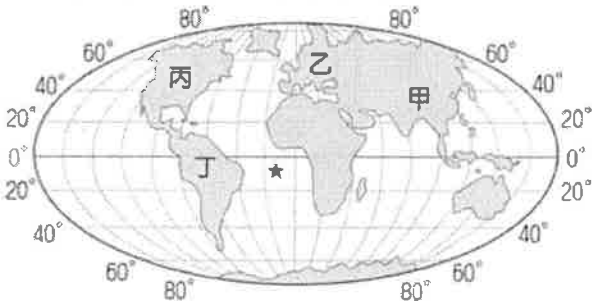
▲圖(一)



▲圖(二)

29. (B) 臺灣的出口總值排名高達世界第13位，甚至超過俄羅斯、印度及西班牙等大國，反映出臺灣強勁的經濟實力。依圖(一)、圖(二)中的數據判斷，我國出口產品主要與何種生產區位條件的關係最大？(A)原料充足 (B)技術進步 (C)工資低廉 (D)動力充沛。

30. (A) 根據圖(一)我國主要貿易伙伴來看，臺灣的貿易往來比重最高的地區多位於圖(三)中哪一洲？(A)甲 (B)乙 (C)丙 (D)丁。



▲圖(三)

31. (C) 經濟部若欲擴大臺灣的國際貿易版圖，降低過於集中的風險，應該積極和下列何區域加強雙邊合作較為適合？(A)東南亞 (B)日韓 (C)歐洲 (D)美國。

(二) CNN報導：「臺灣漁船在外海進行捕魚時，遭到南美洲的阿根廷海軍逮捕。根據阿根廷軍方說法，臺灣籍釣魷船疑似在該國海域進行非法漁撈活動，經十餘天的追逐後，終於被該國海軍追上，將面臨鉅額罰金。」請問：

32. (B) 上文報導中的臺灣籍釣魷船應該屬於下列何種漁撈活動類型？(A)養殖漁業 (B)遠洋漁業 (C)沿岸漁業 (D)近海漁業。


33. (B) 附圖為阿根廷的位置，若根據上文敘述判斷，則發生漁業糾紛的臺灣籍釣魷船應正在下列哪一個海域進行漁撈作業？



- (A) 東北太平洋
- (B) 西南大西洋
- (C) 西南太平洋
- (D) 印度洋北部

34. (B) 當阿根廷海軍要拍照記錄追捕過程時，最有可能拍到下列哪張照片？

- (A)
- (B)



- (C)
- (D)

(三) 臺灣鳳梨罐頭產業最早可追溯自日治時期，因為當時的鳳梨罐頭主要從東南亞進口，日本獲得臺灣後想透過投資臺灣的熱帶產業達到對熱帶水口的進口替代。臺灣的鳳梨罐頭起初雖有日本總督府的各项補助，但成本居高不下，最終難逃破產倒閉。後來開放民營後，雖然沒有補助價格反而能與東南亞競爭。

35. (A) 文中提到的鳳梨罐頭廠其選址可能於現在行政區中的哪個縣市？(A)高雄市 (B)宜蘭縣 (C)花蓮縣 (D)新竹市。

36. (A) 鳳梨罐頭這類食品加工廠設廠的區位選擇為何？(A)原料 (B)交通 (C)市場 (D)勞力。

37. (C) 鳳梨是熱帶水果，將其製成罐頭銷售至溫帶的日本，加工製造這個步驟的目的主要為何？(A)增加營養價值 (B)降低生產成本 (C)擴大至較遠的市場銷售 (D)實驗新商業型態。

38. (A) 國民政府接管臺灣後陸續推動許多經濟政策，請問哪個時期最為偏重鳳梨罐頭工廠這類食品加工廠？(A)民國40年代 (B)民國50年代 (C)民國60年代 (D)民國70年代。

試題結束，請把握時間仔細檢查作答！

