


一、單題 (每題 2 分，共 78 分)

1. (C) 《天方夜譚》是世界聞名的阿拉伯經典文學，書中的每一篇故事都富含宗教情感，從主角們對「阿拉」、「古蘭經」的信任，描寫穆斯林的高尚道德，都可以看出該地區哪一宗教的明顯色彩？(A)基督教 (B)印度教 (C)伊斯蘭教 (D)佛教。

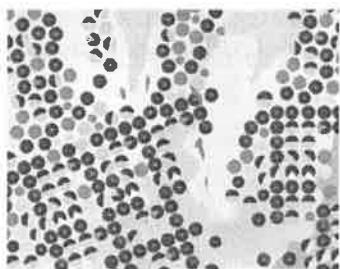
2. (C) 《一千零一夜》是阿拉伯的文學名著，故事描寫的背景為伊拉克首都巴格達，其乃阿拉伯世界最古老的城市之一。閱讀《一千零一夜》有助於了解下列何處人民的社會生活？(A)黃河流域 (B)恆河流域 (C)兩河流域 (D)尼羅河流域。

3. (D) 許多國際飯店或交通建設設有一些標示，以方便來自各地的旅客從事宗教活動。附圖為某飯店中所提供的標示，主要提供穆斯林進行禮拜。由此可知，這對下列來自哪一個國家的旅客很友善？



(A)以色列 (B)俄羅斯 (C)尼泊爾 (D)土耳其。

4. (B) 附圖為西亞某國家的灌溉圖，在一望無盡的沙漠中開闢出一圈圈的綠地農田，形成人工綠洲。上述該國的灌溉方式最可能為下列何者？(A)河渠灌溉



(B)鑽井取水 (C)坎井引水 (D)海水淡化。

5. (D) 附圖是某個都市舊城區圖，由圖中內容判斷，最可能是指下列哪一個都市？(A)麥加 (B)麥地那 (C)巴格達 (D)耶路撒冷。



6. (C) 非洲西北部的摩洛哥為著名的度假天堂，有「北非花園」之稱。請問：該地區的氣候類型為下列何者？(A)溫帶海洋性氣候 (B)熱帶雨林氣候 (C)溫帶地中海型氣候 (D)熱帶莽原氣候。

7. (B) 西亞四周為各海域所包圍，對其交通的影響甚大，如地中海即為西亞和南歐國家的主要航運路線。請問：該海域位於



附圖中何處？(A)甲 (B)乙 (C)丙 (D)丁。

8. (D) 2008 年年底西亞曾經發生震度六級的大地震，造成多人死亡的慘劇。請問：發生地震的地區最有可能為下列何處？(A)美索不達米亞平原 (B)撒哈拉盆地 (C)阿拉伯高原 (D)伊朗高原

9. (C) 杜拜是組成阿拉伯聯合大公國的七個邦之一。附圖是某雜誌上關於杜拜的廣告文宣，文宣中所提到的「黑金」指的是下列何者？(A)煤 (B)鐵 (C)石油 (D)鑽石。



10. (B) 溫帶氣候區分為海洋性、大陸性、地中海型及沙漠氣候等類型，其中的溫帶大陸性氣候和溫帶沙漠氣候具有下列哪項共同特徵？(A)全年高溫 (B)年溫差大 (C)夏雨冬乾 (D)全年乾燥。

11. (B) 點子圖在地圖上通常可以呈現特色主題分布的疏密狀況，例如：人口。以下列哪一個地區的人口分布密度最高，點點畫得最為密集？(A)伊朗高原 (B)美索不達米亞平原 (C)阿拉伯高原 (D)撒哈拉盆地。

12. (D) 附圖是某種宗教信徒必須做五項的功課。由圖中內容可知，該宗教應為下列何者？(A)佛教 (B)印度教 (C)基督教 (D)伊斯蘭教



13. (D) 承上題，關於「五功」同學們爭相發表自己所學，請問哪位同學說的有誤？(A)哈尼：朝覲之聖地為麥加 (B)員瑛：禮的內涵是每日朝拜五次 (C)米津：齋戒月除了生理上禁食，心理上也要維持平靜 (D)阿扣：齋戒月於每年國曆五月份進行

14. (B) 沙烏地阿拉伯中哪一個城市的清真寺，是伊斯蘭第一大聖寺，也是全世界穆斯林每天禮拜時所朝向的位置？(A)利雅德 (B)麥加 (C)麥地那 (D)耶路撒冷。

15. (B) 目前地球上主要的氣候帶分為三區，分別為熱帶、溫帶、寒帶地區。請問：畫分這些氣候帶的主要依據為何？(A)經度 (B)緯度 (C)坡度 (D)距海遠近。

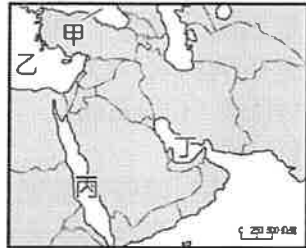
16. (C) 國雄分享他暑假到西亞的旅遊經歷：「那兒的氣候又乾又熱，有許多的葡萄園和柑橘園，最特別的是搭火車經過鐵橋，或坐汽車

經過海底隧道後，就到達歐洲了。」請問：國
 雄所描述的最可能是下列哪一國家？(A)伊朗
 (B)卡達 (C)土耳其 (D)沙烏地阿拉伯。

17.(B) 西亞與北非位居歐、亞、非三洲接觸
 帶，自古位置重要。下列有關該地區的自然環
 境敘述，何者最為正確？(A)深居內陸、無海
 岸線 (B)氣候乾燥、沙漠廣布 (C)高溫多雨
 、地形崎嶇 (D)伸入海洋、降水豐富。

18.(B) 熱帶雨林氣候區因終年高溫，空氣增
 溫快速，形成多雨的低壓帶，該地的降水類型
 應為下列何者？(A)颱風雨 (B)對流雨 (C)
 鋒面雨 (D)地形雨。

19.(D) 20 世紀末伊
 拉克為占領科威特油田
 ，引發某戰爭，導致全
 球油價飆漲。其中科威
 特因有美國與他國聯軍
 支援，在戰爭初期即獲
 得勝利，請問上述之戰爭發生在以下哪片海域
 ？(A)甲 (B)乙 (C)丙 (D)丁。



20.(D) 臺灣許多商店在結帳區通常會放捐獻
 桶，希望顧客將零錢捐獻給需要的單位，此善
 行與伊斯蘭教的「五功」中，與何者有相似之
 處？(A)念 (B)朝 (C)齋 (D)課。

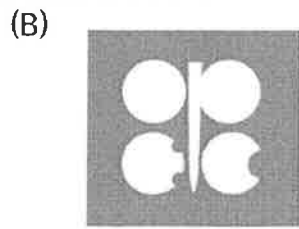
21.(C) 利用坎井發展綠洲農業活動可說是伊
 朗居民生活的智慧，打從 2500 年前就已有坎井
 ，一直沿用至今，坎井主要是利用哪些水源以
 提供農業活動使用？(A)湖水 (B)河水 (C)雪水
 (D)海水。

22.(D) 2022 年，石油輸出國家組織宣布從 11
 月起每日減產原油近 200 萬桶，以提振國際原
 油價格，歐美國家憂心此舉將增加俄羅斯外銷
 石油收入，使俄烏戰況惡化。下列關於該組織
 的敘述何者正確？(A)該組織的英文簡稱為
 APEC (B)成立目的是為了抗衡俄羅斯的石油
 公司 (C)現今全球原油蘊藏量約 50%在會員國
 (D)會員國為伊朗、伊拉克及委內瑞拉等國家。

23.(B) 承上題，該組織的旗幟應為下列何面？
 (A) (B)



(C)



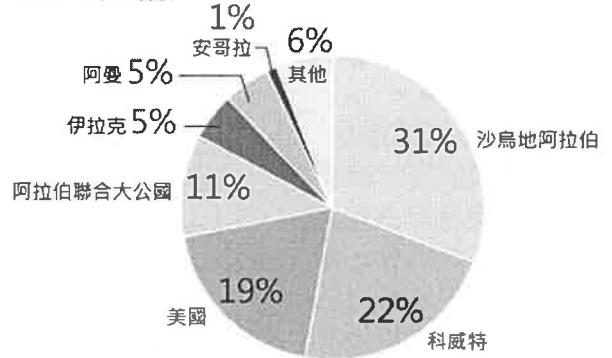
(D)



24.(A) 敘利亞國內的遜尼派武裝組織發起反
 政府運動，希望推翻什葉派的阿薩德組織，敘
 利亞內戰成為中東激烈的大理人戰爭之一。

XX 國和伊朗出於不同考量都支援阿薩德。與
 反政府軍站在同一陣線的有 OO 國、沙烏地阿
 拉伯、土耳其及敘利亞庫德族。請問文內的 X
 X 國與 OO 國依序最有可能是下列何者？(A)俄
 羅斯、美國 (B)英國、俄羅斯 (C)英國、美國
 (D)美國、俄羅斯。

25.(C) 附圖為 2021 年臺灣原油進口來源國比
 例圖。請問：在臺灣原油主要進口國中會見到
 下述哪項景觀？



(A)氣候炎熱多雨，雨林廣布 (B)受盛行西風
 影響，終年有雨 (C)氣候乾燥，居民傳統衣著
 寬鬆 (D)尼羅河三角洲為人口聚集之處。

26.(A) 承上題，臺灣非常倚賴國際貿易，國際
 貿易佔國內生產毛額年年超過九成，出口商品
 以工業製品為主，國內對燃煤與化石燃料需求
 大。請問臺灣對西亞產油國的貿易狀態何者正
 確？(A)入超 (B)出超 (C)順差大 (D)逆差小。

27.(C) 住在印尼雅加達的蘇雷塔為虔誠的伊斯
 蘭教信徒，他 7 月時前往聖地麥加朝拜，他發
 現麥加當地與他所居住的雅加達在氣候上有何
 共同特徵？(A)全年乾燥少雨(B)副熱帶高氣壓
 壟罩(C)均屬熱帶氣候(D)降水類型為地形雨。

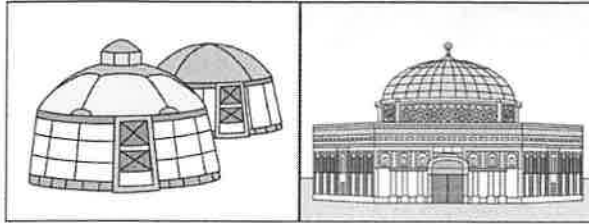
28.(A) 摩洛哥在 2020 年
 通過了相關法律，將西撒哈
 拉的海域納入其海上的領土
 ，讓這個衝突以久的區域再
 增添變數。若聯合國欲派遣
 專員前往當地進行了解，則
 其目的地應該為下列何者？




(A)甲 (B)乙 (C)丙 (D)丁。

29.(C) 伊斯蘭教為目前世界上的三大宗教之
 一，其宗教信仰的教義多和發源地的氣候環境
 相關，如不食豬肉、寬衣長袍等。下列為該宗
 教主要的信仰區中，哪一個地區的氣候現象和
 其他三者的自然環境差異最大？(A)阿拉伯半島
 (B)北非撒哈拉 (C)南洋群島 (D)伊朗高原。

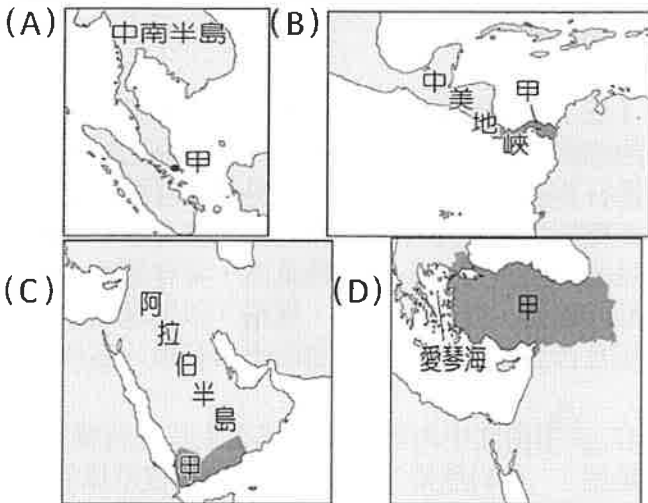
30. (C) 下列圖片皆位於西亞和北非。請問何者多建於鄰近尼羅河地區，為古代七大奇觀？
(A) (B)



(C) (D)



31. (C) 甲國的石油產量並不高，卻因重要的交通位置而足以影響國際油價，其所臨的海峽一旦被封鎖，將導致波斯灣油輪經紅海至蘇伊士運河的運輸受阻，而北非的石油通往亞洲市場則必須繞行經過南非，增加運輸時間與成本。下列何者是甲國正確位置的標示？



32. (A) aimer 前往杜拜進行工作考察時，參觀了附圖中巨大的探勘機械和管線，這些設施與當地的經濟命脈息息相關。請問 aimer 進行考察的可能是下列何種產業？



- (A) 石油業
- (B) 鋼鐵業
- (C) 電子業
- (D) 抽砂業。

33. (B) 巴勒斯坦被稱為西亞的火藥庫，其原因之一為 1948 年以色列建國之後，形成了哪兩個教派之間的衝突？(A) 猶太教、基督教 (B) 猶太教、伊斯蘭教 (C) 猶太教、天主教 (D) 基督教、伊斯蘭教。

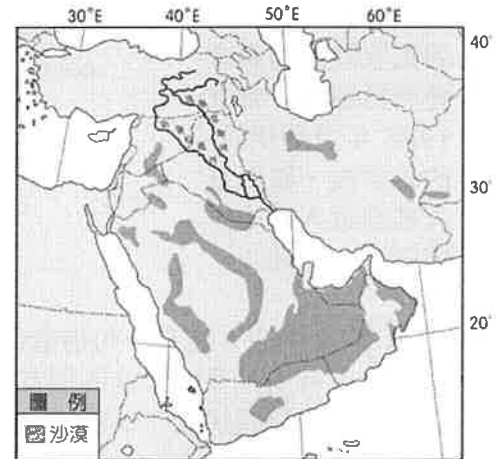
34. (B) 西亞因為油井探鑽技術進步，便運用在鑿井取水灌溉以發展農業。請問：這種利用方式分布於附圖中何處？(A) 甲 (B) 乙 (C) 丙 (D) 丁。



35. (D) 全球穆斯林人口成長快速，市場商機相當龐大，資訊科技產業針對該族群的需求，設計相關產品，例如智慧型手機的應用程式可在任何地點指引禮拜方向、提醒禮拜時間、判別經過認證的食物等。下列何者也是針對上述族群所設計？(A) 線上拉丁文翻譯字典 (B) 手機查詢無牛肉料理的餐廳 (C) 《聖經》閱讀筆及口袋電子書 (D) 利用虛擬實境技術做麥加的虛擬朝聖。

36. (B) 附圖中深色部分為沙漠的分布圖。請問：若依其分布位置加以判斷，造成當地氣候乾旱的最主要原因為下列何者？

- (A) 背西風坡
- (B) 高壓籠罩
- (C) 洋流經過
- (D) 地勢低窪



37. (D) 某國女性於 2018 年終於可以考取駕照並單獨開車上路，是該國法律一大突破。但時至今日女性權益依然大不如男性，例如經商、開戶等皆須男性監護人同意。請問文中所述之該國為何？(A) 土耳其 (B) 以色列 (C) 馬來西亞 (D) 沙烏地阿拉伯

38. (C) 溫帶地中海型氣候盛行於緯度 30~40 度，特徵夏乾冬雨，冬季潮溼多雨是由於風帶移動帶來水氣所致，則該風帶盛行風方向為下列何者？

- (A) ↓ (B) ↓
- (C) → (D) ←。



39. (D) 住在南韓首爾的炎真，想要利用穆斯林應用軟體的指北針指出麥加的方向來朝拜。請問：應用軟體上最可能顯示什麼方位？
 (A) 東南方
 (B) 西北方
 (C) 東北方
 (D) 西南方。



二、題組 (每題 2 分，共 22 分)

(一) 附圖為西亞國家的簡圖，深色區域為人口約 2500 萬至 3000 萬人之 A 族的分布區，而該民族陸續有獨立運動持續著，卻在 1988 年遭到伊拉克的攻擊後，數萬族人被迫進入圖中甲國避難，請問：



40. (D) 文中的 A 族有一句俗諺曰：「我們沒有朋友，只有山是我們永遠的朋友。」請問 A 族群應為下列哪個民族？(A) 波斯人 (B) 柏柏人 (C) 貝都因人 (D) 庫德人
 41. (A) 附圖中的甲國應該為下列何者？(A) 土耳其 (B) 以色列 (C) 南蘇丹 (D) 科威特。
 42. (A) A 族在當地生存了許多年，多依水草而居，依此判斷，該民族的主要畜牧方式應當為何？(A) 游牧 (B) 欄牧 (C) 酪農業 (D) 放牧

(二) 我國外交部及觀光局為擴展臺灣的外籍旅客，推出各種措施及方案，希望建立友善的旅遊環境。同時，從東南亞進入台灣工作的移工和來台留學生逐漸增加，穆斯林市場前景看好，促使台灣開始積極發展清真認證食品，如圖(一)。



圖(一)

圖(二)

43. (B) 觀光局欲在該宗教信仰區進行廣告宣傳，圖(二)哪一國家最為適合？(A) 甲 (B) 乙 (C) 丙 (D) 丁。
 44. (D) 我國政府在推行食品清真認證時，除了規定商家屠宰的過程外，還須避免摻入下列何種肉類？(A) 魚肉 (B) 牛肉 (C) 羊肉 (D) 豬肉。
 45. (B) 方箏是來臺灣墾丁旅遊的穆斯林，他所朝拜的方向最接近下列何者？(A) 東方 (B) 西方 (C) 南方 (D) 北方。
 46. (A) 家競在地理課聽到老師介紹清真認證標章後，到量販店想找看看哪些商品有此認證，請問他在哪類商品中最難找到？(A) 麻辣鴨血湯底 (B) 素食即期泡麵 (C) 金桔檸檬喉糖 (D) 十種穀物什錦罐頭。
 (三) 椰棗生長於炎熱而乾燥的氣候中，紅熟的椰棗可供食用，保鮮不易，大部分是以乾果進行買賣，只有在產地才吃得到新鮮的椰棗。椰棗樹主要分布在西亞和北非，具有耐旱、耐熱的特點。椰棗果肉含糖量高，可作糧食、製糖或釀酒，籽可以榨油，堪稱「沙漠麵包」，更是西亞和北非國家重要的出口特產。請問：

47. (A) 由文中內容推論，椰棗生長在何種氣候類型？(A) 熱帶沙漠氣候 (B) 溫帶草原氣候 (C) 溫帶沙漠氣候 (D) 溫帶海洋性氣候。
 48. (B) 由文中椰棗的生長環境及分布地區判斷，椰棗屬於何種農業類型？(A) 混合農業 (B) 綠洲農業 (C) 熱帶栽培業 (D) 地中海型農業。
 49. (C) 椰棗的營養高，在國際市場為高價值的經濟作物。在臺灣購買到的椰棗最可能來自哪個國家？(A) 日本 (B) 法國 (C) 伊朗 (D) 印尼。
 50. (B) 種植椰棗的農民在午間休息時，互相分享彼此的午餐內容，請問他們的午餐最不可能出現下列何者？(A) 皮塔餅 (B) 排骨粥 (C) 沙威瑪 (D) 烤羊肉串

試題結束，
請把握時間檢查作答！

