

高雄市正義中學國中部 111 學年度第二學期第二次月考歷史科試題 (國二)

電腦畫卡：國 201 填 2 年級 1 班，國 202 填 2 年級 2 班，國 203 填 2 年級

3 班，「科目」請畫【04】

____年____班____號 姓名_____

一、 單選題：(共 50 題，一題 2 分)

1. () 安安在筆記本上寫到：「當時的學生用切斷的蘆葦桿，在柔軟的泥板上刻字，並用六十進位法進行計算，等泥板曬乾後，作業就完成了。」她應是描述上古時代哪一地區學生的上課情形？ (A)尼羅河流域(B)兩河流域(C)印度河流域(D)黃河流域。

答案：(B)

2. () 古西亞地區有一擅長於航海經商的民族，經常往返於地中海地區，因此將簡化的字母文字向外傳播，成為今日西方語文所用字母的共同源頭。請問：這應是下列哪一個民族？ (A)埃及人(B)蘇美人(C)腓尼基人(D)巴比倫人。

答案：(C)

3. () 安安閱讀歷史故事時，看到以下的敘述：「除了某些專業性質的委員會外，政府的行政官員都是抽籤決定的，所有官員的任期都以一年為限，而司法審判採用多數決原則……，這樣的做法是為了使每一個公民都能參與公共事務。」請問：以上的敘述，應是描寫古代哪一個文明的特色？ (A)希臘(B)埃及(C)波斯(D)羅馬。

答案：(A)

4. () 西元前 2500 年左右，有一位商人旅行到埃及尼羅河下游的孟斐斯，他在這個城市中最可能看到下列何種景象？ (A)人們不時接獲官員徵召去興建大型國王陵墓(B)許多男性公民趕赴廣場參與公共事務的討論(C)人們將交易往來紀錄用模形文字刻在泥版上(D)有人熱忱傳播聖經，宣揚信上帝可得永生。

答案：(A)

解析：此時為埃及古王國時期(約西元前 27 ~ 前 22 世紀)。

5. () 安姆是位武士，平日信奉婆羅門教，相信輪迴、聽從祭司的指示，他的身分從出生那一刻便被決定了。依此判斷，安姆所處的社會實行下列哪一種制度？ (A)禪讓制度(B)天皇制度(C)種姓制度(D)宗法制度。

答案：(C)

6. () 大力聽到一首歌，歌詞如下：「古巴比倫王頒布了漢摩拉比法典，刻在黑色的玄武岩，距今已經三千七百多年，……用楔形文字刻下了永遠，那已風化千年的誓言，一切

又重演……」這首歌詞的創作靈感是來自於下列哪一古文明？ (A)西亞(B)埃及(C)印度(D)希臘。

答案：(A)

7. () 盛行於現今世界各地的宗教如下：(甲)基督教(乙)婆羅門教(丙)伊斯蘭教(丁)猶太教(戊)佛教，有何共同的特色？ (A)均起源於亞洲(B)均屬一神信仰(C)均有死而復活的觀念(D)均有輪迴的觀念。

答案：(A)

8. () 附圖為希臘的建築物，從圖中可發現希臘藝術重視何種特色？ (A)壯麗 (B)實用 (C)均衡和諧 (D)嚴酷冷峻



答案：(C)

9. () 基督教於羅馬帝國初期曾屢遭迫害。西元 4 世紀初，哪一位羅馬皇帝頒布敕令，承認基督教為合法宗教？ (A)查士丁尼(B)君士坦丁(C)屋大維(D)查理曼。

答案：(B)

10. () 約翰是□□帝國的人士，他因不肯向皇帝的塑像行禮，結果受到政府的迫害。沒想到數百年後，他信仰的宗教反而成為□□帝國的國教。請問：約翰應是下列哪一帝國人士？ (A)波斯帝國(B)羅馬帝國(C)加爾底亞帝國(D)神聖羅馬帝國。

答案：(B)

11. () 小強利用表解法比較亞歷山大帝國與羅馬帝國，如表，其錯誤的項目是哪些？ (A)(甲)(乙)(B)(丙)(丁)(C)(戊)(己)(D)(庚)(辛)。

帝國	亞歷山大帝國	羅馬帝國
發源地	(甲)巴爾幹半島	(乙)義大利半島
創建者	(丙)亞歷山大	(丁)屋大維
版圖範圍	(戊)亞、歐、非三洲	(己)亞、歐、非三洲
文明成就	(庚)政治、法律等	(辛)文學、藝術、自然科學、人生哲學等

答案：(D)

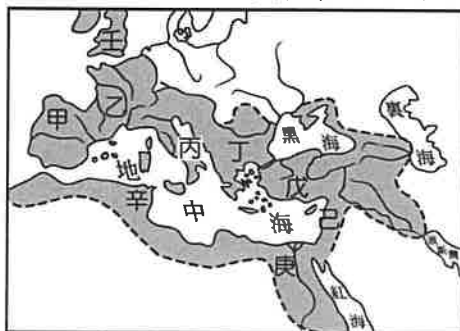
12. () 婷婷預計到歐洲旅遊，便找了許多城市的資料，其中有份資料寫著：「這個城市在兩千多年前，就有相當完善的道路及供水系統，城市衛生整齊，還有雄偉的圓形競技場，現在仍可看到這些著名的遺跡。」請問：這座城市為何？ (A)雅典(B)羅馬(C)巴黎(D)倫敦。

答案：(B)

13. () 就讀臺大法律系的阿德研究西洋歷史發現古代哪兩個民族皆以法律成就聞名於世？ (A)蘇美、希臘(B)巴比倫、羅馬(C)希臘、羅馬(D)蘇美、巴比倫。

答案：(B)

14. () 上課時，老師展示地圖。請問：如圖中甲、乙、……至壬區的範圍，曾是哪一大帝國的領土？ (A)埃及帝國(B)波斯帝國(C)亞歷山大帝國(D)羅馬帝國。



答案：(D)

15. () 「希臘化時代」在科學上的哪一成就，到了西元 16 世紀又被世人重新發現而接受？ (A)地球的週長與直徑(B)地球繞日說(C)冶鐵術與煉金術(D)火藥製作方法。

答案：(B)

16. () 某電視臺正籌畫拍攝以希臘化時代為背景的紀錄片，下列何人可能出現在影片中？ (A)荷馬(B)蘇格拉底(C)希羅多德(D)歐幾里德。

答案：(D)

17. () 希臘城邦長期內戰，最後漁翁得利的是下列何者？ (A)雅典(B)斯巴達(C)羅馬(D)馬其頓。

答案：(D)

解析：最後馬其頓統一希臘地區。

18. () 約翰是亞歷山大東征時期的士兵，若他一路追隨軍隊東征，請問：他不可能經過哪一地區？ (A)兩河流域(B)埃及(C)義大利半島(D)波斯。

答案：(C)

19. () 夢婕利用假日至電影院觀看「特洛伊—木馬屠城記」後，查閱相關資料得知，此影片是希臘史詩「伊里亞德」所改編，敘述特洛伊城人民英勇抗敵的事蹟。請問：此史詩應是何人所寫？ (A)屋大維(B)亞歷山大(C)荷馬(D)歐幾里德。

答案：(C)

20. () 附圖為宗教中有關業力輪迴的觀念，規定各等級應遵守的行為規範，藉以維護社會秩序。請問：這是哪一教派的教義？ (A)猶太教(B)基督教(C)伊斯蘭教(D)婆羅門教。



答案：(D)

21. () 圖(一)及圖(二)乃印度人奉君主之命，在國內各地興建寺廟，弘揚佛法，並豎立石柱以宣揚其治國原則。請問：這應是哪一君主在位時之盛況？ (A)亞歷山大(B)查士丁尼(C)阿育王(D)屋大維。



▲圖(一)

▲圖(二)

答案：(C)

解析：阿育王宣揚佛法的種種作為。

22. () 在志明有關古埃及人的宗教信仰的報告中，下列哪一項資料是正確的？ (A)古埃及社會為多神信仰，其中最主要的神明就是婆羅門神與尼羅河神之子(B)尼羅河神是一切權力的來源，而統治埃及的法老，就是尼羅河神之子(C)埃及人認為人死後靈魂不滅，於是製作「木乃伊」，期待來世復活(D)他們也認為宇宙與人類都是最高的神—婆羅門所創，行善者來世可能與婆羅門合而為一。

答案：(C)

23. () 時間在分秒間流逝，一小時六十分，一分鐘六十秒。請問：我們現在鐘錶所採用的六十進位法，是哪一民族首先發明的？ (A)蘇美人(B)波斯人(C)埃及人(D)加爾底亞人。

答案：(A)

24. () 以看出，當時的雕像具有何種風格？ (A)強調人體的力與美，將人類形象理想化 (B)著重雕像的裝飾，具華麗的風格 (C)以《聖經》故事為題材，呈現莊嚴的氣氛 (D)以靈魂復活為想像，呈現古埃及人的宗教觀。



《答案》A

25. () 希羅多德在其《歷史》一書中曾說：「埃及是尼羅河的贈禮」，反映出尼羅河對於古代埃及文明的重要影響。請問：尼羅河對埃及的影響，不包括下列哪一方面？ (A)天文曆算 (B)楔形文字的發明 (C)農業生產 (D)死而復活的觀念。

《答案》B

26. () F4的歷史老師出了一個作業，希望大家選擇一個古希臘的歷史人物上臺報告，下列哪一位同學的報告內容不符合史實？ (A)道明寺：「荷馬的史詩反映古代的傳說，裡面的故事真是太有想像力了！」 (B)花澤類：「希羅多德的歷史寫的果然精采，不愧是西方史學之父。」 (C)西門：「亞里斯多德的《奧德賽》寫的好生動，我看的津津有味。」 (D)美作：「柏拉圖不愧是蘇格拉底的弟子，對人生的哲學思考真有深度。」

《答案》C

詳解：(C)《奧德賽》為荷馬史詩。

27. () 西元前十世紀時，古希臘文明並未出現統一的王國或帝國，主要原因為何？ (A)古希臘文明極為落後，無法進化到統一的帝國形式 (B)希臘多山、平原狹小，只能出現小國寡民的城邦 (C)希臘的河流不定期氾濫，中央集權的政府很難形成 (D)古希臘文明以商業貿易為主，人口流動迅速。

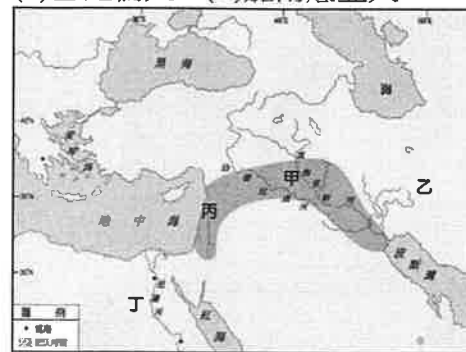
《答案》B

28. () 西元前十世紀時，古希臘文明並未出現統一的王國或帝國，主要原因為何？ (A)古希臘文明極為落後，無法進化到統一的帝國形式 (B)希臘多山、平原狹小，只能出現小國寡民的城邦 (C)希臘的河流不定期氾濫，中央集權的政府很難形成 (D)古希臘文明以商業貿易為主，人口流動迅速。

《答案》B

29. () 下圖為西亞地區的示意圖。請問：「乙」處地勢偏高，易守難攻；活動於該處的民族後來成為鄰近文明的重大威脅。這是指哪一個民族？ (A)波斯人 (B)腓尼基人

(C)巴比倫人 (D)加爾底亞人。



《答案》A

30. () 關於佛教發展的敘述，下列何者不正確？ (A)在阿育王時期曾派人向外弘揚佛法 (B)佛教傳播的地區主要是東亞及東南亞一帶 (C)佛教雖然接受婆羅門教的輪迴觀念，但是極力反對印度原有的民間信仰 (D)佛教後來在印度被視為婆羅門教的支派，影響力逐漸減弱。

《答案》C

31. () 關於西亞與埃及兩大文明的比較，下列何者正確？ (A)西亞的四周有沙漠、高山及海洋環繞，形勢孤立，政治也較安定；埃及的地勢低平，缺乏天然屏障，易被入侵 (B)西亞使用象形文字；埃及使用楔形文字 (C)西亞發明陽曆；埃及發明陰曆 (D)西亞部分民族發展出一神信仰；埃及則是多神信仰。

《答案》D

詳解：(A)兩河流域地勢低平，缺乏天然屏障，易受到來自四周高原或沙漠民族的入侵；埃及四周圍繞著沙漠、高山及海洋，形勢孤立。(B)西亞：楔形文字；埃及：象形文字。(C)西亞：陰曆；埃及：陽曆。

32. () 大雄在看《古文明遺蹟》一書時，發現古代波斯皇宮的牆壁上刻有各國遣使來貢的浮雕，以誇耀當時波斯帝國的權勢。請問：波斯人在征服哪兩個地區後，擴張成為橫跨歐、亞、非的大帝國？ (甲)西亞 (乙)埃及 (丙)希臘 (丁)阿拉伯半島 (A)甲乙 (B)甲丁 (C)乙丙 (D)丙丁。

《答案》A

33. () 所謂的「希臘化文化」是在希臘的文化基礎上，再融入哪兩個地區的文化特色？ (甲)印度 (乙)西亞 (丙)羅馬 (丁)埃及 (A)甲乙 (B)甲丁 (C)乙丙 (D)乙丁。

《答案》D

34. () 關於佛教與婆羅門教教義的比較，下面哪一項敘述是正確的？ (A)兩者皆主張眾生平等 (B)兩者皆強調因果輪迴 (C)兩者皆受到印度教的影响 (D)兩者皆支持種姓制度。

《答案》B

35. () 「我們相信宇宙間有善惡兩股勢力，但最後善的勢力始終會擊敗惡的勢力。」以上敘述是下列哪一教派的主張？ (A)佛教 (B)祆教 (C)猶太教 (D)婆羅門教。

《答案》B

36. () 下列有關亞歷山大東征與蒙古西征的比較，何者「正確」？ (A)前者將《幾何原

本》傳入亞洲，後者將火藥、印刷術傳入歐洲 (B)前者疆域橫跨歐、亞、非三洲，後者橫跨歐、亞兩洲 (C)前者融合了希臘、羅馬、西亞與埃及文化；後者是融合蒙、漢兩大文化 (D)都因農業民族攻擊游牧民族而起。

《答案》B

詳解：(A)《幾何原本》是在明朝由利瑪竇傳入；(C)前者是融合希臘、埃及與西亞的文化。

37. () 有關阿利安人統治下的古印度社會，下列敘述何者正確？ (A)各階級之間有應遵守的行為規範，身分代代相傳 (B)種姓制度下，地位最高的是國王 (C)阿利安人為維護身分地位，用封建制度統治國家 (D)社會分為四大階級，個人可憑奮鬥取得社會地位。

《答案》A

38. () 下列各民族在兩河流域建立政權的先後順序為何？ (甲)亞述 (乙)蘇美 (丙)加爾底亞 (丁)巴比倫 (A)甲乙丙丁 (B)甲丙乙丁 (C)乙丙丁甲 (D)乙丁甲丙。

《答案》D

39. () 關於古希臘文化的特色，下列敘述何者錯誤？ (A)哲學上以理性探討倫理道德與人生意義 (B)史學上擺脫了神主宰人世的觀念，著眼於人的豐功偉績 (C)藝術上將人類形象加以理想化，以讚美人的肉體與精神 (D)政治上喜歡大一統的專制政權。

《答案》D

詳解：(D)此期城邦林立。

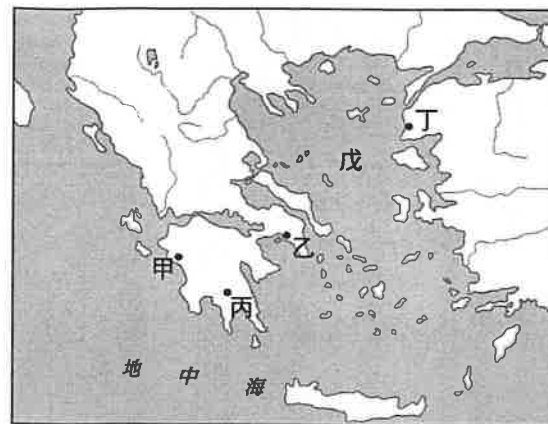
40. () 某一本歷史教科書中有一段這樣的內容：「西亞地區商業交易頻繁，為了維持日益複雜的社會關係和經濟活動，此地區人民特別重視契約和法律觀念。」根據這種說法，下列哪一項敘述是正確的？ (A)法律的出現與商業活動有關 (B)古代西亞人為天生守法的民族 (C)古代西亞地區因為人人守法，故商業發達 (D)法律用來規範複雜的社會關係，但與商業經濟無關。

《答案》A

詳解：西亞地區自古商業交易頻繁，為了維持複雜的社會關係和經濟活動，人民特別重視契約和法律關係。

題組

特洛伊王子巴力斯擄走斯巴達公主海倫，希臘諸城邦同仇敵愾，組成聯軍討伐特洛伊。當戰事呈膠著狀態時，希臘將領奧狄色斯命人建造一隻中空の木馬，讓一群軍人躲藏在木馬裡面，並派人散布假消息，說木馬是酬謝雅典娜而做，為希臘軍隊承認戰敗而留下的物品。特洛伊人不明究裡，將木馬拖進雅典娜神廟內。午夜時分，希臘士兵走出木馬、打開城門，在裡應外合下，希臘軍隊大舉進攻並放火燒城，特洛伊大敗。以上為著名的希臘史事「木馬屠城記」。請回答下列問題：



41. () 以往學者認為特洛伊戰爭只是神話，直至十九世紀德國考古學家施里曼挖掘出特洛伊城，才確認這段史事的真實性。施里曼應在圖中何處發現特洛伊城考古遺跡？

(A)甲城 (B)乙城 (C)丁城 (D)戊城。

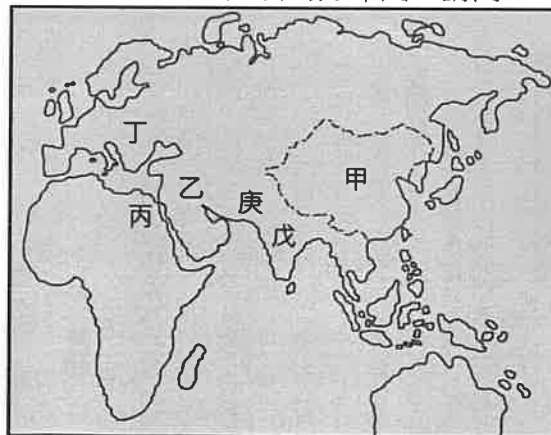
42. () 希臘聯軍攻打特洛伊所渡過的「戊」海，也是希臘文明的起源地區，這是下列哪一海洋？海 (A)北海 (B)紅海 (C)愛琴海 (D)波羅的海。

43. () 擄走海倫的巴力斯是希臘城邦斯巴達的王子，關於此城邦的敘述，下列何者正確？ (A)公民須接受軍事訓練為國家作戰 (B)公民可參與立法和政治活動 (C)貿易發達，採行軍國主義 (D)發展出世界上最早的民主政治。

《答案》(1)C (2)C (3)A

題組

如圖是西方上古文明的分布圖。請問：



44. () 古代文明中，擁有最豐富的神話遺產，並且在劇場上常有悲劇、喜劇上演的地區為何？ (A)乙 (B)丁 (C)戊 (D)庚。

45. () 哪一個地區創造了最早的陽曆系統，並在測量灌溉上有良好成就？ (A)甲 (B)乙 (C)丙 (D)丁。

46. () 四年一次的奧運都在哪一個地區點燃聖火？ (A)乙 (B)丙 (C)丁 (D)戊。

47. () 圖中哪一區為民主政治的發源地？ (A)乙 (B)丁 (C)戊 (D)庚。

《答案》(1)B (2)C (3)C (4)B

題組

今日我們所看到的巴比倫城，已非上古時代的樣貌，因為《聖經》記載惡名昭彰的國王塞納卻利卜圍攻巴比倫並下令屠城，軍隊引附近的河水沖毀都市，整個巴比倫變成一片沼澤與荒野……慘烈的事件仍持續發生，新巴比倫國王尼布甲尼撒二世在西元前六世紀攻陷耶路撒冷，俘虜當地的國王及民眾，是為「巴比倫之囚」。新巴比倫最後也難逃被波斯攻滅的命運，繁華一時的文明終淪為荒漠與野獸的巢穴。西元前四世紀一位英雄展開十年的征戰，將波斯的珀瑟波利王宮焚毀，西亞文明的往昔風華再難追回。請問：

48. () 塞納卻利卜的軍隊沖毀巴比倫城，應是引用哪一條河流的水？ (A)黃河 (B)尼羅河 (C)印度河 (D)幼發拉底河。
49. () 為尼布甲尼撒二世所俘，從此過著「巴比倫之囚」流亡生活的民眾，應是信仰下列哪一宗教？ (A)基督教 (B)猶太教 (C)婆羅門教 (D)伊斯蘭教。
50. () 毀壞波斯珀瑟波利王宮的君主應為下列哪一位？ (A)凱撒 (B)查士丁尼 (C)亞歷山大 (D)君士坦丁。

《答案》(1)D (2)B (3)C