

私立正義國中 111 學年度下學期第二次段考 高二 地理科試題

考試範圍：第三冊第 2、3 章+第 7 章

【科目代號：0】

班級：_____

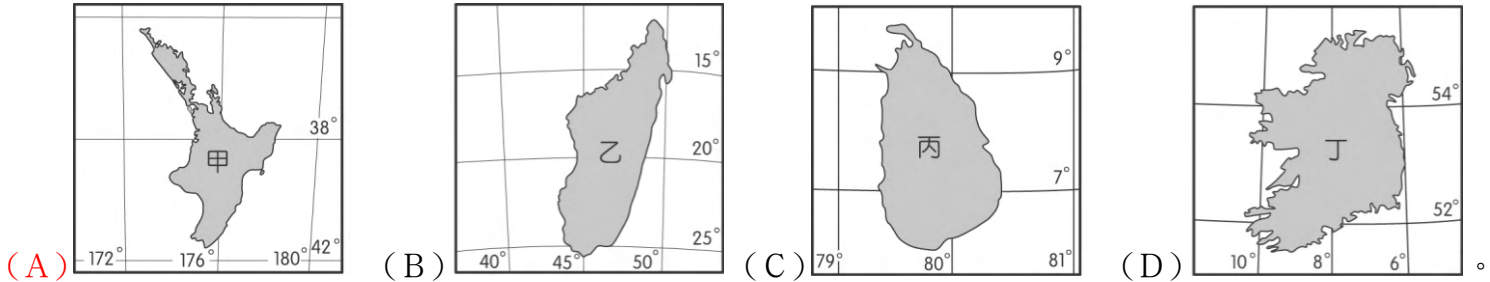
座號：_____

姓名：_____

第一部分：單一選擇題(每題 2 分)

1. 王先生最近移民澳洲雪梨，想買一間面向正北方的兩層樓房。為了在房子後方的空地找出「全年陽光都照不到」的地方，以便規劃植栽的內容，王先生應該選擇在下列哪一個月分某日的中午時刻去參觀？ (A) 3 月 (B) 6 月 (C) 9 月 (D) 12 月。

2. 下面為 4 個島嶼的輪廓圖。哪一個島嶼的綿羊放牧和乳牛飼養均極興盛，使畜牧業成為該島嶼的經濟主體？




3. 據某學者研究，亞太地區最有利於推動國際金融業務的地區，是以東經 120° 為中央經線的東八區時區。下列哪些是位在東八區有利發展國際金融業務的都市？(甲) 東京；(乙) 香港；(丙) 新加坡；(丁) 坎培拉。 (A) 甲丙 (B) 甲丁 (C) 乙丙 (D) 乙丁。

4. 澳洲在國際貿易上的變遷如下所述：(甲) 東亞新興工業化國家的崛起，對澳洲形成合作的新關係(乙) 英國加入歐盟，促使澳洲也加速與歐洲地區合作(丙) 1989 年，澳洲參與亞太經濟合作會議，逐漸拉攏與亞洲及美國的關係(丁) 澳洲與紐西蘭成立區域聯盟對抗歐盟。請問哪些描述是正確的？ (A) 甲乙 (B) 丙丁 (C) 甲丙 (D) 乙丁。

5. 下列何者並非澳洲之特有種生物？ (A) 針鼯 (B) 鴉鵝 (C) 鴨嘴獸 (D) 袋熊。

6. 西亞地區氣候乾燥，居民利用稀少的水源發展傳統灌溉農業，由於地小人稠，土地不得不充分使用。附圖為西亞綠洲農業土地利用示意圖。請問該圖表現出綠洲農業哪一項特徵？ (A) 耕作技術進步 (B) 耕作方式集約 (C) 農業人口眾多 (D) 水源分布不均。



7. 毛利人是紐西蘭的原住民，在其語言中，將此地(紐西蘭)稱為奧特亞羅瓦，原意為「綿綿白雲之鄉」，或稱「長白雲之鄉」。主要是因為盛行風將水氣從海上吹來，常在天際出現連綿不絕的雲朵。請問此盛行風最可能指下列何者？ (A) 東風 (B) 信風 (C) 季風 (D) 西風。

8. 澳洲有「島洲」之稱，離各大洲均超過 10,000 公里，形勢孤立。下列當地的哪一現象與這種孤立位置關係最密切？ (A) 鄰近的海洋對澳洲發展影響甚小 (B) 原住民人口占總數 80% (C) 氣候上乾燥性質顯著 (D) 許多動植物堪稱活化石。

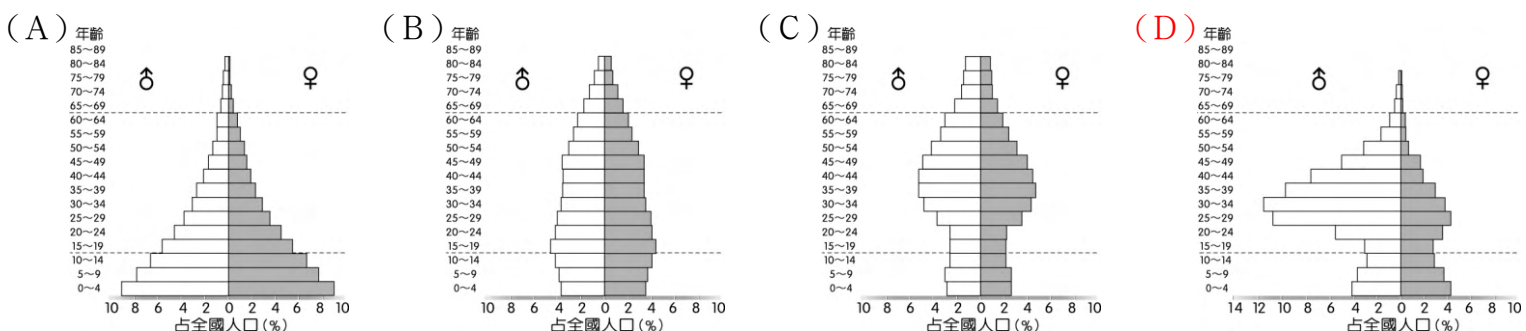
9. 紐西蘭為世界最大的奶粉出口國，與下列哪些環境特色最有關聯？(甲) 人口不多；(乙) 工業發達；(丙) 溫帶海洋性氣候；(丁) 歐洲白人帶來的飲食習慣。 (A) 甲乙 (B) 甲丙 (C) 乙丁 (D) 丙丁。

10. 穆斯林一生中必須實踐的五項基本功課，稱為「五功」。其中一功為提醒信徒珍惜食物，並學習忍耐，與同理窮人的精神，所衍生出來的制度為何？ (A) 念 (B) 禮 (C) 齋 (D) 課。

11. 「這是教徒心中的聖城，黃昏裡猶太教祈禱的聲音未了，馬上就被伊斯蘭教徒的吟誦掩蓋；不一會兒，基督教堂的鐘聲又越過清真寺，飄送到遠方……。」以上所描述的城市為西亞的 (A) 麥地那 (B) 巴格達 (C) 耶路撒冷 (D) 貝魯特。

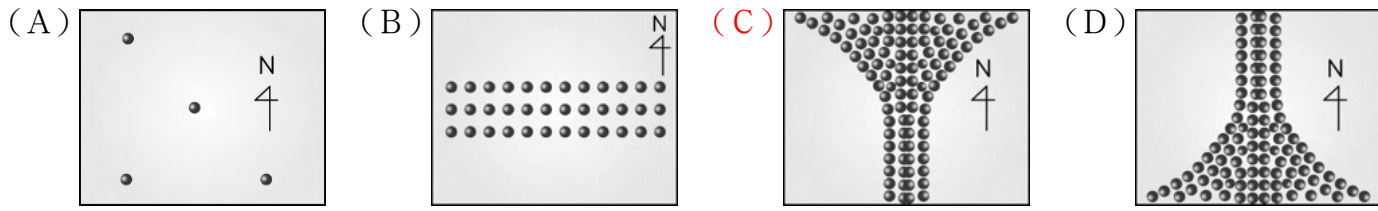
12. 巨大機械臺灣的大甲廠主要生產具有碳纖維和鋁合金的高階自行車款，而中國的昆山廠則以生產中低價位的城市車為主，以上敘述是在描述巨大機械是根據何種概念來進行分工？ (A) 工業區位論 (B) 比較利益原則 (C) 中地理論 (D) 微笑理論。

13. 西亞因石油開採，經濟結構由農牧業轉向工商業，並基於開採石油及國家建設的需要，引進許多外勞，使本區成為人口移入區，請問下列哪個選項最有可能是題目所描述西亞國家的人口金字塔圖？



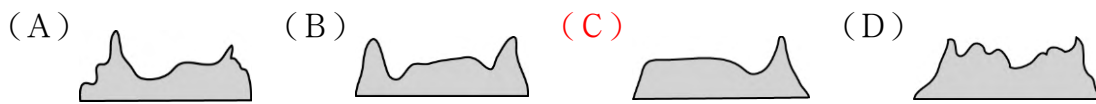
14. 某國被稱作「騎在羊背上的、坐在礦車上的、手持麥穗的國家」，此國的觀光業也相當發達。請問此國所訴求的旅遊特色應為下列何者？ (A)雪國風光 (B)歷史古國 (C)高山體趣 (D)生態之旅。

15. 下列哪一張圖最能顯現埃及尼羅河谷地的人口分布？



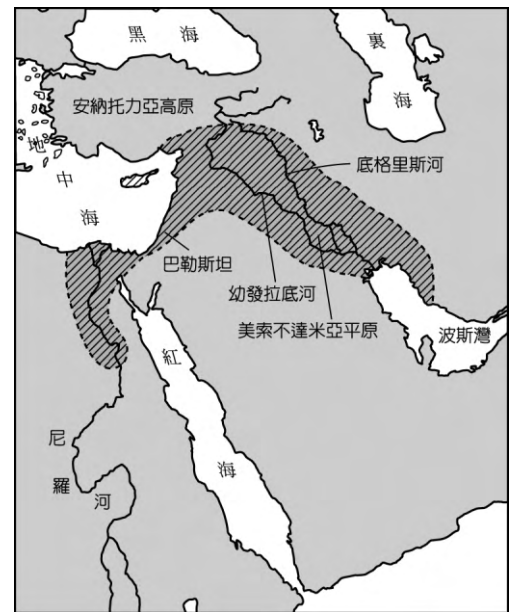
16. 下列哪些住宅特色，是為了適應西亞北非乾燥的氣候而產生？(甲)圓頂式屋頂；(乙)厚牆；(丙)窗戶小；(丁)風塔。 (A)甲乙丙 (B)甲乙丁 (C)甲丙丁 (D)乙丙丁。

17. 澳洲大致分成3個地形區，若沿緯線畫剖面圖，這3個地形的起伏形態為何？



18. 並非每人都能從全球化中受惠，部分群體因立場差異而對全球化產生質疑，甚至掀起反全球化運動。下列哪些事件為反全球化運動？(甲)英國的脫歐；(乙)希臘爆發債務危機；(丙)美國川普總統主張的貿易保護主義；(丁)新冠病毒正誘發全球金融危機。 (A)甲乙 (B)甲丙 (C)乙丁 (D)丙丁。

19. 右圖為廣義「肥沃月彎」的範圍，這裡在1萬1千年前是人類歷史上最早的農業定居地，由圖可知肥沃月彎主要由兩個流域所主導，而發展農業之前必須首重灌溉，但也就由於灌溉工程的建設，讓月彎之中的兩個流域，普遍發生了下列哪一個問題？(A)地層下陷 (B)臭氧層破洞 (C)土壤鹽鹼化 (D)酸雨頻率增加。

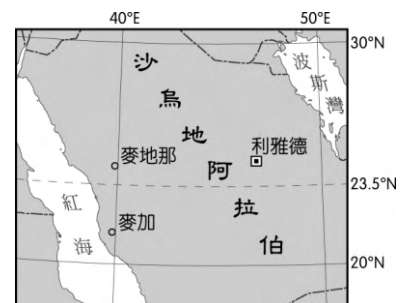


20. 伊斯蘭教為世界性的宗教，在各地有許多信徒，住在突尼西亞的阿麗，每天定時向聖地朝拜時，需面對哪一個方向？ (A)西北方 (B)東北方 (C)西南方 (D)東南方。

21. 澳洲政府曾經採取哪一政策而嚴重傷害原住民族文化社會？ (A)同化政策 (B)種族隔離政策 (C)多元文化政策 (D)城鄉分隔政策。

22. 在臺發展的藝人吳卓源 (Julia)、陳芳語 (Kimberley) 皆為澳洲籍華人，韓國女團 BLACKPINK 成員 Rose 則有紐西蘭國籍，並在澳洲成長。近年來，紐西蘭和澳洲的亞洲移民比例持續增加，關於紐西蘭和澳洲的多元族群發展，何者正確？(甲)近年來鼓勵各國資金和技術移民(乙)近代移入的華人主導當地經濟，故有排華問題(丙)19世紀澳洲因農牧經濟與淘金熱吸引華人移入(丁)亞裔人口比例的增加與英國脫歐有關 (A)甲丙 (B)甲丁 (C)丙丁 (D)乙丁。

23. 臺北翰林飯店 (121°33'E, 25°03'N) 即將開幕，未來將接待來自中東的客戶，因此，設計師在每間房間的天花板繪製方向標，方便他們進行禮拜。下圖為伊斯蘭教聖地位置圖，請問天花板上的方向標，要如何標示呢？(A)→ (B)↓ (C)↗ (D)↘。



24. 下列關於紐西蘭的移民社會之敘述何者正確？(甲)原住民族毛利人為南島語族的一支；(乙)英國將此地作為罪犯流放地並命其協助開墾；(丙)在二次大戰後歐洲移民數量大減；(丁)1991年起紐西蘭實施新移民法，其中以來自中國及印度的移民人數最多。 (A)甲乙 (B)甲丁 (C)乙丙 (D)丙丁。

25. 某人到非洲旅行時寫道：「從機場到市區的公路寬闊又平整，公路兩邊麥田、葡萄園、橄欖園到處可見。進入市區後，歐式建築相當普遍，中心區的主幹道兩邊有好多露天咖啡館，我挑個位子坐下，一邊品著中東式的濃咖啡，一邊看有軌電車從眼前叮叮噹噹地駛過，感覺簡直和歐洲毫無分別。不過，這裡的咖啡館幾乎全是男性工作人員與顧客，看不到女性。」請問，該地區最可能位於哪一自然景觀帶？ (A)熱帶莽原景觀帶 (B)溫帶常綠林景觀帶 (C)溫帶灌木林景觀帶 (D)溫帶落葉林景觀帶。

26. 據報導：「蘋果公司的 iPad 平板電腦於 2010 年 4 月 3 日開賣，網友第一時間就把拆解報告刊上網路。初步結果顯示 iPad 的零件來源符合外界預期，樂金顯示器 (LGD) 供應了液晶顯示面板，記憶體來自三星，博通 (Broadcom) 提供通訊晶片，德儀 (TI) 與恩智浦 (NXP) 供應其他的晶片。」上述可以說明商品的哪一種現象？ (A)全球化 (B)全球在地化 (C)反全球化 (D)資訊化。

第二部分：題組題(每題 2 分)

◆ 「澳洲人幾乎年年都要對抗森林大火，但這次從 2019 年 9 月開始持續延燒的大火，已創下數 10 年來最慘重的災情。這次澳洲森林大火的主因，被認為是從 2019 年 12 月中旬開始的熱浪，以及已長達 3 年的乾旱，隨之而來的極端高溫、乾旱及強風不僅成為助長火勢的元素，使野火燃燒後形成的有害霧霾蔓延並壟罩各重要都市多日，空氣品質飆升到對人體有害的危險等級。」右圖為 2020 年澳州政府公布的起火點分布資訊，請依據上文與圖片回答下列問題：(圖片改成只有起火點的分布、把行政區名稱拿掉)



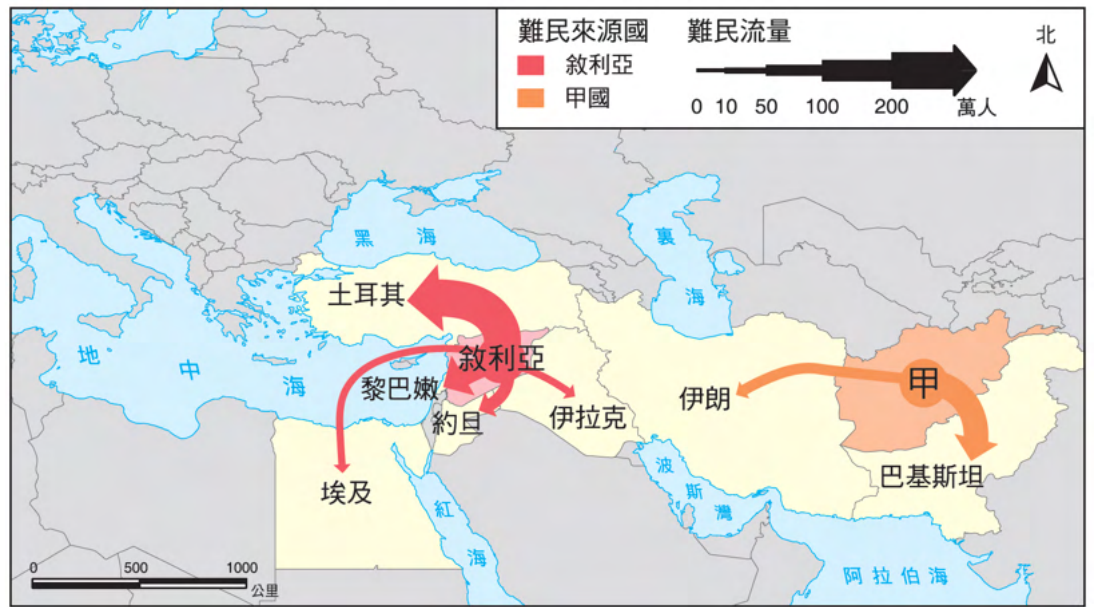
27. 問此圖可能是依據下列哪項地理學傳統進行分析與繪製？(A)空間傳統(B)生態傳統(C)區域傳統(D)地球科學傳統
28. 請問若根據圖片判斷，森林大火對於人類影響最嚴重的區域應該為下列哪一個氣候區？(A)熱帶乾燥氣候(B)熱帶莽原氣候(C)夏雨型暖溫帶氣候(D)溫帶地中海型氣候
29. 請問文中劃線部分，最有可能受到下列哪些行星風系的影響？(甲)赤道低壓帶(乙)副熱帶高壓帶(丙)東北信風帶(丁)東南信風帶(戊)西風帶(A)甲丙(B)甲丁(C)乙丁(D)乙戊。
- ◆ 現在很多工業產品已從傳統單一工廠內的生產線延伸為跨國生產鏈的國際分工。請問：
30. 國際分工的生產模式對生產鏈所連結的各國或地區帶來的影響是：(A)各國製造業的產值是以產品最終在何地組成來統計(B)各國製造業的產值是以產品的本地附加價值來統計(C)製造業者致力增加在生產鏈中所占的產品重量比重(D)製造業者致力增加在生產鏈中所投入的勞動力比重。
31. 跨國生產鏈的組成會隨時間而變化，其連結的國家或地區並非固定不變。生產環節在地理上的變動主要是受下列哪種區位因子變化的影響？(A)區位擴散(B)區位聚集(C)比較利益(D)推拉因素。
- ◆ 2013 年 7 月臺灣與紐西蘭完成簽署《臺紐經濟合作協定》，是臺灣與紐西蘭兩國在 WTO (世界貿易組織) 組織的架構下，以會員身分締結的自由貿易協定。此為臺灣首次與非邦交國和已開發國家簽署的經貿協定。《臺紐經合協定》實施以來，彼此間貿易持續成長。請問：
32. 紐西蘭是個經貿高度自由化的國家，下列有關該國的介紹何者為非？(A)太平洋島國論壇主導國家之一(B)RCEP 簽署國之一(C)種族單一文化同質性高(D)以酪農業產業為發展主軸的國家。
33. 此協定簽署後對臺灣帶來的好處可能有下列哪些？(甲)臺灣廠商至紐國的投資限制減少；(乙)臺灣對紐國出口值提高，該國立即成為臺灣主要出口前 10 名國家；(丙)臺灣消費者更方便買到喜歡的紐西蘭食品，譬如奇異果；(丁)有助於紐西蘭進口牛肉售價的下降(A)甲乙丙(B)甲乙丁(C)甲丙丁(D)乙丙丁。
- ◆ 下圖的照片是某人在紐西蘭和澳洲度假旅行時所拍攝的地理景觀。請問：



34. 請問該照片最有可能是右圖的何處拍攝？(A)1(B)2(C)3(D)4。
35. 請問若是想在旅遊的過程中參觀此地的冰河景觀，請問哪些地區最有可能滿足這個需求？(A)1、5(B)2、3(C)6、7(D)4、8。
- ◆ 所謂全球化與在地化是一體的兩面，「全球化 全球同質、同一內涵」和「在地化 地方異質性、多元性」兩個角度來看，兩者相輔相成、相互為用。請問：
36. 建構「全球化理論」，下列哪 3 個概念是最主要的基礎？(甲)時差阻隔降低(乙)產品生命週期縮短(丙)領域界線模糊(丁)距離障礙減弱(戊)生產區位轉移快速(A)甲丙丁(B)乙丙戊(C)丙丁戊(D)甲丁戊。

37. 下述共有幾項現象符合「在地化」之反應？(甲)為了讓善變的臺灣人一再光顧，Pizza 連口味也臺灣化了，所以雖然是國際連鎖店，但是你在臺灣吃到的口味，美國也不一定有(乙)3D 電影《阿凡達》全球熱賣，票房衝破 20 億美元，《鐵達尼號》盤踞 12 年的「影史最賣座電影」寶座終於易主(丙)《經濟學人》雜誌用「麥香堡指數」，亦即一個大麥克在不同地方貨幣價格的比較，用來非正式地評估這些貨幣的購買力，顯見麥當勞企業發展趨勢(丁)韓國某一手機製造商為了方便穆斯林易於找到參加的方向進行朝拜，而將銷往西亞、北非的手機皆建置有 GPS 全球定位系統(戊)美國 NBA、MLB 等運動明星相關商品，透過授權認證方式行銷全世界 (A) 2 (B) 3 (C) 4 (D) 5 項。

◆ 根據聯合國難民署的調查報告指出，截至 2019 年底，國際難民總數約有 7,950 萬人，圖為西亞北非主要難民來源國及接收國。請問：

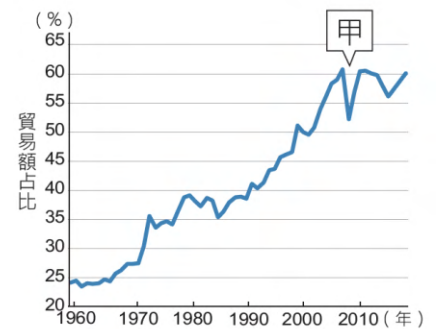


38. 聯合國難民署統計，難民來源國的前二名為敘利亞和甲國，請問甲國為？
(A) 土耳其 (B) 以色列 (C) 阿富汗 (D) 伊朗。

39. 有關該圖的敘述，下列敘述何者正確？
(甲) 土耳其為接納最多敘利亞難民的國家；(乙) 沙烏地阿拉伯因國土廣大成為兩國難民共同尋求庇護之處；(丙) 甲國的主要難民接收國為巴基斯坦；(丁) 接納難民的國家皆能因人口增加而提升其經濟發展程度。 (A) 甲乙 (B) 甲丙 (C) 乙丙 (D) 丙丁。

◆ 右圖是過去 50 年全球貿易占全球 GDP 比例。請問：

40. 下列哪些因素助長了圖中所顯示的結果？(甲) 交通革新；(乙) 跨國企業；(丙) 區域組織；(丁) 關稅壁壘。 (A) 甲乙丙 (B) 甲乙丁 (C) 甲丙丁 (D) 乙丙丁。
41. 圖中甲處曲線下降與何者最相關？ (A) 亞洲金融風暴 (B) 美國次級房貸風暴 (C) 新冠肺炎疫情擴散 (D) 英國通過脫歐公投。



◆ 表為臺灣 2019 年的原油進口來源 (單位：千桶)，請問：

沙烏地阿拉伯	科威特	阿曼	伊拉克	阿拉伯聯合大公國	安哥拉	印尼	其他	合計
89,045	54,247	17,741	13,607	31,145	1,892	675	66,846	275,197

42. 表格中所列臺灣的原油進口國，多為下列哪個國際性組織的成員？

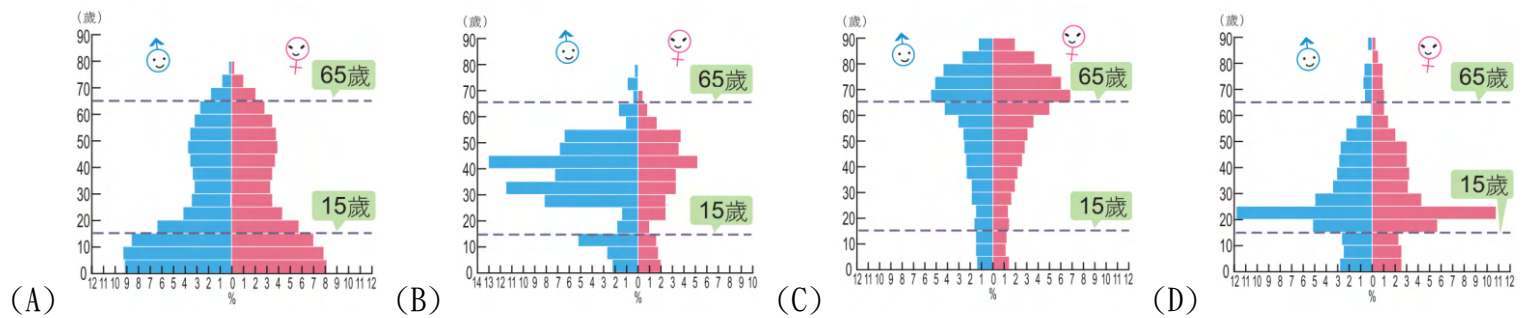


43. 若運油船從波斯灣出發，以最短航行路線駛往高雄，此航行路線將不會經過下列哪一海域？ (A) 阿拉伯海 (B) 麻六甲海峽 (C) 波斯普魯斯海峽 (D) 荷莫茲海峽。

◆ 作為本次世界盃舉辦國—卡達，作為創下多項紀錄的世界盃足球賽舉辦國，同時也存在許多爭議。卡達的國家發展充滿波折，首都杜哈曾是捕撈波斯灣野生珍珠的重鎮，但因過度捕撈導致珍珠數量枯竭，外加人工養殖珍珠產業的排擠，卡達珍珠產業頓失競爭力。所幸於 20 世紀初在外海海灣發現石油和天然氣資源，讓卡達一舉躍升為人均 GDP 世界排名第四的國家。卡達人口約 298 萬(統計截至 2022 年 9 月)，其中真正的本地阿拉伯人僅占不到 20% 其他全是外籍僑民，主要是為了工作而來的移動人口。(改寫自：梗圖地理)

44. 根據上文，請問下列哪一個人口金字塔最符合卡達的人口現況？

B



45. 請問根據上文，卡達未來可能會有怎麼樣的人口問題？(A)卡達本國勞工失業率隨外籍僑民增加而上升 (B)普遍出現缺工問題(C)少子化情況變得更嚴重(D)人口的男女性別比愈趨平衡

第三大題：混合題(共 10 分)

1. 資料一：

阿富汗為位於西亞的內陸國家，古時曾是重要的貿易中心和游牧民族的遷居途徑，在歷史上經常受到鄰近帝國統治，包括古代的波斯帝國、馬其頓帝國，到中世紀時期的阿拉伯帝國、蒙古帝國等，由於經常面臨強國征討，卻沒有人能夠長久的統治，阿富汗又被稱為「帝國的墳場」。由於阿富汗大部分國土屬於山地地形，部族之間的交流本來就很困難，因此傳統上就是依靠地方部族長老進行自治，要建立一個中央集權的有效率政體，把政令深入全國相當困難，若各部族間再出現任何潛在矛盾或危機，這個國家會更快速地陷入分崩離析的困境。

資料二：

2001 年美國為了追捕受到塔利班包庇的賓拉登，發起戰爭並在阿富汗扶植民主政權。然而，受到地緣政治影響，周邊國家或者強權國家為了維繫自身利益，基於地理位置或者整體空間布局考量，給予反政府及對自身有利的政權支持(資金或武力等)，因此有一論點指出鄰國巴基斯坦在背後支持反政府的塔利班，使得其勢力得以持續壯大，造成美國需要耗費更大的軍事支出，間接促成美國在 2021 年決定從阿富汗撤軍，不再插手阿富汗的政治問題。

請問：

- (1) 歷史上阿富汗經常受到鄰近帝國統治和何種因素有關？(A)氣候溫暖濕潤適合農業發展 (B)位於東西貿易路線的節點 (C)地形平坦人口密度高 (D)具有豐富的石油資源。
- (2) 塔利班政權受到巴基斯坦支持的主要理由可能為何？(A)確保水資源供應 (B)藉此掠奪農礦資源 (C)曾被同一個殖民母國統治 (D)支持具相同宗教立場的盟友。
- (3) 寫出資料一認為什麼因素使阿富汗成為「帝國墳場」(20 字內)？並寫出適合用來說明此論點之空間資料的統計地圖種類或名稱。

2. 在北非地區的麥當勞沒有販賣任何與豬肉相關的產品、甚至連牛肉的噉寶都很少見，大多推出素食的漢堡，就算是肉類的漢堡也必須是通過【A 標章】的肉品才能使用，請問麥當勞針對當地的特色推出特色漢堡可以哪一個概念來說明？請問【A 標章】是哪個標章？(2 分；2 分)

=====恭喜你完成這份考卷！再回頭檢查一次吧！=====

1.	(1)	B
	(2)	D
	(3)	【請用 20 字說明】 (1) 地形崎嶇, 交流困難, 國家難統一政令 (2) 等高線圖 / 等值線圖
2.	全球在地化	【A 標章】: 清真認證