

範圍：第三冊單元 4、5、7

命題：叢培麒老師

◆ 劃卡說明：科目代碼：46 年級代碼：2 班級代碼：01、02、03

一、單一選擇題 (40 題，每題 2.5 分，共 100 分)

1. Which of the following term is the answer to the riddle?

- (A) WHO
- (B) APEC
- (C) UN
- (D) WTO

Riddle

Hint 1 : It's a global international organization dealing with the rules of trade between nations.

Hint 2 : The goal is to ensure that trade flows as freely as possible.

2. 下列何者是「世界貿易組織」的英文縮寫？

- (A) WHO (B) WTO (C) APEC (D) CPTPP

3. 十九世紀前期，張三從寧波來艋舺採購樟腦，計畫運回浙江、上海銷售，同時也運來綢緞、布帛等貨品來臺銷售。請問：張三的貿易行為，對上述地區的樟腦市場與布帛市場有何影響？

- (A) 上海樟腦市場的消費者剩餘上升，生產者剩餘下降
- (B) 臺灣布帛市場的消費者剩餘下降，生產者剩餘上升
- (C) 上海樟腦市場的消費者剩餘下降，生產者剩餘下降
- (D) 臺灣布帛市場的消費者剩餘上升，生產者剩餘上升

4. 我國一直以來透過各種管道積極爭取加入 CPTPP，以提升產業競爭力，為政府的近期最大目標。若我國有機會加入此貿易組織，應不會出現下列何種貿易影響？

- (A) 我國的總體經濟剩餘將會增加 (B) 我國只能出口，將不利消費者
- (C) 我國仍可對進口商品課徵關稅 (D) 吸引外資投資，促使產業升級

5. 若以下有四個申請案，向公平交易委員會進行申報，請問何者最可能遭公平交易委員做出禁止決議？

- (A) 年產量占我國 47% 的砂石公司與占 43% 的砂石公司申請結合
- (B) 某紡織業龍頭，因想要發展生物醫療科技，併購國內第 10 大藥廠
- (C) 市占率第 18 名與第 22 名的成衣廠進行結合，且結合後排名可提升至 15 名
- (D) 生產手機鏡頭的第三大廠購買製作鏡頭玻璃的玻璃研磨廠，購買後市占率不變

6. 「新貿易理論」之論述乃由何人提出？
 (A)克魯曼 (B)李嘉圖 (C)馬克思 (D)亞當斯密
7. 台灣與中國於 2013 年 6 月簽訂 ECFA 架構下的「海峽兩岸服務貿易協議」，內容涉及中國對我國開放 80 項服務業，而我國對中國則開放 64 項服務業。若依「比較利益法則」而進行兩岸服務貿易，則未來最可能會發生下列何種情形？
 (A)我國的消費者剩餘及生產者剩餘都會減少
 (B)中國的消費者剩餘及生產者剩餘都會增加
 (C)機會成本較高的服務業，其消費者剩餘會減少
 (D)機會成本較低的服務業，其生產者剩餘會增加
8. 請問下列何者最符合「貿易保護主義」的主張和政策？
 (A)國家為促進經濟發展，採取鼓勵進口、限制出口的貿易政策
 (B)提高進口配額，間接影響價格，以調節進口數量的貿易政策
 (C)提高關稅稅率，保護本國幼稚產業或夕陽產業與勞工的生存
 (D)透過退稅或補貼政策，提高進口品的價格，以保護國內產品

9. 右表為德國及日本兩國尚未進行貿易前的「國內汽車市場供需情形」，當雙方依照「比較利益法則」進行貿易後，若產生新的均衡價格「 P_E 」(單位：歐元)，則下敘述何者正確？

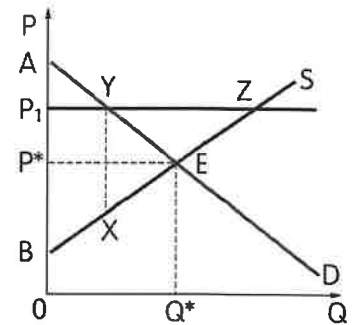
	價格(歐元)	20000	25000	30000	35000
德 國	供給量(輛/月)	1000	1400	1800	2200
	需求量(輛/月)	3200	2500	1800	1100
日 本	供給量(輛/月)	2500	3500	4500	5500
	需求量(輛/月)	4000	3500	3000	2500

- (A) $P_E < 25000$ (B) $P_E > 30000$ (C) $P_E < 20000$ (D) $30000 > P_E > 25000$
10. 承上題，關於兩國貿易後的進出口情形，下列敘述何者正確？
 (A)德國的進口量 < 1100 (B)德國的進口量 > 1500
 (C)日本的出口量 > 1500 (D)日本的出口量 < 1100
11. 印度 2014 年實施「印度製造」(Make in India)政策後，不斷調高外國資通訊產品關稅，以保護印度國內的相關產品，臺灣向世界貿易組織提出諮商請求，但臺印協商破局，臺灣已於 2020 年 3 月提出成立爭端解決小組的請求。行政院官員指出，臺灣有把握會贏，因為印度的作為違反了世界貿易組織的(甲)？請問「甲」應為何者？
 (A)關稅優先原則 (B)不歧視原則 (C)鼓勵發展原則 (D)貿易報復原則

12. 近年來，各國積極與他國協議簽訂「自由貿易協定」形成「自由貿易區」，以促進彼此經濟交流和成長，而南韓和歐盟於 2011 年 7 月 1 日正式生效的自由貿易協定，是歐盟在亞洲談成的第一個自由貿易協定而備受矚目，這項協議將在 5 年內取消雙方幾乎 99% 的關稅。請問有關自由貿易協定或自由貿易區的相關敘述，何者正確？
- (A) 各國經濟體以經濟對話和協調為主，不具約束力
 - (B) 成員國間的關稅完全廢除，且對非成員國有一致的關稅政策
 - (C) 成員國去除彼此間的貨物關稅，但對非成員國可採不一致關稅措施
 - (D) 成員彼此之間允許生產要素（貨物、勞務、資本及人員）的自由移動
13. 關於交易與競爭行為的相關限制，下列敘述何者符合《公平交易法》的規範？
- (A) 各家超商以牛奶漲價乘勢齊漲現煮咖啡，屬於該法禁止之結合行為
 - (B) 分期付款買賣若沒有書面契約，公平交易委員會得裁定交易無效
 - (C) 誇大不實的商品廣告，屬於該法限制的不公平競爭行為
 - (D) 誇大不實的廣告，代言的藝人並沒有責任
14. 在市場交易過程中，會形成一個「消費者願意購買之價格等於生產者願意販售之價格」的情形，請問此一情形乃是何種經濟理論之展現？
- (A) 瓦爾拉斯一般均衡模型
 - (B) 馬爾薩斯最適均衡模型
 - (C) 亞當斯密常態均衡模型
 - (D) 奈許賽局策略均衡理論
15. 下列何者不屬於經濟學上的「帕雷托效率」(Pareto efficiency)的指標？
- (A) 經濟剩餘最大化
 - (B) 生產組合最佳化
 - (C) 生產效率最佳化
 - (D) 國際貿易自由化
16. 原本甲、丙兩國均從乙國進口晶片，但乙國國內發生嚴重洪災後，甲、乙兩國轉而由丙國進口晶片。關於甲、乙、丙三國生產晶片的比較利益，以下何者正確？
- (A) 洪災發生前，乙國最具有比較利益
 - (B) 洪災發生前，乙國最具有絕對利益
 - (C) 洪災發生後，丙國最具有絕對利益
 - (D) 洪災發生後，甲國最具有比較利益
17. 承上題，若其他條件不變，洪災發生後，丙國國內可能發生何種情形？
- (甲) 晶片交易價格上漲
 - (乙) 生產者剩餘增加
 - (丙) 消費者剩餘增加
 - (丁) 經濟福祉增加
- (A) 甲乙丙丁
 - (B) 甲乙丁
 - (C) 丙丁
 - (D) 丙
18. 日本熊本大地震後民生物資價格大漲，政府為防止業者乘機哄抬物價而進行管制，此一管制措施應為何者？
- (A) 價格上限
 - (B) 價格下限
 - (C) 數量上限
 - (D) 數量下限

- 19.承上題，此一管制措施最可能造成何種市場現象？
(A)超額需求 (B)需求減少 (C)超額供給 (D)供給減少
- 20.某國開放紡織品進口之後，將會造成某國國內的紡織品市場產生何種變化？
(A)供給量增加 (B)交易價格下跌 (C)需求量增加 (D)交易數量減少
- 21.外送平臺當道，國內部分外商外送平臺業者透過免運費、打折等低價策略，或是與店家做交易限制，僅能透過單一平臺作外送等限制行為，使得本土外送平臺業者因不敵其影響戰略而退出市場，有關外商外送平臺此種行為，符合下列哪個選項？
(A)獨佔行為 (B)結合行為 (C)聯合行為 (D)不公平競爭行為
- 22.臺灣加入世界貿易組織時，向歐盟承諾小汽車的進口關稅將由 30% 降到 17.5%，在此世界貿易組織的所有會員國出口到臺灣的小汽車，都可以適用 17.5% 的關稅，即「雙邊談判具有多邊減讓」的效果。請問這樣的作法符合世界貿易組織的哪一個原則？
(A)關稅優先原則 (B)鼓勵發展原則 (C)國民待遇原則 (D)最惠國待遇原則
- 23.某國甲、乙兩間自來水公司佔該國 90% 以上的自來水供給，其費率由主管機關訂定。政府如此規範乃基於何種行為之預防？
(A)獨佔行為 (B)聯合行為 (C)結合行為 (D)不公平競爭行為
- 24.假設甲、乙兩個國家都生產鳳梨，甲國鳳梨的均衡價格是 50 元，乙國鳳梨的均衡價格是 30 元。假設其他條件不變，兩國進行鳳梨貿易後會有何發展？
(甲)對甲國生產者有利 (乙)對甲國消費者有利
(丙)對乙國生產者有利 (丁)對乙國消費者有利
(A)甲丙 (B)甲丁 (C)乙丙 (D)乙丁
- 25.報導指出，2018 年年初，強勁寒流使雲嘉南沿海連日陷入低溫，虱目魚養殖魚塭接連傳出災情，大批虱目魚被凍得非死即傷，民眾對凍傷的虱目魚也興趣缺缺。根據上述內容，虱目魚價格將有何變化？
(A)價格下跌 (B)價格上漲 (C)價格不變 (D)價格漲跌難料
- 26.請問下列敘述何者正確？
(A)政府訂定價格下限通常會造成需求量大於供給量
(B)政府所訂定的價格上限通常會低於市場均衡價格
(C)政府管制交易數量有益於消費及生產剩餘的增加
(D)政府管制交易數量主要是為了達到以量制價效果

27.請依據附圖所示，回答下列問題：關於圖中的敘述，下列何者正確？



- (A)當政府設定價格在 P_1 時，其目的是在保障消費者
- (B)當政府完全沒有設定價格時，市場不會有無謂損失
- (C)當政府設定價格在 P_1 時，表示政府採取價格上限的作為
- (D)當政府設定價格在 P_1 時，消費者剩餘會比沒有價格限制時大

28.報載：「行政院針對國內三家業者同時調漲鮮乳價格，分別處以新台幣 800 萬元至 1200 萬元罰款，至於含牛奶成分咖啡價格連帶調漲問題，則會另案調查。」請問，上述三家業者遭罰的理由應為何者？

- (A)獨占行為 (B)寡占行為 (C)結合行為 (D)聯合行為

29.當某項產品的市場達到均衡時，有關消費者剩餘和生產者剩餘的敘述何者正確？

- (A)消費者剩餘是指消費者實際支付價格減去廠商願意售出的價格
- (B)生產者剩餘是指供給價格減去均衡價格的部分
- (C)消費者剩餘是指均衡價格減去需求價格的部分
- (D)社會總效益減去總剩餘等於生產總成本

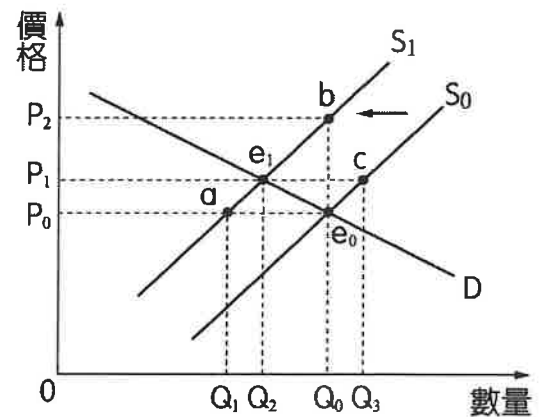
30.在經濟學中，所謂「一隻看不見的手」，指的是什麼？

- (A)生產者干預價格 (B)市場的自然運作
- (C)由機率決定數量 (D)政府對價格操控

31.下列各項貿易政策中，哪些是針對「數量」而非「價格」所採取的策略？

- (甲)關稅 (乙)進口配額 (丙)出口補貼
- (A)乙 (B)乙丙 (C)甲乙丙 (D)以上皆非

32.假設油價上漲前的計程車市場均衡為下圖的 e_0 點，均衡價格為 P_0 ，均衡數量為 Q_0 。當油價上漲時，假設各車行擔心顧客流失，因而要求旗下計程車不能調漲價格，也不得取消優惠。則當其他條件不變時，從此圖來看，計程車市場會有何變動？



- (A)供給量與需求量皆維持為 Q_0
- (B)供給量維持為 Q_0 ，需求量則從 Q_0 減為 Q_2
- (C)供給量從 Q_0 減為 Q_2 ，需求量從 Q_0 增為 Q_3
- (D)供給量從 Q_0 減為 Q_1 ，需求量維持為 Q_0

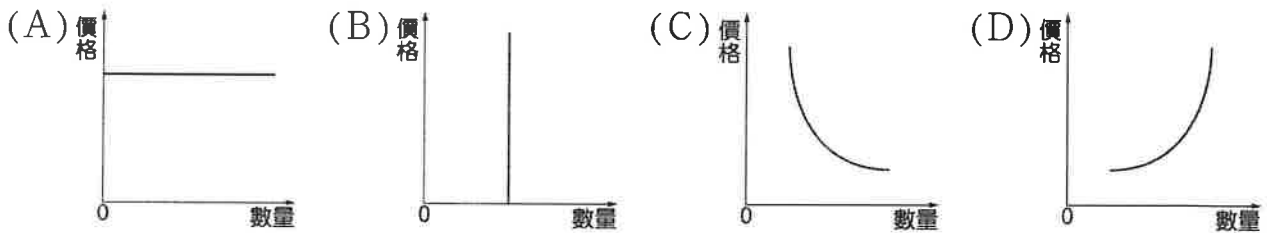
33. 「世界貿易組織」的任務之一就是「降低、消除各國的關稅壁壘」。這與下列哪一個貿易概念相吻合？

- (A) 貿易保護 (B) 貿易障礙 (C) 貿易自由 (D) 貿易國際

34. 假設原本茶葉市場的均衡價格為每公斤 1000 元，若政府訂定「價格下限」時，茶葉市場將有何種發展？

- (A) 茶葉市場形成超額供給 (B) 茶葉需求線向左移動
(C) 茶葉市場形成超額需求 (D) 茶葉供給線向右移動

35. 正義中學舉辦「家長手作甜點工作坊」，創下 15 個名額在 3 分鐘內就報名額滿的「秒殺紀錄」。請問上述活動的供給線應以下列何圖來呈現？



36. 加入世界貿易組織並非有利無弊，下列何者並非貿易自由化可能產生的缺失？

- (A) 環境破壞加劇 (B) 貧富差距擴大 (C) 失業人口增加 (D) 通貨膨脹惡化

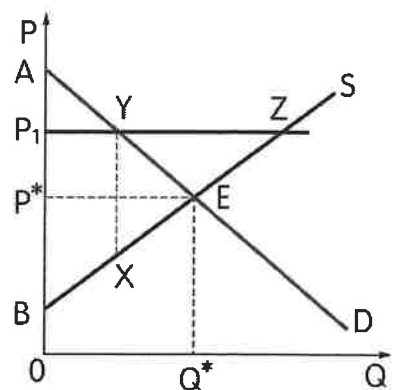
37. 請問下列哪個選項並非加入世界貿易組織的好處？

- (A) 保障國內弱勢產業
(B) 享有優惠的關稅稅率
(C) 可透過貿易爭端解決機構，以調解貿易糾紛
(D) 可避免遭受他國單獨對我國採行不利之措施

38. 附圖為兔兔國某產品國內供需曲線圖，在其他情況不變之

下，兔兔國與汪汪國進行自由貿易後，汪汪國的該產品國內均衡價格為 P_1 。對於兔兔國在國際貿易下受到的影響，下列敘述何者正確？

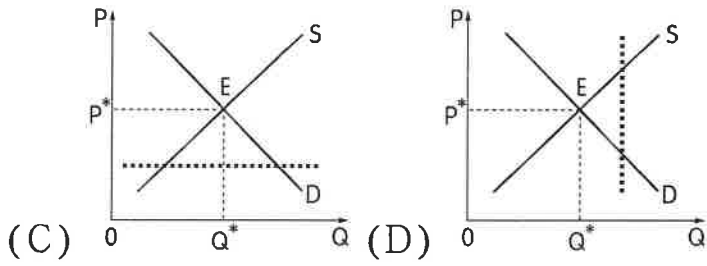
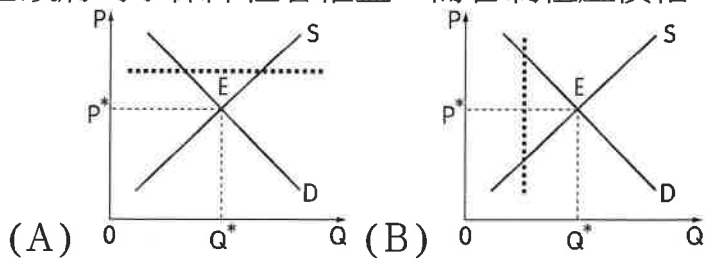
- (A) $P^* < \text{兔兔國貿易後國內價格} < P_1$
(B) 貿易後消費者剩餘增加 $\square P_1 P^* E Y$
(C) 貿易後生產者剩餘增加 $\square P_1 P^* E Y$
(D) 貿易後兔兔國社會福祉增加 $\triangle Y X E$



39. 2018 年美國、加拿大、墨西哥簽訂新版的自由貿易協議：《美國-墨西哥-加拿大協議》，取代原有的北美自由貿易協議。請問各國簽訂自由貿易協定最主要目的為何？

- (A) 減少貿易爭端 (B) 開放貿易市場 (C) 維持區域和平 (D) 維護國家主權

40.若政府為了保障租客權益，而管制租屋價格。請問下列圖示何者最能呈現上述內容？



高二公民	1	D	11	B	21	C	31	A		
	2	B	12	C	22	D	32	D		
	3	A	13	C	23	B	33	C		
	4	B	14	A	24	C	34	A		
	5	A	15	D	25	D	35	B		
	6	A	16	A	26	B	36	D		
	7	D	17	B	27	B	37	A		
	8	C	18	A	28	D	38	A		
	9	D	19	A	29	D	39	B		
	10	A	20	B	30	B	40	C		
	1		11		21		31			
	2		12		22		32			
	3		13		23		33			
	4		14		24		34			
	5		15		25		35			
	6		16		26		36			
	7		17		27		37			
	8		18		28		38			
	9		19		29		39			
	10		20		30		40			