

高雄市正義中學國中部 111 學年度第二學期期末考歷史科試題 (國一)

電腦畫卡：國 101 填 1 年級 1 班，國 102 填 1 年級 2 班，「科目」請畫【04】

\_\_\_\_\_年\_\_\_\_\_班\_\_\_\_\_號 姓名\_\_\_\_\_

一、單選題：(共 50 題，一題 2 分)

1. ( ) 夏商周被稱為「三代」，這三個朝代有其共同的特徵。請問：此特徵為下列何者？ (A)他們都以鐵器為主要的器具 (B)他們的疆域都是以長江流域為主要區域 (C)他們都是被犬戎所滅 (D)他們的政治體制都是以「家天下」為基礎。

《答案》D

詳解：(A)青銅器。(B)黃河流域。(C)只有西周為犬戎所滅。

2. ( ) 小林在漫畫書中看到介紹中國學術的圖畫，如下圖。請問：這應該是在介紹哪一家的思想？ (A)儒家 (B)道家 (C)墨家 (D)法家。



《答案》D

3. ( ) 小明利用假日去參觀了兵馬俑展覽，他發現這些陶偶的穿著打扮與神情和真人十分接近。請問：小明的發現代表哪些意義？ (甲)秦朝的工藝技術相當高明 (乙)秦始皇死後仍希望如生前一般統治天下 (丙)秦朝工匠缺乏創意只會模仿 (丁)秦朝流行用真人陪葬 (A)甲乙 (B)甲丁 (C)乙丙 (D)乙丁。

《答案》A

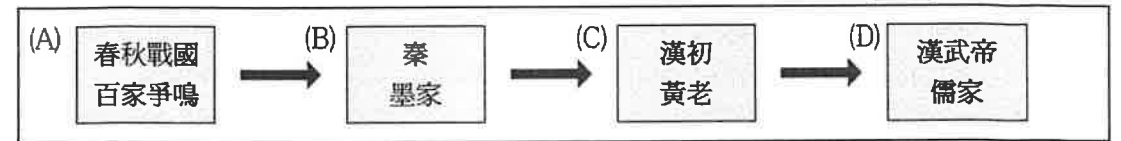
4. ( ) 秦代為中國歷史上最早在全境推行「郡縣制」的朝代。秦始皇統一天下後，曾出現行封建或郡縣的爭論。當時不少大臣反對，只有身為宰相的李斯卻力排眾議實行郡縣制，並得到秦始皇的接納。請問：郡縣制的特色為何？ (A)將人民納入戶籍便於管理 (B)全國劃分為數十郡，郡下設數州 (C)大臣用察舉方式任職 (D)地方官員可以世襲為官。

《答案》A

5. ( ) 劇戲社正在籌劃一部「大漢傳奇」的舞臺劇，主要角色有(甲)漢武帝 (乙)王莽 (丙)曹操 (丁)劉邦 等人，如果角色的出場順序是依歷史的發展，請問：出場順序應該為何？ (A)甲乙丁丙 (B)丁甲乙丙 (C)丁乙甲丙 (D)乙丁甲丙。

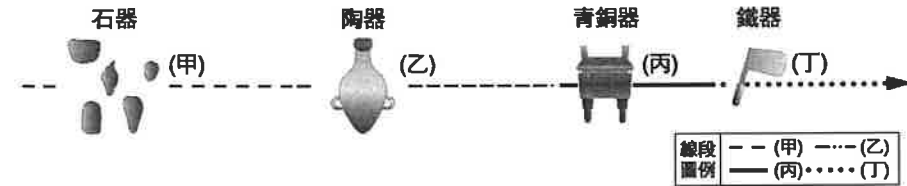
《答案》B

6. ( ) 中國思想學術不斷變遷，其中由東周到漢的轉變，下圖中哪一個標示是錯誤的？



《答案》B

7. ( ) 圖是各種器物在人類生活中出現的過程：對照中國歷史發展，商朝最可能是屬於圖中的哪一時代？ (A)甲 (B)乙 (C)丙 (D)丁



答案：C

解析：商朝留下許多的青銅禮器，顯示其已進入青銅器時代

8. ( ) 電影「神鬼傳奇 3」是描寫探險家瑞克千里迢迢跑到中國尋寶，卻遇到復活的皇帝帶領不死的兵馬俑，企圖重建帝國。請問：為了配合劇情，製作團隊最可能到附圖中何處取景？ (A)甲 (B)乙 (C)丙 (D)丁



答案：B

解析：兵馬俑出土於陝西省，屬秦朝的文物，位於黃河流域

9. ( ) 港劇「尋秦記」是描寫現代人項少龍被時光機器帶回戰國時代，親眼目睹大秦帝國的興起。如果已經成為秦朝子民的項少龍，走在街上不會看到下列哪一種景象？ (A)儒生公開聚在一起談論政治現況 (B)姑娘用統一的貨幣買胭脂、水粉 (C)客棧老闆使用小篆文字記錄收支情形 (D)各戶的壯丁被徵召去修築長城

答案：A

10. ( ) 下列為西周所發生的大事，其正確發生的時間順序排列為何？(甲)周公東征(乙)管蔡之亂(丙)武王伐紂(丁)犬戎之禍 (A)甲乙丙丁 (B)丙乙甲丁 (C)乙丁丙甲 (D)丙甲乙丁

答案：B

11. ( ) 「神農氏，即炎帝，遠古傳說中的太陽神，本為姜水流域姜姓部落首領，後發明

農具以木制耒，並親嘗百草。」請問：神農氏應是哪一個時期的人？ (A)舊石器時代早期 (B)舊石器時代晚期 (C)新石器時代 (D)殷商

答案：C

解析：新石器時代的重要特徵，即是農業的生產

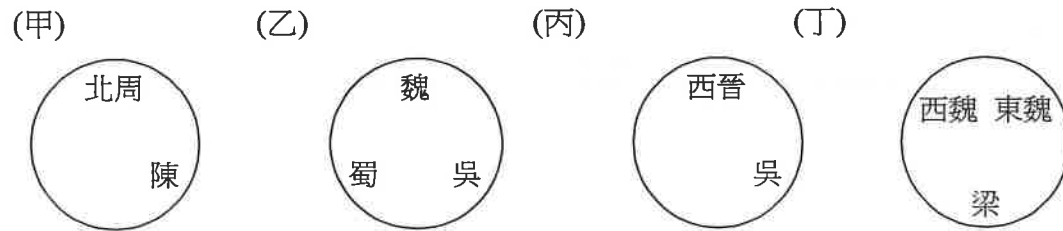
12. ( ) 中國自兩漢以來，游牧民族遷徙到邊境或內地者，日漸增多，這些民族總稱為「胡」，其中匈奴、鮮卑、氐、羯、羌為五胡。請問：中國歷史上五胡十六國時期的開始和結束分別是由哪一族所造成的？ (A)鮮卑、匈奴 (B)匈奴、鮮卑 (C)匈奴、羌 (D)羯、氐。

《答案》B

13. ( ) 「南京」簡稱寧，別稱金陵、石頭城，位於長江下游沿岸，因為地勢險要，隋唐之前有六個朝代在此建都，所以又稱六朝古都，因此使江南得以開發，而六朝當中不包括哪一個朝代。？ (A)南朝梁 (B)孫吳 (C)東漢 (D)東晉。

《答案》C

14. ( ) 下列魏晉南北朝疆域變遷的簡易示意圖，請按照時間發生先後排列，正確的順序為何？ (A)甲丙乙丁 (B)乙甲丙丁 (C)乙丙丁甲 (D)甲乙丙丁



答案：C

15. ( ) 歷史課時，老師要四位同學說明西周封建社會的特色。請問：哪一位同學的說法錯誤？ (A)小雙：「周公制禮作樂，所有貴族都受到禮的約束。」 (B)文啟：「宗法制度有嫡庶之分。」 (C)君君：「平民也可成為卿相。」 (D)俊典：「社會階級畫分嚴明。」

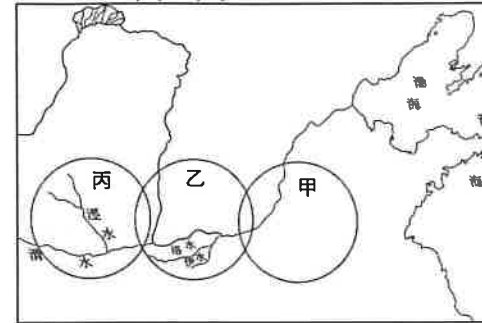
《答案》C

16. ( ) 陸怡利用假日到歷史博物館參觀商代青銅器展覽，她看到一個青銅鼎，其表面與四足都有獸面紋的浮雕。請問：下列關於商代青銅器的敘述，何者有誤？ (A)多為兵器與禮器 (B)是國家權力的象徵 (C)製作簡易，所以數量龐大 (D)青銅器的製作，可反映出當時商王的控制力強大

答案：C

解析：(C)古代青銅器的製作不易，因此成為國家權力的象徵

17. ( ) 請根據附圖夏、商、周三代建都及活動區域來判斷，由東向西排列的地理位置，甲、乙、丙各為何？ (A)商、夏、周 (B)周、商、夏 (C)夏、周、商 (D)夏、商、周



答案：A

18. ( ) 下列關於西周時代的政治發展，何者敘述有誤？ (A)武王滅商，建立西周 (B)周公東征，擴大封建 (C)實行宗法制度，讓每個兒子都有平等的繼承資格 (D)犬戎攻陷鎬京，平王東遷

答案：C

19. ( ) 下列哪些國家縱橫春秋、戰國時代，既是「春秋五霸」亦為「戰國七雄」？ (A)秦燕齊 (B)秦楚趙 (C)韓秦楚 (D)齊楚秦

答案：D

20. ( ) 戰國時期軍國主義盛行，各國均力求改革以求富國強兵，秦國在誰的變法之下，奠定了日後大一統的基礎？ (A)李克 (B)李冰 (C)商鞅 (D)呂不韋

答案：C

21. ( ) 春秋戰國時期，周天子政經力量大減，僅是有名無實的共主，這與下列哪一事件關係最為密切？ (A)管蔡之亂 (B)犬戎之禍 (C)周公東征 (D)齊桓公號召尊王攘夷

答案：B

解析：犬戎之禍迫使周室東遷，大大削弱了周天子的勢力

22. ( ) 王元規在魏晉時期出身太原王氏，他的生活十分落魄，當時有位家財萬貫的土財主想把女兒嫁給他，王元規竟然拒絕親事，只是因為這位富豪不是來自望族大姓。就此事件而言，下列敘述何者錯誤？ (A)世族結婚時講究門當戶對 (B)望族大姓自認社會地位較他人崇高 (C)王元規家族顯赫是因得到察舉功名 (D)當時社會上門第觀念強烈。

《答案》C

23. ( ) 下列何者不是春秋戰國時期的社會現象？ (A)學術思想自由 (B)封建制度盛行 (C)社會流動盛行 (D)工商業發達

答案：B

24. ( ) 電影《墨攻》是講述戰國時代的趙國領大軍攻打燕趙兩國之間的「梁城」，信守墨家的人物革離指揮梁城百姓抵抗的事跡。請問：劇中的革離應有下列何項主張？ (A)主張崇尚自然、清靜無為 (B)贊成賞罰、權術來治理 (C)認為戰爭乃不義之行，堅持反戰 (D)人民可透過教育與禮治，使人向善

答案：C

25. ( ) 戰國時期有一位思想家，認為治國之術如同駕馭馬車，他將國家比喻為車身，若要快速到達目的地，最快的方法當然是以馬來拉，但駕車的人若不懂得如何控制拉車的馬，那馬車還是到不了目的地。所以他主張國家的法律必須如同車子，結構完整，國君則必須善用權威駕馭臣下，才能有效治國。請問：這個思想家應為下列何人？ (A)孟子 (B)荀子 (C)韓非 (D)墨子

答案：C

26. ( ) 魏晉南北朝時出現一句話：「上品無寒門，下品無世族」，其代表何種意義？ (A)皇帝具有官員任免權，世族無權過問 (B)世族沒落，皇帝有計畫打壓世族 (C)世族壟斷仕途，平民無法參與 (D)平民起來暴動，強逼政府打壓世家大族。

《答案》C

27. ( ) 律君：「現今政治動盪，社會治安敗壞，人民終日生活在恐懼的陰影之下。依我看，國家面臨內憂外患，光靠民主體制難以恢復秩序，國家應賦予總統更大的權力，並制定更嚴厲的法律打擊罪犯，必要時應調動軍隊鎮壓！」信君：「你太極端了！這個世界會這麼亂，都是因為人的欲望在作祟，大家都汲汲追求名利，所以才有那麼多的紛擾。我認為眾人應克制自己的心性，過著清靜簡約的生活，向大自然學習安身立命之道。」律君、信君兩人的言論分別體現春秋戰國時代哪一學派的主張？ (A)儒家、墨家 (B)墨家、法家 (C)法家、道家 (D)道家、儒家

答案：C

28. ( ) 圖為一代文豪白居易的故事漫畫版。圖中，白居易先將作品送給顧況的情形，這是因為哪一個制度所做的權宜之計？

(A)薦舉制度 (B)九品官人法 (C)科舉制度 (D)八股取士。



《答案》C

29. ( ) 小華、小英、小明在課後討論關於西晉與東晉的歷史，小華說：「西晉建都於

今日的南京市，東晉則建都於洛陽市。」小英說：「在長江淮河以南建國的是西晉，以北的是東晉。」小明說：「劉裕篡東晉而建立宋，是為南朝的開始。」請問：他們三人誰說的對？ (A)小華 (B)小英 (C)小明 (D)三人都不對。

《答案》C

30. ( ) 「九品官人法」為主導中國四百年左右的選才方式，其產生的背景為何？ (A)各國競爭激烈、國君用人唯才 (B)獨尊儒術造成累世公卿 (C)長期戰亂，造成察舉制度難以落實 (D)科舉取士造成士族沒落。

《答案》C

31. ( ) 思嘉掉入時光隧道，來到了中國東晉時期，她觀察了當時的政府人員任用方式，發現了什麼樣的情況？ (A)政府用察舉制度來拔擢人才 (B)人才的評選注重才能，不重家世 (C)政府需要世族的支持才能維持政權 (D)皇權地位最高，可以拔擢寒門為世族。

《答案》C

32. ( ) 陶侃出身寒微，後來當上了征西大將軍和廣州刺史，每日搬運磚塊以鍛鍊體力，為人忠順勤勞，有人將他媲美諸葛亮。但他的出身卻為世族所歧視。請問：由上文判斷陶侃應為何時之人？ (A)秦朝 (B)西漢 (C)東晉 (D)唐朝。

《答案》C

33. ( ) 三國時期各國的歷史大不同，依其滅亡順序排列，下列何者正確？ (A)曹魏→蜀漢→孫吳 (B)蜀漢→曹魏→孫吳 (C)孫吳→蜀漢→曹魏 (D)曹魏→孫吳→蜀漢。

《答案》B

34. ( ) 就亂事的性質來分，「永嘉之禍」可以歸類為下列何者？ (A)內亂，宗室之亂 (B)外患，外族之亂 (C)內亂，官逼民反 (D)內亂，宦官之亂。

《答案》B

35. ( ) 南風瑾憑著自己的努力再加上詩賦方面的天分終於考上科舉，正是「十年寒窗無人問，一舉成名天下知」，鄰居們都恭賀他「登龍門」。請問：他應該是哪個科舉項目及第？ (A)明經科 (B)進士科 (C)儒學科 (D)佛理科

答案：B

36. ( ) 紹南在學校舉辦的歷史劇展中參與演出，他扮演的角色有句臺詞是：「漢人一向瞧不起我們，今天我攻陷了洛陽，晉朝皇帝還不是要向我稱臣。」請問：紹南扮演的應該是哪一個胡族的領袖？ (A)鮮卑 (B)氐 (C)羌 (D)匈奴

答案：D

37. ( ) 商代人將文字刻在龜甲和獸骨上，主要是為了哪一種用途？ (A)記載農耕時令 (B)商業管理之需 (C)記錄工藝技術 (D)記載占卜結果。

《答案》D

題組

著名的《三國演義》一書中，有一句形容中國歷史發展的名言：「話說天下大勢，合久必分，分久必合。」而魏晉南北朝的歷史發展正好可以印證這句話。請問：

- 38. ( ) 魏晉南北朝中的「魏」，指的是下列哪一個王朝？ (A)北魏 (B)曹魏 (C)東魏 (D)西魏。
- 39. ( ) 魏晉南北朝中的「北朝」，是由哪一個王朝開始？ (A)宋 (B)北周 (C)北魏 (D)曹魏。
- 40. ( ) 魏晉南北朝中的「合」，請問當時中國最早的一統是由哪一王朝所完成？ (A)東晉 (B)北周 (C)北魏 (D)西晉。

《答案》(1)B (2)C (3)D

題組

下圖是春秋時期的列國形勢圖。請回答下列問題：



- 41. ( ) 最早稱霸的是圖中的哪一國？ (A)甲 (B)乙 (C)丙 (D)丁。
- 42. ( ) 以管仲為相，曾提出「尊王攘夷」口號病友漁鹽之利的是圖中哪一國？ (A)甲 (B)乙 (C)丙 (D)丁。
- 43. ( ) 到戰國時期愈趨強盛並且併吞了其他國家的是哪一國？ (A)甲 (B)丙 (C)丁 (D)庚。

《答案》(1)A (2)A (3)C

題組

許樂最近迷上電視劇——「秦始皇大傳」，對秦朝的歷史特別有興趣，在更進一步的鑽研之後，發現了幾個問題：

- 44. ( ) 許樂十分敬佩商鞅，因其變法讓該國日趨富強，所以許樂想進一步了解商鞅的改革內容。請問：許樂應查看哪一時期的資料？ (A)春秋 (B)戰國 (C)東漢

(D)西晉

- 45. ( ) 下列何者屬於商鞅的改革內容？(甲)獎勵耕織(乙)文人政治(丙)厲行法治(丁)提倡軍功 (A)甲乙丙 (B)乙丙丁 (C)甲丙丁 (D)甲乙丁

答案：(1)B；(2)C。

題組

下圖為三國時期形勢圖。請根據此圖，回答下列問題：



- 46. ( ) 立國於江東，對中國南方的開發頗有貢獻的是圖中何國？ (A)甲 (B)乙 (C)丙 (D)丁。
- 47. ( ) 篡漢而稱帝，致使東漢政權結束的國家位於圖中何處？ (A)甲 (B)乙 (C)丙 (D)丁。
- 48. ( ) 三國鼎立時期，最早滅亡的是圖中哪一國家？ (A)甲 (B)乙 (C)丙 (D)丁
- 49. ( ) 西晉滅亡圖中何國後，使中國得到短暫的統一？ (A)甲 (B)乙 (C)丙 (D)丁
- 50. ( ) 司馬氏原為圖中哪一國家的朝臣，後來漸掌握朝政，甚至篡位而建立西晉？ (A)甲 (B)乙 (C)丙 (D)丁。

《答案》(1)B (2)A (3)C (4)B (5)A