

高雄市正義中學國中部 111 學年度第二學期期末考歷史科試題 (國二)

電腦畫卡：國 201 填 2 年級 1 班，國 202 填 2 年級 2 班，國 203 填 2 年級

3 班，「科目」請畫【04】

年 班 號 姓名

一、單選題：(共 50 題，一題 2 分)

1. (B) 十五世紀的歐洲正在進行「地理大發現」的歷史創舉，在葡萄牙所發現的新航路中，葡萄牙在中國的據點為 (A) 里斯本 (B) 澳門 (C) 香港 (D) 廣州
2. (C) 威尼斯這個名不見經傳的海港，因十字軍東征而越顯其地位之重要性，並奠下其商貿地位，卻因為海外探險活動的興盛導致威尼斯地位之衰退。試問其原因為何？ (A) 威尼斯本身經濟力之衰退 (B) 威尼斯無法與新市鎮，如阿姆斯特丹競爭 (C) 隨著海外探險活動的開展，歐洲商貿中心從地中海轉移至大西洋 (D) 威尼斯被鄂圖曼土耳其人侵占

解析：(C) 歐洲國家中葡萄牙、西班牙最早進行地理大發現，開始大西洋商貿時代，取代地中海的地位。

3. (B) 下圖是哪兩國對殖民勢力的畫分圖？ (A) 英、法 (B) 西、葡 (C) 法、荷 (D) 英、荷。



4. (C) 1521 年，一位歷史人物在一場會議中被詢以是否願意撤銷其見解時，他答辯說：「除非由聖經證明我的錯誤，或者由它明示我的推理有誤，而我是聽信上帝語言的。我不能也不願撤銷任何東西，因為違背良心行事既屬錯誤且不安全。」這位歷史人物是誰？ (A) 羅耀拉 (B) 喀爾文 (C) 馬丁路德 (D) 亨利八世

解析：(C) 馬丁路德於 1517 年揭開宗教改革的序幕，引發教會反彈。教宗於 1521 年將其驅逐出教，同年，神聖羅馬帝國皇帝查理五世召開帝國會議，邀請路德出席，並詢以是否願意撤銷其改革見解，但路德表示不願撤銷。

5. (C) 十九世紀時，許多長老教會的傳教士到臺灣傳教，獲得相當驚人的成就，其中又以馬偕、馬雅各、甘為霖、巴克禮的成就最為不凡。試問他們都屬於那一教派的成員？ (A) 耶穌會 (B) 路德派 (C) 喀爾文派 (D) 希臘正教

解析：(C) 蘇格蘭長老會、英國清教徒、法國胡格諾派都屬喀爾文派成員。

6. (C) 中古時期的修道院與教會組織在社會文化上，扮演了什麼樣的角色？ (A) 政治的領導者 (B) 科學的創立者 (C) 知識及文化保存者 (D) 財富創造者

答案：C

7. (C) 三年十一班同學在歷史課時討論文藝復興運動的產生背景，哪一個人的說法符合歷史事實？ (A) 傑森：「這是在十七至十八世紀時所發生的文化運動風潮。」 (B) 惠萱：「伊比利半島原本即保存著許多古羅馬文化遺產。」 (C) 幸諺：「威尼斯、佛羅倫斯等城市掌握東西方貿易而興起，中產階級追求精緻的文化生活。」 (D) 偉民：「不堪日耳曼的侵擾，拜占庭學者西遷避難，帶來許多古希臘典籍。」

答案：C

解析：(A) 十四至十六世紀；(B) 義大利半島；(D) 鄂圖曼土耳其人

8. (D) 下列何人提出的理論影響了後世，如希特勒、墨索里尼等人，主張達目的不擇手段，強權至上主義？ (A) 唐吉訶德 (B) 佩脫拉克 (C) 羅耀拉 (D) 馬基維利

答案：D

9. (D) 「今天我們將回到我們的祖國，雖然船長在航程中喪生了，但是我們仍然是第一個繞地球一圈的船隊」。請問：說出這句話的船員，最有可能是隸屬於哪一位船長的船隊？ (A) 哥倫布 (B) 達伽馬 (C) 狄亞士 (D) 麥哲倫

答案：D

10. (C) 美美寫出東羅馬帝國與西羅馬帝國的比較表(如附表)，其中哪一項是錯誤的？ (A) 甲乙 (B) 乙丙 (C) 甲丙 (D) 甲乙丙

		西羅馬帝國	東羅馬帝國
甲	首都	拜占庭(君士坦丁堡)	羅馬
乙	滅亡時間	西元 476 年	西元 1453 年
丙	被何族所滅	鄂圖曼土耳其人	日耳曼人

答案：C

11. (B) 附圖是十三世紀羅馬人所繪的古地圖，其中 T 字形部分為海洋或河流，其餘部分為三大陸塊。根據當時人們對世界的認知，甲地區最可能是下列哪一個陸塊？ (A) 美洲 (B) 非洲 (C) 澳洲 (D) 南極洲



答案：B

12. (C) 附圖是歐洲中古時期的文物，由當時的教會印行；當時負責推銷的人員在勸募時會說：「你把錢幣往箱內丟，你親人的靈魂就從煉獄裡跳出來了。」請問：圖中的文物應該是下列何者？ (A)《聖經》的一頁 (B)新教傳單 (C)贖罪券 (D)神職人員的證書。



《答案》C

13. (A) 圖為歷史上某一地跨歐亞非三州的大帝國，請根據其帝國版圖，判斷為下列哪一帝國？ (A)阿拉伯帝國 (B)亞歷山大帝國 (C)羅馬帝國 (D)鄂圖曼土耳其帝國。



《答案》A

14. (A) 下列有關君士坦丁堡的敘述，何者正確？ (A)位居東西貿易路線要衝 (B)為西羅馬帝國的首都 (C)控制大西洋到地中海的重要通道 (D)後來被塞爾柱土耳其人攻陷，拜占庭帝國因而滅亡。

《答案》A

詳解：(B)為東羅馬帝國首都。(C)控制黑海到地中海的重要通道。(D)鄂圖曼土耳其人。

15. () 雅雯利用暑假暢遊俄羅斯，某日抵達某個城市看到右側此建築物，這座建築物象徵哪一宗教信仰？ (A)天主教 (B)東正教 (C)伊斯蘭教 (D)猶太教



答案：B

16. () 附表是東羅馬帝國與阿拉伯帝國的比較，其中兩者在統治上有何相同之處？ (A)甲乙 (B)甲丁 (C)乙丁 (D)丙丁

(甲)	同樣建立橫跨歐亞非的帝國
(乙)	皆主張多神信仰
(丙)	皆遭鄂圖曼土耳其所滅
(丁)	實行政教合一

答案：B

17. () 小蓉找到一張世界各宗教的比較圖，請找出(甲)、(乙)、(丙)的正確答案？ (A)玄奘、天方夜譚、濕婆 (B)穆罕默德、古蘭經、阿拉 (C)摩西、天方夜譚、阿拉 (D)阿育王、詩經、梵天

項目 教別	創立者	創立地點	經典	創立先後	性質
佛 教	釋迦摩尼	印度	三藏	1	多神教
基督教	耶穌	巴勒斯坦	新約聖經	2	一神教(耶和華)
伊斯蘭教	(甲)	阿拉伯半島	(乙)	3	一神教(丙)

答案：B

18. () 下列何人是中古到文藝復興之間最偉大的詩人，其名著是以佛羅倫斯的方言寫成，內容是描述作者遊歷地獄、煉獄與天堂的情節，表現了中古時代的基督宗教世界觀？ (A)薄伽丘 (B)佩脫拉克 (C)莎士比亞 (D)但丁

答案：D

19. () 一位文藝復興作家說：「人是能夠隨心所欲地改造自己的。」有學者認為這種論點與宗教改革運動有所關連，其關鍵在於以下何者？ (A)兩種運動都肯定人的價值，均為個人主義思潮的產物(B)兩種運動都追求物質享受，重視現世生活 (C)兩

種運動都藐視教會，主張聖經為唯一權威 (D) 兩種運動都重視理性，主張恢復古典文化

解析：(A)文藝復興；(C)宗教改革；(D)文藝復興，且宗教改革強調的是信仰而非理性，追求的是中古前期聖徒的教誨。

答案：A

20. () 美洲的農作物隨著地理大發現而開始向外傳播。請問：其傳入中國時正值哪一個朝代？ (A)唐朝 (B)宋朝 (C)元朝 (D)明朝。

《答案》D

21. () 附圖為英國東印度公司在印度所發行的貨幣，正面為東印度公司紋章，背面為當時上層社會普遍使用的波斯文。請問：該硬幣背面使用的語言為印度歷史哪一段的痕跡？



(A)蒙兀兒帝國統治 (B)古印度地方割據 (C)英國殖民統治 (D)阿利安入侵印度。

答案：(A)

解析：印度曾被蒙兀兒帝國統治，蒙兀兒帝國上層社會使用波斯文。

22. () 阿飛研究歐洲人餐桌上的飲食，他發現中世紀歐洲食物味道乏善可陳，貴族飲食普遍使用蜂蜜、鼠尾草、香芹、水果調味，平民食物更多是撒鹽燉煮，亞洲香料非常昂貴且數量稀少，和現今歐洲料理大量使用胡椒、肉桂、孜然、肉荳蔻、番紅花、薑黃、薑、白糖等亞洲香料大相逕庭。請問：歐洲食物風味開始轉變最大的原因是下列何者？ (A)新航路促使亞洲貨物大量流入 (B)氣候暖化歐洲植物像改變 (C)阿拉伯商人大量傾銷 (D)教宗允許各階層使用香料。

答案：(A)

解析：大航海時代後，亞洲香料大量進入歐洲，香料也不再只是貴族專屬用品。

23. () 敏敏在整理新教派的資料如附表，她有哪一項寫錯了？

	發起人	主張	所屬派別
路德教派	馬丁路德	閱讀聖經即可和上帝溝通	新教
喀爾文教派	喀爾文	預選說	新教
英國國教派	亨利八世	英王兼任教會領袖	新教
耶穌會	羅耀拉	教士嚴格自律	新教

(A)路德教派 (B)喀爾文教派 (C)英國國教派 (D)耶穌會。

答案：(D)

解析：耶穌會為羅耀拉所創，屬於舊教(天主教)。

24. () 育才與志偉在學校剛聽完老師講述「歷史上的宗教」相關內容，他們整理了幾件其中發生的重要事件。請問：下列哪些事件是基督教曾經歷過的？

甲、被羅馬多神信仰取代；乙、遭到部分猶太人排斥；

丙、成為羅馬帝國的國教；丁、成為中世紀西歐的生活中心

(A)甲乙丙 (B)甲乙丁 (C)甲丙丁 (D)乙丙丁。

答案：(D)

25. () 惠雯看新聞正在報導英國喬治王子受洗的消息。根據新聞指出，受邀觀禮的英國王室成員，其實都是信仰這個由英王創立的宗教。請問：關於這個宗教，下列敘述何者正確？ (A)為政教合一的體制 (B)因反對贖罪券而與羅馬公教決裂 (C)此教派隨著馬偕傳入臺灣 (D)典禮上會看到羅馬教宗主持儀式。

答案：(A)

解析：(B)因婚姻問題(C)馬偕屬喀爾文教派的長老教會(D)英國屬英國國教派，而非羅馬公教。

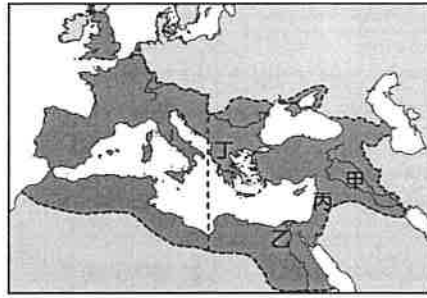
26. () 1788年1月26日，英國航海家菲利普率領首批移民定居雪梨，並且升起英國國旗，澳洲被視為為英國殖民地。後來為解決英國監獄過度擁擠的問題，英國開始將囚犯運往澳洲安置並進行開發，從開始到結束大約有16萬名男女囚犯來到澳洲進行土地開墾，也造成難以抹滅的破壞。請問：上述的破壞不包括下列何者？ (A)傳染病造成原住民人口銳減 (B)原住民喪失土地 (C)歐裔人口愈來愈多 (D)現今該地原住民已滅絕。

答案：(D)

解析：澳洲原住民的土地遭到掠奪，與殖民者發生衝突，再加上殖民者帶來傳染病，造成許多原住民死亡。

27. () 附圖是羅馬帝國時期的疆域圖，請問：西元1世紀時，耶穌在圖中何處宣揚平等博

愛的理念？



(A)甲 (B)乙 (C)丙 (D)丁。

答案：(C)

解析：甲：兩河流域，乙：埃及，丙：巴勒斯坦，丁：希臘。

28. () 電影《女王與知己》描述 19 世紀的英國維多利亞女王晚年時和她的僕從阿布杜勒成為忘年之交的故事。阿布杜勒是英國在東方殖民地精挑細選要獻上禮品給女王的侍從，女王非常喜愛阿布杜勒，還為了他學習蒙兀兒帝國使用的語言，更深入的認識阿布杜勒的家鄉，在宮廷裡引起軒然大波。最後當女王過世，阿布杜勒隨即被趕出英國宮廷回到家鄉，最後抑鬱而終。請問：阿布杜勒的家鄉是哪裡？ (A) 印尼 (B) 東印度群島 (C) 香港 (D) 印度。

答案：(D)

解析：由阿布杜勒的家鄉曾為蒙兀兒帝國統治的土地可知為印度。

29. () 婆羅門教、基督教、伊斯蘭教和佛教，依創教時間的先後順序排列，應為下列何者？ (A) 婆羅門教、基督教、佛教、伊斯蘭教 (B) 婆羅門教、佛教、基督教、伊斯蘭教 (C) 基督教、婆羅門教、伊斯蘭教、佛教 (D) 基督教、伊斯蘭教、婆羅門教、佛教。

答案：(B)

解析：婆羅門教（西元前 15 世紀）—佛教（西元前 6 世紀）—基督教（西元 1 世紀）—伊斯蘭教（西元 7 世紀）。





30. () 附圖為澳洲人民在 2019 年 1 月 26 日高舉旗幟進行抗議，旗幟上標示：「澳大利亞日等於侵略日」。對澳洲原住民來說，英國殖民開的那一刻就是苦難的開始，他們遭受土地被掠奪、傳染病的威脅、被奴役、原有的制度被破壞等待遇。請問：原本澳洲原住民的生活方式應該比較接近下列何者？



(A) 開採金礦致富 (B) 狩獵、採集為生 (C) 進行轉口貿易 (D) 銷售農產品至外國。

答案：(B)

解析：澳洲原住民原本的生活方式為狩獵、採集為主。

31. () 文藝復興並不是突然冒出來的一個歷史分期，在中世紀後期就有許多工匠慢慢地將目光轉移到古希臘、羅馬出土文物上，他們仔細的觀察古代文物，再揉合當地居民喜愛的風格，融合成一種劃時代的創舉，他們模仿古希臘、羅馬寫實風格，細膩的刻畫人物表情動作、衣摺紋理，追求栩栩如生的樣貌，累積了兩、三個世代的鑽研以後，才有現今看到的文藝復興藝術三傑的作品。請問：下列何者不符合文藝復興時期的創作？ (A)  (B)  (C)  (D) 

答案：(A)

解析：(B) 米開朗基羅的作品；(C) 達文西的作品；(D) 拉斐爾的作品。

32. () 附表為 1514 至 1800 年黑奴被販運到主要三大洲的統計數據。乙最可能是下列哪一洲？

時間 \ 州別	甲	乙	丙
1514~1600年	652	58,754	168
1601~1700年	4,160	645,460	847
1701~1800年	4,515	4,569,975	2,658

(A)美洲 (B)亞洲 (C)非洲 (D)歐洲

答案：(A)

解析：歐洲發現新大陸後為彌補美洲勞動力不足，故從非洲輸入大量黑奴。

33. () 附圖是歐洲史上某一史事的起源與傳播發展方向示意圖，下列何者最足以呈現該史事的內涵？



(A)實施男性公民參政 (B)使用拉丁文，頒布成文法 (C)將基督教設為國教，生活以宗教為中心 (D)研究古典文獻，強調人文主義。

答案：(D)

34. () 根據下列四人的談話內容判斷，哪兩個人信仰相同？

身為教徒一生一定要去一次聖地麥加。

甲

我認為解脫之道為覺悟、而非誦讀經典。

乙

我們篤信唯一真神耶和華。

丙

起源於印度，4世紀時由中國傳入我國。

丁

(A)甲丁 (B)甲丙 (C)乙丙 (D)乙丁。

答案：(D)

解析：甲為伊斯蘭教；乙、丁為佛教；丙為猶太教。

35. () 有一份由羅馬皇帝頒布的命令寫道：「我們願賜給基督徒及其他所有人奉行自己宗教的權利；……我們議決：任何人不得被剝奪其尊奉基督教，或任何一種自認最合適的宗教的機會。」請問：這份文獻應是由何人所頒布的？ (A)君士坦丁 (B)狄奧多西 (C)凱撒 (D)屋大維。

答案：(A)

解析：羅馬皇帝君士坦丁承認基督教為合法宗教。

36. () 以下是關於十七世紀臺灣地震的紀錄：「這年二月十五日發生強烈地震，這是我們入臺統治以來最大的地震，漢人店鋪倒塌二十多間，還有婦人及小孩被壓死，熱蘭遮城也多處龜裂。長官立刻向總部呈報，要求儘快從暹羅（今泰國）運木材來進行修復工作。」文中的「總部」，最可能位於附圖中甲、乙、丙、丁何處？



(A)甲 (B)乙 (C)丙 (D)丁

答案：(C)

解析：題幹提到十七世紀的臺灣、熱蘭遮城，可以推斷是荷蘭統治臺灣期間，荷蘭在亞洲總部為印尼巴達維亞故選丙。

37. () 17世紀時爆發某場戰爭，結果簽訂《西發里亞和約》而結束此場戰爭，此條約內容節錄如下。請問：上述的戰爭開打原因為何？

- * 承認瑞士、荷蘭獨立
- * 哈布斯堡王朝承認喀爾文教派在神聖羅馬帝國境內的合法地位
- * 帝國境內各諸侯國可自行訂定官方宗教

(A)領土糾紛 (B)繼承者糾紛 (C)宗教信仰 (D)擴張領土。

答案：(C)

解析：三十年戰爭結束後，各國簽訂條約，瑞士、荷蘭等新教國家的獨立地位獲得確立。

38. () 鴻昇打算利用寒假籌拍一個有關16世紀美洲古文明生活下原住民的微電影。請問：下列哪一個細節設定錯誤？ (A)發生的地點在中南美洲 (B)此時為馬雅文明最強盛的時代 (C)原住民人口劇減與歐洲白人有關 (D)已出現黑人奴隸。

答案：(B)

解析：(B)馬雅文明約在西元13世紀後逐漸衰落。

39. () 老師請同學將上古時期到中世紀西方歷史上出現的四大帝國，依建立的時間先後排列，同學的回答下列何者正確？(甲)羅馬帝國(乙)波斯帝國(丙)亞歷山大帝國(丁)阿拉伯帝國 (A)丙甲丁乙 (B)乙丙甲丁 (C)甲乙丙丁 (D)丙丁乙甲。

答案：(B)

40. () 歷史學者曾有以下評論：「事實上，16世紀仍是一個神啟的世紀，一個誠心信奉基督的世紀。大多數近代世界的開創者都滿懷著宗教熱忱。但是，承認每個基督教徒

都有自由解釋《聖經》的權利，就等於確定了一項可能直接威脅《聖經》本身的反教會原則。」請問：上文中否定教宗的權威，認為「每個基督教徒都有自由解釋《聖經》的權利」應是下列何人？ (A)亨利八世 (B)喀爾文 (C)馬丁路德 (D)羅耀拉。

答案：(C)

解析：(C)馬丁路德主張「因信得救」，認為人能否得救是靠個人對上帝的信仰，而其信仰應以《聖經》為依據。

41. () 「明代後期，耶穌會傳教士來到中國，他們利用西方知識作為傳教手段，開拓了中國士人的視野。」當時這些傳教士自歐洲來華的主要背景為何？ (A)受啟蒙運動影響，主動傳播科技 (B)面對新教的挑戰，積極推廣舊教 (C)至聖地朝拜受阻，爭取盟國協助 (D)挾社會主義勢力，擴張傳教據點。

答案：(B)

解析：羅馬教會受到新教改革的影響，開始推動改革，其中以耶穌會最為重要。

42. () 附圖中的城市為 15 世紀文藝復興重鎮，請問：這些城市的興起和下列何者最有關係？



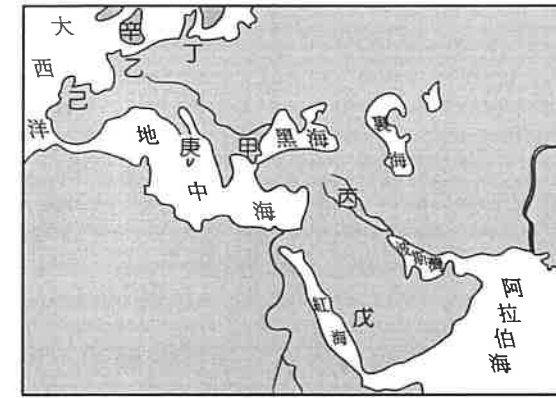
(A)周遭大量考古遺址挖掘帶動城市興起 (B)大量藝術家聚集於此 (C)位於東西貿易要道 (D)為印刷品製造中心帶動經濟成長。

答案：(C)

解析：義大利北部城鎮因位於東西貿易要道，掌握財富，成為文藝復興的重鎮。

題組

「讀萬卷書，行萬里路」一直是知識分子追求的目標。現在交通方便，臺灣經濟也很富裕，所以參看附圖來一趟感性之旅。請問：



43. () 8 世紀的巴格達有「世界文化之都」的雅號，締造多元而且輝煌的阿拉伯文化，位於圖中哪一區？ (A)甲(B)丙(C)戊(D)己。

44. () 親睹喀巴聖殿內的隕石，是穆斯林一生夢寐以求的修行，是要去圖中哪一區？ (A)乙(B)庚(C)丙(D)戊。

45. () 「佛羅倫斯」是文藝復興的發祥地（中心地）、近代歐洲文明的開始，位於圖中哪一區？ (A)甲(B)丙(C)庚(D)辛。

46. () 在基督教世界的歐洲，有哪些地區也留下代表伊斯蘭文化的古蹟？ (A)甲、乙(B)甲、己(C)丁、庚(D)乙、辛。

答案：(2)(B)；(3)(D)；(4)(C)；(5)(B)

題組

隨著歐洲城市的復甦和人文主義的發展，傳統基督教信仰的內涵和羅馬教會的威望，愈來愈不能滿足社會大眾的需求，終於在西元 16 世紀初，發生了宗教改革運動。請問：

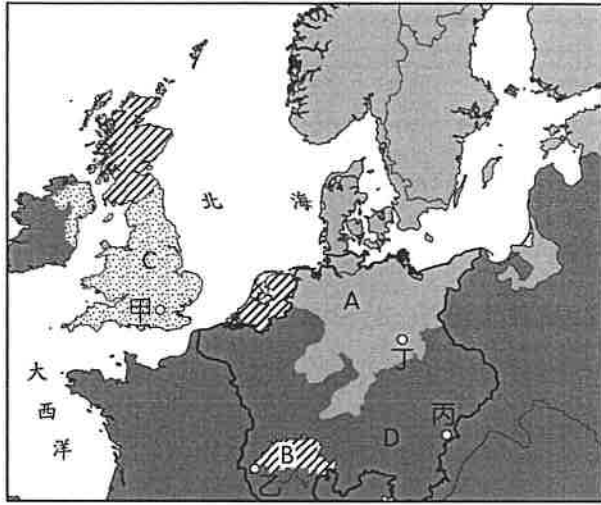
47. () 首先發難焚毀教皇詔書，提出《95 條論綱》，列舉教會罪狀的人是誰？ (A)馬丁路德(B)喀爾文(C)亨利八世(D)羅耀拉。

48. () 宗教改革繼續展開，不同教派也相互迫害，甚至發生戰爭，在何時以後，各國逐漸制定宗教寬容的法律，宗教信仰走向自由？ (A)引發多次宗教戰爭後(B)英法百年戰爭後(C)耶穌會創立後(D)地理大發現後。

答案：(1)(A)；(2)(A)

題組

附圖是西元 1560 年前後歐洲宗教勢力分布圖。其中 A、B、C、D 不同色塊標示的地區代表不同教派的勢力範圍，甲、乙、丙、丁則是四座城市坐落處。請問：



49. () 馬丁路德是在圖中哪一座城市發起宗教改革運動？ (A)甲 (B)乙 (C)丙 (D)丁。

50. () B 區是哪一個教派的分布區？ (A)路德教派 (B)喀爾文教派 (C)英國國教派 (D)羅馬公教。

答案：(1)(D)；(2)(B)

解析：(1)甲為倫敦，乙為日內瓦，丙為維也納，丁為維滕伯格。

(2)A 為路德教派，B 為喀爾文教派，C 為英國國教派，D 為羅馬公教。