

高雄市正義中學高中部 112 學年度第一學期第一次期中考歷史科試題卷

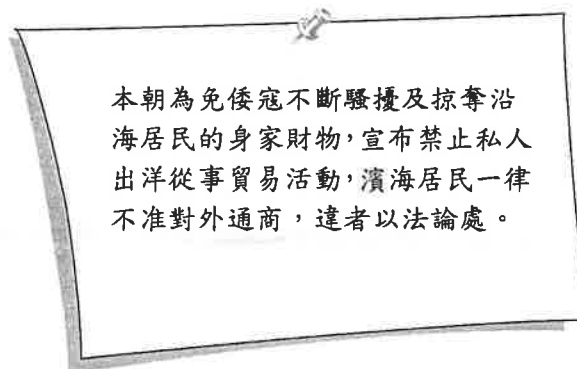
【國一】

命題教師：楊雯因

◆ 劃卡說明：科目代碼：04 班級代碼：1 班→01；2 班→02；3 班→03

一、單一選擇題(共 100 分,每題 2.5 分)

1. 原住民族群很早就懂得耕作，他們通常在離家不遠的地方找一塊地，先將樹林砍掉，然後以火焚燒，利用焚燒所留下來的灰燼為肥料，等待來年土地肥沃之後，再以樹枝做的木棍在土地上挖洞播種。二、三年之後，土地利用得差不多了，又換鄰近的另一塊地砍林燒樹，周而復始。請問：這種耕種的方式稱為什麼？ (A)精耕細作 (B)集約農業 (C)游耕 (D)觀光農業。
2. 西元 1626 年，西班牙人率兵進攻臺灣，正式占領臺灣北部，到西元 1632 年時，西班牙人已控制整個臺北盆地。他們將臺北地區設為一個傳教區，當時傳教的對象，除了漢人和日本人，還包括原住民。以西班牙人占領的地區而言，他們傳教的原住民族群可能為下列何者？ (A)凱達格蘭族、噶瑪蘭族 (B)西拉雅族、撒奇萊雅族 (C)卑南族、排灣族 (D)阿美族、泰雅族。
3. 因因看到臺灣史的書籍中，有一則如附圖的資料，由資料的內容來加以判斷，這則資料應該與下列何者有關？ (A)朝貢制度 (B)海禁政策 (C)鎖國政策 (D)關稅限制。



4. 關於臺灣平埔族的敘述，下列何者正確？ (A)主要分布在西部平原和蘭陽平原 (B)大約在四百年前移居至臺灣 (C)目前臺灣政府認可的為泰雅、布農等族 (D)漢化較淺，生活習慣至今和漢人有很大的差異。
5. 嬋嬋和家人參加臺灣離島旅遊活動，在當地的天后宮看到一塊石碑，上面有「沈有容諭退紅毛番韋麻郎等」幾個字。有關此事的敘述，下列何者正確？ (A)紅毛番指的是西班牙人 (B)離島指的是澎湖 (C)此離島地最終為荷蘭人占領 (D)沈有容為元朝將領。
6. 下列關於臺灣原住民名稱演變的敘述，何者正確？ (A)民國八十年代採用的「原住民」一詞，包含了平埔族和高山族 (B)日治時期為了便於管理，將「平埔族」劃分為九族 (C)平埔族在中華民國時期被稱為「平地山胞」 (D)鄭氏時期即有「生番」、「熟番」的區別及稱號
7. 暑假時，阿煜騎腳踏車進行環島旅行，他在 FaceBook 上打卡，並上傳訊息：「經過漫長的旅程，我終於抵達了國境之最南端，而這裡的原住民都相當熱情，讓我永生難忘。」阿煜接觸到的是哪一族原住民的活動範圍？ (A)排灣族 (B)阿美族 (C)泰雅族 (D)賽夏族
8. 原住民巫師：「許久未下雨了，想必有人犯了祖先之禁忌。現在我們已從他那兒索取一隻雞，呈供於神靈之前，懇請降雨吧！」。有關原住民的傳統宗教信仰，下列敘述何者為非？ (A)屬於泛靈信仰 (B)相信世上萬物都有靈魂 (C)以天神最受敬畏 (D)巫師為人與神溝通的媒介

9. 附表為西元 1640-1653 年「荷人在臺財務收支表」。當時外銷獲利的主要商品為何？

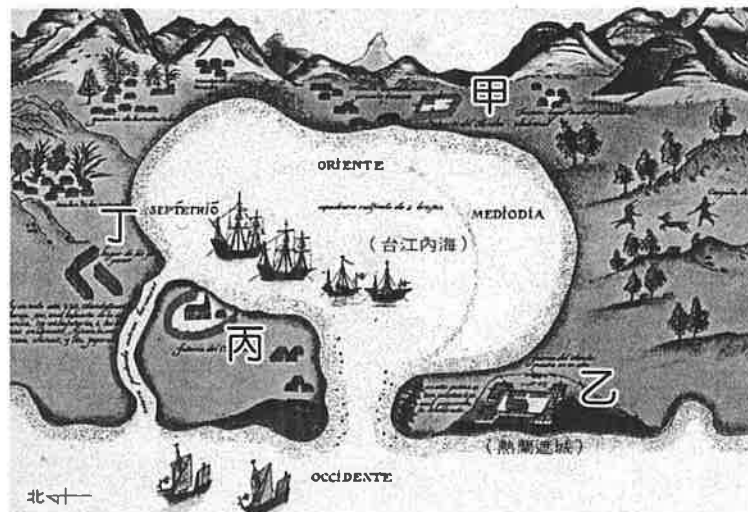
單位：gulden

年代	純益(利)
1640	13,000
1641	16,000
1643	83,000
1649	467,000
1653	338,000

(A) 絲帛、瓷器 (B) 稻米、橡膠 (C) 鹿皮、蔗糖 (D) 茶葉、樟腦

10. 荷蘭統治臺灣時，建立熱蘭遮城和普羅民遮城，作為政治和貿易中心。請問此雙城系統是下列圖中何地？

(A) 甲乙 (B) 甲丁 (C) 乙丙 (D) 丙丁



11. 鄭氏治臺初期，由於糧食不足，因而對臺灣的開墾相當重視。下列關於當時墾殖政策的敘述，何者正確？ (A) 以軍屯、民墾、官墾並行，而以官墾為主 (B) 軍隊平時農耕，有戰爭時則上戰場 (C) 鼓勵民墾，澈底解決了糧食缺乏的問題 (D) 現今臺中市的左營，是因軍屯政策而得名。

12. 在師道不彰的今日社會，政府為了要重振尊師重道的風氣，選擇在全臺最早設立的孔廟，舉行大規模的祭孔謝師典禮。請問：若欲前往觀禮，應該前往何處？ (A) 大稻埕孔廟 (B) 新港孔廟 (C) 臺南孔廟 (D) 彰化孔廟

13. 爺爺帶宸宸參觀高雄市立歷史博物館「打狗史略展」，並說明高雄的史事，宸宸聽得津津有味。爺爺指著館內一張左營地區泛黃的照片說，這裡曾是明鄭軍屯所在地。宸宸很興奮地說：「我們住的地方也是耶！」請問：爺孫倆人，家住高雄何處？ (A) 鹽埕 (B) 鼓山 (C) 旗山 (D) 前鎮

14. 每年農曆 10 月，各大媒體爭相報導某地原住民「太祖夜祭」的活動，只見其在「公廨」內的壺前擺設檳榔、米酒等象徵物，用來祭拜其祖靈。請問此原住民可能屬於哪一族群？ (A) 西拉雅族 (B) 賽夏族 (C) 噶瑪蘭族 (D) 泰雅族。

15. 某一原住民族群有關其祖先來源的神話之一是如此描寫：「古時候，太陽來到世間，產下兩個紅白顏色的蛋，並且指定百步蛇保護它們。兩個蛋孵出一男一女，這兩個人就是該族的貴族。另一說法是兩個蛋孵出『兩個神』，即該族的祖先。」請問這應是臺灣哪一原住民族的神話？ (A) 布農族 (B) 排灣族 (C) 卑南族 (D) 阿美族。

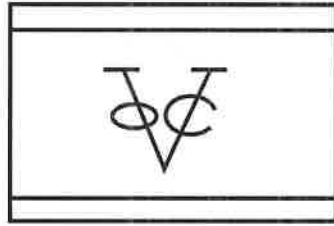
16. 請依以下兩則史料的敘述，判斷下列哪一項「不是」□□文化的特色？

史料一：「□□文化的人和宜蘭、東部及中部地區族群之間都有往來，和中國大陸東南沿海地區可能也有往來。他們也許就是荷治以前所記載之臺北盆地原住民族凱達格蘭族祖先所留下的文化。」

史料二：「□□遺址中發現中國錢幣及琉璃珠，證明其已經和臺灣以外的文化接觸。」

(A) 已經有農業，以稻米為主食 (B) 存在時間晚於卑南文化 (C) 發現全臺目前最大的貝塚 (D) 發現煉鐵遺跡，證明已會製造鐵器。

17. 1897年，日人烏居龍藏自創一支名為「有黥蕃」的原住民。「他們的臉部有紋面，有獵人頭的嗜好，而其北到新店、東勢角，南到南投埔里社，東到蘇澳、宜蘭等地的山中，是臺灣所有蕃族中最猛惡的一支。」請問烏居龍藏文中所指的原住民為何？ (A)凱達格蘭族 (B)馬賽族 (C)噶瑪蘭族 (D)泰雅族。
18. 16世紀的中國南海是海上冒險家的天堂，臺、日間貿易興盛，請問當時最有可能在今日何地建立商業據點？ (A)臺北 (B)臺中 (C)北港 (D)蘇澳。
19. 試問下圖這面旗幟會在哪裡出現？ (A)1624年的聖薩爾瓦多城 (B)1650年的熱蘭遮城 (C)1670年的全臺首學 (D)1896年的臺灣總督府。



20. 荷蘭人占領臺灣後，主要以今何地為中心進行其殖民活動？ (A)臺南 (B)臺中 (C)淡水 (D)基隆。
21. 某一原住民族在舉辦「新船下水儀式」，他們準備芋頭和禮肉接待客人，且在拼板舟的船身四周堆滿芋頭，接著男性族人會跳「勇士舞」，他們身著丁字褲，雙拳緊握、大聲嘶喊、前後跳動，以祈求趕走惡靈、新船平安、保佑主人。這應是哪一原住民族群？ (A)魯凱族 (B)排灣族 (C)達悟族 (D)阿美族。
22. 下列有關臺灣原住民族的敘述，哪一項「不」正確？ (A)屬於南島語系的民族 (B)政治組織以部落為單位 (C)400年前已發展出一套有系統的文字 (D)各族的社會組織互異。
23. 平埔族人農業技術相當原始，以燒耕方式種植小米、稻米和芋、薯等作物，請問這些作物種類在臺灣史前時代的哪一時期即已齊備？ (A)新石器時代早期 (B)新石器時代中期 (C)新石器時代晚期 (D)金屬器時代。
24. 有一本《臺灣觀光指南》中介紹某個縣市的特色時寫道：「附近靠中央山脈的鄉鎮，還出土了舊石器時代的人骨化石。」請問其所介紹的地點應是下列何處？ (A)臺北 (B)高雄 (C)臺南 (D)新竹。

◎題組 (題組一：25~26題) (題組二：27~28題)

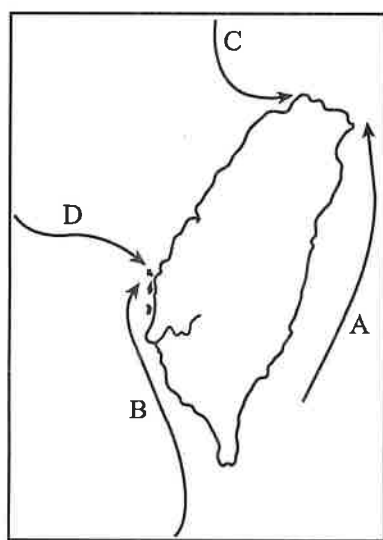
(一) 大航海時代來臨，「甲」國首先至臺灣本島，開始其殖民統治。「乙」國為突破甲國之封鎖，並獲得與東亞大陸、日本傳教、通商貿易之便，亦曾占據臺灣北部。然由於通商、傳教成效不佳，「乙」國人在統治16年後遂告放棄，由「甲」國控制全臺。請問：

25. 上文提到的大航海時代是指何時？ (A)14世紀 (B)15世紀 (C)16世紀 (D)17世紀。
26. 「甲」國與「乙」國分別是哪個國家？ (A)西班牙、荷蘭 (B)葡萄牙、日本 (C)日本、葡萄牙 (D)荷蘭、西班牙。

(二) 1292~1294年，元朝在此地設立巡檢司。明太祖洪武20年(1387)，明廷將此地居民遷往泉州，乃取消巡檢司。明世宗嘉靖42年(1563)，為防範○○侵擾東南沿海，再次加強軍事布署，才又恢復巡檢司。請問：

27. 元朝首先在臺灣的哪一個地區設立巡檢司？ (A)澎湖 (B)小琉球 (C)笨港 (D)安平。
28. 上文中的○○應填入下列何者？ (A)倭寇 (B)花郎 (C)海盜 (D)忍者。
29. 十六世紀末臺灣取代澎湖成為海上走私貿易基地與海盜的巢穴的原因為何？ (A)豐臣秀吉屢次攻擊澎湖，海盜及倭寇來到臺灣避難 (B)荷蘭兩度占領澎湖，海盜及倭寇只好轉移到臺灣交易商品 (C)臺灣開發日盛，戰略與經濟價值完全超越澎湖 (D)明軍在澎湖加強防務，嚴格查緝，倭寇和海盜只好轉移陣地到臺灣
30. 1624年8月18日，某間公司在會議中決議：「如離開澎湖島，而以福爾摩沙島臺窩灣(安平)定為居處，則在該地及公司職員所駐在之其他場所准許貿易，由此可以領有比澎湖更肥沃而適於健康，且有豐富清水之島嶼。」請問這家公司如此決議的理由為何？ (A)中國已解除海禁 (B)日本實施鎖國貿易 (C)公司受明帝國武力逼迫 (D)英國企圖稱霸東亞
31. 十七世紀時，來自荷蘭的跨國貿易公司——荷蘭聯合東印度公司，曾經一度想要在中國大陸設立貿易據點，但最後卻未能如願，請問是因以下哪個原因？ (A)東亞海域海盜猖獗，往來貿易不便 (B)葡萄牙人已經壟斷了貿易特權 (C)中國人民對荷蘭的商品興趣不高 (D)中國明朝政府實施海禁

32. 根據統計，目前全臺約有近三十六萬的高山原住民族，但平埔族群卻幾乎消失，其原因為何？ (A)荷蘭與鄭氏政權的嚴厲鎮壓 (B)與漢人移民通婚而被同化 (C)因生存空間被侵占而移往海外 (D)日治時期被屠殺殆盡
33. 1602年，荷蘭聯合東印度公司成立後，由韋麻郎(W. Van Waerwijck)率船隊趁明軍巡防空隙，占領某地。其後雖在明廷諭令下退走，但荷蘭為了與中國及遠東地區貿易，仍時時窺伺這一地區。請問此一地區是指那裡？ (A)臺灣 (B)澎湖 (C)廣州 (D)廈門
34. 雪莉走訪今日的臺南府城，可以看見不少歐風建築物，包括赤崁樓、安平古堡等數百年的古建築。請問，留下這些建築物的應是哪一個國家的殖民者？ (A)西班牙人 (B)葡萄牙人 (C)荷蘭人 (D)法國人
35. 關於臺灣原住民族的分類，在不同統治時期有不同的區分方式與叫法，而統治族群往往帶著文化優越感，對原住民族採歧視性的稱呼。請問何時才「正式」消除帶有歧視性的稱呼？ (A)1850年代 (B)1900年代 (C)1950年代 (D)1990年代
36. 原住民族委員會網站上寫道，某原住民族群「群聚而居，部落規模大、人口多，祭典活動特別盛大，以每年的豐年祭典最具代表性。目前人口約有210,839人，是目前臺灣人數最多的原住民族。」這個原住民族群最有可能是？ (A)達悟族 (B)阿美族 (C)賽夏族 (D)賽德克族
37. 參考附圖，圖中那一條路線符合十七世紀西班牙經略臺灣的路線？ (A)A (B)B (C)C (D)D



38. 日本治臺時期的人類學家已經發現賽德克族與某一族在語系上有差異，但因為兩族皆有紋面、出草等共有習俗，且有共同的發源地、傳說與禮俗，故將賽德克族劃歸於另一族群之中。請問此族群為 (A)阿美族 (B)賽夏族 (C)泰雅族 (D)噶瑪蘭族
39. 荷蘭時期及鄭氏政權時期，臺灣的開發局限於那一個地區？ (A)竹塹埔 (B)彰化平原 (C)噶瑪蘭 (D)府城
40. 臺灣是一個孤懸於太平洋上的島嶼，沒有與島外進行貿易的強烈需求，文化發展亦停留在金屬器時代或新石器時代晚期的階段。然而，臺灣卻在十七世紀中葉成為東亞貿易的轉運中心與戰略要地。請問促成此形勢出現的主因為何？ (A)中國大陸沿海出現移民潮 (B)鄭氏建立反清復明的政權 (C)西歐國家先後來中國貿易 (D)日本德川幕府提倡南進政策

高雄市正義中學高中部 112 學年度第一學期第一次期中考歷史科答案卷【國一】

一、選擇題(每題 2.5 分，共 100 分)

1	2	3	4	5	6	7	8	9	10
C	A	B	A	B	A	A	C	C	A
11	12	13	14	15	16	17	18	19	20
B	C	D	A	B	C	D	C	B	A
21	22	23	24	25	26	27	28	29	30
C	C	B	C	C	D	A	A	D	C
31	32	33	34	35	36	37	38	39	40
D	B	B	C	D	B	A	C	D	C