

私立正義國中 112 學年度上學期第一次段考 國二 地理科試題

考試範圍:第三冊 1~3 章

【科目代號:05】

命題教師:陳亭好

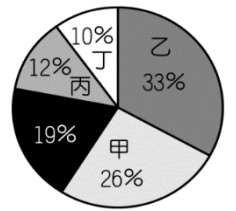
班級: \_\_\_\_\_

座號: \_\_\_\_\_

姓名: \_\_\_\_\_

第一部分:單一選擇題(每題 2 分)

1. 下圖為中國五大地形比例圖,其中乙代表何種地形?(A)高原 (B)山地 (C)平原 (D)台地
2. 以中國來說,下列關於「季風」的敘述,何者**錯誤**?(A)夏季季風發源自大西洋 (B)主要由大範圍的海陸性質差異所造成 (C)夏季季風通常溫暖潮濕 (D)冬季季風通常寒冷乾燥
3. 中國年降水量分布情形應是下列何者?(A)由東南向西北遞增 (B)由東南向西北遞減 (C)由西南向東北遞減 (D)由西南向東北遞增



4. 附圖是中國氣候與人類活動分布圖,圖中「農牧分界」的分界為下列何者?  
(A)南嶺 (B)太行山 (C)黑河——騰衝 (D)秦嶺、淮河。



5. 承上題,下列四項敘述中,哪一選項中的地理現象也是採用同一條界線來做分區?  
(A)糧食作物:南稻北麥 (B)交通;南船北馬 (C)一月月均溫 0°C (D)年雨量 500mm

6. 中國各地氣候、地形不盡相同,居民就地取材,建築適合當地環境的住所,下列建築與當地自然環境的配對何者**錯誤**?  
(A)騎樓-因多雨的環境,建造可躲雨的設計 (B)窯洞-利用黃土密實、不易崩塌的特性,挖鑿而成的傳統民居 (C)干欄式建築-分布在乾燥少雨的環境,可配合崎嶇的地形 (D)蒙古包-因為逐水草而居,常要搬遷,故容易拆裝

7. 受到地形、氣候等因素的影響,中國的人口分布疏密程度差異相當大。目前該國人口多集中在哪一個氣候區內?  
(A)季風氣候區 (B)草原氣候區 (C)乾燥氣候區 (D)高地氣候區。

8. 國人口已達 14 億人,是世界人口最多的國家,這項人口特色對於中國產生的影響**不包括**下列何者?  
(A)消費市場廣大 (B)自然資源增加 (C)糧食需求增加 (D)勞工來源充足。

9. 下圖是甲生在搭火車時,在車廂中看到的設備,請問此列車最有可能正經過中國哪一個地形區?  
(A)橫斷山脈 (B)黃土高原 (C)青藏高原 (D)塔里木盆地。



10. 在早期的航海大多依靠固定方向的風來帶動船隻航行,我們將此種類型的風稱為「船棹風」,明代鄭和下西洋的時候就是依靠船棹風來完成此壯舉,請問:鄭和最有可能在甚麼季節從中國出發前往南洋的各國?  
(A)春(B)夏(C)秋(D)冬

11. 承上題,請問「船棹風」又被稱為甚麼?(A)焚風(B)麒麟風(C)季風(D)颱風。



12. 右圖為中國人口政策宣傳海報,圖中宣導觀念和中國哪一種人口特性的關係最大?  
(A)人口密度過高(B)民族多元國家(C)性別比例失衡 (D)壯年男子移出。

13. 中國境內主要的水氣來源多為季風所帶來。請問:下列哪一種山脈走向正好阻擋了溫帶季風氣候區的夏季季風,因此水氣不易深入內陸?



14. 臺北市常舉辦冠軍麵食大賽,常會吸引很多人來共襄盛舉。請問:臺灣人喜歡吃麵食,此與中國哪一地形區居民飲食文化相關?  
(A)東北平原 (B)藏南縱谷 (C)長江中下游平原 (D)四川盆地。

15. 中國經濟發展部門在評估各地區的發展條件時,發現東部沿海地區發展的有利條件主要為何?  
(A)降水量豐富,因此糧食充足得以自給 (B)能源蘊藏量大,動力資源相當豐富 (C)人口密集,有大量的人力資源可以運用 (D)地質年代古老多礦產,工業原料充足。

16. 中國早期該區因為氣候環境較佳,因此適合從事農業活動,吸引大量居民遷移至此。上述情況應位於附圖中哪一區?(A)甲 (B)乙 (C)丙 (D)丁。



17. 中國東北平原平坦遼闊，從事農業人口少，故採取何種措施解決人力缺乏問題？ (A)人口老化 (B)生態農業 (C)人工施肥 (D)機械化耕作。

18. 中國某地因為山勢陡峭且相隔深澗，因此會使用右圖特殊交通工具來往兩地，請問此種景象最有可能出現在中國的哪一個地形區？(A)內蒙古高原(B)塔里木盆地(C)嶺南丘陵 (D)橫斷山脈



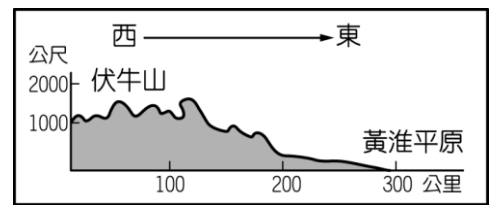
19. 李先生在暑假帶著孩子前往中國旅遊，導遊在行前會議告知他們必須準備厚外套，以適應當地的氣候環境。請問：李先生所參加的行程最可能為下列何者？ (A)哈爾濱賞花之旅 (B)北京古都五日遊 (C)青藏高原尋幽之旅 (D)古絲路風情之旅。

20. 根據附圖兩篇新聞，中國接連兩天發生強大地震。請問：地震與下列哪一組板塊的關係最密切？(A)歐亞板塊、太平洋板塊 (B)歐亞板塊、印澳板塊 (C)印澳板塊、太平洋板塊 (D)歐亞板塊、菲律賓海板塊。

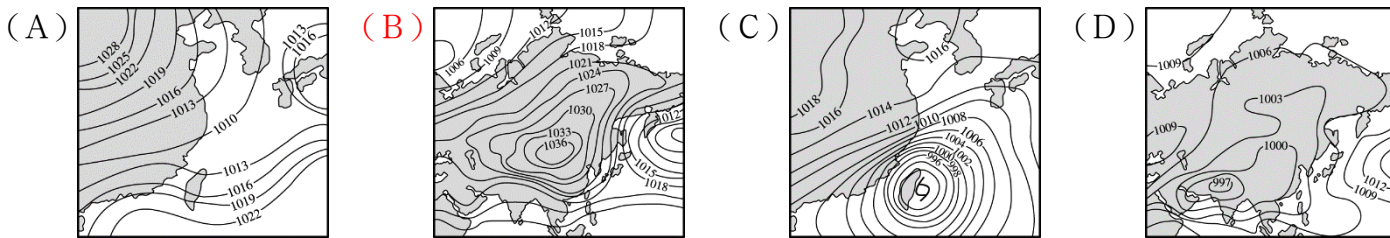
<b>新聞快報</b>	<b>新聞快報</b>
2017年8月8日 四川九寨溝晚間9點19分發生芮氏規模7.0強震，目前已知造成19人死亡、247人受傷。	2017年8月9日 早上7點27分，在新疆精河縣附近發生6.6級左右地震，震源深度僅11公里。烏魯木齊感覺震動劇烈。

第二部分：進階題 (每題 3 分)

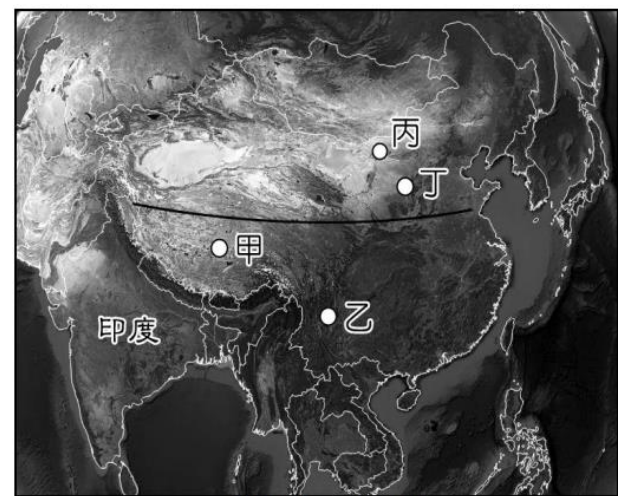
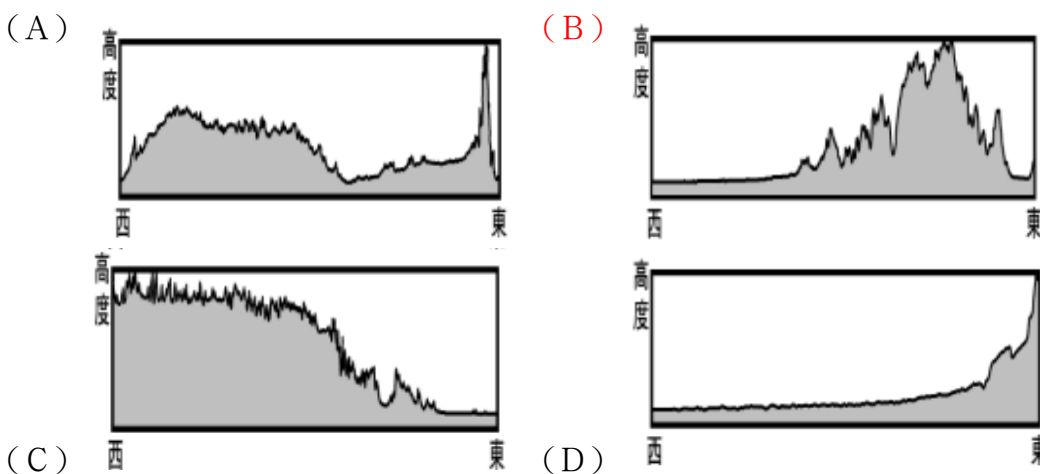
21. 由附圖所示可知中國的主要地勢起伏形態。這種分布特色對下列哪一項的影響最為明顯？(A)疆域面積廣大 (B)海洋水氣深入內地 (C)降水集中夏季 (D)氣溫南高北低。



22. 《三國演義》中，曹操曰：「方今隆冬之際」，意指在赤壁之戰前夕，當時所處的季节為冬天，由此可推測此戰役前夕的氣壓圖和下列何者最相似？

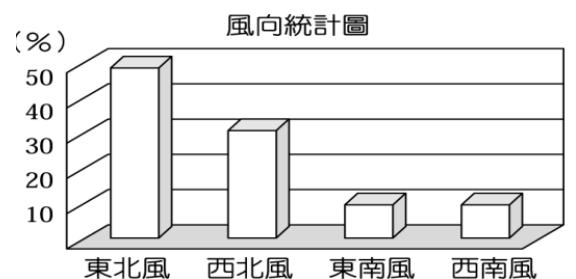


23. Google Earth 有一個功能可以在地球儀上任選兩點，選擇顯示高度剖面，即可看出該剖面的地形變化。若繪製一線段如附圖，顯示出的高度剖面圖最可能是下列哪張？



▲中國衛星影像圖

24. 居民的日常生活型態容易受到氣候類型的影響。附圖為中國全境冬季時主要盛行風向的統計圖，這和該地區何種特色關係最大？(A)三合院建築 (B)高架屋 (C)房屋坐北朝南 (D)街道多騎樓



25. 中國在 1950 至 1980 年間，對一月月均溫低於 0°C 的區域施行免費供煤取暖政策，但卻造成嚴重空氣汙染，影響當地居民健康。該政策實際供煤的區域，大致以下列哪條河流為其南界？ (A)黃河 (B)淮河 (C)長江 (D)珠江。

26. 中國東部沿海地區為經濟發達的精華區，其中北京、上海及廣州等地的氣候類型各不相同。請問：畫分中國東部各地區氣候類型的最主要依據為下列何者？ (A)氣溫高低 (B)降水量多寡 (C)地形高度 (D)距海遠近。

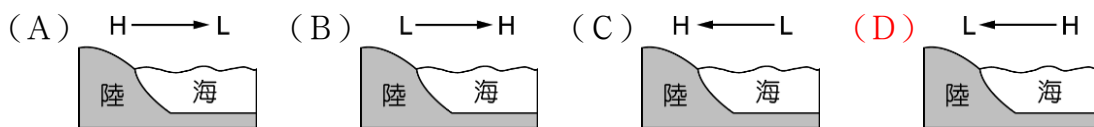


27. 中國的飲食安全問題層出不窮，嬰幼兒毒牛奶新聞事件，造成中國國內消費者的恐慌，更造成多起中國人在港、澳搶購進口奶粉的爭議事件。請問：中國毒奶事件會使得右圖何處的大規模畜牧業大受影響？(A)甲 (B)乙 (C)丙 (D)丁。
28. 季風氣候主要指隨著季節變化的風向，影響當地的氣溫及降水量。請問：附表中有關中國季風氣候比較，何者最正確？

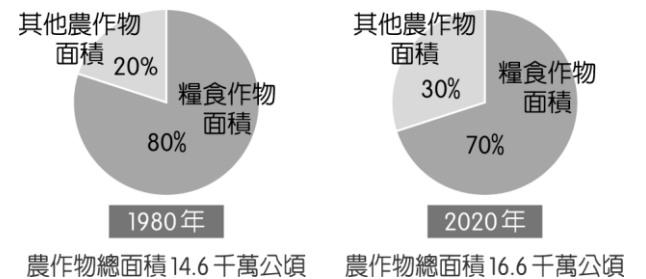


	(A)降水分布	(B)一月均溫	(C)夏季風向	(D)冬季風向
熱帶季風	全年有雨	>0°C	東南風	東北風
溫帶季風	夏雨冬乾	> 18°C	西南風	西北風

29. 新聞報導：「中國南部地區因為連續一星期的大量降水，已造成低窪地區發生水患，影響村落共有 14 個，預計將遷移約上萬人往高處地區避難。災情慘重已引起國際社會的關注。」根據上述報導，該地區當時的氣候現象最可能為下列何者？



30. 附圖為中國糧食作物栽種面積比例變化圖，因各種因素影響，中國了糧食作物面積大大下降，轉作其他農作物，請問「其他農作物面積」可能是指那些作物？(A)玉米 (B)小麥 (C)青稞 (D)蔬果。



第三部分：題組題（每題 2 分）


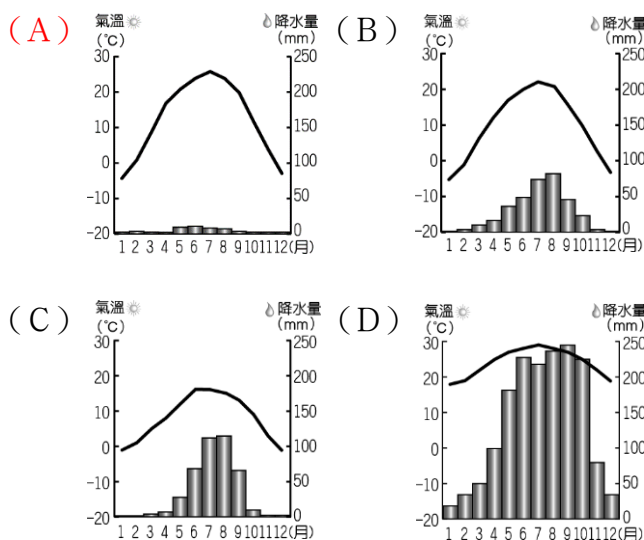
◆ 下圖漫畫繪製的內容為中國某個時期的人口現象，請根據圖片回答問題：

31. 請問此時的中國最可能發生了什麼問題？(A)人口壓力大 (B)扶養比小 (C)性別比均衡 (D)人口分布不均
32. 因應右圖的人口現狀，中國政府提出了甚麼政策來解決？(A)獎勵生育 (B)全面二孩政策 (C)一胎化 (D)家庭計畫
33. 承上題，實施此政策未來可能造成何種影響？(A)人口分布不均 (B)勞動人口不足 (C)人口素質不良 (D)人口壓力過大。



◆ 右圖為中國某區的傳統建築，請根據此圖回答下列問題：

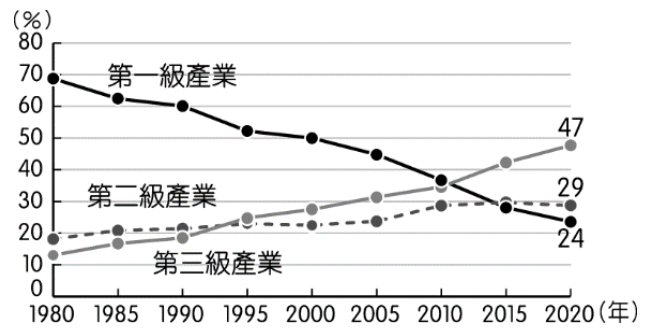
34. 請問此建築的出現，主要跟當地屬於何種氣候有關？



35. 請問此類型的建築與下列哪一個生活俗語會出現在同一個地區？(A)早穿皮襖午穿紗，抱著火爐吃西瓜 (B)人家半鑿山腰住，車馬多從頭頂過 (C)一山分四季，十里不同天 (D)蜀道難，難於上青天

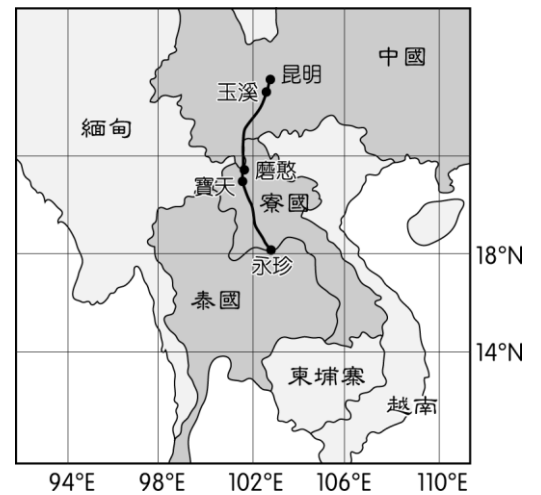
◆ 中國自 1980 年代開始實施經濟上的改革開放，改變了中國的經濟面貌。附圖為中國三級產業變化圖，請問：

36. 近年來工商業發展後，連農業活動的類別亦由傳統的稻麥改為蔬果、花卉等作物為主。最主要的影響因素為何？ (A)市場需求 (B)技術進步 (C)人口減少 (D)大量進口。
37. 從右圖中可以得知第二、三級產業自 1980 年後開始上升，請問是因為下列哪項政策的實施帶動發展？(A)大躍進(B)設置經濟特區 (C)設置加工出口區 (D)一帶一路政策



38. 承上題，該政策的設置主要位在中國的哪一個區域？是因為該區域擁有什么項工業區位而設置？(A)東部地區，原料區位(B)西部地區，動力區位(C)東部地區，勞力區位(D)西部地區，交通區位。

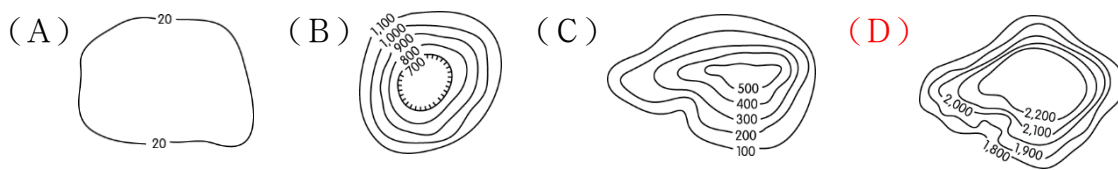
◆ 附圖為中寮鐵路，於 2021 年 12 月通車，北起中國雲南昆明，南至寮國永珍，這條全長 1035 公里的鐵路是一帶一路政策下的建設，將中國與寮國間的車程由 15 小時縮短成 4 小時。雖然該鐵路有助於帶動寮國的旅運和貨物運輸量，但帶來的效益是否能與因建設產生的外債打平仍存在隱憂。



39. 中國近年積極向東南亞開發鐵路計畫，是因為其山脈地形走向有利於跨國鐵路的建設，可知走向應為下列何者？ (A)南北向 (B)東西向 (C)西北—東南向 (D)西南—東北向。

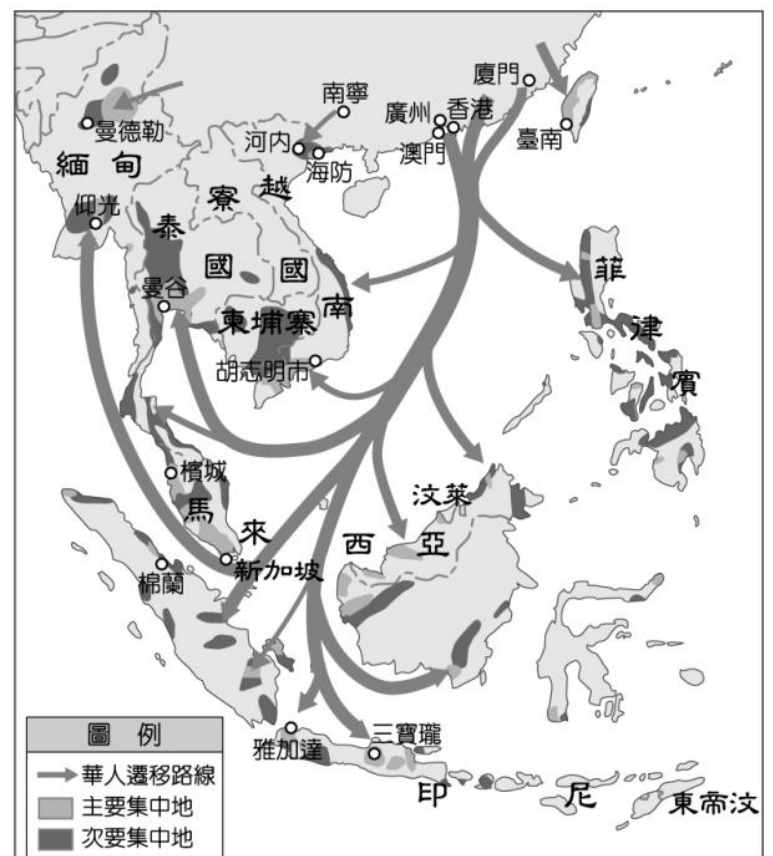
40. 工程期間，因中寮鐵路路線行經重要自然保護區西雙版納，環保人士質疑鐵路工程恐破壞生態。下列哪一種自然景觀帶可能受到威脅？ (A)熱帶雨林 (B)溫帶針葉林 (C)寒帶苔原 (D)地中海灌木叢。

41. 中寮鐵路的起站昆明，雖位於副熱帶，但由於地形優勢，使其夏無酷暑、冬無嚴寒、四季如春，素有「春城」之稱，則昆明的主要地形最有可能為下列何者？



◆ 下圖為華人遷移圖，請回答下列問題：

42. 若由附圖資訊判斷，下列哪個國家非華人主要的遷移地？ (A)越南 (B)印尼 (C)寮國 (D)泰國
43. 明清時期，中國哪一地區的人們因為人口急速增加，遠渡重洋移居到東南亞或渡海來臺開墾？ (A)北方 (B)西南內陸 (C)東南沿海 (D)西北內陸
44. 請問造成遷移發生的推力不包含下列何者？(A)中國原鄉地形山多平原少(B)中國實施海進政策(C)台灣未開墾的土地多(D)中國原鄉出現糧食短缺問題
45. 請問這些華人在遷移後至東南亞後，對東南亞帶來的文化遷移不包含何者？(A)馬來西亞的傳統小吃娘惹糕(B)新加坡的官方語言為英語(C)越南春節時會貼春聯(D)印尼擁有廟宇建築



=====恭喜你完成這份考卷！再回頭檢查一次吧！=====