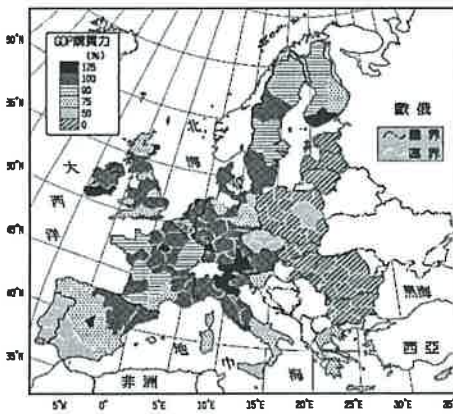


◆ 劃卡說明：科目代碼：05 類組代碼：二 X 班級代碼：01.02.03

單選題(共 45 題；第 1~35 題，每題 2 分；第 36~45 題，每題 3 分)

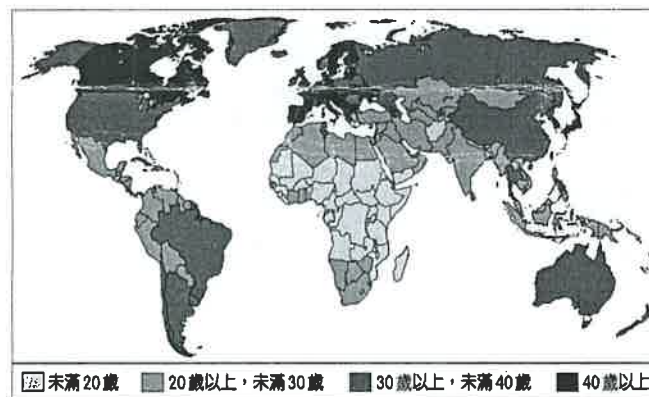
A 1. 南歐的氣候受到下列哪些因素的影響，形成夏乾冬雨的氣候特色？ (A) 高氣壓、西風 (B) 高氣壓、東北信風 (C) 低氣壓、季風 (D) 低氣壓、西風。

A 2. 附圖為歐洲各國的 GDP 購買力分布圖，呈現國民的消費能力及經濟狀況。請由圖中資料判斷，哪一個地區的經濟發展相對較為落後？



(A) 東歐 (B) 北歐 (C) 西歐 (D) 南歐。

C 3. 附圖是 2014 年世界各國人口年齡中位數分布圖。「人口年齡中位數」是將一個國家的總人口分成人數相等的兩部分，其中一半人的年齡比中位數要小，而另一半人的年齡比中位數要大，該數值可描述一國人口年齡的狀態。圖中「人口年齡中位數」屬於最暗類的國家，最可能具有下列何種特徵？



(A) 醫療衛生水準較落後 (B) 平均壽命較低 (C) 出生率較低 (D) 人口組成為低金字塔型。

A 4. 新聞媒體常會在報導中使用英文簡稱來表示國際上的組織，其中歐洲聯盟的簡稱為何？ (A) EU (B) WTO (C) APEC (D) OPEC。

D 5. 歐洲聯盟境內主要通行的貨幣為歐元。請問：若新加入的東歐國家欲發行歐元，則需要評估該國境內何項狀況？ (A) 人口素質優劣狀況 (B) 民主政治實施狀況 (C) 礦產資源蘊藏量狀況 (D) 國內財政經濟狀況。

C 6. 附圖為愛爾蘭的地理位置示意圖，請問：圖中甲地的海洋應該為下列何者？



(A) 北海 (B) 英吉利海峽 (C) 大西洋 (D) 波羅的海。

7. 歐洲境內各區域發展的特色皆不相同。附表的整理中，何者最為正確？

C

甲	乙	丙	丁
西歐	東歐	北歐	南歐
西方文明萌芽	近代文明重心	社會福利制度	共產經濟轉型

(A)甲 (B)乙 (C)丙 (D)丁。

8. 俄羅斯為世界面積最廣大的國家，請問：該國對於哪一個重要海域的航道影響力大，因此戰略地位重要？ (A)大西洋 (B)黑海 (C)北極海 (D)太平洋。

C

9. 俄羅斯為全世界面積最為廣大的國家。請問：該國境內的氣候類型主要為下列哪兩種？ (A)溫帶海洋性氣候、寒帶氣候 (B)溫帶大陸性氣候、溫帶海洋性氣候 (C)溫帶大陸性氣候、寒帶氣候 (D)溫帶海洋性氣候、溫帶沙漠氣候。

10. 附圖為俄羅斯的傳統服飾淑巴，利用動物皮毛如貂皮、羊皮、兔毛等製成的皮草大衣，直到羽絨衣問世之前，是俄羅斯冬季最常見的禦寒衣物。淑巴的出現與俄羅斯的何種環境因素有關？

C

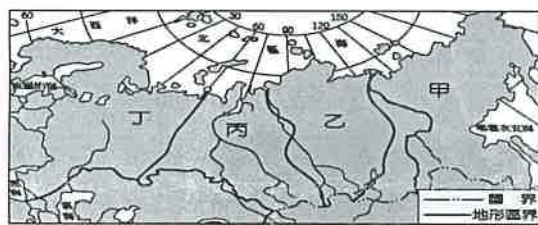


(A)幅員廣闊 (B)三面環海 (C)鄰近北極地區 (D)天然資源豐富。

11. 俄羅斯為世界面積最大的國家，境內的人口卻分布不均。請問：該國若以點圖方式來繪製人口分布狀況，附圖中哪一個地區

D

的分布點會最密集？



(A)甲 (B)乙 (C)丙 (D)丁。

12. 俄羅斯為世界面積最大的國家，然而境內除了下列哪一個地區外，大部分皆不利於農業活動的發展？ (A)西部西伯利亞平原 (B)中部西伯利亞高原 (C)東部西伯利亞山地 (D)歐俄平原。

D

13. 俄羅斯近年來經濟發展快速，被列為「金磚五國」之一。請問：該國近年來經濟發展和下列何者關係密切？ (A)農業發達 (B)共產主義 (C)礦產豐富 (D)交通便利。

C

14. 來自歐洲的哥倫布為相當著名的探險家，他在抵達美洲前，必須穿越哪一個海洋？ (A)太平洋 (B)大西洋 (C)印度洋 (D)地中海。

B

??

好像難度太低?

15. 1492年哥倫布由伊比利半島出發，在橫越大西洋後，發現了新大陸。當時他所發現的大陸應該為下列何者？ (A)亞洲 (B)美洲 (C)非洲 (D)澳洲。

B

16. 北美洲的東部地區礦產豐富，為早期工業發展的重心。請問：該地區礦產豐富的主要原因為何？ (A)板塊活動 (B)高溫多雨 (C)古老地塊 (D)面積廣大。

C

17. 附圖為CNN的新聞快報內容，主播應提醒下列哪一地區的民眾需特別注意後續災難的發生，須做好相關預防措施？

A



(A)太平洋沿岸 (B)大西洋沿岸 (C)墨西哥灣沿岸 (D)北極海沿岸。

18. 附圖為陸半球圖，圖中打上「★」的地方位於下列哪一洲？

B



(A) 亞洲 (B) 歐洲 (C) 北美洲 (D) 大洋洲。

19. 「該國的農場面積廣大，利用機械化的生產方式、專業化的生產過程，讓這些農場主人收入豐富，成為世界重要的農業輸出國。」請根據上文敘述判斷，該國應該為下列何者？ (A) 日本 (B) 臺灣 (C) 中國 (D) 美國。

D

20. 美國中南部的平原面積廣大，當地的農產品多利用哪一條河川運至墨西哥灣以對外出口？ (A) 格蘭河 (B) 密西西比河 (C) 科羅拉多河 (D) 五大湖運河。

B

21. 臺北國際旅展中，某家旅行社的廣告如下：「歐洲國家中，搭遊輪探訪挪威峽灣，風光最震撼人心！歷經大自然千萬年來的雕塑，形成綿延狹長的曲折海岸線，如夢般的峽灣仙境，成為無數遊客留連忘返的醉人美景！」上文中的「峽灣」形成主要原因為何？ (A) 冰河侵蝕，海水入侵 (B) 冰河融化，地層下陷 (C) 岩層軟弱，海水侵蝕 (D) 斷層陷落，海面上升。

A

22. 歐洲的地形以平原為主，然各地區的發展卻受到冰河作用的影響而不同，如冰河堆積的平原從事牧業，沿海峽灣則從事海上活動。請問：該地區冰河作用的成因和下列哪兩者的關係最大？ (A) 面積廣大、板塊撞擊 (B) 海岸線長、地勢高聳 (C) 地處高緯、地勢高聳 (D) 面積廣大、緯度較高。

C

23. 附圖中的網格區域，代表歐洲大陸人口較為密集且經濟高度發展的核心地區，其分布與下列何者的關係最密切？

B



(A) 豐富的石油蘊藏量 (B) 便利的河流航運線 (C) 地中海型農業發達 (D) 工業革命的發源地。

24. 德國由於生育率低，人口結構老化，總人口數多年呈現負成長。2011年，該國總人口數較前一年成長0.1%，是近年來首度正成長。附表是該國2010年和2011年的部分人口資料，根據表中資料推論，下列何者最可能是德國該年總人口數增加的主要原因？

B

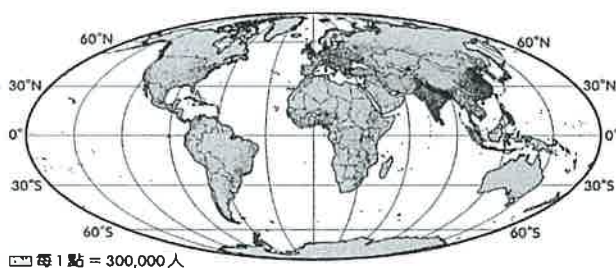
年度	2010年	2011年
總人口數	8170.8	8180.0
新生兒人口數	67.8	66.3
死亡人口數	85.8	85.2

(單位：萬人)

(A) 政府鼓勵生育的政策奏效 (B) 大幅開放東歐國家的移民 (C) 老人慢性病獲得明顯控制 (D) 給予多國觀光免簽證待遇。

25. 附圖為世界人口分布圖，歐洲為全世界人口分布最為平均的地區。請問：這種特色和下列何者的關係最大？

C



(A) 經濟較為發達 (B) 工業革命發源地 (C) 自然環境優越 (D) 海外殖民地多。

26. 歐洲聯盟的會員國之間貿易額日益增加，貨物流通更加頻繁。請問：這和下列哪一項措施的實施關係最大？ (A) 共同簽證

B (B) 取消關稅 (C) 開放國界 (D) 就業政策。

27. 萊茵河流經西歐主要工業國家的工礦產區，因此航運價值相當重要。請問：該河川最後由哪一個國家流入海洋？ (A) 法國

C (B) 德國 (C) 荷蘭 (D) 比利時。

28. 東歐地區的開放較晚，再加上風光明媚，因此成為新興的旅遊勝地，為當地帶來豐富的外匯收入。附表為小遙參加的東歐行程，小遙參加上述的旅遊行程，為了避免遇到滂沱大雨，應避免在下列何時前往？

C

第 1 站	漫步布拉格舊城區
第 2 站	在斯洛伐克登上東歐主要山脈的最高峰，並享受午餐
第 3 站	參觀電影「辛德勒名單」中出現的奧斯維辛集中營舊址
第 4 站	搭船欣賞東歐主要河川的沿岸風光
第 5 站	參觀布達佩斯被列入世界文化遺產的城堡區與河畔風光

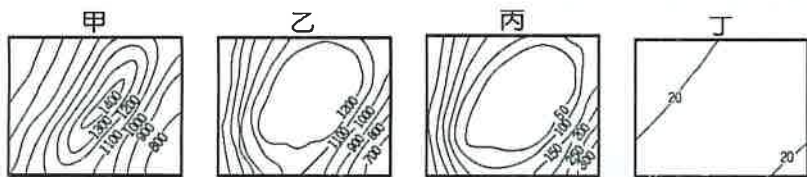
(A) 1 月 (B) 4 月 (C) 7 月 (D) 10 月。

29. 歐俄平原大部分位於溫帶大陸性氣候區，年溫差甚大，愈向東愈明顯，年雨量約 500 毫米，且自西向東遞減。上文所述該地

B 區氣候在空間上的差異，最主要是受到下列哪一海域的影響所致？ (A) 太平洋 (B) 大西洋 (C) 北極海 (D) 地中海。

30. 西伯利亞位於歐亞大陸的北端，面積廣大，景色荒涼。請問：西伯利亞中部區域的地形主體為附圖中何者？

B



(A) 甲 (B) 乙 (C) 丙 (D) 丁。

31. 俄羅斯在帝國時期積極發展海上航運，以擴大勢力範圍。請問：目前境內的第一大港為下列何者？ (A) 格但斯克 (B) 聖

B 彼得堡 (C) 海參崴 (D) 莫斯科。

32. 俄羅斯因「先天不良、後天失調」，不利農耕，糧食不足自給。其先天、後天因素分別為何？ (A) 永凍土遍布、曾實施市

C 場經濟 (B) 地形崎嶇、曾實施計畫經濟 (C) 氣候乾冷、曾實施計畫經濟 (D) 土壤貧瘠、曾實施市場經濟。

33. 近年來，中國與俄羅斯共同合作「泰納線」的管線工程，如附圖，希望透過運送某種資源，以提供中國的工業發展。上述的

「某種資源」最可能為下列何者？

C



(A) 煤礦 (B) 鐵礦 (C) 石油 (D) 電力。

34. 曉婷參加美國西南部加利福尼亞州的太空營隊，根據資料顯示，受訓的期間為當地雨季。請根據當地的氣候特性判斷，她受

D 訓的時間可能為何？ (A) 3 月 (B) 6 月 (C) 9 月 (D) 12 月。

35. 位於北美洲的阿帕拉契山脈及拉布拉多高原普遍平緩不高，其主要的原因為何？ (A) 板塊擠壓 (B) 斷層陷落 (C) 泥沙

D 堆積 (D) 久經侵蝕。

36. 「有人說西風是上帝對歐洲的恩賜，能帶給歐洲豐沛的降水量；但對中國來說，伴隨西風而來的卻常是漫天黃沙。」造成上述差異的原因為何？ (A) 歐洲位於大陸的西岸；中國位於大陸的東岸 (B) 歐洲的西風來自陸地；中國的西風來自海洋

A (C) 歐洲西風集中於冬季；中國西風集中於夏季 (D) 歐洲的緯度位置較高；中國的緯度位置較低。

37. 「飛行釀酒師」是一個特別的行業，他們搭乘飛機穿梭在全球各地的葡萄園提供技術指導，尤其是在雨季來臨前的成熟葡萄採收時最為忙碌。某一釀酒師在西班牙葡萄採收的季節前往該國協助，而他在西班牙停留的月分最可能為下列何者？ (A) 1~2月 (B) 3~4月 (C) 6~7月 (D) 9~10月。

38. 美國中部大平原的氣候變化劇烈，北部五大湖區冬季常有寒流帶來暴風雪，中南部則在春、夏之交經常有龍捲風肆虐，南部夏季則易受颶風侵襲。上述氣候特色和哪一項自然地理特徵關係最為密切？ (A) 位於中緯度溫帶地區 (B) 終年受西風吹拂 (C) 主要山脈呈南北向偏西分布 (D) 位於大西洋及太平洋之間。

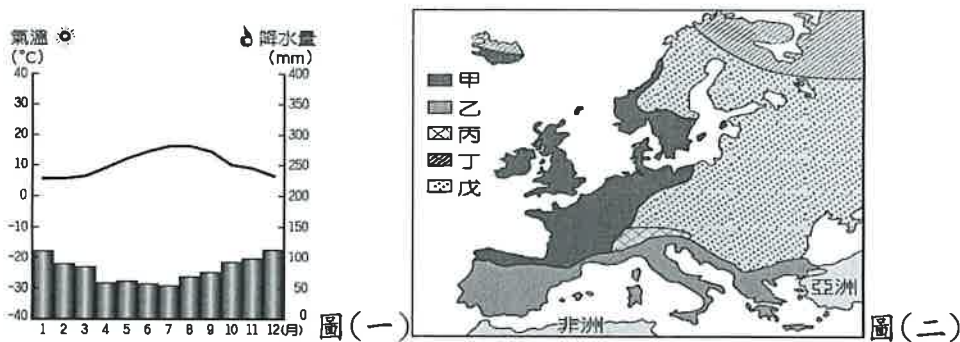
39. 北美洲為世界重要的消費市場，由於當地盛行何種商業文化，使經濟活動得以蓬勃發展？ (A) 大量生產、大量出口 (B) 大量進口、大量出口 (C) 小量生產、大量消費 (D) 大量生產、大量消費。

40. 美國的能源消耗量大，因此前副總統高爾便提出未來面臨的溫室效應問題，希望喚醒大家的危機感。請問：這種現象和下列何者關係最密切？ (A) 面積廣大、交通頻繁 (B) 機械耕作、消耗能源 (C) 經濟發達、大量消費 (D) 人口眾多、集中南部。

41. 美國墨西哥灣近年來工業相當發達，主要盛行下列哪一項工業活動？ (A) 汽車工業 (B) 紡織工業 (C) 資訊工業 (D) 石化工業。

42. 美國境內的英特爾、蘋果及微軟等皆為高科技產業的龍頭廠商，該國最主要的科技園區位於哪一個地區？ (A) 五大湖區 (B) 墨西哥灣沿岸 (C) 太平洋沿岸 (D) 大西洋沿岸。

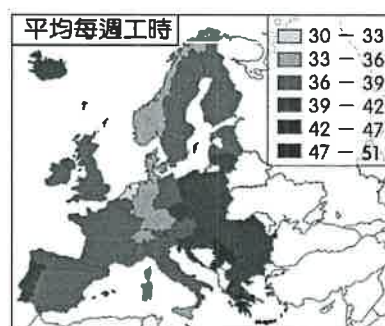
43. 歐洲某地區的氣候圖如圖(一)所示，其分布區域應位於圖(二)中何處？



(A) 甲 (B) 乙 (C) 丙 (D) 戊。

44. 阿爾卑斯山為歐洲重要的山脈，下列有關該地區的氣候敘述，何者最為正確？ (A) 阻擋西風東側乾燥 (B) 有利水氣深入內陸 (C) 冬夏季節年溫差大 (D) 氣候呈現水平變化。

45. 附圖為歐洲各國一週平均工作時數，根據附圖，下列敘述何者正確？



(A) 該分布與人口密度正相關 (B) 工時最短的國家位於北歐 (C) 歐洲西半部的福利制度相對成熟 (D) 歐洲東半部以勞動密集產業為主。