

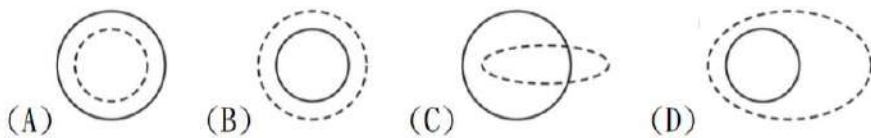
私立正義高中 112 學年度上學期第一次段考 高二 地理科試題

考試範圍：第二冊 1、2 章 【科目代號：43】 命題教師：陳亭好

班級：_____ 座號：_____ 姓名：_____

第一部分：單一選擇題(每題 2 分)

- D** 1. 某學者考證 16 世紀地中海周邊山區的景觀特色與發展，指出：「山地往往人口過剩……，山區必須週期性的向平原遷出過多的人口……，飢餓是造成居民下山的重大原因。」引文描述的內容與下列哪個概念最有關？ (A)人口轉型 (B)社會正義 (C)多元文化 (D)環境負載力。
- A** 2. 「以臺灣超商來說，大夜一晚 8 小時的營收至少要達 1 萬元，才能攤平人力、水電等成本，但多數門市其實是虧損經營，某些總部還要支付夜班補助。」以上敘述從中地理論的角度看商閥與商品圈的關係何者正確（實線為商閥，虛線為商品圈）

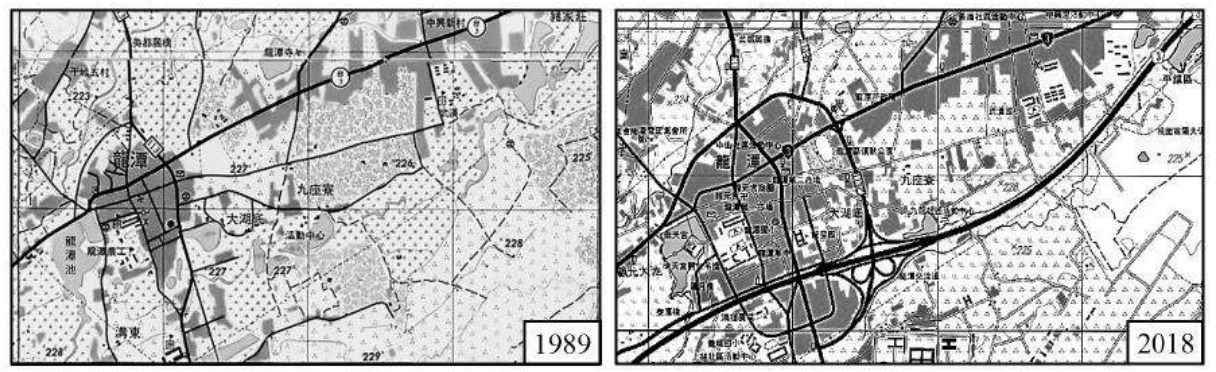


- A** 3. 下表為某區域平原中，5 個不同等級中地各自提供的商品資料。根據此表判斷下列敘述何者正確？(A)中地等級由高到低依序為乙丙丁甲戊 (B)丙中地的商品圈最大 (C)戊中地提供商品商閥最大 (D)乙中地只提供需求頻率最低的商品。

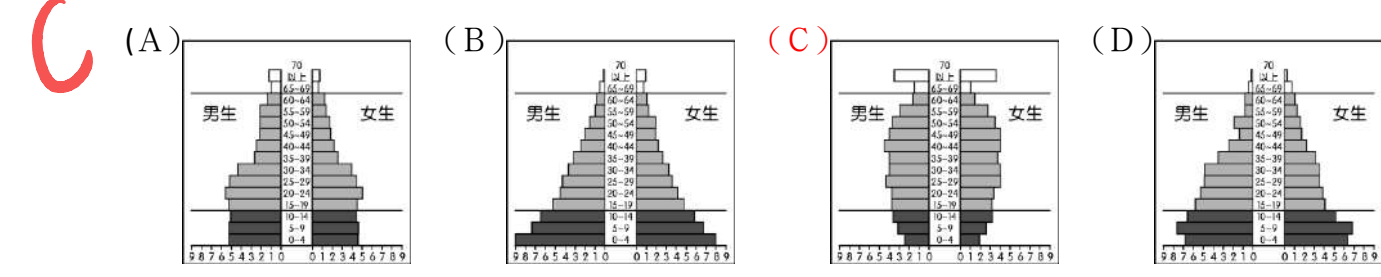
| 商品等級 中地等級 | 高 → 低 | | | | | | | | | |
|--------------|-------|---|---|---|---|---|---|---|---|----|
| | 1 | 2 | 3 | 4 | 5 | 6 | 7 | 8 | 9 | 10 |
| 甲 | | | | | | | ✓ | ✓ | ✓ | ✓ |
| 乙 | ✓ | ✓ | ✓ | ✓ | ✓ | ✓ | ✓ | ✓ | ✓ | ✓ |
| 丙 | | | ✓ | ✓ | ✓ | ✓ | ✓ | ✓ | ✓ | ✓ |
| 丁 | | | | | ✓ | ✓ | ✓ | ✓ | ✓ | ✓ |
| 戊 | | | | | | | | | ✓ | ✓ |

- C** 4. 某國政府以近 5 年的平均人口成長率來估算 5 年後的人口數，結果 5 年後發現實際人口數高於當時估計的人口數。若該國 10 年來的人口發展皆處於人口轉型模式的同一階段內，且人口並無明顯的移入移出，則該國在這 10 年間最可能處於人口轉型模式的哪一階段？ (A)低穩定階段 (B)高穩定階段 (C)早期擴張階段 (D)晚期擴張階段。

- C** 5. 圖為 1989 年及 2018 年同一地點的二萬五千分之一經建版地形圖，某生想根據此資訊來發想其研究課題，下列哪個題目最為合理？ (A)傳統地名的演變歷程 (B)移居人口對傳統信仰的衝擊



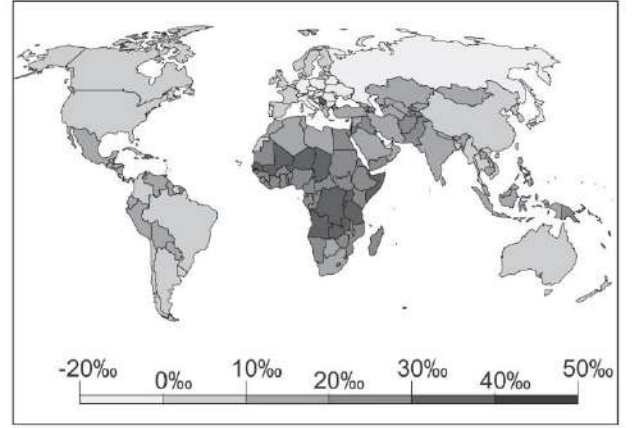
- (C)道路系統的建置與聚落發展的關係 (D)埤圳系統的興築與土地利用的關係。
- D** 6. 在中地理論中，下列哪一種關係成正比？ (A)中地的等級和個數 (B)中地的等級及人口密度 (C)商品的價格和需求數量 (D)商品的等級和商閥的大小。
7. 某國近來專注於AI技術的研發，以彌補產業缺工的問題，請問該國目前最有可能的人口金字塔為下列何者？



- D** 8. 在桃園地區有龐大的國際移工群體，主要提供北部地區在工業生產上的勞力需求，請問在桃園地區的國際移工中，其性別比最有可能為下列哪個數字？(A)100(B)90(C)98(D)130
- C** 9. 「十多年來，飯店住宿業者搶進宜蘭。礁溪屬平地溫泉，離臺北又近，2006 年到 2018 年共增加 27 家飯店。因為來宜蘭主要都是一日遊的觀光客，而民宿數量的增長與外地人來宜蘭買農地、建農舍置產投資所導致。」上為某篇新聞的報導，請問促成宜蘭一日遊觀光興起的重要道路是哪一條？ (A)中山高速公路 (B)蘇花改 (C)蔣渭水高速公路 (D)福爾摩沙高速公路。

10. 承上題，此報導中的內容，最有可能因為下列何者因素而導致？(A)都市化(B)交通革新(C)中地理論(D)邱念園
11. 2019年3月彰化市一間名為「彰化百貨」的百貨行歇業，各媒體紛紛報導此事，並以「彰化市為什麼沒有百貨公司？」為題訪問路人，有路人提到彰化人比較常去臺中逛百貨公司。上述現象最適合以下列哪個理論加以解釋？(A)邱念園 (B)推拉理論 (C)中地理論 (D)工業區位論。

12. 世界各國的人口成長率，受經濟發展與生活條件影響各有所異。右圖是聯合國公布的2015年各國人口自然增加率。在不考量社會增加率的情況下，按照該圖的成長率推斷，下列何者「人口倍時」的時間可能最短？(A)中非 (B)東歐 (C)北美 (D)東南亞。

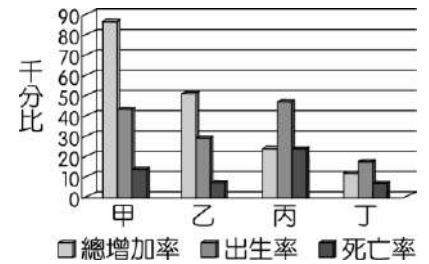


13. 「近年來，歐洲難民成為歐盟的重大難題。根據統計，2015年上半年抵達義大利、希臘、西班牙和馬爾他的移民總數已達63,000多人，多數來自厄利垂亞(Eritrea)、索馬利亞、奈及利亞、甘比亞和敘利亞、伊拉克、阿富汗等國。這些移民為了追求更好的生活，逃離戰火和貧窮，不斷經由陸路或海路進入歐洲。然而，遷徙的過程並非一帆風順，僅2015年4月地中海即發生5宗船難，釀成1,200人喪生的慘劇。」請問根據人口推拉理論，文中的船難事件屬於下列何種人口遷移因素？(A)推力因素 (B)拉力因素 (C)中間阻礙因素 (D)人口轉型因素。

14. 下表為2014年高雄市那瑪夏區、彰化縣彰化市、台北市大安區、南投縣埔里鎮4個行政區便利商店的數量分布。南投縣埔里鎮為表中的哪個行政區？(A)甲 (B)乙 (C)丙 (D)丁。

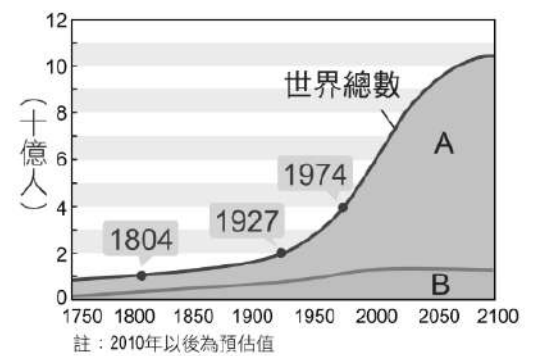
| | | | | |
|--------|----|-----|---|----|
| | 甲 | 乙 | 丙 | 丁 |
| 便利商店總數 | 82 | 135 | 1 | 46 |

15. 下圖為臺灣在1929~1989年之間每隔20年的人口統計值，其正確先後次序應為何？(A)甲乙丙丁 (B)甲丙丁乙 (C)丙甲乙丁 (D)丁甲丙乙。



16. 下列各組臺灣鄉村聚落的地名中，哪一組最有可能代表聚落附近有大量的植物群落？(A)頭城、木柵 (B)同安宅、詔安厝 (C)汕尾、沙崙 (D)竹圍、茄苳。

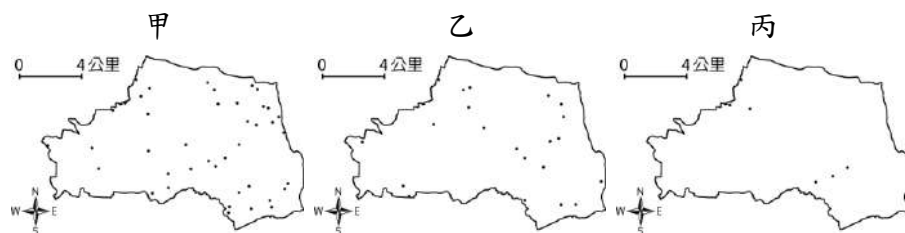
17. 關於人口金字塔的解讀，哪些是正確的？(甲)可計算出該國的人口密度；(乙)可以看出該國人口總數；(丙)能判斷出男女性別比例；(丁)可推估未來的人口成長趨勢。(A)甲乙 (B)甲丙 (C)乙丁 (D)丙丁。



18. 圖為世界人口成長示意圖，老師請同學根據圖表進行討論，請問由此圖可以得出的訊息為何？(A)由10億人增加到20億人需時123年，稱為人口替代水準 (B)A經濟發展程度高，多屬於已開發國家 (C)A因出生率高，為世界人口增加的主要來源 (D)B因經濟發展程度低，人口增加速度緩慢。

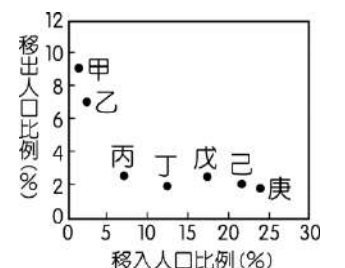
19. 「移動式經濟」成潮流！餐車有隨時更換位置的獨特經營型態，現在很多業者會透過臉書，分享每一天的營業位置，讓客人可以跟著訊息，聞香而來，在這種「類飢餓行銷」的方式下，可以吸引到嘗鮮客人。上述移動式餐車可以達到何種作用？(A)擴大商品圈 (B)擴大商閥 (C)少量多樣 (D)提升商品等級。

20. 下圖是某市區內3種不同新興零售業的空間分布圖，請問下列對甲、乙、丙3者的配對，何者正確？



- (A)甲：超級市場、乙：便利商店、丙：量販店 (B)甲：便利商店、乙：超級市場、丙：量販店 (C)甲：量販店、乙：便利商店、丙：超級市場 (D)甲：便利商店、乙：量販店、丙：超級市場

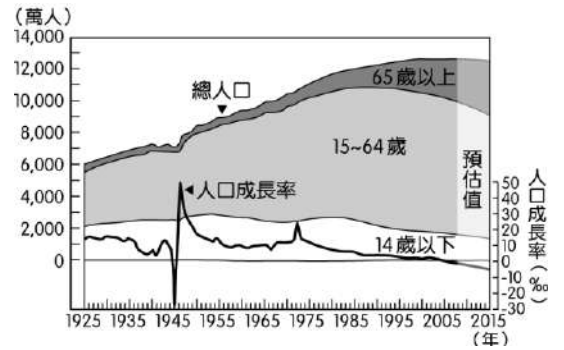
21. 下圖為甲~庚7地在2005~2010年間，移入人口比例與移出人口比例之統計資料。有關該圖之說明，下列何者正確？(A)甲地的移出人口數大於乙地 (B)庚地的人口自然增加率高於己地 (C)戊地的人口社會增加率高於丙地、丁地 (D)己地與庚地的高齡化速度高於甲地與乙地。



22. 如果將克里斯徒勒中地理論的中地，比喻作遊憩資源所在地，則如澳洲大堡礁、埃及金字塔

等世界級的遊憩資源將有下列何種特徵？ (A)觀光收益較少 (B)到訪遊客的總旅程距離較長 (C)服務範圍較小 (D)遊客來源國數目較少。

23. 下圖為日本近一個世紀以來的人口成長趨勢變化圖，請問若依此趨勢，20年後日本可能被迫採取哪些經濟發展的策略，以因應人口結構失衡的問題？(甲)加強機器人研發技術(乙)降低申請退休年齡(丙)引進外籍勞工(丁)鼓勵婦女投入職場(A)甲乙丙 (B)甲丙丁 (C)乙丙丁 (D)甲乙丁




24. 人口金字塔的型態不僅能顯示該國人口結構與人口轉型階段，同時也能反映該國社會經濟發展程度。請問：人口金字塔圖主要依據哪二項人口資料繪製而成？(甲)職業；(乙)年齡；(丙)語言；(丁)性別；(戊)宗教。(A)甲乙 (B)甲丙 (C)乙丁 (D)丙戊

25. 關於男女性別比的敘述，何者正確？ (A)重男輕女的農業社會通常性別比偏低 (B)中國性別比失衡與一胎化政策密切相關 (C)經濟發展程度高的國家，性別比偏高 (D)新生嬰兒性別比約為 105：100，代表女嬰多於男嬰。

第二部分：題組(每題 2 分)

◆ 臺灣外籍移工數持續成長，以來自印尼人數最多。假日常有眾多印尼移工在臺北車站大廳聚會以慰鄉思，對此，許多主流媒體製作「社會亂象專題報導」，引用民眾抱怨移工坐在地上不雅，且聚會影響交通動線，主張政府應明令禁止。不過，也有一些鎖定特定閱聽眾的小眾媒體，在報導中介紹席地而坐屬印尼文化，討論臺鐵可如何透過規劃，兼顧民眾聚會與車站動線暢通，更建議公共建築應在適當場所設置宗教設施以滿足移工信仰需求。對比媒體的不同角度，學者指出，我國移工人數持續成長，成為勞動力重要來源，但許多民眾對移工陌生，且對保障移工權益常採保留態度，此輿論趨向應與媒體報導有關。照片是四種宗教場所。請問：




26. 眾多印尼移工來臺的事實，最能反映臺灣和印尼哪個地理現象的差異？ (A)臺灣的土地利用比印尼集約 (B)臺灣的土地面積比印尼狹小 (C)臺灣發生天災頻率比印尼低 (D)臺灣經濟發展程度比印尼高。

27. 請問印尼移工的遷移性質說明，不符合下列何者？(A)國際遷移(B)永久性遷移(C)暫時性遷移(D)志願遷移

28. 印尼的移工大多信仰伊斯蘭教為主照片所示的宗教場所，何者最能滿足印尼移工的信仰需求？ (A)甲 (B)乙 (C)丙 (D)丁。

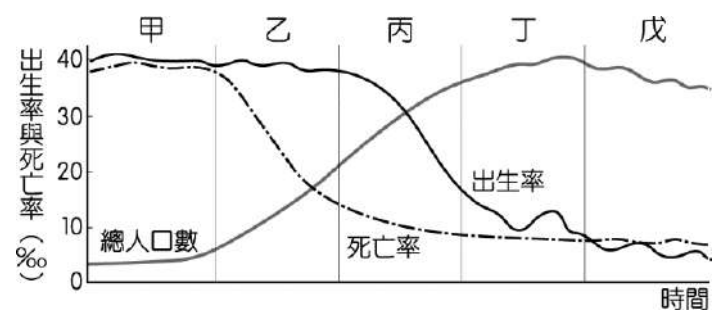
◆ 下列照片是世界四個地區的傳統住宅建築，請問：



29. 關於照片的內容何者敘述錯誤？(A)大部分可以在鄉村地區見到這些建築(B)乙建築應該會分布在較高緯地區 (C) 丙的住屋是以就地取材的方式建築(D)丁建築是為了防止冬季積雪壓垮屋頂

30. 請問丁建築最可能會分布在下列哪一個氣候區？(A)熱帶乾燥氣候(B)熱帶莽原氣候(C)熱帶雨林氣候(D)熱帶高地氣候

◆ 經濟學家提出一個令人不安的術語「人口定時炸彈」，來描述生育率和經濟成長率雙低的現象。日本是最極端的例子，過去十年總人口逐年下滑，2016年為過去117年來，第一次出現新生兒不到100萬人的紀錄，且超過65歲以上的人愈來愈多。然而日本的鄰國韓國，近期也被世界貨幣基金組織點名，若無維持人口穩定的對策，將是下一個炸彈引爆的國家；臺灣也走向人口老化趨勢，且數值貼近韓國。根據內政部2020年數據，臺灣65歲以上者占16.2%，老



化指數為 127.8%，低於日本 236.3%、德國 159.4%、法國 116.9%、英國 104.5%、韓國 129.3%。請回答下列問題：

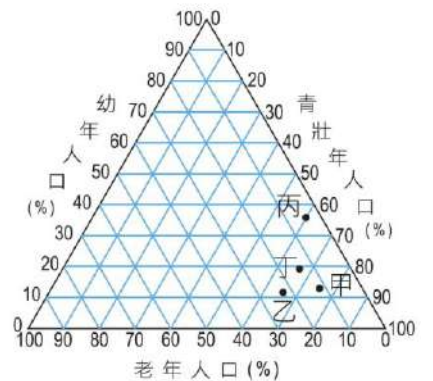
31. 日本目前的人口狀態應已進入下圖中人口轉型中的哪一階段？(A)甲 (B)乙 (C)丙 (D)戊。
32. 影響老化指數的因子，除了老年人口數之外尚有哪一因素？(A)出生率 (B)死亡率 (C)幼年人口數 (D)老年人口數。
33. 請問造成此階段死亡人口近年攀升的主因應為(A)長照制度的不健全 (B)平均壽命延長 (C)無法參與 WHA 會議 (D)愛滋病罹病率上升。
34. 請問因應這樣的社會狀況，應該提出何項政策計畫？(A)推動晚婚晚育計畫(B)廣設高中與大學(C)完善老齡安養計畫(D)提出家庭計畫

◇ 根據內政部統計資料，我國人口年齡結構推估如下表所示，請問：

| 年份 | 幼年人口(%) | 壯年(%) | 老年(%) |
|--------|---------|-------|-------|
| 2000 年 | 21.1 | 70.3 | 8.6 |
| 2010 年 | 15.7 | 73.6 | 10.7 |
| 2020 年 | 12.7 | 71.3 | 16.0 |
| 2030 年 | 11.4 | 64.7 | 23.9 |

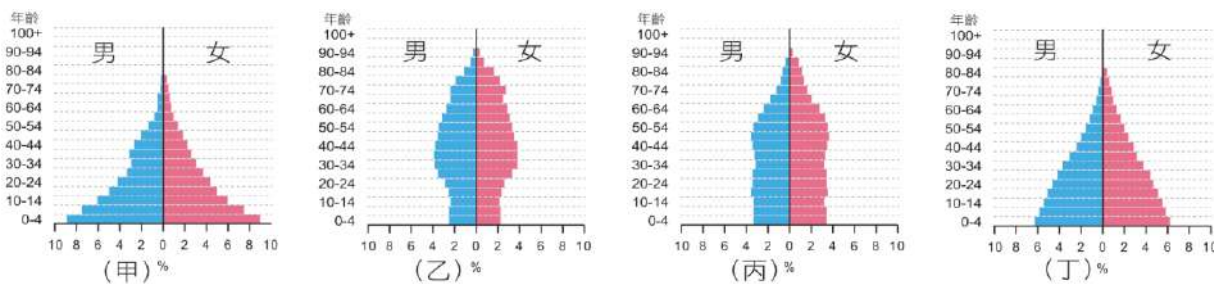
35. 哪一年的扶養比最高？(A)2000 年 (B)2010 年(C)2020 年 (D)2030 年。
36. 根據表中資料，下列敘述何者正確？(A)扶幼比先升後降 (B)死亡率持續下降 (C)2010 年人口紅利最顯著 (D)2020 年進入超高齡社會。

◇ 附圖為四個國家人口年齡結構的三角圖解，請問：



37. 哪一個國家開發程度可能最高？(A)甲 (B)乙 (C)丙 (D)丁。
38. 目前「丙」國最主要的人口問題是？(A)壯年人口負擔沉重 (B)出生率偏低 (C)人口分布不平均 (D)高齡人口比例偏高。

39. 請問丙國國內的發展狀況最可能對應下列哪一個人口金字塔？(A)甲(B)乙(C)丙(D)丁

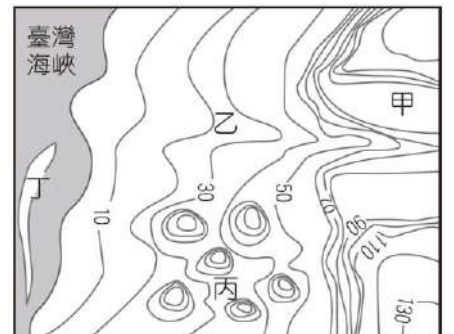


◇ 加油站對通勤族來說，是生活中必不可少的一部份，但是在偏鄉地區的加油站，數量卻很少，消費者往往需要行駛較長的距離才能夠滿足加油的需求，但是中油公司也指出，偏鄉地區的加油站大部分是剛好收支平衡，增設加油站需要保證有一定的營運成本，否則目前沒有增加據點的打算，請問：

40. 請問根據上文中，中油公司不增設加油據點的原因，與何者最有關聯？(A)商闖(B)商品圈(C)中地等級(D)商品等級
41. 請問何者可能是偏鄉地區加油站的特色？(A)商闖小於商品圈(B)商闖範圍極小於商品圈(C)商闖等於商品圈(D)商闖大於商品圈

◇ 附圖為臺灣某地區的等高線地形圖，請根據圖片回答問題：

42. 請問早期漢人移民至該地區時，為了選擇「地勢平坦、取水方便、無水患滯災之處」，建立聚落，則應以何地區為較佳選擇？(A)甲 (B)乙 (C)丙 (D)丁。
43. 請問哪一個聚落最有可能經常因河川氾濫沖垮農田，而築有堤防以保護聚落與田地？(A)甲(B)乙(C)丙(D)丁

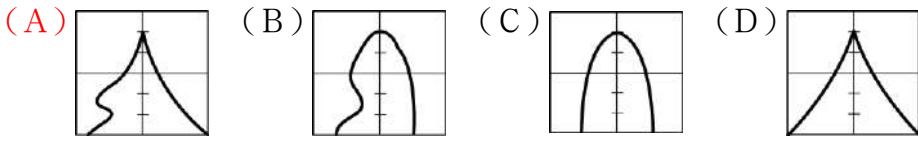


◇ 「1840 年代是古巴解奴的高峰期……持續的黑奴暴動事件使勞動人口減少，大大影響經濟。西班牙殖民當局便鼓勵歐洲移民古巴，以振興農業。然而歐洲新移民大部分移入阿根廷、智利等經濟較為發達的地區，即使移入古巴也不願從事蔗園的勞力工作。……什麼樣的人可以取代黑奴呢？……中英鴉片戰爭後，中國門戶大開，西方列強聯袂侵華，迫使中國開放沿海港埠通商。……當中國門戶大開之際，同時也為人口販子開了方便之門，被拐騙擄掠至中南美洲的華工以廣東人最多，福建人次之。人口販子大肆在澳門、香港、廈門、汕頭、廣州等地設置名為 Barracon 的招工館，招募中國契約勞工，亦即苦力。……據統計 1847 ~ 1870 年間共數十萬中國苦力被輸入美洲各地；其中被輸往古巴的勞工約 14 萬 3 千人，實際上只有 12 萬 6 千人抵達目的地，其他 1 萬 7 千則死於航運途中。」請

回答下列問題：

D 44. 文中提到「被拐騙擄掠至中南美洲的華工以廣東人最多，福建人次之。」請問廣東、福建地區有哪些推力，使人口向外遷移？(甲)家鄉山多田少，無地可耕(乙)航運發達，交通便利(丙)農場和礦區開發需求人力(丁)人口過剩，糧食不足(戊)地狹人稠，普遍貧窮 (A)甲乙丙 (B)乙丙丁 (C)丙丁戊 (D)甲丁戊。

A 45. 當大批外來勞力進入古巴時，古巴的人口金字塔最可能出現何種模式？



第三部分：混合題（共6分）

位置

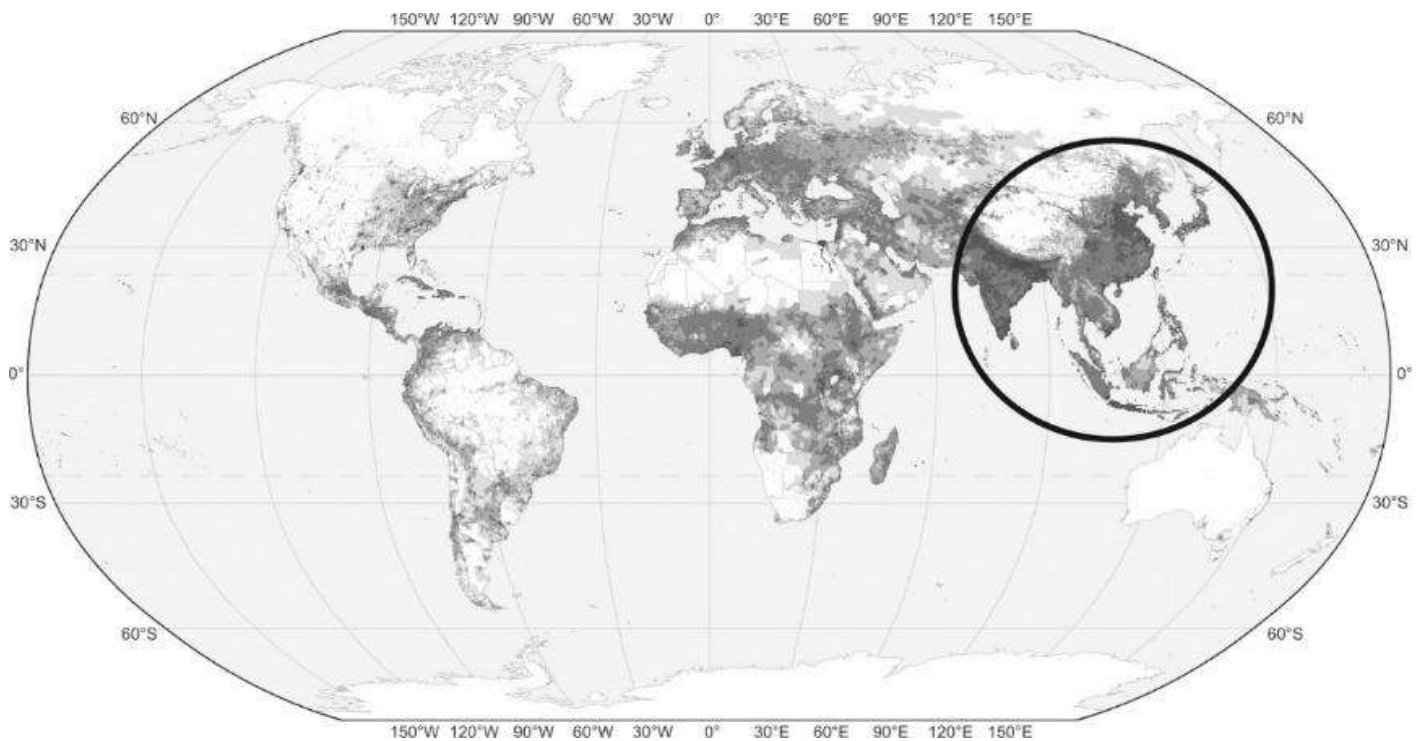
1. 高雄縣市在民國 39 年行政區域調整為高雄縣。有過去的工業發展為基礎，又鄰近高雄港，原料進口便利，因政策設立了許多工業區，民國 90 年更成立了路竹科學園區。近年來，高雄縣市的發展正朝向「綠色」、「生態」、「科技」、「文化」及「自然」的方向邁進，民國 99 年縣市合併成為大高雄都，持續推廣觀光、文化與科技等綠色產業，高雄全年陽光普照、氣候宜人，同時還包含許多特殊的地形景觀，高雄市成功利用其豐富的歷史人文、山海資源，發展成為名副其實的觀光都會，許多的景點值得探索旅遊，留下美好的難忘回憶。

(1) 上述文章概略簡述高雄的發展條件與整體發展的狀況，請問在文章中，哪一段文字說明了高雄的「位置」與「地點」的條件？(共 4 分)

「位置」：高雄港 / 「地點」：陽光普照氣候宜人。

2. 某大洲的東部地區(圖中圈起區塊)，自古以來即是人口最為稠密的區域，直到現在，此大洲的總人口數約佔世界的 60% 左右，下圖為世界人口密度圖的分布，請問：

特殊地形、山海資源



(1) 該大洲的人口稠密區域，大部分屬於什麼氣候？(2 分) 季風

(2) 造成該大洲地區人口眾多的原因有哪些，請至少寫出兩項。(2 分)

「氣候適宜稻米種植」(2) 開發早 (3) 人口基数又多 (4) (擇二)

=====恭喜你完成這份考卷！再回頭檢查一次吧！=====

| | | |
|----|-----|--|
| 1. | 地點 | |
| | 位置 | |
| 2. | (1) | |
| | (2) | |