

高雄市正義中學國中部 112 學年度第一學期第二次期中考歷史科試題卷

(國三) 命題教師：鄭淑芹

劃卡說明：科目代碼：04

班級代碼：班級代碼：一班畫 01 二班畫 02 三班畫 03

年 班 號 姓名

一、單一選擇題 (50 題，一題 2 分，共 100 分)

1. ( ) 一九一七年以後，造成第一次世界大戰，「東線無戰事」的是指哪一史實？ (A) 美國參戰 (B) 義大利投降 (C) 俄國退出 (D) 戰局的僵持。

答案：(C)

2. ( ) 如圖是一幅反映歐洲近代國際情勢的政治漫畫，其中的含義顯示的時代背景是 (A) 普法戰爭時兩方的針鋒相對 (B) 第一次大戰前兩大軍事聯盟對立 (C) 瓜分非洲時各國的利害衝突 (D) 第二次大戰時兩大交戰陣營對抗。



答案：(B)

3. ( ) (甲)係由德國首先引發 (乙)美國中途才參戰 (丙)中國未曾參與戰爭 (丁)同盟國獲得最後勝利。上列關於第一次世界大戰的敘述，哪些項目是不正確的？ (A)(甲)(乙)(丙) (B)(乙)(丙)(丁) (C)(甲)(乙)(丁) (D)(甲)(丙)(丁)。

答案：(D)

解析：(甲)奧塞之戰；(丁)協約國。

4. ( ) 比較國際聯盟與聯合國，下列何者錯誤？ (A)國際聯盟總部設在日內瓦；聯合國總部設在紐約 (B)國際聯盟沒有武力，因此制裁力薄弱；聯合國設有安理會，可以制裁侵略者，維護國際和平 (C)兩個組織的最佳倡導者都是美國 (D)兩個組織因為美國的擁護而成效彰顯。

答案：(D)

解析：由於美國並未加入國際聯盟，使得維護國際和平的成效不彰。

5. ( ) 第一次世界大戰後期，俄國退出戰場，是因為發生哪一次革命？ (A)二月革命 (B)七月革命 (C)十月革命 (D)十二月革命。

答案：(C)

解析：(C)一九一七年。

6. ( ) 在美國芝加哥的街頭上，失業者在救濟站前大排長龍，他們的工廠停工、商店關門、銀行倒閉。請問：這種景象出現在什麼時候？ (A)美國獨立建國之初 (B)第一次世界大戰前夕 (C)兩次世界大戰之間 (D)第二次世界大戰之後。

答案：(C)

解析：戰間期的美國有經濟大恐慌。

7. ( ) 從美國的歷史發展來看，經濟大恐慌時的貿易保護政策，應該是源自何種主義？ (A) 孤立主義 (B) 門戶開放政策 (C) 自由貿易 (D) 軍國主義。

答案：(A)

8. ( ) 下列有關德國歷史的演變，請依時間先後順序排列 (甲)德意志帝國 (乙)普魯士王國 (丙)神聖羅馬帝國 (丁)納粹德國 (A)(甲)(乙)(丙)(丁) (B)(乙)(甲)(丁)(丙) (C)(丙)(丁)(乙)(甲)(D)(丙)(乙)(甲)(丁)。

答案：(D)

9. ( ) 第二次世界大戰對當今世界局勢，仍然具有相當的影響力。在大戰初期，軸心國的一舉一動，都牽扯到整個戰局的發展。請問：第二次世界大戰前夕，被德國併吞的兩個國家是 (A)捷克、匈牙利 (B)奧國、波蘭 (C)捷克、波蘭 (D)奧國、捷克。

答案：(D)

10. ( ) 第二次世界大戰晚期召開的會議——這個會議可說是「蘇聯外交成功的頂點，相對地亦是美國姑息政策的低點」，這是指哪一個會議？ (A)雅爾達會議 (B)德黑蘭會議 (C)慕尼黑會議 (D)開羅會議。

答案：(A)

11. ( ) 第二次世界大戰期間，導致亞洲與歐洲兩大戰場合而為一的是下列哪一事件？ (A) 日本發動九一八事變，進占東北 (B) 德國攻擊波蘭，英、法宣布參戰 (C) 德國突擊蘇聯，其前鋒部隊直抵莫斯科 (D) 日本偷襲美國在太平洋的海軍基地珍珠港。

答案：(D)

解析：日軍偷襲珍珠港，使中、美、英、蘇等同盟國對抗軸心國的局面正式形成。

12. ( ) (甲)德國對凡爾賽條約的不平 (乙)經濟大恐慌的衝擊 (丙)國際聯盟無法發揮制裁效果 (丁)美國對侵略者的姑息與英、法的孤立政策。上列哪些是促成第二次世界大戰爆發的原因？ (A)(甲)(乙)(丙) (B)(乙)(丙)(丁) (C)(甲)(乙)(丁) (D)(甲)(丙)(丁)。

答案：(A)

解析：美—孤立；英法—姑息。

13. ( ) 「對於許多美國人來說，一九六〇年代的戰事簡直是一場噩夢；當時為了一個遙遠

的亞洲國家，犧牲了許多美國子弟的生命，但他們的死亡卻似乎顯得毫無意義。」  
請問：文中所提到的亞洲國家為何？ (A)日本 (B)馬來西亞 (C)韓國 (D)越南

《答案》D

14. ( ) 西元1948年，英、法、荷等國簽訂為期50年的共同防禦公約，這個舉動在蘇聯看來，認為西方國家有意與共產國家對抗，於是封鎖了下列哪一個城市，造成歐洲局勢緊張？ (A)巴黎 (B)倫敦 (C)羅馬 (D)柏林。

《答案》D

15. ( ) 第二次世界大戰後，促使歐洲經濟快速復興的主要原因為何？ (A)民族自決原則的實現 (B)聯合國的經濟協助 (C)歐洲復興計畫的援助 (D)殖民地的經濟貢獻

《答案》C

16. ( ) 墨索里尼與希特勒取得政權有其共同的背景，下列敘述正確的有(甲)戰敗和約的屈辱(乙)都以武力發動政變(丙)經濟極端困難(丁)人民對政府的不滿  
(A)(甲)(乙)(B)(甲)(丙)(C)(乙)(丁)(D)(丙)(丁)。

答案：(D)

【解析】：(甲)希特勒；(乙)墨索里尼。

17. ( ) 政局紛亂的巴爾幹半島，在歷史上曾先後被哪些政權所統治？ (A)希臘、亞述、波斯、日耳曼 (B)希臘、羅馬、拜占庭、土耳其 (C)巴比倫、羅馬、亞歷山大、拜占庭 (D)希臘、羅馬、波斯、土耳其。

《答案》B

18. ( ) 甲午戰爭、日俄戰爭以及一次大戰，三者影響中國甚鉅，其共同的影響為何？ (A)中國東北皆淪為戰場 (B)都造成中國藩屬國的喪失 (C)均迫使中國割地賠款 (D)皆促進中國的救國運動

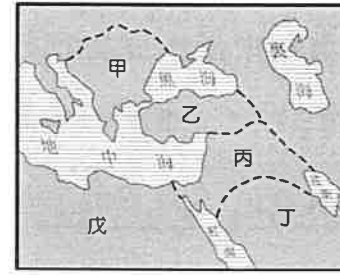
答案：D

解析：維新運動、立憲運動、五四運動

19. ( ) 第一次世界大戰，於1917年出現關鍵性的發展，主要是指何事？ (A)美國因國內發生革命退出、俄國參戰 (B)俄國因國內發生革命退出、美國由中立轉為參戰 (C)俄國因國內發生革命退出、日本經明治維新後參戰 (D)奧國退出、美國由中立轉為參戰

答案：B

20. ( ) 附圖分為五區，用甲至戊表示。本世紀以來，圖內各區發生許多大事，對世界局勢影響至為深遠。請問：第一次世界大戰在哪一區爆發？ (A)甲 (B)乙 (C)丙 (D)丁



答案：A

21. ( ) 巴黎和會中雖提出了民族自決的原則，但是卻並未完全執行，使得國際局勢仍然動盪不安。請問：下列有關巴黎和會的疏失，何者敘述錯誤？ (A)主要由「三巨頭」控制會議 (B)德、奧等國被視為戰敗國不得出席 (C)俄國因中途退出，未被邀請 (D)山東主權歸還給中國

答案：D

22. ( ) 小惟參觀「德國風暴80年」的照片展，其中幾張照片令人印象深刻：(甲)兒童們將一疊疊的真鈔當玩具堆積積木；(乙)乞丐對馬路上50000馬克的鈔票不屑一顧；(丙)婦人把一張張的鈔票丟進火爐裡當燃料；(丁)男人拿許多大皮箱、大提包去領薪水。奇怪！這些情景應該發生於德國史上哪一階段？ (A)鐵血政策時期 (B)普法戰爭後 (C)柏林會議後 (D)第一次世界大戰後，納粹黨崛起前

答案：D

23. ( ) 西元一九三九年九月，由於德國侵略圖中哪一區的國家而觸發第二次世界大戰？ (A)甲(B)乙(C)丙(D)丁。



答案：(B)

【解析】：乙—波蘭。

24. ( ) 下列有關第二次世界大戰的敘述，何者正確？ (A)大戰的禍首是日、德、義三個侵略者組成的協約國，企圖征服全世界而引起的戰爭(B)姑息主義是釀成大戰的原因之一(C)中國英勇抗戰，曾派軍協助英美聯軍收復菲律賓(D)三個侵略者中以德國最為頑強，是最後一個向同盟國投降的國家。

答案：(B)

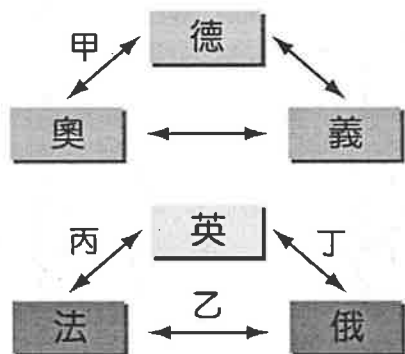
【解析】：(A)軸心國；(D)日本。

25. ( ) 第二次世界大戰後，民主與共產兩集團互相對抗，蘇俄與東歐共產國家成立哪一組

織與西歐國家相抗衡？ (A)北大西洋公約組織(B)華沙公約組織(C)歐洲聯盟(D)經濟互助委員會。

答案：(B)

26. ( ) 老師將第一次世界大戰前歐洲列強組成的「三國同盟」與「三國協約」畫成簡圖；下列相關敘述何者錯誤？ (A)甲關係是因為俾斯麥助奧取得波、赫兩省而造成俄國不滿，奧聯德自保 (B)乙關係是由於德皇威廉二世主張「大斯拉夫主義」威脅俄國的「大日耳曼主義」，遭孤立的法國拉攏俄國結盟 (C)丙與丁關係建立之因是威廉二世提出「大海軍主義」、「世界政策」，對英國產生威脅 (D)三國同盟的形成較三國協約早。



《答案》B

詳解：(B)德國主張的「大日耳曼主義」威脅到俄國主張的「大斯拉夫主義」。

27. ( ) 西元1919年，德國簽訂一項條約，其中部分內容為：「萊茵河東岸五十公里內須解除武裝；德國將部分領土割給比利時；德國將上西利西亞工業區割給波蘭；賠款二百億金馬克。」下列關於此項條約的敘述，何者錯誤？ (A)「萊茵河東岸五十公里內須解除武裝」與限制軍備的要求有關 (B)條文要求苛刻的原因是將德國視為戰爭禍首 (C)賠款數字過於龐大，超過德國人民負擔 (D)條約內容令德國民眾不滿，為日後德國掀起第一次世界大戰埋下伏筆。

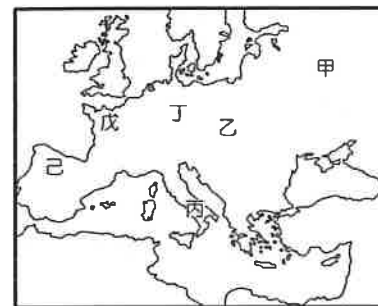
《答案》D

詳解：(D)第二次世界大戰。

28. ( ) 大雄與哆啦A夢搭乘時光機回到二十世紀初的歐洲，他們會看到下列哪一事件最先發生？ (A)德實施無限制潛艇作戰 (B)奧對塞宣戰 (C)「三國協約」成立 (D)俄退出戰場

答案：C

29. ( ) 第二次世界大戰所造成的人類浩劫，令人不勝歎歎，屬於軸心國陣營的歐洲國家位於圖中哪兩區？ (A)甲、乙(B)丙、丁(C)乙、戊(D)己、戊。



答案：(B)

解析：丙—義大利；丁—德國。

30. ( ) 從一九八〇年代末期開始，因為長期以來民生困苦，加上戈巴契夫的改革，導致了哪個地區的政權接二連三的垮臺？ (A)獨立國家國協 (B)西歐 (C)以色列 (D)東歐。

《答案》D

31. ( ) 大華最愛看戰爭片，他到影片出租店租回一部《搶救雷恩大兵》，對片中逼真的槍戰場景和爆破場面印象深刻。包裝盒上說明本片依諾曼第登陸中的真實故事改編，影片亦在原地進行拍攝。請問：該片拍攝地點位於何處？ (A)東歐 (B)西歐 (C)南歐 (D)北非。

《答案》B

詳解：諾曼第位於西歐的法國。

32. ( ) 「在經歷過古巴危機後，雙方體認到戰爭可能因為一時的擦槍走火而釀成無可挽回的後果，因此決定建立「熱線」機制，使彼此的領袖可以在第一時間直接溝通，避免不必要的誤會，也因此成功地阻止數次戰爭的爆發。」請問：文中所提到的「雙方」，指的是哪兩個國家？ (A)美國和德國 (B)日本和美國 (C)中國和美國 (D)美國和蘇聯。

《答案》D

33. ( ) 第二次世界大戰後，為了遏止共產主義繼續在歐洲擴展，美國與民主國家組成了哪一軍事聯盟？ (A)華沙公約組織(B)中部公約組織(C)東南亞公約組織(D)北大西洋公約組織。

答案：(D)

34. ( ) 「法國一日無同盟，則德國可高枕無憂」，這句話最有可能是下列何人的言論？ (A)拿破崙 (B)希特勒 (C)俾斯麥 (D)威廉一世

答案：C

35. ( ) 第二次世界大戰後，歐洲經濟得以快速復甦，得力於美國實行 (A)杜魯門主義(B)門羅主義(C)馬歇爾計畫(D)姑息主義。

答案：(C)

36. ( ) 請閱讀下列資料，然後回答問題。資料一：「他對英國既愛又恨，一直計畫與之競爭。從繼位開始，就策劃成立一支能與英國抗衡的海軍艦隊，他也要仿效英國，

擴張海外殖民地。」資料二：「當亞洲地區發生衝突，他積極介入，並趁機聯合其他國家，干涉日本的軍事行動，更以此為要脅，取得在亞洲的殖民地。」請問：資料中的他是大戰前哪一個國家的君主？ (A)美國 (B)日本 (C)德國 (D)俄國

答案：C

37. ( )圖(一)及圖(二)分別是兩個不同時代的疆域圖。請問：由圖(一)演變至圖(二)的主要因素是什麼？ (A)拿破崙戰爭(B)普法戰爭(C)第一次世界大戰(D)第二次世界大戰。



圖(一)



圖(二)

答案：(C)

38. ( )德國的「第二帝國」即指德意志帝國，請問：此帝國的建立與滅亡各在哪一次戰爭後？ (A)第一次世界大戰、第二次世界大戰(B)普法戰爭、第一次世界大戰(C)英法百年戰爭、第一次世界大戰(D)普法戰爭、第二次世界大戰。

答案：(B)

39. ( )小趙在閱讀第一次世界大戰歷史資料時，見到一段文字：「1915年6月，波蘭王儲斐迪南大公夫婦，被塞爾維亞恐怖分子暗殺身亡，隨後，塞國向奧國宣戰，第二次世界大戰戰火於是蔓延開來……。」請問：這段文字中有幾個錯誤？ (A)一個(B)兩個(C)三個(D)四個。

答案：(D)

**解析**：第一次世界大戰時間是1914年6月，奧匈帝國王儲斐迪南大公夫婦，被塞爾維亞恐怖分子暗殺，奧國向塞國宣戰。

40. ( )表中的(甲)、(乙)是二十世紀前期德國在兩個不同階段的經濟年平均成長率。請問：由(甲)階段演變成(乙)階段的關鍵因素是什麼？ (A)開羅會議(B)柏林會議(C)巴黎和會(D)雅爾達會議。

項目 \ 階段	(甲)	(乙)
國民生產毛額	2.8	0.4
每一國民平均所得	1.7	-0.1
每一雇員平均產量	1.6	-0.2

答案：(C)

**解析**：因巴黎和會的凡爾賽條約要求德國負起鉅額賠款所造成。

41. ( )小王見到一則漫畫，內容是捷克人與德國人的對話。捷克人：「我們在二次大戰前被英國給出賣了！」德國人：「沒辦法，誰教英國要與我們簽下這樣的條款，害你們喪失了蘇臺德區，也養大我們向外侵略的胃口！」請問：德國人口中所謂的條款為何？ (A)柏林協定(B)雅爾達協定(C)慕尼黑協定(D)莫斯科協定。

答案：(C)

42. ( )一九三〇年代，美國羅斯福總統大力推行「新政」，推動社會福利，調整外交策略，穩定了經濟局勢，當時推行此政策的主要背景為何？ (A)希特勒積極對外擴張(B)美、蘇陷入長期冷戰局面(C)黑奴解放後產生經濟問題(D)一次大戰後經濟大恐慌發生。

答案：(D)

43. ( )第一次世界大戰後，發生全球性經濟大恐慌，此時正值中國哪一時期？ (A)軍閥亂政時期(B)北伐時期(C)北伐後黃金十年(D)抗戰時期。

答案：(C)

**解析**：開始於1929年正值民國18年。

44. ( )1929年十月下旬，美國因哪一事件而引發空前的經濟危機，導致世界經濟大恐慌？ (A)紐約華爾街股票崩盤(B)全國工人大罷工(C)總統胡佛宣布實行關稅壁壘政策(D)國會通過總統彈劾案，政治動盪不安。

答案：(A)

45. ( )1962年爆發的古巴危機，與下列哪一歷史背景有關？ (A)蘇聯經援古巴，使古巴對美國造成威脅(B)古巴封鎖美國沿海港口，影響美洲經濟發展(C)古巴與美國為了爭奪開採墨西哥灣內蘊藏的石油爆發的危機(D)蘇聯在古巴興建一處飛彈基地，使美國深感威脅

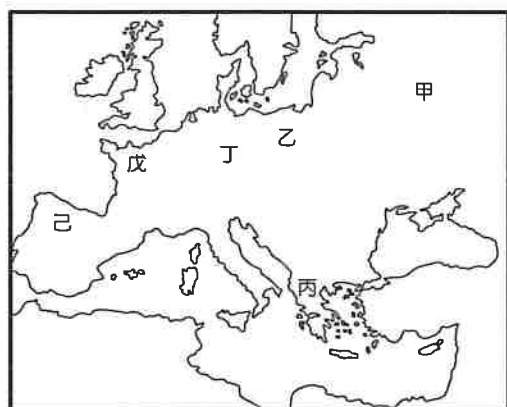
答案：D

46. ( )美國介入越南戰爭前後長達二十年之久，投入可觀的兵力和財力，但最後何以美軍全部撤離越南？ (A)北越擁有強大火力(B)安理會的決議(C)蘇聯強力介入越戰(D)美國國內反戰情緒高漲

答案：D

### 題組

第二次世界大戰所造成的人類浩劫，令人不勝歎。大戰結束至今五十年間，世人猶無法從戰爭中領受教訓。區域性的戰爭、屠戮，此起彼落，真不知道「要多少的死亡，才得使人察覺已有太多的人死去」。回顧此次大戰，請回答歐洲方面的問題（請參考如圖作答）：



47. ( ) 一九三九年九月由於德國侵略圖中哪一區的國家而觸發戰爭的？ (A)甲區(B)乙區(C)丙區(D)丁區。
48. ( ) 一九四四年六月英美聯手反攻德國，開闢第二戰場，所選定的登陸地點在哪一區？ (A)丙區(B)丁區(C)戊區(D)己區。

答案：(1)(B)；(2)(C)

解析：(1)波蘭。

(2)法國。

### 題組

西元1939年9月3日晚上，英、法對德國宣戰，揭開第二次世界大戰的序幕。這場戰爭並非突然發生的，早在5個月前，英國就通過法律開始徵兵，可見各國早已著手備戰。請問：

49. ( ) 英、法兩國對德宣戰的直接原因為何？ (A)德、義、日組成三國軸心 (B)德軍入侵波蘭 (C)美國鼓吹歐洲大戰 (D)國際聯盟命令英、法出兵。
50. ( ) 當戰爭發生之際，美國的態度如何？ (A)維持中立 (B)參加德國一方 (C)參加英、法一方 (D)準備籌組聯合國予以制裁交戰國。

《答案》(1)B (2)A