

高雄市正義中學國中部 112 學年度第一學期第二次期中考歷史科試題卷

(國二) 命題教師：鄭淑芹

劃卡說明：科目代碼：04 班級代碼：一班畫 01 二班畫 02

____年 ____班 ____號 姓名_____

一、 單選題：(共 50 題，一題 2 分)

() 1. 明朝末年女真崛起，使得明朝腹背受敵，如果「背」指的是女真，那「腹」指的是下列何者？ (A)倭寇 (B)黃巾賊 (C)蒙古 (D)流寇。

《答案》D

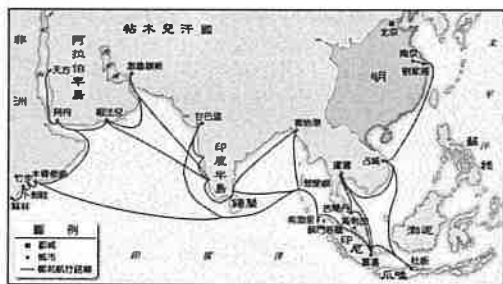
() 2. 隨著連續劇「喬家大院」的走紅，一些人對於「山西商人」的研究與關注也日益提升。請問：「山西商人」最早是在什麼時候成為中國重要的商幫？ (A)宋代 (B)元代 (C)明代 (D)清代。

《答案》C

() 3. 明清時期政府准許的對外貿易活動，僅限於各國使節的來華朝貢。請問：下列敘述何者錯誤？ (A)各國須接受中國的冊封，才能與中國通商 (B)「朝貢」是將進行貿易者視為平等往來的兩國 (C)西班牙、荷蘭、英國人與中國通商，政府亦將他們的目的視為朝貢 (D)「朝貢貿易」是將外國對中國的朝貢和互市貿易合而為一。

《答案》B

() 4. 下圖是鄭和下西洋的地圖。這張地圖說明了整個明朝的對外發展的興盛。下列有關鄭和下西洋的敘述何者正確？ (A)鄭和下西洋主要的目的是武裝殖民 (B)鄭和下西洋最遠到達義大利的威尼斯 (C)鄭和下西洋使中國更加了解東南亞地區，促進對於該地區的移民 (D)鄭和下西洋使得明朝解除海禁，大力向海洋發展。



《答案》C

詳解：(A)宣揚國威。(B)非洲東岸。(D)一樣實施海禁。

() 5. 明清時期中國棉紡織業的重心，位於下列何處？ (A)黃淮平原 (B)長江下游三角洲 (C)長江中游 (D)四川盆地。

《答案》B

() 6. 小明遊北京故宮—紫禁城，欣賞古代宮廷之美。領隊先生介紹北京是三代古都。請問：歷史上哪些朝代曾定都北京？ (A)宋、元、明(B)元、明、清(C)

漢、唐、明(D)漢、唐、清。

答案：(B)

() 7. 明朝建立之後，國家所面臨的重要外患有哪族群？ (甲)蒙古 (乙)契丹 (丙)女真 (丁)倭寇 (戊)党項 (A)甲乙丙 (B)甲丙丁 (C)乙丙丁 (D)乙丁戊。

《答案》B

() 8. 雍正皇帝禁教，一方面是因為耶穌會教士介入宮廷政爭，而一方面也是來自於羅馬教皇的壓力。請問：這股壓力為何？ (A)教皇禁止中國信徒祭祖祀孔 (B)禁止將歐洲科技傳入中國 (C)羅馬教皇想聯合葡萄牙消滅中國 (D)羅馬教皇希望天主教成為中國的國教。

《答案》A

() 9. 下圖是明末耶穌會來華傳教，中國天主教信徒增加的情形，如何解釋傳教成功，信徒增加的主要原因？ (A)明代政策獎勵、支持 (B)知識分子、士紳階級一致支持 (C)策略成功：允許中國教徒祭祖祀孔 (D)與民間信仰混合，易於流傳。

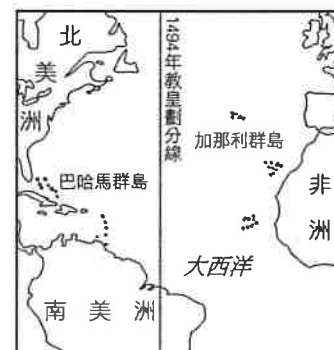
年代	人 數
1596	百餘人
1605	千餘人
1610	約 2500 人
1615	約 5000 人
1617	約 13000 人
1642	約 38000 人

答案：(C)

() 10. 明神宗年間，某位傳教士來到中國，他學習中國語言、讀儒家的經典、穿戴儒服儒冠，明神宗准許他在北京設立教堂傳教。請問：此位傳教士是誰，屬於哪一個教派？ (A)湯若望；道教 (B)南懷仁；耶穌會 (C)利瑪竇；耶穌會 (D)徐光啟；佛教。

《答案》C

() 11. 下圖是哪兩國對殖民勢力的畫分圖？ (A)英、法 (B)西、葡 (C)法、荷 (D)英、荷。



《答案》B

() 12. 某正史刑法志有言：「公卿之辱，前所未有，……四十餘年杖殺朝士，倍蓰前代。」

請問：這是何朝的政治怪現象？ (A)唐代(B)宋代(C)元代(D)明代。

答案：(D)

- ()13. 山河探險協會為重現「鄭和下西洋」的壯舉，他們仿造了一艘明代木船，並募集船員，將從鄭和首航起點——江蘇省太倉縣瀏河鎮出發，追尋鄭和遠航的路線。請問：他們出發後，行程不可能會經過以下哪一個地方？ (A)馬來西亞 (B)日本 (C)非洲東岸 (D)印度。

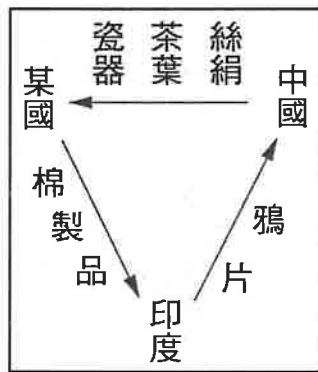
《答案》B

詳解：鄭和遠航的路線並未到達日本。

- ()14. 樂樂對於清史非常有興趣，於是她準備在暑假將八冊的《康熙大帝》看完。下列哪一個事件，不會是這套書的主題？ (A)三藩之亂 (B)利瑪竇來華 (C)將臺灣收入版圖 (D)解除海禁政策。

《答案》B

- ()15. 附圖是十九世紀前期某國與中國的三角貿易關係，箭頭所示代表輸出的商品，圖中的「某國」應是下列哪一國？ (A)法國 (B)英國 (C)荷蘭 (D)西班牙



答案：B

解析：英國見中國吸食鴉片者日多，販運可獲大利，乃在印度廣為種植，傾銷中國

- ()16. 小美某日逛書店，看見一書名為：「1644年，這一年中國有三個皇帝」。小美即刻想起這應是指明末清初的政治亂局。請問：這三個皇帝不包括下列何者？ (A)明思宗崇禎(B)李自成(C)清聖祖康熙(D)清世祖順治。

答案：(C)

- ()17. 清初封明降將吳三桂、耿仲明、尚可喜為王，稱為「三藩」。其中吳三桂被封為三藩之一的主要原因為何？ (A)收復臺灣(B)平定新疆(C)引清兵入關 (D)消滅南明勢力。

答案：(C)

- ()18. 下列關於滿清的歷史發展，哪一項敘述不正確？ (A)滿清是女真族所建的朝代(B)努爾哈赤統一諸部，建國號金(C)皇太極改國號為清(D)清世宗平三藩之亂、攻克臺灣，終於統一全中國。

答案：(D)

解析：(D)清聖祖。

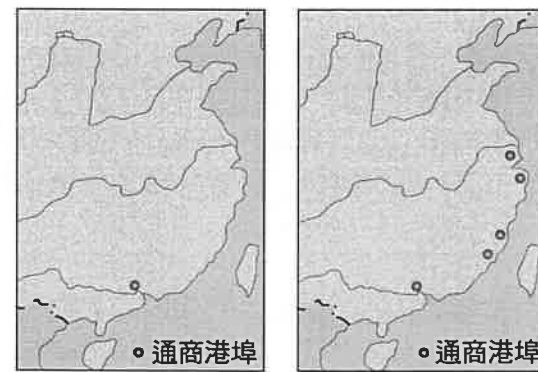
- ()19. 明代新航路發現後，西方人來到東方對中國的影響「不包括」？ (A)引入更多的人口，使中國糧食作物不足 (B)促成糧食作物與經濟作物分工 (C)促成原料與產品的分工 (D)社會盛行拜金逐利的風氣。

答案：(A)

- ()20. 十六世紀中南美洲是西班牙人的殖民地。由於西班牙人禁止當地原住民赤身裸體，所以他們都穿著中國絲綢。中南美洲原住民買得起中國絲綢的原因，「不包括」下列那個因素？ (A)中國絲綢的生產量豐富，但銀礦有限 (B)因鄭和下西洋的影響，中國商人向海外擴展，直接將絲綢運到南美洲去賣 (C)西班牙以菲律賓為中繼站，在中國與南美洲之間往來貿易 (D)美洲盛產白銀，但中國缺乏，因此美洲原住民的白銀可以換取高價的中國絲綢。

答案：(B)

- ()21. 附圖(一)及附圖(二)是清末兩個時期的對外通商港埠圖。由附圖(一)演變至附圖(二)的關鍵是哪一場戰役？ (A)鴉片戰爭 (B)英法聯軍 (C)甲午戰爭 (D)八國聯軍



圖(一)

圖(二)

答案：A

解析：鴉片戰爭清廷戰敗，簽訂《南京條約》，開放廣州、廈門、福州、寧波、上海五口為通商口岸

- ()22. 明中葉以後，西方來的傳教士多屬於 (A)天主教耶穌會(B)英國國教派(C)喀爾文教派(D)路德教派。

答案：(A)

- ()23. 明朝中葉以後，歐洲人因發現新航路而開始航抵中國，中西交通因而邁入另一個新里程。請問：16世紀，最早航抵中國的葡萄牙人，據有何處做為發展東方貿易的據點？ (A)臺灣(B)香港(C)澳門(D)菲律賓。

答案：(C)

- ()24. 明末清初，耶穌會教士來華傳入西學，把中國文物傳回歐洲，這段文化交流對中西雙方歷史皆有深遠影響，下列哪一項敘述與史實不符？ (A)歐洲的天文曆法、數學、地理學和火炮傳入中國(B)中國典籍、繪畫、園林建築、瓷器傳入歐洲(C)傳教士協助中國繪製第一部畫有經緯線的地圖(D)清高宗禁教，使

中西文化交流因此中斷。

答案：(D)

解析：清世宗以傳教士介入宮廷政爭為由，而下令禁教。

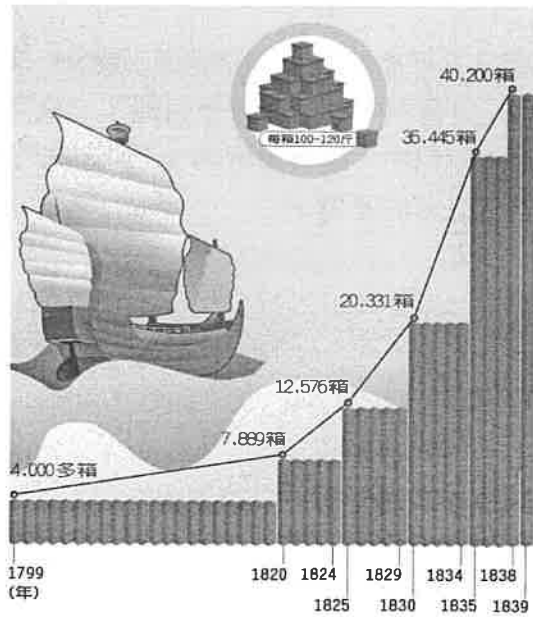
- ()25. 近代中國的對外關係，由閉關自守到走向商埠開放，由天朝觀念到進入國際體系，這是從哪一個戰爭之後開始的？ (A)鴉片戰爭 (B)中法戰爭 (C)甲午戰爭 (D)英法戰爭

答案：A

- ()26. 「片面最惠國待遇」是清末中國遭受外力入侵時，給予外國的特權，但中國本身卻不能享有對等權益。亦即凡是中國給予一國的權益，只要訂有最惠國待遇條款的國家均可援例享有。請問：這個條款是在以下哪一個條約時所簽訂？ (A)《馬關條約》 (B)《天津條約》 (C)《北京條約》 (D)《南京條約》續約

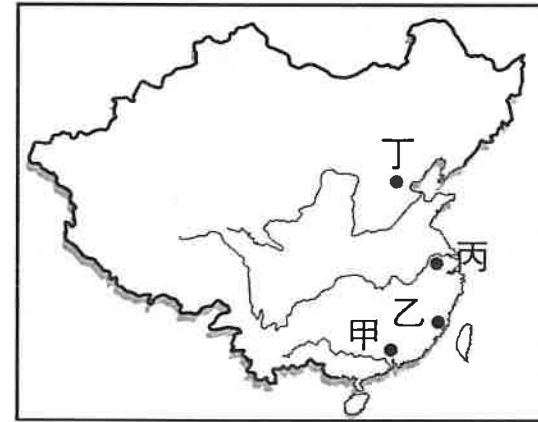
答案：D

- ()27. 附圖是清朝中葉之後，英國輸入中國的某一項產品的統計圖，根據你的判斷，應該是何種商品？ (A)茶葉 (B)瓷器 (C)呢絨 (D)鴉片



答案：D

- ()28. 清朝乾隆皇帝規定外商僅能在廣州經商，其商貿活動、與中國官員的交涉，皆須透過「公行」進行，中外交流受限甚多。請問：上述廣州一地位於附圖中何處？ (A)甲 (B)乙 (C)丙 (D)丁



答案：A

解析：甲：廣州；乙：福州；丙：南京；丁：北京

- ()29. 外交部舉辦一場「清朝外交歷史特展」，展覽場上展出清乾隆皇帝時期，出使中國的英國使節畫像，如附圖。請問：圖中的使節應該是何人？ (A)阿美士德 (B)馬加爾尼 (C)利瑪竇 (D)湯若望



答案：B

- ()30. 有一個人說：「中國並不稀罕西人的奇巧之器，英國在廣州的生意，每年有幾千萬銀兩的利益，這些都是中國對外國人的恩賜，其中英國是最大的受益者。」另一人則反駁說：「兩個國家的貿易，怎麼會是一方的恩賜？」然而他所得到的答覆卻是：「堂堂天朝，何時曾把與夷國的一點生意當作利藪放在心上？」由以上對話可知下列哪個答案是「正確」的？ (A)有可能是李自成與馬加爾尼的對話 (B)中國當時對待外國已有平等的國與國觀念 (C)中國以退為進，其實是希望與英人貿易 (D)英國認為雙方是平等的主權國

答案：D

- ()31. 清朝英國大量對中國輸入鴉片的結果「不包括」？ (A)造成中國大量白銀外流 (B)使中國對外貿易由入超轉為出超 (C)造增國內市場萎縮 (D)造成銀貴錢賤

答案：B

- ()32. 家雄在星期天參加一場演講會，演講的內容以張騫、玄奘、徐光啟等人的事蹟

為主，引起熱烈的討論。由此推斷，這次演講的主題最可能是下列哪一項？ (A) 外來宗教的中國化 (B) 科技發展與文明變遷 (C) 中西交通與文化交流 (D) 中國文學的時代精神。

答案：(C)

- () 33. 滿清入關後，統治中國二百六十八年之久，統治成功的關鍵在於 (A) 採黃老思想，無為而治，與民休養生息 (B) 高壓政策的成功使漢人不敢反抗 (C) 能放棄高壓採取懷柔政策，對滿漢採平等待遇 (D) 善於運用懷柔與高壓並濟的治術。

答案：(D)

解析：清初實施「恩威並重」的政策，漢人士大夫多為其所用。

- () 34. 我們從「山西票號」這個名稱可以知道，何時的何種事業發達，分支機構遍及了全國各地？ (A) 宋—販鹽 (B) 元—販茶 (C) 明—金融 (D) 清—印刷。

答案：(C)

- () 35. 下表是中國近代某一時期，一兩白銀，兌換銅錢的變化表格，看出清朝道光初年，銀荒日甚，銀價日昂，其原因之一為 (A) 對外戰爭多所失利，賠款銀兩過多所致 (B) 地方官吏貪污過甚所致 (C) 鴉片進口太多，外國人將中國銀兩攜帶出口所致 (D) 其實適逢美國發行銀幣，需銀日多，致中國銀兩大量輸出美國所致。

1795 年	700 文銅錢
1830 年	1200 文銅錢
1840 年	2000 文銅錢

答案：C

- () 36. 下圖是麗莎在書上看到的一幅漫畫，此幅漫畫最可能是在描繪哪一個時期的情形？ (A) 唐代 (B) 宋代 (C) 明代 (D) 清代。



《答案》C

- () 37. 下列關於近代中國的敘述，哪一項與史實不符合？ (A) 十八世紀清廷開始限制

廣州一口通商，引起外商不滿 (B) 禁煙的衝突，是鴉片戰爭的原因 (C) 鴉片戰爭使中國歷史轉入一個新階段 (D) 鴉片戰爭後與英國簽訂條約，割讓臺灣給英國

答案：D

- () 38. 清末，列強曾在中國取得租界，且獲有領事裁判權，各國在其租界內便享有自主的司法、經濟與行政等權利，清廷無法以法律規範這些外國人士。根據上述內容，下列哪一項敘述最符合其意涵？

(A) 國家主權的行使受到破壞 (B) 司法權與行政權相互制衡 (C) 畫定租界推廣中西文化的交流 (D) 經濟發展受到國際組織的限制。

答案：(A)

- () 39. 有位中國官員對外國商人說：「中國並不稀罕西人的奇巧之器，外國人在廣州的生意，每年有幾千萬銀兩的利益，這些都是中國對外國人的恩賜。」請問：這位官員的說法，反映了當時的哪一種思想？〔90.第一次基測〕

(A) 封建思想 (B) 天朝思想 (C) 重農思想 (D) 專賣思想。

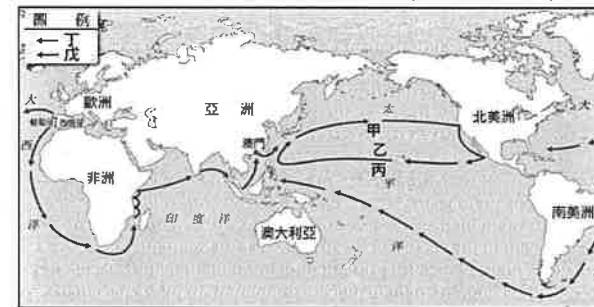
答案：(B)

- () 40. 清代內閣大學士胡仲藻曾以「乾三爻不象龍說」為試題而被處決，其師鄂爾泰也因此從賢良祠中撤出，請問此段史事與下列何種背景有關？ (A) 清高宗八股取士的不當 (B) 清高宗時士人言論比較自由，敢直書帝名 (C) 清高宗時有很多批評時政的文字獄 (D) 力斥清高宗華夷之分的不當。

《答案》C

題組

此為十七世紀的世界地圖，請依圖回答下列問題：



- () 41. 圖中「甲」代表貨品，「乙」代表貨幣，由其發展的方向來看，以下哪一個說明是「正確的」？ (A) 甲是瓷器絲綢 (B) 乙是紙鈔 (C) 甲的輸出是因為戰敗 (D) 乙的輸出是因宗教改革。

- () 42. 圖中的「丙」代表著此時輸入中國的物產。以下何者不屬於「丙」線的物產？ (A) 稻米 (B) 玉米 (C) 番薯 (D) 馬鈴薯。

- () 43. 甲、乙兩條路線是由「戊」所開闢的，「戊」指的是何人？ (A) 英國人 (B) 法國人 (C) 西班牙人 (D) 葡萄牙人。

《答案》(1)A (2)A (3)C

詳解：甲是中國輸出的絲綢瓷器；乙是白銀；西班牙人在新航路發現後，由美洲輸出白銀來換取中國的絲綢瓷器等物品。

題組

1840年英國國會，針對某一問題而引發「出兵戰爭」的爭辯。英國保守黨議員格萊斯頓(W. E. Gladstone)在國會發言：「我從來沒有聽過，也從未讀過，有比這場戰爭更師出無名，更令這個國家蒙羞的。剛才那位先生提出相反的看法，說到英國國旗光榮的飄揚在廣州；這面國旗的升起，是要捍衛不名譽的違禁品貿易。」請問：

- () 44. 文中所言的「出兵戰爭」，指的是哪一場戰爭？ (A)鴉片戰爭 (B)第一次英法聯軍(C)第二次英法聯軍 (D)八國聯軍
- () 45. 文中所言「捍衛不名譽的違禁品貿易」指的是？ (A)絲織品 (B)瓷器 (C)茶 (D)鴉片
- () 46. 這個戰爭對中國造成什麼損失？ (A)損失內河航行權 (B)賠款與割讓香港(C)可派遣公使駐京 (D)鴉片可公開進口。
- () 47. 英國是以何種理由作為出兵之藉口？ (A)抗議修約要求被我國所拒 (B)保護英商來華貿易的利益 (C)爭取開放中國沿海的商埠 (D)報復談判代表遭拘捕凌虐。

答案：(1)A；(2)D (3)B；(4)B。

題組

橘子某天念到一份記載 19 世紀 20 年代清朝的史料，資料中記載：「這裡雖然有很多外國男人，但卻沒有半個外國婦女，外國人不准用轎，不得用差旗三板船舶，只准用無蓬小船，每個月也只有八、十八及二十八三日可到花地海幢寺一次，每次不得超過十人。」請問：

- () 48. 湯姆漢克是個在此時來到中國的外國商人，因為種種的不便，他曾提出一些抗議，請問下列湯姆的哪個抗議屬於「正確」的歷史陳述？ (A)市舶司的官員處處刁難，跟他勒索錢財 (B) 當他遭受十三洋行的行商勒索時，只可以跟廣州總督申訴，不能向北京官員申訴 (C) 他無法跟妻子一起度過中國的中秋節 (D) 他想要住在北京高級酒店，但被通知只能自由選擇住在便宜三合院
- () 49. 承上，外國商人覺得在中國生活受到拘束，是因為哪個制度的規定？ (A) 條約制度 (B) 朝貢制度 (C) 皇帝制度 (D) 公行制度
- () 50. 外商所不能忍受的種種規定，最早在哪個條約之後得到初步的解決？ (A) 南京條約 (B) 天津條約 (C) 北京條約 (D) 辛丑和約

答案：(2) C；(3)D (4) A。