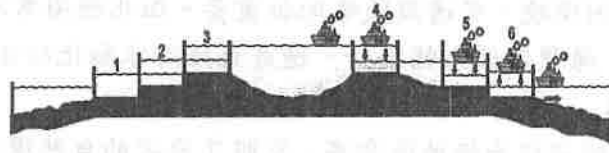


◆ 劃卡說明：科目代碼： 05

班級代碼： 01、02、03

◆ 單選題(共 50 題，每題 2 分)

1. (D) 附圖為巴拿馬運河示意圖，該條聯洋運河主要貫穿下列哪一個地形區？




(A) 墨西哥高原 (B) 安地斯山脈 (C) 亞馬孫盆地 (D) 中美地峽。

2. (B) 近年來溫室效應的情況日趨嚴重，因此亞馬孫雨林的保育受到重視。請問：該地區形成雨林氣候和哪一條經緯線經過的關係最大？ (A) 北回歸線 (B) 赤道 (C) 南回歸線 (D) 0 度經線。

3. (B) 下文中所指的霧氣最可能來自下列何者？

每天黎明時，來自海上的厚重霧氣會逐漸瀰漫到智利的沙漠邊緣。研究人員發明一種如附圖的採霧設備，將其裝置在迎風面，使霧中水氣凝結在無數細微黑線上再匯聚成水滴，最終落入容器中累積。由於架設方便、集水效率高，此技術已推廣至其他水資源相對稀少的地區。



(A) 大西洋 (B) 太平洋 (C) 印度洋 (D) 北極海。

4. (C) 美國、加拿大和墨西哥同為美墨加協定的會員國，墨西哥在該組織中具有下列何項發展優勢？ (A) 礦產較多 (B) 土地較大 (C) 工資較低 (D) 資金充足。

5. (A) 巴西的農業相當發達，成為該國主要的收入來源。請問：目前巴西境內主要從事的農業類型為何？ (A) 熱帶栽培業 (B) 商業性穀物 (C) 地中海型農業 (D) 混合農業。

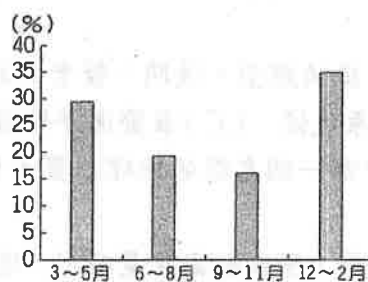
6. (D) 太平洋上的 2 萬多個島嶼被稱為大洋洲，其分布大致以哪兩條經緯線作為界線，分為三大島群？ (A) 赤道、北回歸線 (B) 赤道、本初經線 (C) 北回歸線、南回歸線 (D) 赤道、180 度經線。

7. (C) 老王和他的鄰居要到帛琉度假，欣賞當地純淨無污染的海洋景觀。請問：他在查詢該國的旅遊資料時，應該選擇哪一個地區？ (A) 亞洲 (B) 歐洲 (C) 大洋洲 (D) 美洲。

8. (A) 「該島嶼的地勢較低，因此儘管四面環海，卻無法攔截降水。再加上土地面積狹小，故農業活動不發達，以浮潛觀光為主。」由上文判斷，應該為何種性質的島嶼？ (A) 珊瑚礁島 (B) 火山島 (C) 大陸島 (D) 沙洲島。

9. (A) 澳洲境內的氣候特色以下列何者為界，畫分為迎風坡的精華區及背風坡的農牧區？ (A) 大分水嶺 (B) 西部高原 (C) 南回歸線 (D) 大令河流域。

10. (A) 附圖是某地各季的國際遊客比例。已知當地乾季的國際遊客比例最高，該地最可能位於下列何處？



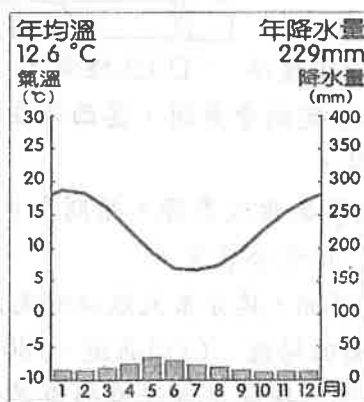
(A) 澳洲西南部地區 (B) 阿根廷彭巴草原 (C) 法國地中海沿岸 (D) 美國西北部沿岸。

11. (B) 澳洲位於太平洋與印度洋之間，四周為海洋環繞，有「島洲」之稱。但澳洲大分水嶺以西沙漠遍布，乾燥面積廣大，其主要原因為何？ (A) 四周有高山屏障 (B) 副熱帶高氣壓籠罩 (C) 沿海有寒流流經 (D) 位於中緯度位置。

12. (D) 紐西蘭位於澳洲東南方，主要由北島與南島組成，最近發生芮氏規模 7.8 級的強烈大地震，造成大量民眾傷亡及經濟損失。紐西蘭發生如此嚴重的災害，最主要與下列哪項地理位置關係最密切？ (A) 海陸的交會位置 (B) 西風的交替位置 (C) 洋流的交會位置 (D) 板塊的接觸位置。

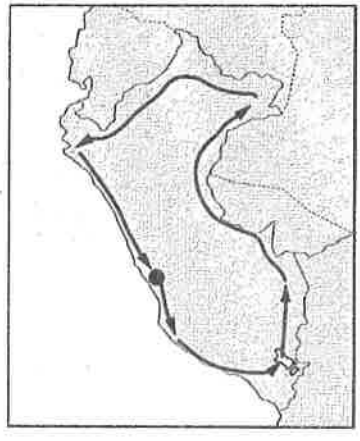
13. (D) 阿花一家人正在討論 8 月 5 日前往南半球紐西蘭的參觀遊覽事宜。請問：下列哪一位的想法最為正確？ (A) 爸爸：「當地氣候春暖花開，一定可以拍很多漂亮的照片。」 (B) 媽媽：「要帶把洋傘，否則夏日炎炎肯定會晒昏。」 (C) 弟弟：「秋高氣爽的天氣，應該會很舒服。」 (D) 妹妹：「冬天氣溫較低，要帶件大衣才行。」

14. (B) 紐西蘭位於環太平洋的火山地震帶上，這對當地的影響主要為何？ (A)面積狹小 (B)山地地形 (C)冰河地形 (D)草原廣大。
15. (B) 亞太經濟合作會議 (APEC) 於 1989 年成立，共有 21 個會員，皆鄰近太平洋。這 21 個國家中，位處於大洋洲的是下列哪兩個國家？ (A)日本、南韓 (B)澳洲、紐西蘭 (C)俄羅斯、中國 (D)加拿大、臺灣。
16. (C) 南極地區為全球地表最為寒冷的地方，當地的地理位置是指下列何者？ (A)赤道以南地區 (B)南回歸線以南地區 (C)南極圈以內地區 (D)北半球以南地區。
17. (A) 北極海因歐、亞、北美三洲環繞，交通與戰略地位重要。但北極海常年結冰，昔日船隻必須破冰而行，海運並不發達，2017 年北極海冰創 40 年新低，海運價值大幅提升。造成北極海冰融化的主要原因為何？ (A)全球暖化 (B)海洋汙染 (C)地層下陷 (D)板塊擠壓。
18. (D) 臺灣的超級馬拉松好手曾經前往南極地區參賽，克服了惡劣的自然環境，終於挑戰成功。請問：南極地區主要的地形為何？ (A)平原 (B)山地 (C)盆地 (D)高原。
19. (D) 南極大陸受限於地理條件，所進行的主要活動為下列何者？ (A)開採石油 (B)航空交通 (C)金融貿易 (D)科學研究。
20. (C) 北極海為各大洲間的最短航線，所以航空交通相當發達。請問：飛越北極海的主要航空路徑不包括下列何者？ (A)北美洲—歐洲 (B)亞洲—北美洲 (C)亞洲—非洲 (D)歐洲—亞洲。
21. (A) 隨著氣候的變遷，各地所發生的極端氣候造成了嚴重的災害。如位於高緯度的加拿大中部，最可能因為受到何種氣候變遷的因素，導致了森林大火？ (A)乾旱 (B)豪雨 (C)暴風雪 (D)寒害
22. (B) 國際間訂定《京都議定書》、《巴黎協議》等，主要的共同目的為下列何者？ (A)維護世界和平 (B)追求永續發展 (C)縮小貧富差距 (D)提高國民所得。
23. (C) 附圖為阿根廷里瓦達維亞鎮的氣候圖，其位於巴塔哥尼亞高原，該地氣候乾燥的成因可能有：(甲)深處內陸(乙)位於背風側(丙)沿海有寒流經過(丁)受副熱帶高氣壓籠罩。正確的是哪兩項？



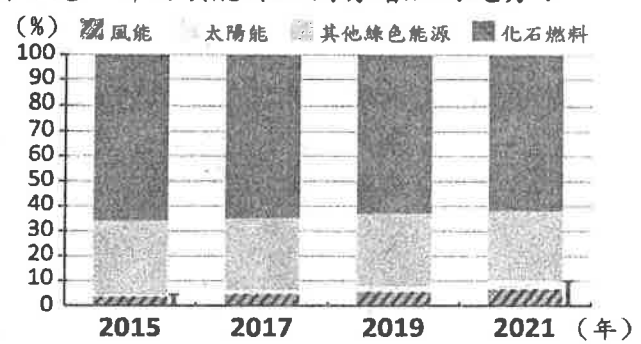
- (A)(甲)(丙) (B)(甲)(丁) (C)(乙)(丙) (D)(乙)(丁)。
24. (C) 中南美洲的地形相當多樣化，因此當地的國家眾多。請問：下列哪一個地形區的緯度最低？ (A)巴西高原 (B)拉布拉他平原 (C)亞馬孫盆地 (D)巴塔哥尼亞高原。
25. (D) 南美洲南端海運天然限制多，橫越安地斯山脈又常受冬季降雪阻礙交通，因此智利與阿根廷兩國計畫興建打通安地斯山脈的隧道。該隧道不僅可大幅縮短運輸時間，也降低氣候對貨運的影響，有利於大西洋岸國家與太平洋岸國家間的貿易。在上述工程完工後，下列何者的運輸時間可望降低？ (A)智利至日本 (B)智利至紐西蘭 (C)阿根廷至英國 (D)阿根廷至中國。
26. (D) 中南美洲的面積狹長，氣候具有多樣的類型。請問：蟹老闆若要從事咖啡、香蕉等作物的栽培，應該以哪一種氣候區最為適合？ (A)高地氣候 (B)熱帶莽原氣候 (C)溫帶海洋性氣候 (D)熱帶雨林氣候。
27. (A) 大洋洲上分布 2 萬多個島嶼，其中哪一個島群的地理位置多位於西半球？ (A)玻里尼西亞 (B)美拉尼西亞 (C)印度尼西亞 (D)密克羅尼西亞。
28. (D) 「受到中國經濟發展速度減緩的影響，原物料需求量疲弱，造成距離中國較近的甲國鐵砂出口量大減，外銷收入少了 27 %，影響其經濟發展。」請問：上文中的甲國最可能為下列何者？ (A)吐瓦魯 (B)紐西蘭 (C)美國 (D)澳洲。
29. (D) 2010 年，臺灣興起打工度假熱潮，澳洲成為臺灣年輕人第二大目的地，此種方式可以解決澳洲何種問題？ (A)工業不發達 (B)觀光發達 (C)人口老化 (D)勞力不足。
30. (C) 紐西蘭的產業活動深受當地環境的影響，該國對外主要的出口商品中不包括下列何者？ (A)乳品 (B)羊毛 (C)小麥 (D)肉品。
31. (C) 南阿爾卑斯山為紐西蘭境內的地形脊梁，而山脈西側的降水量最多。由上述推斷，影響該國各地降水量多寡的最主要原因為何？ (A)洋流性質 (B)地勢高低 (C)盛行風向 (D)緯度位置。
32. (A) 紐西蘭的南島冰河地形發達，景色相當秀麗，因此有多部電影來此取景拍攝。請問：造成南島冰河地形分布的主要成因為何？ (A)緯度較高 (B)地勢高峻 (C)寒流經過 (D)信風吹拂。

33. (D) 上地理課時，老師帶一個地球儀到班上教學，阿強觀察地球儀，發現哪一條線比較特別，不是直線而是呈現曲曲折折？
 (A)赤道 (B)本初經線 (C)緯線90度 (D)國際換日線。
34. (D) 大洋洲中的薩摩亞2011年12月30日不見了，因為該國為了和鄰近的貿易夥伴國家更密切合作，於是決定在2011年12月29日更換時區，直接跳到2011年12月31日。上述「鄰近的貿易夥伴國家」是指下列何者？ (A)中國、日本 (B)英國、法國 (C)美國、加拿大 (D)澳洲、紐西蘭。
35. (B) 下列哪一個地區為歐、亞、美三洲的最近交通路線，戰略地位相當重要？ (A)大西洋 (B)北極海 (C)印度洋 (D)地中海。
36. (A) 「全球氣候原有其自然的變動、循環方式，由於人類介入，使氣候產生急速變化，例如：汽車、工廠排放過量的溫室氣體，加速全球暖化。」上文提到的「溫室氣體」不包括下列何者？ (A)氧氣 (B)水蒸氣 (C)甲烷 (D)二氧化碳。
37. (D) 2015年底，某會議歷經長時間的磋商，終於達成一份取代《京都議定書》的協議，預期將改變人類長期以來的經濟發展與生活型態。下列何者應是該協議的主要目的？ (A)協調國際間的水資源衝突 (B)推動瀕臨滅絕物種的復育 (C)避免臭氧層持續遭受破壞 (D)控制全球氣溫上升的度數。
38. (A) 一名極限運動員，為挑戰自己的極限，環秘魯馬拉松連跑86天，由首都出發，一路跑過海灘、沙漠、雪山山頂、雨林等各種地形，最終挑戰成功。他的環秘魯馬拉松路線中，最可能經過哪些地方？(甲)亞馬孫盆地(乙)安地斯山脈(丙)巴西高原(丁)彭巴草原



(A)甲乙 (B)乙丙 (C)丙丁 (D)甲丁。

39. (D) 墨西哥近年來吸引眾多的外國企業前往投資設廠。請問：目前該國最主要的出口品為哪些？(甲)銀礦(乙)汽車(丙)電子產品(丁)咖啡 (A)甲乙 (B)丙丁 (C)甲丁 (D)乙丙。
40. (D) 位於澳洲南邊的墨爾本，呈現溼潤、全年有雨的氣候特色。當地的主要降水來源為下列何者？ (A)東南信風 (B)東北季風 (C)東南季風 (D)盛行西風。
41. (C) 附圖是全球主要能源發電占比圖，由圖可見，哪兩項能源比例有增加的趨勢？



(A)風能、火力 (B)火力、核能 (C)風能、太陽能 (D)核能、太陽能。

42. (D) 下列哪一種氣候類型最有利於動植物的分布，因此生態系統豐富而完善，成為重要的生物基因庫？ (A)熱帶沙漠氣候 (B)溫帶海洋性氣候 (C)高地氣候 (D)熱帶雨林氣候。
43. (B) 地球上海域的面積約占整體的70%，其中又以下列哪一個海洋的面積最大？ (A)大西洋 (B)太平洋 (C)印度洋 (D)地中海。
44. (C) 大洋洲以熱帶氣候為主，這和下列何種地理條件的關係最為直接？ (A)位於國際換日線兩側 (B)位於世界最大海洋上 (C)位於南、北回歸線之間 (D)位於亞洲大陸東側地區。
45. (C) 觀光業的收入是紐西蘭重要的財源，當地吸引遊客的主要觀光資源為何？ (A)文化遺跡 (B)現代建築 (C)自然景觀 (D)音樂美食。
46. (D) 氣候災害對於地球環境的影響相當大，如森林素有生態基因庫的稱號，然而出現下列何種異常氣候現象時，容易造成野火蔓延，導致森林面積縮小？ (A)地震 (B)水災 (C)強風 (D)旱災。
47. (A) 來自臺灣的長跑選手在智利參加越野馬拉松賽，面對熱帶沙漠這種艱困的環境卻毫不氣餒，奮勇前進，果然取得了優異的成績，也為臺灣爭光。請問：這名選手參加比賽的地點最可能位於智利何處？ (A)北部 (B)中部 (C)南部 (D)無法判斷。

48.) 章魚哥看到財經新聞：「城下之盟」剝奪兩國貿易自主權，屬於典型的「美國優先」，下列哪一個條約 2020 年正式生效取代北美自由貿易協定？ (A) EU (B) APEC (C) NAFTA (D) USMCA。
49.) 南美洲的印加文明主要分布於山間谷地，受到地形的影響，以梯田的耕作方式為主，提供當地居民主要的糧食作物。在當地田間所種植的作物為下列何者？ (A) 稻米 (B) 玉米 (C) 小麥 (D) 大豆。
50.) 墨西哥在近年來的經濟發展後，產業結構已大不相同。請問：該國目前最重要的出口品及產業活動為下列何者？ (A) 熱帶栽培業 (B) 礦業 (C) 漁業 (D) 工業。

