

高雄市私立正義高中 112 學年度第一學期第二次期中考國一公民與社會科試題

年級：1 班級代碼：1 班(01) 2 班(02) 3 班(03) 科目代碼：06 命題教師：翁崇瀛

單選題(每題 2.5 分)

- 高雄市政府社會局為加強照顧獨居老人，使其免於孤寂與生活危難，結合長青社區關懷服務隊和社區照顧關懷據點，以里為單位認養，針對所負責的轄區提供適切協助與照顧，使其享有尊敬、安全、溫馨之社區生活環境。其中一項服務項目為電話問安及關懷訪視，打電話給獨居老人，陪老人聊天，期望透過電話的噓寒問暖及探訪能帶給老人心靈上的安慰...」。請問：上述政府針對獨居老人的服務，可以協助家庭哪一項功能？
(A)生育 (B)教育 (C)經濟 (D)保護與照顧
 - 「現代女性紛紛走出家庭、進入職場，追尋屬於自己的一片天；而現代奶爸也分擔了照顧孩子的責任，打破『男主外、女主內』的傳統觀念與模式。」上述內容凸顯了下列何種現象？
(A)跨國婚姻現象頻繁 (B)性別平權觀念興起
(C)離婚比例逐年上升 (D)新生嬰兒數量減少
 - 我國《民法》規定：「己身所從出，或從己身所出」的親屬關係，是指出於同一祖先且由自然血緣關係形成，彼此之間有出生的直接關係。上述「己身所從出，或從己身所出」的親屬關係是指下列何者？ (A)姻親 (B)法定血親 (C)直系血親 (D)旁系血親
 - 關於「親權」的敘述，何者有誤？
(A)民法明定父母對未成年子女享有親權，確保孩子在家庭中能獲得應有的保護與教養
(B)但父母親若對孩子動用體罰太過，可能會構成家暴問題
(C)若父母親濫用管教的權利，社會局可以依法停止親權
(D)父母親若對子女有虐待或未盡扶養義務的狀況，子女可以請求法院減輕甚至免除扶養父母的義務
 - 紙風車劇團前進校園，演出反毒戲劇工程《拯救浮士德》，以魔鬼比喻毒品，呼籲青少年勿和浮士德一樣留下人生的懊悔與遺憾。而青少年會接觸毒品的原因之一往往是遇到年齡相近的朋友慫恿，在好奇心驅使下就會想嘗試，於是慢慢上癮了。上述內容提及青少年接觸毒品的可能原因之一是強調何種社會化途徑？ (A)家庭 (B)學校 (C)同儕團體 (D)傳播媒體
 - 小鈞和小祐在一場家庭聚會中聊起彼此的親屬關係，根據對話的內容判斷，下列敘述何者正確？
(A)兩人屬於直系血親
(B)兩人的媽媽是姐妹
(C)兩人具有姻親關係
(D)兩人為旁系血親
- 所以你媽媽和我媽媽就是姊妹囉

你爸爸和我爸爸的關係屬於旁系血親
- 大雄與靜香結婚 5 年遲遲無法受孕，兩人決定透過法律途徑，收養被收容於育幼院的技子。根據上文敘述，請問下列何者錯誤？
(A)養父母與養子女的關係屬於姻親 (B)收養必須透過法律程序向法院提出聲請
(C)養子女的權利在法律上和自然血親相同 (D)靜香與技子的親子關係也稱為擬制血親
 - 下列選項所描述的家庭功能，哪一個與另三者「不同」？
(A)「青銀共居」可解決銀髮族獨居風險及緩和青年住屋問題，並實踐跨代共融與共享經濟理念
(B)為推動家庭平權並為落實家庭功能，政府制定《家庭暴力防治法》
(C)為防堵 Covid 19 疫情，高中以下延後開學，12 歲以下學童家長若有需要，可請防疫照顧假
(D)小志以「傳播媒體之影響」作為探討「家庭功能的變遷」因素的公民科報告

9. 印尼籍的小曼剛嫁給了臺灣人阿成，小曼因為信仰伊斯蘭教不吃豬肉，但同住的婆婆不知情，多次責怪小曼挑三揀四不肯吃婆婆親手製作的各種豬肉料理，後來經阿成解釋才化解誤會。與上述內容相關之敘述，何者正確？

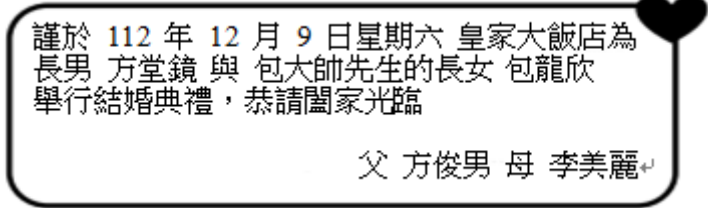
- (A) 此家庭的成員間包含了血親、配偶、姻親關係 (B) 小曼和婆婆之間是法定血親關係
(C) 小曼的家庭屬於兩地家庭 (D) 此事件屬於家務分工的衝突

10. 左左與右右是姐妹，親戚在餐廳用餐，右圖是他們當時的座位。若左左的兩邊分別坐是直系血親及姻親，而坐在右右兩邊的是旁系血親，則左左與右右分別座的是圖中的哪一個位置？



- (A) 左左：甲、右右：乙 (B) 左左：乙、右右：甲
(C) 左左：甲、右右：丁 (D) 左左：丁、右右：乙

11. 右圖是方堂鏡齊與包龍欣的結婚囍帖，請問從圖中判斷，方堂鏡與包龍欣結婚後，包大帥與李美麗兩人的親屬關係與下列何組相同？



- (A) 方堂鏡的妹妹與包龍欣的哥哥
(B) 方堂鏡與包龍欣的外婆
(C) 包龍欣與方俊男
(D) 方堂鏡與包龍欣的伯母

12. 右圖是小婷為家族旅行所規畫的房間分配情況。若小婷的房間兩旁，分別都住有姻親，根據圖中內容判斷，她最可能是住在哪一個房間？



- (A) 甲 (B) 丙 (C) 丁 (D) 乙

13. 金曲歌后彭佳慧有一首膾炙人口的歌曲，歌詞寫著：「女人啊／我們都期待能嫁個好丈夫／愛的一蹋糊塗／也不要一個人做主……」道盡了傳統婦女的心聲。現代社會中，許多女性把重心放在事業上，並不急於步入家庭，晚婚、甚至不婚的情況越來越常見，因而出現「黃金剩女」一詞。請問：這個名詞的出現，顯現出現代人對家庭觀念的何種轉變？

- (A) 居住場域的變遷 (B) 經濟功能的轉變 (C) 婚姻價值的轉變 (D) 教育觀念改變

14. 阿泰和爸爸媽媽住在一起，爺爺奶奶家則在隔壁巷子，爸爸媽媽和阿泰每天晚上都到爺爺奶奶家吃晚餐，並且陪他們一起聊天。下列相關敘述何者正確？

- (A) 現代社會老人和子女同住的比例越來越高 (B) 上述阿泰家的狀況屬於「三代同鄰」
(C) 阿泰家的家庭型態為隔代教養家庭 (D) 祖孫三代住得近最主要有助於解決離婚問題

15. 右表為正義國中一年一班 5 位新生的家庭資料，請問根據表中內容判斷，下列哪些同學的家庭型態為「聯合家庭」？

新生代號	家庭其他成員
甲	爸爸、姊姊、弟弟、妹妹
乙	爸爸、媽媽、外婆、阿姨
丙	爸爸、媽媽、奶奶、哥哥
丁	爺爺、奶奶、妹妹、弟弟
戊	爸爸、爺爺、姑姑、堂姊

- (A) 甲丙 (B) 乙丁 (C) 丙戊 (D) 乙戊

16. 媽媽最喜歡和嬸嬸一起利用假期時出遊。請問：下列何者與上述內容屬於同一種親屬關係？

- (A) 「我」和「妻子的哥哥」一起去餐廳吃飯 (B) 「爸爸」和「姨丈」一起看電視
(C) 「爸媽」和「我先生的父母」去逛街 (D) 「我」和「姊夫」參加賞楓旅遊團

17.甲之子為乙，乙與丙相戀，乙徵得其父甲之同意後向丙求婚。丙向其女兒丁詢問說：「給你找一個新爸爸好不好？」，丁答應說好，於是丙答應與乙結婚。乙丙結婚 10 年後，在給丁舉行的成年派對上，甲與丁第一次見面，竟墜入愛河。請問：甲與丁能否結婚？

- (A)不可，因為違反倫理道德 (B)可以，因為甲丁間沒有親屬之關係
(C)不可，因有優生學之考量 (D)可以，因為旁系姻親輩分不相同者，不違反民法規定

18.基於家庭倫理及優生學的考量，我國《民法》規定具有近親關係的血親及姻親間不得結婚。根據上述內容判斷，下列何種組合若登記結婚，其婚姻最可能是有效的？

- (A)娜美與大嫂的弟弟 (B)魯夫與姑丈的女兒 (C)索隆與叔叔的養女 (D)喬巴與表姊的女兒

19.國中生阿翔原本和爸爸、媽媽住在一起，後來單獨搬去跟爺爺與奶奶一起住。長大結婚後，與妻子因工作關係分居兩地，假日才能見面。請問阿翔的家庭型態變化依序為何？

- (A)核心家庭→隔代教養家庭→兩地家庭 (B)核心家庭→折衷家庭→頂客家庭
(C)血緣家庭→隔代教養家庭→重組家庭 (D)折衷家庭→隔代教養家庭→兩地家庭

20.李白《湖邊採蓮婦》：小姑織白紵，未解將人語。大嫂采芙蓉，溪湖千萬重。長兄行不在，莫使外人逢。願學秋胡婦，貞心比古松。這首詩描述姑嫂之間的勾心鬥角，大嫂不想小姑跟著自己，小姑擔心大嫂在外面亂來，故而旁敲側擊，大嫂也不含糊，一句話就堵住了小姑的嘴。請問：大嫂與小姑兩者之間的親屬關係，與下列何組相同？

- (A)伯父、叔叔 (B)奶奶、外婆 (C)弟媳、妹婿 (D)媽媽、阿姨

21.近年來，政府積極制定或修正相關法律，希望從法制層面著手，推動性別平等的觀念，而《民法》中關於性別平等的條文修改內容，下列何者錯誤？

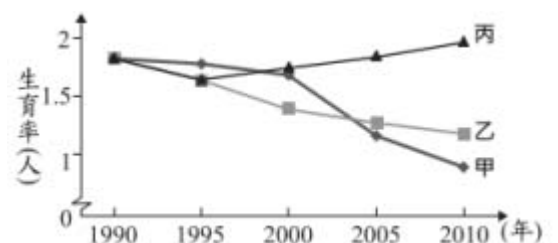
- (A)夫妻姓氏各自保有本姓 (B)未成年子女姓氏由父母共同約定
(C)未成年子女親權，當父母意見不一致時，由父親行使之
(D)夫妻住所平等協議後決定

22.「走入職場的亞洲女性，因為要兼顧工作與家庭，負擔實在沈重。亞洲女性對婚姻的態度特別悲觀。跟上一代相比，亞洲女性獲得更多自由，而且工作能讓他們經濟獨立，就愈不想結婚。」請問以上敘述是在表達下列哪一項概念？

- (A)少子化的影響 (B)婚姻價值觀轉變 (C)居住場域的變遷 (D)平權觀念的興起

23.右圖是甲、乙、丙三個國家關於人口的部分資料。圖中內容顯示，丙國數值與甲、乙二國的差距隨時間逐漸擴大，關於丙國的此種現象，下列何項政策的影響程度最高？

- (A)提供幼兒生活補助津貼
(B)修改法規延後退休年齡
(C)推動長期老人安養服務
(D)夫妻協商決定子女姓氏



24.未經認領之非婚生子女，有下列何種權利？

- (A)可向其生父請求扶養 (B)可繼承其生母之財產
(C)可向戶政機關登記其生父的姓氏 (D)與生父之其他婚生子女建立旁系血親的關係

25.甲中年喪妻，有一子丙，乙中年喪夫，有一子丁，甲與乙再婚，丙、丁之間為？

- (A)旁系血親 (B)旁系姻親 (C)擬制血親 (D)無親屬關係

26.依據聯合國世界衛生組織定義，所謂「高齡社會」意指老年人口占總人口數的比例在多少以上？

- (A)5% (B)7% (C)14% (D)20%

27.甲男與乙女結婚生有一子丙，丁男與戊女結婚生有一女己。丙己相戀結婚。下列關於當事人間婚姻效力之敘述，何者錯誤？

- (A)若甲與丁為旁系血親四親等之表兄弟，則丙己之婚姻無效
- (B)若丙與丁為旁系血親六親等之表兄弟，則丙己之婚姻無效
- (C)若丙己結婚後，甲與戊相繼過世，乙丁若相戀結婚，並未違反民法近親結婚限制之規定
- (D)若丙己後來離婚，不久後乙過世，甲己若相戀結婚，其婚姻無效

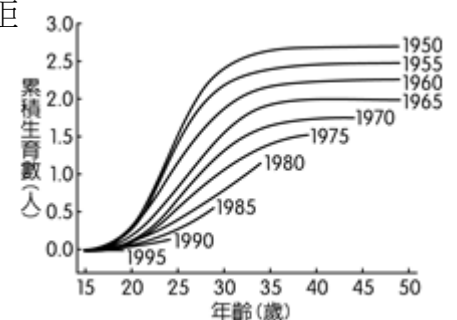
28.西元 1995 年瑞典開始實施新的制度，規定父、母親各有 1 個月的親職假不能移轉給對方，這是第一個「爸爸月」的導入。「爸爸月」實施後，父親請親職假的比例開始增加，政府開始思考，應該繼續加強。所以，瑞典政府分別在西元 2002 年、2016 年導入第二、第三個「爸爸月」，到了現在，父母雙方各有 90 天的親職假不能移轉給對方。上述瑞典政府的政策主要想達到什麼樣的目的？

- (A)增加女性參與公共的機會
- (B)增加小孩在家受照顧資源
- (C)消弭家務勞動的分擔失衡
- (D)縮小男女在薪資上的差距

29.附圖呈現某國不同年分出生的婦女，在育齡期間累積的生育數。

為了改變圖中資料呈現的趨勢以維持人口結構穩定，下列何者最不可能是未來該國政府採行的作法？

- (A)提高幼兒教育補助金額
- (B)增設公立托育照護機構
- (C)放寬職場育嬰假的規定
- (D)提供弱勢學童輔導課程



30.總人口與人口結構相似的甲、乙兩國，分別訂有育嬰假申請規定，表一為兩國近年來的申請人數統計。

表一 (單位：千人)

年度	甲國			乙國		
	合計	男性	女性	合計	男性	女性
2017	28	13	15	28	3	25
2018	35	17	18	36	5	31
2019	42	20	22	41	8	33

依據表一，關於甲、乙兩國之育幼與親職體制之比較，下列推論何者最為可能？

- (A)甲國較為重視透過政府提供親職教育
- (B)甲國較能夠落實育幼勞動公共化政策
- (C)乙國提供給父母的育嬰假福利較優渥
- (D)乙國的家務勞動工作具較大性別差異

31.有關於我國婚姻制度，下列敘述何者正確？


- (A)不分男女，皆須年滿 20 歲才能結婚
- (B)只要年滿 16 歲，便可訂婚
- (C)須有 2 位以上證人，並至戶政機關登記結婚，才算是有效的婚姻
- (D)除雙方皆有結婚意願外，須有公開儀式證明其結婚的行為

32.東漢末年，輔佐劉備的諸葛亮，其岳父黃承彥與荊州刺史劉表有關係，其關係如右表敘述。由此判斷下列敘述何者正確？

據襄陽耆舊記記載，蔡諷的姊姊嫁給太尉太尉，而蔡諷的子女中，兒子為蔡瑁，長女是黃承彥的妻子，小女是劉表的繼室。

- (A)蔡諷與劉表是旁系血親
- (B)諸葛亮黃承彥是姻親關係
- (C)張溫與劉表為連襟
- (D)蔡瑁與諸葛亮是旁系血親

33.右圖為正義國過去、現在以及推估未來的老年人口與就業人口比率之變化情形。根據圖示內容判斷，下列哪一項敘述最符合該國的社會變遷趨勢？



- (A)就業人口的納稅負擔漸增加 (B)人口老化致使失業人口增加
(C)老年人口不變就業人口增加 (D)三代同堂將被三代同鄰取代
- 34.在性別平權的潮流下，不分男女，皆可享有育嬰假的權利。有關於育嬰假的敘述，下列何者正確？
(A)依據《性別平等教育法》之規定 (B)申請對象僅限於已婚身分，非婚生子女不可申請
(C)於受扶養之小孩滿3歲前皆可申請 (D)每次不少於6個月，一次最長可申請1年
- 35.立法院三讀通過民法修正案，將成年年齡從20歲下修為18歲，於民國112年正式施行。請問：此一年齡的修正，與以下何者最有關係？
(A)父母親權的行使 (B)子女扶養父母的義務 (C)家庭暴力的問題 (D)家庭勞務的分工
- 36.夫妻間如果發生家暴行為，被害人可依據《家庭暴力防治法》的規範尋求協助。下列何者不屬於《家庭暴力防治法》中規範的處理行為？
(A)要求雙方結束婚姻關係 (B)要求加害人與被害人保持特定距離
(C)要求加害人搬離被害人住所 (D)禁止被害人與加害人進行非必要的聯絡行為
- 37.家庭暴力是指家庭成員間實施身體、精神或經濟上之騷擾、控制、脅迫或其他不法侵害之行為。請問下列何者並非《家庭暴力防治法》適用之對象？
(A)隔壁經常毆打太太的老王 (B)長期遭受前妻恐嚇的老李
(C)被前男友跟蹤並威脅的小臻 (D)在公園聽聞街訪鄰居訴說去年遭受家暴經過的小辰
- 38.小好家住的社區住著王姓夫妻及其年幼小孩，小好經常在深夜聽見他們夫妻吵架摔家具、玻璃破裂聲，以及小孩驚恐淒厲的哭喊聲，甚至看到王太太臉上被施暴的瘀青傷痕，令小好感到害怕，很想打電話報警處理。若依我國相關法令規定，下列針對上述案例的敘述，何者錯誤？
(A)地方法院設有「家庭暴力暨性侵害防治中心」，並設置「113」保護專線，提供24小時的法律與通報服務
(B)王太太若順利取得保護令，當王先生違反保護令規定時，由警察機關負責執行保護令的內容
(C)保護令的內容有禁止加害人對被害人進行非必要之聯絡行為
(D)王太太可以向地方法院聲請依法剝奪王先生對小孩的親權
- 39.承上題，對於「家庭暴力」之敘述，何者「正確」？
(A)王姓夫妻的小孩過於年幼且沒有施暴的傷痕，故不受家庭暴力防治法保護
(B)家庭暴力包含身體、精神或經濟上之騷擾、控制、脅迫或其他不法侵害之行為
(C)請外籍看護照顧年長者，外籍看護虐待年長者，依家庭暴力防治法可以申請保護令
(D)王先生常因就讀幼兒園的小孩沒有完成作業處罰他不能吃晚餐，此僅為親權之教養權行使
- 40.依據《家庭暴力防治法》所核發的保護令之規定，何者並無聲請「緊急保護令」之資格？
(A)檢察官 (B)高雄市政府社會局 (C)被害人本人 (D)警察

112 上國一第二次期中考 公民第 3~4 單元

1.	D	2.	B	3.	C	4.	C	5.	C
6.	D	7.	A	8.	D	9.	A	10.	C
11.	A	12.	A	13.	C	14.	B	15.	D
16.	B	17.	B	18.	A	19.	A	20.	C
21.	C	22.	B	23.	A	24.	B	25.	D
26.	C	27.	B	28.	C	29.	D	30.	D
31.	C	32.	B	33.	A	34.	C	35.	A
36.	A	37.	D	38.	A	39.	B	40.	C