

◆ 劃卡說明：科目代碼： 05

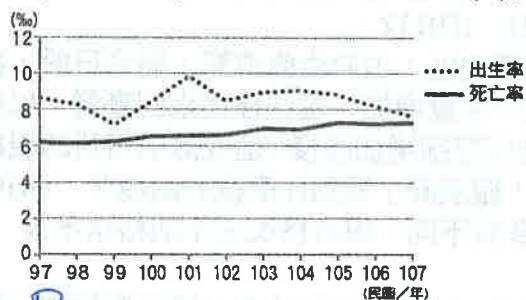
班級代碼： 01、02、03

◆ 單選題(共 50 題，每題 2 分)

1. (B) 討論人口遷移時，「吸引他地人口移入的有利條件」統稱為何？ (A)推力 (B)拉力 (C)移入率 (D)移出率。
 2. (B) 附表為四個國家的出生率與死亡率資料，哪一個國家的自然增加率較高？ (A)甲 (B)乙 (C)丙 (D)丁。

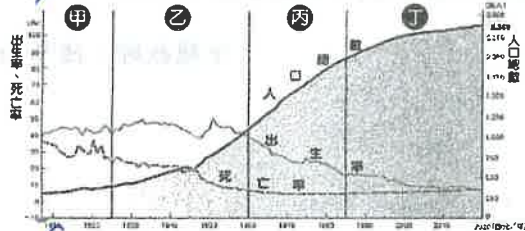
國家	甲	乙	丙	丁
出生率(‰)	32	51	18	10
死亡率(‰)	10	20	9	14

3. (D) 臺灣社會目前面臨許多人口議題有待解決，但不包括下列何者？ (A)少子化 (B)人口老化 (C)扶養比上升 (D)壯年人口過多。
 4. (B) 由於位置上的鄰近性及語言文化相近，臺灣的外籍配偶以哪些國家的比例較高？ (A)日本、南韓 (B)中國、越南 (C)美國、加拿大 (D)新加坡、馬來西亞。
 5. (B) 許多民眾搶搭民國 112 年的結婚熱潮，最主要的原因是因為民國 113 年是龍年，許多夫妻期望擁有「龍子」、「龍女」。由上述可知，民國 113 年的哪一項人口指標最有可能增加？ (A)移入率 (B)出生率 (C)移出率 (D)死亡率。
 6. (B) 臺灣光復初期有為數不少的中國軍民遷移來臺，此對臺灣社會造成下列何種現象？ (A)移入率下降 (B)移入率上升 (C)死亡率上升 (D)出生率下降。
 7. (C) 由於近年來的社會變遷，臺灣已邁入高齡社會。目前對於高齡社會的因應，下列何者正確？ (A)解決人口老化問題的最佳方案為大幅提高死亡率 (B)由於扶養比仍高，故老年人的安養狀況不成問題 (C)政府應開始積極增加長期照護資源與相關福利 (D)平均壽命屢創新高，高齡人口自理能力隨之增長。
 8. (D) 西元 2000 年以後，中國的性別比持續上升，甚至已逼近 120 大關。此一現象的形成與下列何種社會條件關係最為密切？ (A)經濟快速發展 (B)男性平均壽命較長 (C)人口城鄉移動限制解除 (D)重男輕女觀念仍然普遍
 9. (A) 下列何者屬於人口遷移中的「永久遷移」？ (A)嫁到臺灣定居的外籍配偶 (B)出國深造的高材生 (C)外籍配偶生的一對雙胞胎 (D)來臺灣教美語的外國老師。
 10. (B) 阿義出生時臺灣人口約 2,300 萬人，而該年出生率約 8‰，請問當阿義上小學就讀時，全國可能有多少小一新生？ (A)8 萬人 (B)18 萬人 (C)180 萬人 (D)500 萬人。
 11. (C) 國際間最廣為人知、也是各國觀光客參與度最高的泰國節慶「潑水節」，近幾年不用出國，在臺灣也有機會參加潑水節活動，請問：這是與臺灣哪一個族群有關？ (A)閩南人 (B)原住民 (C)新住民 (D)客家人。
 12. (D) 由人口金字塔圖無法推知下列哪項資訊？ (A)人口年齡組成 (B)人口性別組成 (C)經濟發展程度 (D)人口總數。
 13. (D) 繪製臺灣人口分布點子圖時，下列哪個行政區內點的數量會最少？ (A)新北市 (B)新竹縣 (C)高雄市 (D)臺東縣。
 14. (D) 臺灣東部人口較西部稀少的原因，除了因開發較晚之外，還與下列何者關係最密切？ (A)地震頻繁 (B)土壤貧瘠 (C)氣候暖溼 (D)地形阻隔
 15. (A) 為完成地理作業「民國 113 年高雄市鳳山區人口金字塔圖」，阿正在圖書館必須找到鳳山區的哪些資料才能完成作業？ (A)各年齡層人口比例及性別比例 (B)教育程度比例及性別比例 (C)自然增加率及社會增加率 (D)職業別及性別比例。
 16. (A) 西元 2006 年起，臺灣開放工作者申請育嬰假；西元 2009 年立法院通過「育嬰留職停薪津貼」，讓請假在家育嬰的父親或母親，可領 6 個月的補助。請問：下列何者是實施該福利措施的主要目的之一？ (A)提高生育率 (B)提高扶養比 (C)加強國籍認同 (D)改善性別比例。
 17. (B) 附圖為民國 97~107 年臺灣的人口出生與死亡統計圖。根據圖中資料判斷，請問下列哪一年的自然增加率可能最高？ (A)民國 99 年 (B)民國 101 年 (C)民國 103 年 (D)民國 106 年。



18. (B) 人口遷移主要有兩個原動力，一是移出的推力，另一是移入的拉力。請問：下列哪一項屬於「推力」？ (A)工業發達，就業機會眾多 (B)人口眾多，房價居高不下 (C)氣候宜人，生活品質優越 (D)物產豐富，產業經濟活絡。
 19. (C) 下列人口金字塔圖的繪製步驟，哪一項是錯誤的？ (A)每 5 歲為一級距 (B)男生在左，女生在右 (C)將人口由老年至幼年向上逐級繪製 (D)將同一級距的人口數總計後換算成比例。
 20. (C) 正義國的女性人口為 270 萬人，男性人口為 300 萬人，則該國的性別比約為多少？ (A)90 (B)102 (C)111 (D)124。
 21. (D) 「臺灣的人口密度約 650 人/平方公里，美國的人口密度約 35 人/平方公里。」根據以上敘述，下列推論何者正確？ (A)臺灣的工商業比較發達 (B)美國的經濟高度發展 (C)臺灣的出生率較高 (D)美國平均居住與活動的空間較寬闊。

22.) 附圖為臺灣人口成長變化圖，請問圖中人口成長進入停滯期是指哪一個階段？ (A)甲 (B)乙 (C)丙 (D)丁。




23.) 小雞家有 5 個人，年齡分別是小雞 14 歲，姐姐 22 歲，媽媽 45 歲，爸爸 48 歲，奶奶 67 歲。請問：小雞家有多少人屬於壯年人口？ (A)1 (B)2 (C)3 (D)4。
24.) 臺灣有許多縣市開始開設中文課程、技職訓練、子女教養研習等課程，另外像是桃園市也推出異國料理外燴的服務，廣受大家歡迎。請問：上述活動主要是希望增進臺灣哪一個族群的交流？ (A)閩南人 (B)原住民 (C)新住民 (D)客家人。
25.) 六十年代開始的人口政策是「婚後三年才生第一個孩子，過了三年再生一個，兩個孩子恰恰好，男孩女孩一樣好」。明顯的是希望每個家庭的孩子數量不超過兩個，請問推出此節育政策的社會背景因素有幾個？ (甲)醫療衛生進步 (乙)平均壽命延長 (丙)死亡率開始降低 (丁)人口成長快速恐抵銷經濟成果 (戊)人口外流與老化 (A)2 項 (B)3 項 (C)4 項 (D)5 項。
26.) 若汪汪國的國土面積僅約 1/3 個高雄市大，人口卻比高雄市多了 160 萬人，由此可知下列的推論何者正確？ (A) 汪汪國的自然增加率大於高雄市 (B) 汪汪國每人擁有的生活空間較大 (C) 汪汪國人口密度比高雄市來得高 (D) 汪汪國的社會增加率小於高雄市。
27.) 在計算一地的扶養比時，會把下列何者視為從事生產的主要人力？ (A)60 歲的男性 (B)70 歲的女性 (C)14 歲的男性 (D)66 歲的女性。
28.) 一般而言，人口老化的程度與經濟發展程度有關。民國 107 年臺灣的老年人口比例已突破 14%，主要與下列何者有關？ (甲)醫療衛生進步 (乙)族群組成多元 (丙)死亡率節節上升 (丁)平均壽命延長 (A)甲乙 (B)甲丁 (C)乙丙 (D)乙丁。
29.) 若正義國的人口數為 27 萬人，其面積為 270 平方公里，則其人口密度應為多少人/平方公里？ (A)10,000 (B)1,000 (C)750 (D)270。
30.) 附圖為民國 108 年臺灣人口分布點子圖。由圖判斷，人口主要集中在西半部的哪些地形上？ (A)平原、丘陵 (B)平原、盆地 (C)丘陵、山地 (D)盆地、山地。



31.) 臺灣的政府設置了「原住民歷史正義與轉型正義委員會」，與各族代表共同面對歷史課題、對等協商後續政策方向。而目前經常被拿出來討論的議題就是原住民保留地之認定與使用權利。請依照目前臺灣原住民的分布，推論上述所說的原住民保留地問題，有可能在下列何地發生最多爭議？ (A)彰化縣 (B)苗栗縣 (C)花蓮縣 (D)嘉義縣。
32.) 「俄羅斯的人口結構一直處於失衡的狀態，截至西元 2009 年，女性比男性整整多出 1,000 萬人，且有擴大的趨勢。俄羅斯為世界聞名的『美女產區』，然而該國女性的天生麗質卻沒有辦法得到本國男人的欣賞。在俄羅斯的一些農村地區，甚至出現 5 個女孩追求一個男孩的窘境。俄羅斯性別比例的失調情況，源自幾個原因：一是二戰時期犧牲的主要是男性；二是俄羅斯女性壽命比男性長；三是男性愛酗酒，意外死亡率遠遠高於女性。在俄羅斯，單身女性人口還有逐漸增大的趨勢。」依上文所述可知，下列何者最可能是該年俄羅斯的性別比？ (A)86 (B)98 (C)101 (D)112。
33.) 「清朝康、雍時期，中國沿海人口快速成長，人口壓力逐漸升高，尤其是閩粵地區，由於生齒愈繁，需米日殷，再加上臺灣開發已具有一定成效，因此閩粵人口便源源不斷向臺灣擁入，使得清初臺灣人口大量增加。這些移民來到臺灣，以農業開墾為主要的生產活動，本來臺灣尚屬地廣人稀之地，但是卻因渡臺者漸多，而土地開墾卻增加緩慢，造成無田可耕的現象，人民在找不到工作的情況下，部分人民就成為了『羅漢腳』。」請問：文中當年的「羅漢腳」遇到什麼樣的困境？ (A)中國移民與臺灣原住民衝突不斷 (B)政府的移民政策，使居民被迫離鄉背井 (C)文化背景不同，導致移民者生活格格不入 (D)原鄉推力被迫離鄉打拚，但因競爭者眾使得生活不如預期。
34.) 「人口紅利」是在經濟學中常會看到的名詞，是指一個時期內生育率迅速下降，幼年與老年扶養負擔相對較輕，總人口中勞動適齡人口比重上升，形成一個勞動力資源相對較豐富，對經濟發展十分有利的黃金時期。請問：上述的「人口紅利」通常會從哪一個時期開始發生？ (A)緩慢成長期 (B)快速成長期早期 (C)快速成長期晚期 (D)成長停滯期。
35.) 針對臺灣眾多的人口問題，政府致力規畫老人安養、長期照顧等社會福利政策，主要是為了因應下列何種人口現象？ (A)少子化 (B)人口老化 (C)人口過剩 (D)人口分布不均。
36.) 長久以來，華人社會普遍有重男輕女的觀念，生男偏好導致性別嚴重失衡，但隨著時空背景的改變，對於生育的觀念已不若以往，尤其在臺灣，生男生女已邁向順其自然，加上男性死亡率較女性高，以及女性外籍配偶人數增加的因素影響，目前女性人口稍多於男性。請問：臺灣現在的性別比可能是多少？ (A)120 (B)128 (C)98.6 (D)100.2。

37. (B) 民國六十年代與九十年代的人口宣導口號中，都有提到「兩個孩子恰恰好」，但政策方向其實不太相同。請問：下列何者是兩個政策不同之處？(甲)民國九十年代更加強性別平等觀念 (乙)民國九十年代希望每個家庭的孩子數量要有2個以上；但民國六十年代是最多不超過2個 (丙)民國九十年代希望每個家庭的孩子數量最多不要超過3個；但民國六十年代是最多不超過2個 (丁)民國九十年代人口政策的背景因素是「出生率低」；民國六十年代人口政策的背景因素是「死亡率開始下降」。(A)甲乙丙 (B)甲乙丁 (C)乙丙丁 (D)甲丙丁。

38. (A) 附圖為四個地區的人口增加率及自然增加率圖。圖中四個區域何者拉力相對最強？(A)甲 (B)乙 (C)丙 (D)丁。

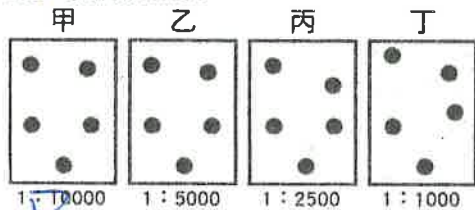


39. (C) 臺灣65歲以上老年人口占總人口比率在西元2018年3月底達到14.05%，達到世界衛生組織定義的「高齡社會」。在這樣的環境中，下列何者並非政府應該努力的方向？(A)辦理老人槌球，鼓勵長者活動 (B)以社區為主，普及照護對象 (C)將長者全集中鄉下，享受好山好水 (D)整合醫療資源並協助長者就醫。

40. (A) 頂客族(DINK, double income no kids)是指夫婦兩人都有工作，但是沒有小孩的雙薪家庭，這類族群的人口比例若持續增加，可能會對社會帶來哪些衝擊？(甲)人口逐漸老化 (乙)扶養比逐年增加 (丙)少子化現象加劇 (丁)都市人口多於鄉村人口。(A)甲乙丙 (B)甲乙丁 (C)甲丙丁 (D)乙丙丁。

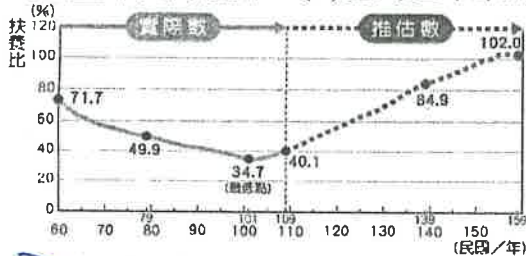
41. (D) 附圖為四個地區的假想人口分布圖。哪個地區最可能出現住屋不足的問題？(A)甲 (B)乙 (C)丙 (D)丁。

說明：每點代表10000人

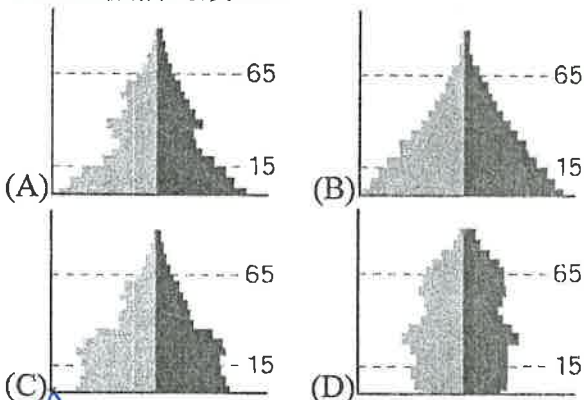


42. (B) 臺灣近代以來，人口持續進行擴張及遷移，大致為由中國移往臺灣、臺灣南部移往臺灣北部、臺灣西部移往東部。請問：上述臺灣人口移動最有可能受到何種因素的影響？(甲)地理位置 (乙)地形 (丙)氣候 (丁)開發時間。(A)甲乙丙 (B)甲乙丁 (C)甲丙丁 (D)乙丙丁。

43. (D) 附圖為臺灣扶養比的統計資訊圖，根據此圖可推測出何種結論？(A)臺灣近年來的出生率愈來愈低 (B)臺灣近年來的出生率先高後降 (C)臺灣近年來的壯年人口比例愈來愈低 (D)臺灣近年來的壯年人口比例先升後降。



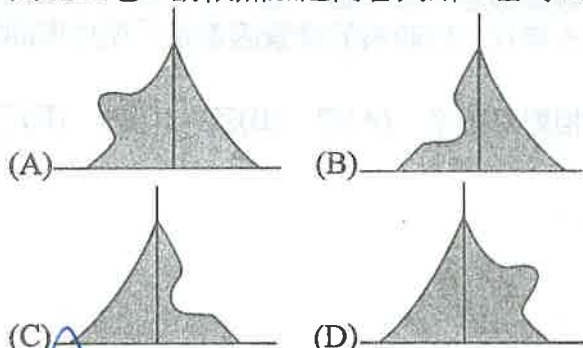
44. (D) 《照護人，有您真好》是西元2017年以男性照護員為主角的電影，片中描述照護機構破除藩籬，融入社區與長輩生活模式。透過菜鳥照顧服務員與失智症奶奶的互動故事，讓更多人看見溫暖的照護服務。請問：下列人口金字塔，何者最需要上述機構的設立？



45. (A) 下列關於臺灣多元族群的特色敘述，哪些正確？(甲)移民至臺灣拓墾的漢人及其後裔人數已超過原住民 (乙)居住在花蓮縣與臺東縣的原住民人數最多 (丙)透過工作、通婚或依親，取得中華民國國籍者，稱為新住民 (丁)原住民沿襲早期以廟宇為活動中心的生活習慣 (戊)漢人傳統的農耕與漁獵現在已式微，仍透過豐年祭等各種祭儀維繫部落文化。(A)甲乙丙 (B)丙丁戊 (C)乙丙戊 (D)甲丙丁。

46. (D) 西元2019年10月1日，南方澳大橋斷裂事故，造成6名國際移工不幸罹難，也凸顯臺灣國際移工的問題。國際移工是我國重要的勞動力，近年來，在臺灣工作的營造、漁業與社福的移工日益增多，需要引進這些移工的原因，主要與下列何者有關？(A)臺灣產業技術水準降低 (B)臺灣所得之貧富差距擴大 (C)臺灣壯年失業問題嚴重 (D)臺灣勞工薪資成本提高。

47. (A) 清帝國時期，臺灣曾流行過「有唐山公，無唐山媽」這句話，意思是當時因渡臺禁令的影響，僅成年男子可過來臺灣開墾土地，請依照上述內容判斷，當時臺灣的人口金字塔圖應和下列何者最相符？



48. (A) 臺灣是個多元族群居住的地方，不同族群對宗教祭儀的方式也不同，下列何者屬於來自東南亞的信仰？ (A)桃園市的大園清真寺 (B)新北市的三峽祖師廟 (C)西拉雅族的祀壺崇拜 (D)大甲媽祖的遶境儀式。
49. (D) 以下四位同學分別來自於不同的族群，請判斷哪一位同學對自己族群的認識最為正確？ (A)靜香：「我的家鄉在日本，隨著丈夫嫁到臺灣來，在臺灣所有新住民中，與我同鄉的人數是最多的。」 (B)莎莎：「我是土生土長在臺灣的泰雅族原住民，目前臺灣經行政院認定的原住民族僅有9族。」 (C)罔腰：「我的祖先是在大航海時代就來到臺灣的漢民族，雖然在臺灣人數眾多，但在臺灣並非最大的族群。」 (D)哈魯：「我是來自泰國的國際移工，雖然我們戶籍並非屬於臺灣，但是臺灣重要的勞動力喔！」。
50. (D) 在二次大戰結束後，大量移民移居臺灣，不僅是人口的增加，這批移民也為臺灣帶來不同的文化。請問：下列哪一個選項的描述與這批移民較無關？ (A)臺北與高雄穆斯林所建設的清真寺 (B)清境農場周遭開設的滇緬料理餐廳 (C)廣受大眾喜愛四處巡演的相聲表演 (D)臺北近郊丘陵產福爾摩沙烏龍茶。