

私立正義中學 112 學年度下學期第一次段考 國二 地理科試題

考試範圍：第四冊 U1+2

【科目代號：05】

出題老師：陳亭好

班級：_____

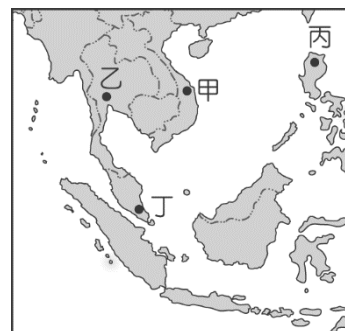
座號：_____

姓名：_____

第一部分：單一選擇題(每題 2 分)

A

1. 因為故鄉的文化與中國相近，阿水來到臺灣擔任看護的工作，適應相當良好。由於她聰明勤勞，很快學會中文，再加上故鄉過去的被殖民經驗，使得她還會說一些法文，她的雇主對她相當滿意，把她當作女兒般疼愛。阿水的故鄉可能位於附圖中的何處？(A)甲 (B)乙 (C)丙 (D)丁。




A

2. 2015 年尼泊爾發生芮氏規模 7.9 的強震，導致超過數千餘人罹難，近萬人受傷。該次地震的成因，與哪兩個板塊的擠壓有關？(甲)歐亞板塊；(乙)印澳板塊；(丙)太平洋板塊；(丁)菲律賓海板塊 (A)甲乙 (B)甲丁 (C)乙丙 (D)丙丁。

C

3. 1860 年法國在熱帶叢林發現吳哥廢墟，1992 年聯合國教科文組織將其劃入世界重要文化遺產保護名單中，請問吳哥窟位在哪一個國家？(A)緬甸 (B)寮國 (C)柬埔寨 (D)馬來西亞。



A

4. 承上題，著名吳哥窟做為該國家的代表性標誌，該國更在國旗上亦使用了吳哥窟的影像，為全球各國之首例。請問這座名列世界文化遺產的全球最大廟宇，主要受到了哪一種宗教文化的影響？(A)印度教 (B)天主教 (C)上座部佛教 (D)伊斯蘭教。

B

5. 「河流是高速公路，是居家、是私人俱樂部、是公共澡堂，也是如廁與飲泉雙效合一的大水庫。河流，當然也是令人眼花撩亂的水上市場。」上述景觀最可能出現在下列哪一個地理區？(A)印度洋群島 (B)中南半島 (C)朝鮮半島 (D)阿拉伯半島。

B

6. 每年夏天是臺灣熱門的出遊季節，住在臺北的小明預計在暑假，和爸爸、媽媽到南亞著名的熱帶小島度假。請問：若小明從臺灣搭乘直飛班機飛往當地，這時飛機將朝下列哪一個方向前進？(A)東北方 (B)西南方 (C)西北方 (D)東南方。

B

7. 阿芬到南亞的印度半島地區自助旅行，在她行程中的哪個地區，因為屬於季風路徑尾段加上受到副熱帶高氣壓的籠罩，而形成乾燥少雨的熱帶沙漠氣候區？(A)恆河流域 (B)印度河流域 (C)北部高山區 (D)德干高原內部

D

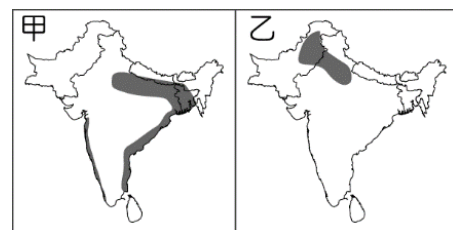
8. 南洋群島的國家經濟發展基礎為農礦產品的輸出，該地區主要輸出的農礦產品為下列何者？(甲)商業性穀物(乙)鐵礦(丙)熱帶經濟作物(丁)石油 (A)甲乙 (B)甲丁 (C)乙丙 (D)丙丁。

D

9. 上地理課時，同學上臺報告有關南洋群島的地形特色，下列哪一位同學的報告最為正確？(A)小美：南洋群島由許多島嶼所組成，陸地面積廣大 (B)小王：南洋群島堆積作用發達，地形較為平坦 (C)小李：南洋群島位於亞洲大陸邊緣，地殼穩定少地震 (D)小亭：南洋群島受板塊活動影響，火山地形發達

C

10. 農業活動的分布主要受到自然條件的影響，因此形成不同的利用方式。附圖中的甲、乙兩圖分別為印度半島的稻米及小麥的分布地區，請根據其位置判斷，影響其分布地區的主要因素為下列何者？(A)地勢起伏 (B)氣溫高低 (C)降水多寡 (D)土壤沃度。



D

11. 位於南亞的印度半島，冬季不明顯，相對於其他同緯度地區較為溫暖。請問：這和下列哪一個因素的關係最大？(A)位於來自歐亞大陸的東北季風迎風坡 (B)沿海地區暖流經過，冬不寒冷 (C)受到海上季風吹拂氣候暖溼 (D)高大山脈阻擋北方寒冷氣團

A

12. 近年來，許多外資企業將電子代工廠設在越南、馬來西亞等東南亞國家，除了中美貿易戰的因素之外，還有下列何種原因？(A)勞力較便宜 (B)糧食產量高 (C)教育素質高 (D)平原較寬廣

D

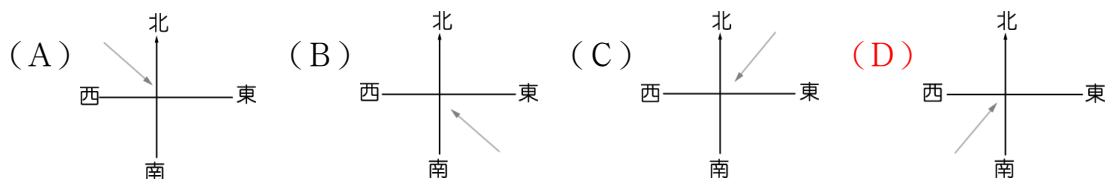
13. 請問在印尼進行「燒耕」主要是為了種植哪種熱帶作物？(A)可可 (B)荳蔻 (C)椰子 (D)油棕。

14. 東南亞位於亞洲的東南端，其地理位置正位於下列哪兩個海洋的必經之地？ (A)太平洋、大西洋 (B)太平洋、印度洋 (C)大西洋、地中海 (D)印度洋、大西洋。
15. 下圖為某旅遊節目某次的外景行程規畫，此趟外景最可能是前往下列何國拍攝？ (A)印度 (B)印尼 (C)越南 (D)巴基斯坦。
16. 熱帶栽培業為東南亞重要的經濟活動型態，下列有關熱帶栽培業特色，何者錯誤？ (A)作物以出口外銷為主 (B)大範圍栽種糧食作物 (C)投入大量資金與人力 (D)常見作物有橡膠、油棕等
17. 馬來西亞等國的現代化工業發展主要是利用該地區充足的勞力資源，吸引外國哪些工業條件的投入？ (A)原料、動力 (B)交通、市場 (C)資金、技術 (D)政策、動力。
18. 東協的難題之一是組織內各國的優勢產品大致雷同，主要與下列哪項因素有最密切的關聯？ (A)海運交通發達 (B)民族組成複雜 (C)殖民歷史類似 (D)移民政策寬鬆。
19. 來自中亞的雅利安人進入到印度河流域後創立了一個制度，以方便統治當地原住民，他將社會分成四個階級，不同階級的責任不同，且階級不能流動，透過這樣的方式來確立社會的分工，請問該制度稱為何者？ (A)種族制度 (B)種姓制度 (C)宗法制度 (D)禮樂制度。
20. 下列有關中南半島的地形特色，何者正確？ (A)地勢西高東低 (B)面積狹小 (C)西部出海口有三角洲 (D)山河平行、南北走向。

第一天：雨林探險、泛舟、浮潛
第二天：干欄式建築及咖啡園導覽、火山探祕
第三天：棕櫚油工廠參訪、清真寺巡禮

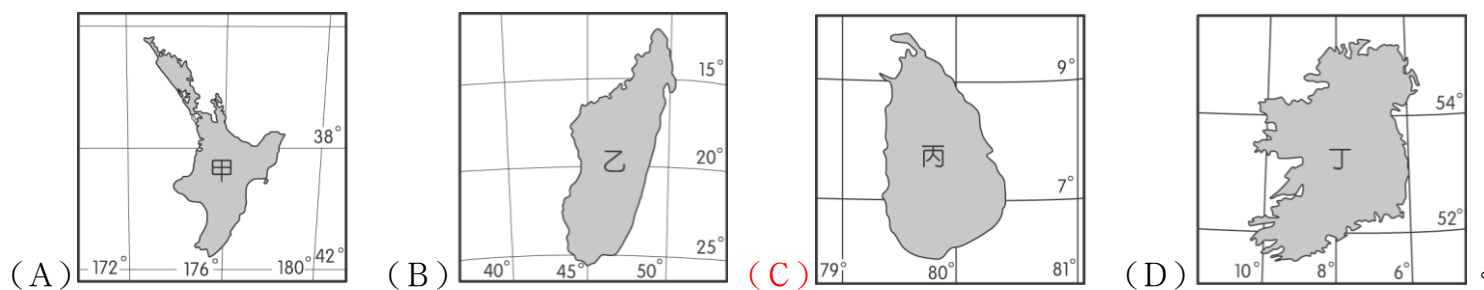
第二部分：進階題(每題3分)

21. 穆斯林人口占全球人口四分之一，有調查預測，35年之後穆斯林甚至可能成為全球最多信仰人口的宗教。為了因應伊斯蘭時代的發展與顧及穆斯林的權益，衍生出了一種食品商機：「清真認證」。若想與穆斯林國家建立貿易往來關係，「清真認證」是不可或缺的要件。「清真認證」的商品在哪些國家最有商機？(甲)孟加拉；(乙)斯里蘭卡；(丙)東帝汶；(丁)泰國；(戊)馬來西亞。(A)甲乙 (B)甲戊 (C)乙丁 (D)丙丁。
22. 附圖顯示 2011 年 9 月 18 日發生的強烈地震震央位置，除了建築物倒塌造成的人員傷亡外，由於某些因素影響使得搜救工作不易進行，導致死傷人數持續攀升。根據當地地形、氣候等環境條件判斷，造成上文中搜救困難的因素最可能為下列何者？ (A)山區冰河快速消融以致山洪暴發 (B)正值沙塵暴盛行時節，能見度低 (C)引發大規模海嘯，海水淹沒災區 (D)連日降雨，造成土石流掩埋道路。
23. 印度一向被視為一個封閉又神祕的國度，因此境內豐富的文化景觀吸引了許多遊客的探訪。若正義國中的教師研習活動要前往印度地區進行考察，在下列何時前往當地，正好遇上氣溫最高的時刻，氣候酷熱難耐，要特別注意避免中暑的情況發生？ (A)春節 (B)聖誕節 (C)清明節 (D)中秋節。
24. 印尼是東協人口最多的國家，隨著當地經濟快速發展，民眾購買力也大幅提升。根據統計，印尼人均 GDP 已經突破 3,500 美元大關，2021 年人均 GDP 為 5,200 美元，龐大的內需消費實力從購物中心數量能看出端倪，每到假日或下班時間，商場更是擠滿人，請問此種景觀最可能出現在下列哪一座島嶼？ (A)爪哇島 (B)婆羅洲 (C)蘇門答臘島 (D)新幾內亞島。
25. 南亞的宗教非常多元。請問：下列國家的主要宗教信仰配對何者正確？ (A)印度—印度教；不丹—佛教；孟加拉—佛教 (B)巴基斯坦—印度教；印度—佛教；斯里蘭卡—佛教 (C)巴基斯坦—伊斯蘭教；印度—伊斯蘭教；不丹—佛教 (D)巴基斯坦—伊斯蘭教；印度—印度教；孟加拉—伊斯蘭教
26. 日前馬爾地夫一家航空公司，因為飛行路線需要「逆風飛行」，使油量增加，為減輕重量而將原定的 45 名乘客丟包在機場。上述旅遊糾紛的發生時間為夏季，因此當時機長逆風飛行時，其盛行風向為何？



27. 有關南亞的環境問題，下列何者錯誤？ (A)印度由於大量人口湧入都市，居住空間不足，反而在都市邊緣形成貧民窟 (B)恆河三角洲的國家因地勢低窪，容易在大雨後造成水患 (C)當工業和家庭污水直接排入河川時，造成嚴重的河川污染問題 (D)斯里蘭卡因氣候乾燥，容易因過度灌溉發生土壤鹽鹼化的問題
28. 長久以來，東南亞一直是歐美強權的殖民地，因此造成了東南亞的文化充滿殖民色彩。下列哪項特色與東南亞人文特徵及其殖民歷史較無關連？ (A)宗教文化多元 (B)人口密度高 (C)多港埠型都市 (D)熱帶栽培業發達

- D 29. 為強化本區競爭力，東南亞國家透過結盟成立哪一個經濟組織，加強區域經濟合作與發展？ (A) CPTPP (B) RCEP (C) APEC (D) ASEAN。
- C 30. 斯里蘭卡位於熱帶氣候區內，而受到經度位置的影響，時間較臺灣晚 3 個小時。請根據上文資料判斷，下列哪一個島嶼最可能是斯里蘭卡？



第三部分：題組題 (每題 2 分)

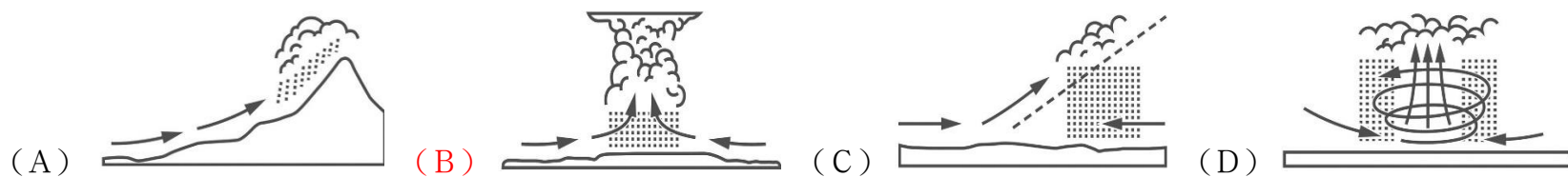
右圖為 1940 年日惹地區 (7°48'S, 110°21'E) 華人移民合資雕刻的紀念碑，其目的在慶祝驅逐荷蘭統治者後，日惹王國統治者光榮即位，華人移民希望能藉以維持雙方的友好關係。請回答下列問題：



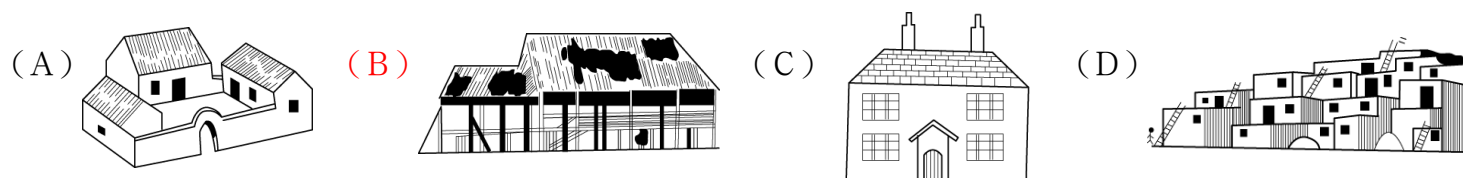
- D 31. 該石碑豎立地點的所在國家，目前其國民最主要的宗教信仰為何？ (A) 道教 (B) 天主教 (C) 印度教 (D) 伊斯蘭教。
- A 32. 若從交通及地理位置來思考該區華人移民的原鄉，可知華人原鄉最可能受到下列哪種災害的影響，導致短期的糧食歉收，人口壓力變大？ (A) 颱風頻繁，農田作物流失 (B) 龍捲風過境，襲捲屋舍人畜 (C) 西風帶來豪雨，河水暴漲成災 (D) 地震頻仍，毀壞橋梁水利設施。

◆ 家住新竹的阿修寒假時來到亞洲某地旅行，沿途寫下他的所見所聞：「穿梭在森林的底層，四周都是一棵棵筆直高聳的大樹，其濃密的樹冠與枝葉全年遮住了日光，使整片森林在大白天仍然覺得昏昏暗暗，尤其在下午還容易有突發的大雨，讓森林蒙上一層霧氣，顯得更加迷幻。森林裡物種間的生存競爭十分激烈……有一種蝗蟲十分奇特，黑色的身子鑲上金黃色的線條，如此大膽的配色，就連米蘭的時尚服裝設計師都可能還意想不到……。」請回答下列問題：

- B 33. 根據阿修的描述，推測他最有可能在下列哪一地區？ (A) 菲律賓呂宋島北部 (B) 印尼婆羅洲島 (C) 泰國北部 (D) 越南北部。
- B 34. 請問阿修所說的大雨，最可能是下列哪種？



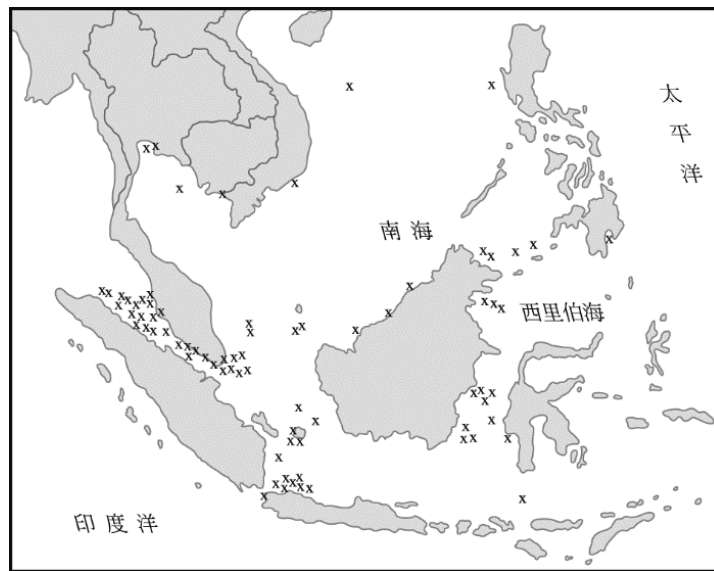
B 35. 阿修在該地區旅行時，特別選了具有當地特色的傳統住屋投宿，根據屋主表示，這種住屋形式是為了因應當地氣候而發展出來的。請問下列哪一張示意圖可代表當地的傳統住屋？



◆ 小丸子一家人利用寒假出國旅遊，導遊帶他們參觀當地的農場，這裡農場比起臺灣規模大的非常多，通常都種植單一作物，作物幾乎都是出口海外市場，該農作須投入大量的資金、技術與勞力，是這個國家的主要農作型態之一。請問：

- C 36. 小丸子一家人前往旅遊的國家最可能是下列何國？ (A) 日本 (B) 印度 (C) 印尼 (D) 南韓。
- C 37. 小丸子在農場上最常見到的是下列哪一種作物？ (A) 玉米 (B) 稻米 (C) 橡膠 (D) 棉花。
- B 38. 本區大量種植「單一作物」的結果產生許多負面問題，主要是下列何者？ (A) 農業商業化程度提高 (B) 市場風險性較高 (C) 糧食生產不足 (D) 貧富差距拉大。

◆ 「海盜」是指出沒於海洋，憑藉暴力威脅等手段，搶劫過往船隻財物的歹徒。他們的存在對海運安全構成極大威脅，是國際間相當令人頭痛的問題。附圖是某雜誌報導 2004 年 1 月到 9 月海盜最常出沒的區域圖，其中「x」代表該區曾發生海盜攻擊事件的地點。請回答下列問題：

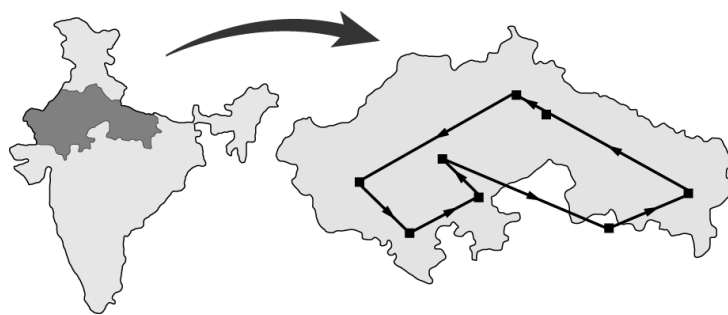


D 39. 從圖中資料判斷海盜攻擊事件發生最頻繁的地區，為哪一個地區？(A)蘇伊士運河(B)巴拿馬運河(C)台灣海峽(D)麻六甲海峽。

C 40. 承上題，請問容易受到海盜攻擊與該地區哪一項特徵最有關係？(A)峽灣地形發達 (B)寒暖流交會帶 (C)位居交通要道 (D)年降雨量充沛。

D 41. 從領海主權的立場及海盜出沒的頻率來考量，下列哪些國家最需要透過國際合作打擊出沒在此地區的海盜？(A)美國、日本 (B)荷蘭、西班牙 (C)越南、泰國、菲律賓 (D)新加坡、印尼、馬來西亞。

◆ 從 20 世紀開始，由於印度半島的疆域面積相當廣大，總面積 317 萬平方公里，為世界第七大國。印度疆域由北到南全長 3,214 公里，從東到西則全長 2,993 公里，因此當地的皇室貴族就以火車為長途交通的工具，將車廂改裝成豪華住宿，稱為印度皇宮火車。王先生和家人想在印度最舒適的季節前往當地體驗該旅程，其行駛路線如附圖所示，白天抵達各城市參觀旅遊，晚間則回到火車上休息並往下一個城市移動。車廂備有完整的衛浴設施，而餐車則隨時都有廚師與侍者提供各式餐食，另外還有 SPA, Jacuzzi 等設施，極盡奢華。請問：



A 42. 該國的面積廣大，南北距離高達三千多公里。我們若由北而南觀察該半島的地形起伏，其分布類型應該為下列何者？(A)高山、平原、高原 (B)高山、高原、平原 (C)高原、高山、平原 (D)平原、高原、高山。

C 43. 印度皇宮火車已成為外國觀光客前往當地最想體驗的奢華行程，若依王先生一家人的需求，則他們前往當地旅遊的時間正值臺灣的哪一時間？(A)中秋節 (B)端午節 (C)聖誕節 (D)暑假。

B 44. 請問若是在早期，此種火車應該是指有哪個階級才能搭乘的？(A)達利特(B)刹帝利(C)吠舍(D)首陀羅

A 45. 根據附圖判斷，他們搭乘的行程路線所通過的地形為下列哪一個？(A)塔爾沙漠 (B)德干高原 (C)恆河三角洲 (D)錫蘭島。

=====恭喜你完成這份考卷！再回頭檢查一次吧！=====