

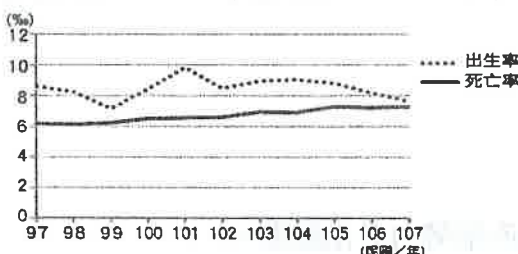
- ◆ 劃卡說明：科目代碼： 05
- ◆ 單選題(共 50 題，每題 2 分)

班級代碼： 01、02、03

1. (A) 「這個國家的菜色料理非常多元，受到中國影響而有春捲、粽子、糕點都食物，甚至廟內文字也用漢字書寫，也曾受到法國殖民，改以煉乳調味的咖啡配上加入醃蘿蔔、蔬菜以及豬肉的法國麵包，超有飽足感。」請問：文中所述是下列哪一個國家？ (A)越南 (B)印尼 (C)菲律賓 (D)馬來西亞。
2. (B) 中南美洲受歐洲人殖民式經濟影響，早期的產業發展以下列哪些類別為主？ (A)農、漁業 (B)農、礦業 (C)工、商業 (D)工、礦業。
3. (D) 臺灣平均每戶可支配所得以北部區域最高，其原因和北部區域具有下列何種特性最有關係？ (A)人口最多、最密集 (B)為政治中心所在 (C)性別比例平均 (D)經濟發展程度較高。
4. (C) 關於臺灣「雷陣雨」這種降水類型的特色，下列哪一項敘述錯誤？ (A)屬於一種對流雨 (B)經常出現在夏季的午後 (C)降雨的範圍經常廣及全臺 (D)降雨的時間通常不久。
5. (B) 西元 2015 年，多數聯合國的成員於巴黎簽署協定，為遏止全球暖化趨勢訂定更明確的減排目標，如將全球升溫幅度控制在工業化前平均溫度的 1.5°C 內，並決議於西元 2020 年開始實施。請問：上文中提及的協定主要目的是為了取代下列何者？ (A)《開羅宣言》 (B)《京都議定書》 (C)《雅爾達密約》 (D)《凡爾賽條約》。
6. (C) 下列哪一座水庫是利用濁水溪水系所修築而成？ (A)新店翡翠水庫 (B)臺南曾文水庫 (C)臺中日月潭水庫 (D)新竹寶山水庫。
7. (A) 阿正在網站上看到臺中梨山蘋果販售的訊息，興沖沖的趕緊訂購，隔天馬上就送到家裡，很快的就能享用鮮脆清甜的蘋果！請問：此農產品的販售是利用何種交通方式來運送？ (A)公路 (B)鐵路 (C)海運 (D)空運。
8. (A) 地軸傾斜會造成下列哪一個影響？ (A)四季變化 (B)南北半球季節相同 (C)太陽直射範圍永遠在赤道 (D)北極與南極一年皆照不到陽光。
9. (D) 西元 2019 年，漠南非洲產油國奈及利亞因輸油管破裂導致爆炸與石油外洩，嚴重汙染土地及鄰近海岸。請問：哪一個海域在此次事件中的油汙汙染最嚴重？ (A)紅海 (B)印度洋 (C)地中海 (D)幾內亞灣。
10. (B) 若 2024 年，中國與甲國簽署了乳製品的合作協議，由於甲國向來以酪農業發達著稱，兩國合作將有助於提高中國乳製品的品質與產量。甲國最可能為下列何者？ (A)北韓 (B)荷蘭 (C)泰國 (D)挪威。
11. (A) 臺灣國道的編號原則：縱向是以奇數編號，橫向是以偶數編號。附表是臺灣國道通車里程統計一覽表，其中有二條國道特別長的原因，與下列哪一臺灣環境特色的關係最為密切？ (A)國土南北狹長 (B)河川多東西向 (C)西部平原廣闊 (D)山脈地勢高聳。

國道編號	長度(公里)
1	372.7
2	20.4
3	431.5
4	17.1
5	54.3
6	37.6
8	15.5
10	33.8

12. (C) 「新加坡的土地面積雖然不大，但因具有某項優越的條件，加上政府政策的指導，成功地讓新加坡的煉油產業快速發展，現已成為世界第三大煉油中心。」文中所述的優越條件應是指下列何者？ (A)為主要石油生產國 (B)人口多且勞力充足 (C)地理位置佳且海運便利 (D)國內重工業市場需求大。
13. (B) 新聞報導指出：「臺灣的水果如鳳梨、釋迦、蓮霧等，被中國農業單位驗出含有過量的農藥，甚至有害蟲殘存在水果表面上，讓不少農民疾呼臺灣農業單位應針對部分害群之馬進行查核，以維護臺灣農業在國際的地位。」請問：上述農民訴求的主要問題為何？ (A)對農產品價格管控 (B)政府加強查核農產品 (C)運輸方式阻礙 (D)農村勞動力太少。
14. (B) 附圖為民國 97~107 年臺灣的人口出生與死亡統計圖。根據圖中資料判斷，請問下列哪一年的自然增加率可能最高？ (A)民國 99 年 (B)民國 101 年 (C)民國 103 年 (D)民國 106 年。



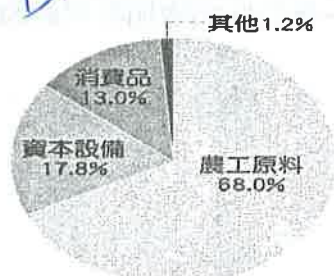
15. (B) 中國於西元 1978 年提出「對內改革，對外開放」的國家政策，以哪五座城市為中國最早開放的經濟特區所在地？(甲)廈門(乙)上海(丙)深圳(丁)汕頭(戊)珠海(己)海南 (A)甲乙丙丁戊 (B)甲丙丁戊己 (C)甲乙丁戊己 (D)乙丙丁戊己。
16. (D) 「科學家發現，紐西蘭原來是西蘭大陸的最高峰，這塊大陸其餘面積的 94%在太平洋海水之下；一旦西蘭大陸正名成功，它將成為全球第八大洲。」請問：倘若上述有朝一日成真，紐西蘭將不再屬於下列哪一個大洲？(A)澳洲 (B)亞洲 (C)南美洲 (D)大洋洲。
17. (C) 老王家有 5 個人，年齡分別是老王 14 歲，姐姐 22 歲，媽媽 45 歲，爸爸 48 歲，奶奶 67 歲。請問：老王家有多少人屬於壯年人口？(A)1 (B)2 (C)3 (D)4。
18. (B) 世界重要的區域經濟體中，何者具有統一的法定貨幣？(A)東南亞國協 (B)歐洲聯盟 (C)北美自由貿易區 (D)亞太經濟合作會議。
19. (A) 附表是阿義分析臺灣某港口的自然條件，依表中內容判斷，最可能是指下列哪一個港口？(A)基隆港 (B)臺中港 (C)高雄港 (D)花蓮港。

自然條件	
優點	1.形勢良好的灣澳。 2.少淤積的曲折岩岸。
缺點	1.丘陵環抱、平地狹小。 2.雨日較多，影響貨物裝卸。

20. (B) 美國、加拿大兩國的農業經營採粗放、高度機械化耕作，因而成為世界主要農產輸出國。請問：美、加兩國輸出的主要糧食作物為何？(A)稻米 (B)小麥 (C)甘蔗 (D)高粱。
21. (C) 「臺灣的離島中，有座島嶼位於南海的南沙群島之中，與高雄港相距約 1,600 公里。」請問：上述島嶼指的是下列何者？(A)琉球嶼 (B)東沙島 (C)太平島 (D)釣魚臺列嶼。
22. (B) 東南亞脫離西方殖民帝國統治後，仍以出口農、礦產品等原物料作為經濟發展的主力，但貿易利潤微薄，經濟發展陷入困境。請問：產生此現象的主要原因為何？(甲)缺乏資金與技術，產量難以大幅提升(乙)礦產開發技術多操控在東南亞國家本身(丙)原物料價格受國際市場影響極大(丁)勞力薪資提升，成本提高 (A)甲乙 (B)甲丙 (C)甲丁 (D)丙丁。
23. (B) 下列何種商品的流通方式是近年來才興起，可以大幅節省店面的營運成本？(A)商場量販 (B)網路購物 (C)店舖零售 (D)倉庫批發。
24. (C) 臺灣縣市名稱的由來相當多，其中以「臺」字開頭的縣市名最多，如臺北、臺中、臺南、臺東等。請問：上述這些地名的命名來源，最有可能是下列何者？(A)皇帝賜名 (B)原住民語 (C)地理方位 (D)自然環境。
25. (A) 漠南非洲有許多國家從事專植一種或兩種經濟作物的專業化生產，這種農業的出現與下列哪些因素最有關係？(甲)熱帶地區廣大(乙)海運交通便利(丙)耕作技術優良(丁)掌握世界農產價格 (A)甲乙 (B)甲丁 (C)乙丙 (D)丙丁。
26. (A) 下列哪些條件是促使中國變成製造業大國，且成為世界工廠的最主要因素？(甲)交通革新(乙)廉價勞力(丙)物產豐饒(丁)研發能力 (A)甲乙 (B)甲丁 (C)乙丙 (D)丙丁。
27. (C) 「……而我們總是要一唱再唱，想著草原千里閃著金光；……想著黃河岸啊陰山旁；英雄騎馬壯，騎馬榮歸……。」請問：文中描述的地區，年雨量的範圍最可能為下列何者？(A)大於 750 公釐 (B)介於 500 至 750 公釐 (C)介於 250 至 500 公釐 (D)小於 250 公釐。
28. (B) 附表的甲、乙、丙代表臺灣的三條主要河川，根據表中資訊判斷，此三條河川由北而南的分布依序為何？(A)甲乙丙 (B)乙丙甲 (C)甲丙乙 (D)丙乙甲。


河川	河川下游地區的特色
甲	河口附近的七股瀉湖，是黑面琵鷺南下過冬的棲息地。
乙	水量豐穩，無明顯枯水期，早期具航運價值。
丙	該河川所沖積的彰化平原，是臺灣重要的花卉、蔬菜產地。

29. (B) 民國 55 年，臺灣第一座加工出口區——高雄加工出口區成立，究其成立的背景條件與目的，下列何者正確？(甲)國內市場有限，需發展外銷產業(乙)這時期臺灣有大量且便宜的勞力(丙)高科技工業為此時期的發展主軸(丁)希望能吸引外資投入與技術合作 (A)甲乙丙 (B)甲乙丁 (C)乙丙丁 (D)甲丙丁。
30. (A) 上完地理課後，同學們對於臺灣的地形都有了初步的認識，幾位同學聚集在一起討論，誰的發言有誤？(A)丸偉：我從小跟爸媽來臺居住，這裡因為地形種類單純，東西部交通便利 (B)小玉：我外婆住在臺灣西部，這裡有平原也有一些台地 (C)濱崎：臺灣主要有五大地形 (D)花輪：我老家在臺灣東部，那裡山峰連綿，山地面積廣大。
31. (B) 附圖是民國 113 年臺灣的進口品項比例，其中農工原料占比最高，主要與臺灣的何項地理環境因素有關？

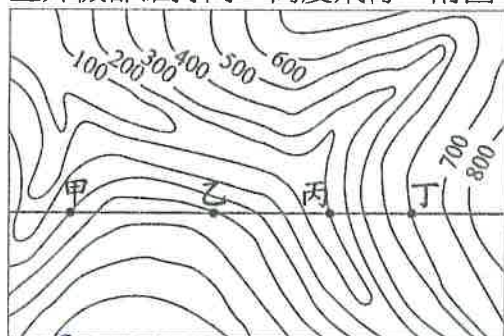


- (A)國內市場規模小 (B)面積小，缺乏資源 (C)四面環海，海岸線綿長 (D)第一級產業勞力老化嚴重。

32. (D) 近年非洲陸續發現石油蘊藏，逐漸受到國際重視。請問：下列哪些漠南非洲國家為重要產油國？(甲)南非共和國 (乙)肯亞 (丙)奈及利亞 (丁)安哥拉 (A)甲乙 (B)甲丁 (C)乙丙 (D)丙丁。
33. (A) 臺灣地名中有「鯤鯨」的字詞，多出現在沙岸地形，這類的地名最可能出現在臺灣哪一個縣市的沿海地區？(A)臺南市 (B)基隆市 (C)臺東縣 (D)花蓮縣。
34. (A) 歐洲議會的法拉吉議員說：「脫離歐盟後，我的國家再也不用拿錢給歐盟；我們都愛歐洲，我們不過是討厭歐盟罷了。」請問：法拉吉議員所屬的國家，具有下列何項特色？(A)工業革命的起源地 (B)屬溫帶地中海型氣候 (C)阿爾卑斯山為地形主體 (D)首都巴黎有「世界時尚之都」之稱。
35. (C) 好萊塢電影明星巨石強森本身有薩摩亞的血統，經常在電影中納入自己的文化特色。他在電影《玩命關頭 8》中大跳「哈卡舞」，這種舞蹈緣起於玻里尼西亞，是一種動作、拍打配以叫嚷和哼聲的團體舞蹈，包括在紐西蘭、薩摩亞等地都有名。請問：以上流行「哈卡舞」的地區在地理環境上具有以下哪一項特徵？(A)為分布在大西洋上的島嶼 (B)地處年溫差大的氣候帶 (C)為南島語族的分布地 (D)當地產業多以重工業為主。
36. (B) 附圖為西元 2020 年七大工業國家組織(G7)的工業產值排名，其中代號甲~丁皆為歐洲國家，可看出歐洲經濟實力不容小覷，其中又以甲國的工業產值最大。請問：甲國最可能是下列何國？(A)英國 (B)德國 (C)瑞士 (D)義大利。



37. (C) 國家地理雜誌在西元 2009 年將挪威峽灣評為全世界最美的旅遊地，遊客可以選擇自駕或是乘坐火車，深入長約百公里的海岸，周邊處處是山崖峭壁、飛瀑美景。請問：此一壯麗自然美景是受到何種作用而形成的？(A)火山噴發 (B)斷層陷落 (C)冰河侵蝕 (D)風力堆積。
38. (C) 彰化溪湖為重要的果菜市場，而鄰近的花卉更為當地重要的作物。請問：該地區農業「商品化」的特徵可由下列何者觀察得知？(A)作物單位面積產量大 (B)作物為少量生產 (C)作物多運往市場銷售 (D)作物以集約方式耕作。
39. (D) 近年職人劇在臺灣發酵，隨著以消防隊員為主角的《火神的眼淚》播出再掀熱潮，以建築工人為主題的經典之作《做工的人》，也讓不少觀眾回應看了 N 遍還是看不膩。請問：上述內容中的消防隊員與建築工人，分別屬於第幾級產業？(A)第一級、第二級 (B)第二級、第一級 (C)皆為第二級 (D)第三級、第二級。
40. (D) 直升機具有垂直升降、懸停、小速度向前或向後飛行的特點，但其缺點是速度低、耗油量較高、航程較短，也因此直升機常用於臨時緊急救難用，較不常飛行長途距離。對災區投放物資時，離地面愈近愈能夠精準讓災區民眾領取物資。如果直升機都維持同一高度飛行，附圖甲~丁哪一個點最適合投放物資？(A)甲 (B)乙 (C)丙 (D)丁。



41. (C) 由臺東開車北上花蓮，可以見到兩旁盡是綿延的山脈。從右方的車窗望出，可以看見下列哪一座山脈？(A)玉山山脈 (B)雪山山脈 (C)海岸山脈 (D)中央山脈。
42. (D) 「在厄瓜多的首都基多能找到赤道紀念碑，並感受同時身處南半球和北半球。事實上，位於南美洲的厄瓜多，其國名『Ecuador』源自殖民者的語言，意思就是赤道，也是該國最大的特色之一。」請問：厄瓜多的國名應來自哪一種語言？(A)英語 (B)法文 (C)印第安語 (D)西班牙文。
43. (B) 為了因應氣候變遷，各國紛紛提出相關因應措施。其中，紐西蘭政府宣布，預計於西元 2025 年開始徵收牛、羊等動物打嗝、放屁和排泄時所釋放的「溫室氣體稅」。若確定實施該措施，將成為全球首例。請問：紐西蘭主要是為了因應下列何種問題，提出徵收溫室氣體稅？(A)地層下陷 (B)海面上升 (C)地震頻繁 (D)臭氧層破洞。
44. (D) 下列哪一個國家利用黃金、鑽石、鈾礦等礦業開採為基礎，得以發展工業，成為非洲經濟發展最穩定的國家之一？(A)奈及利亞 (B)利比亞 (C)阿爾及利亞 (D)南非共和國。
45. (C) 四位同學地理課時上臺報告漠南非洲大部分地區的人口特徵，哪一位的敘述最符合事實？(A)丁丁：勞動人力嚴重不足 (B)拉拉：移入率大於移出率 (C)小波：貧窮人口的比例較高 (D)迪西：出生率低，死亡率高。
46. (D) 在臺灣，某一人口族群於西元 2020 年已達 709,123 人，他們多有自己的宗教信仰，與臺灣傳統信仰佛教、道教，在習俗上有很大的不同，多從事看護、幫傭、營造工程、製造業、漁業等的工作。請問：此段話主要在描述臺灣哪一個族群？(A)漢人 (B)原住民 (C)新住民 (D)國際移工。

47. (B) 若將附圖一中的四張字卡進行分類，其中番仔路跟淇里岸兩張字卡被放在一起如附圖二，這是因為兩者地名基於下列哪一共同特徵而被歸納為同一類？ (A)因劃界封山設置番界而出現的地名 (B)因早期原住民在此活動而出現的地名 (C)因打獵捕撈活動而出現的地名 (D)因合資開墾土地而出現的地名。

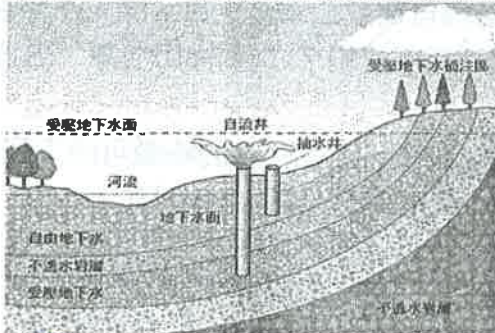
圖一



圖二



48. (A) 世界各地早期的華人移民以閩南人居多，查閱歷史資料可發現，在北宋時期，中國華南地區已被描述成「水無涓滴不為用，山到崔嵬猶力耕」，形容因人多、田地少，土地被利用到極致的狀態。後因航運技術發達，當地人口遂散布到各地，以致今日有「僑鄉」之稱。根據上述資料判斷，下列何者敘述正確？ (A)閩南地區土地少、推力強 (B)閩南地區土地少、拉力強 (C)閩南地區人口多、推力弱 (D)閩南地區人口多、拉力弱。
49. (B) 附圖為澳洲開發自流井示意圖，此種水利設施的水源來自地下水，多分布於大分水嶺以西的乾燥地區。請問：根據分布位置判斷，此種水利設施與該地的何種產業有密切關係？ (A)地中海型農業 (B)牧羊業 (C)酪農業 (D)熱帶栽培業。



50. (C) 「上海地扼長江出海口，腹地廣大，是中國吞吐量最大的港口。」這句話所要強調的意義為何？ (A)上海港港闊水深 (B)上海市的面積遼闊 (C)上海的腹地包括整個長江流域 (D)上海港區包含主要市中心區。